The background features a vintage-style map of Europe with a compass rose in the upper left corner. The compass rose shows cardinal and ordinal directions (N, NE, E, SE, S, SW, W, NW) and degree markings. The map includes labels for 'CAPE SPAIN' and 'AFRICA'.

Урок 3.  
Географический  
рисунок расселения  
и хозяйства  
зарубежной Европы.



# Заполните пропуски.

1. ЭГП стран зарубежной Европы определяется двумя главными чертами: \_\_\_\_\_ и \_\_\_\_\_.
2. На территории зарубежной Европы расположено \_\_\_\_ суверенных государств.
3. Здесь расположено \_\_\_\_ монархий и \_\_\_\_ федераций.
4. В северной части Европы располагаются \_\_\_\_\_ и \_\_\_\_\_ полезные ископаемые, а в южной части в основном только \_\_\_\_\_.
5. Во многих странах западной Европы наблюдается \_\_\_\_\_ показатель естественного прироста населения.
6. Происходящая «демографическая революция» приводит к резкому \_\_\_\_\_ числа мигрантов.
7. В Европе насчитывается более \_\_\_\_\_ иностранных рабочих.

8. Иностранные рабочие работают в таких отраслях, как \_\_\_\_\_, \_\_\_\_\_, \_\_\_\_\_, .....
9. На территории Европы проживают \_\_\_\_\_ народа, большинство из которых относятся к \_\_\_\_\_ языковой семье.
10. Господствующая религия народов Европы: \_\_\_\_\_.
11. Возрастает численность приверженцев \_\_\_\_\_.
12. Уровень урбанизации составляет \_\_\_\_\_.
13. Самые крупные городские агломерации – \_\_\_\_\_, \_\_\_\_\_, \_\_\_\_\_.
14. В настоящее время набирает темпы отток населения в пригороды, этот процесс называется \_\_\_\_\_.

# Хозяйство региона.

- Экономическую мощь региона определяют 4 страны: ФРГ, Франция, Великобритания, Италия.



# Промышленность.

1. **МАШИНОСТРОЕНИЕ** – ведущая отрасль промышленности Европы, особенно автомобильная.



Франция



ФРГ



ФРГ



Италия



Швеция

енность.


мира –

рти.

в



**Крупнейший узел нефтехимии  
Европы в Роттердаме.**



### 3. ТЭК

- Добыча нефти и газа осуществляется в Северном море.
- Сжиженный газ из Алжира поставляется в танкерах.

- Россия
- морю.

- Добыча

- В элек

- На ре



дам и по

е 80)

**ГЭС «Железные ворота», Дунай.**

# 4. Metallurgy

## Black



Самый большой металлургический комбинат Европы  
Таранто, Италия

Испания, Бельгия, Люксембург,  
Польша, Чехия

## Color

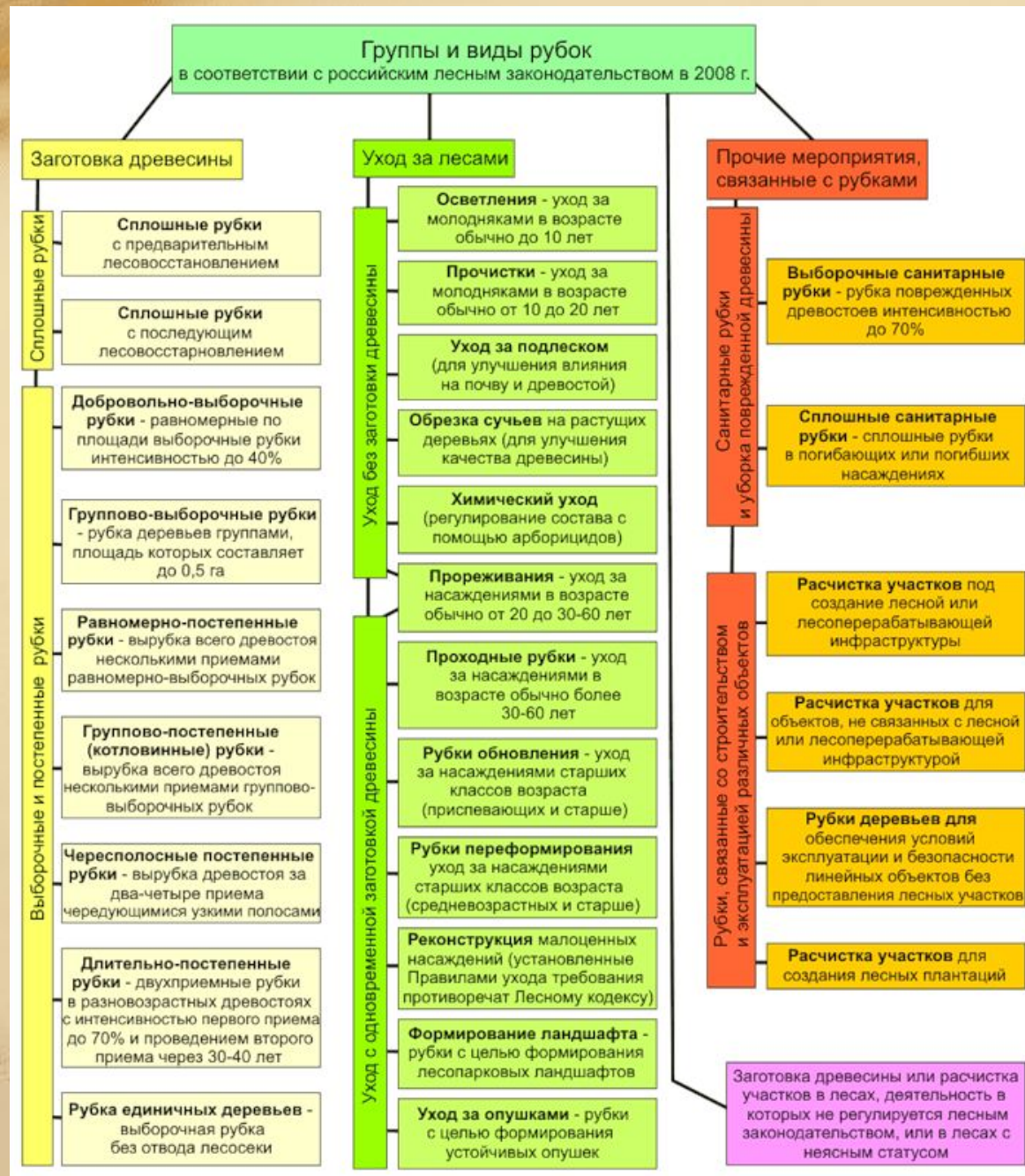
- Важнейшие отрасли – алюминиевая и медная.
- Производство алюминия расположено в странах, располагающих запасами бокситов и в странах, где много электроэнергии.



## 5. Лесная промышленность.

- Главный «лесной цех» региона – Швеция и Финляндия.







ЩОСТІ



СЯ К

І В

К И

ЛЫЖИ  
Австрия

Чехия



Рыболовство  
Норвегия, Дания, Исландия  
Португалия

Во

ского  
ль.

# 8. Транспорт.



транспортно  
дианально

Варшава



ешт

Бел



Ж  
П  
Б



Platner  
Paol



# Задание

- Стр.217, задание 7

## Задание 7.

Пользуясь текстом и рисунками учебника, картами атласа и таблицами 23—28 в «Приложениях», конкретизируйте характеристику одной из отраслей промышленности зарубежной Европы (по выбору). Укажите главные районы и крупнейшие центры или главные бассейны, определите их распределение по странам. По рисункам 25—29 установите, откуда в зарубежную Европу поступают нефть, природный газ, уголь, железная руда, сталь.

# Домашнее задание

- Учебник, стр.183-197
- Задание в тетради