

Презентация к уроку по теме  
**«Географическое положение  
Алтайского края»**

Автор: Николаева Славяна  
Борисовна  
учитель биологии и географии МОУ  
«Лесная СОШ» Бийского района  
Алтайского края

# Примечания

Задания этой презентации рассчитаны на работу со следующими источниками информации:

- География. 8 кл.: атлас. – М.: Дрофа; издательство ДИК, 2009. – 48 с.: ил., карт
- Ревякин В. С. География Алтайского края: учебник для 8-9 кл. сред. шк..- Барнаул: XXI век, 2004.- 192 с.

Фотографии, использованные в презентации сделаны автором





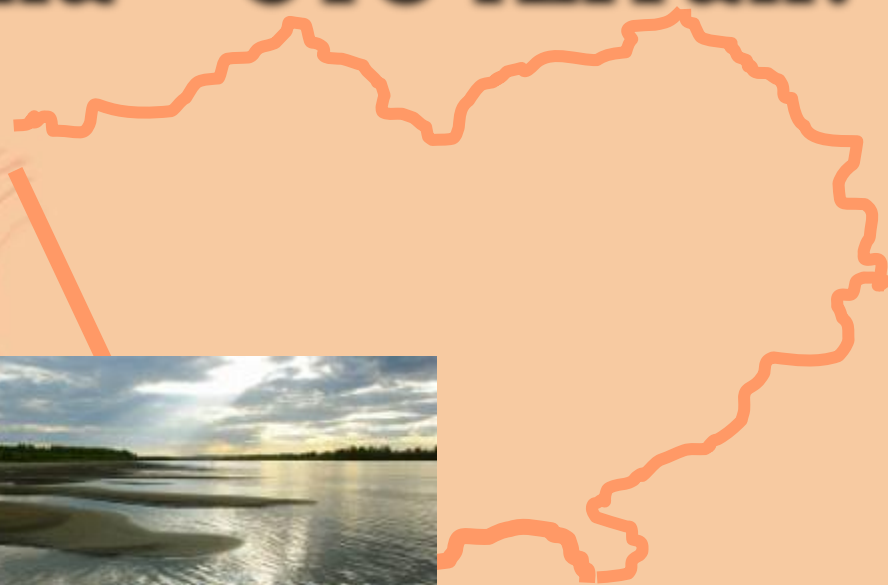
# МОЙ РОДНОЙ АЛТАЙСКИЙ КРАЙ!

Знакомство с  
малой Родиной





**Для меня этот край –  
моя Родина,  
А Родина – это Алтай!**



*Окрестности г.Белокуриха*





*Поля Алтая*

*Предалтайская равнина*





*Окрестности г.Биска*



*Колыванское озеро*




*Калманский район*



*р. Катунь*



**«И странно и чудно – везде по всему краю хвалят Русский Алтай. И горы-то прекрасны, и кедрь-то могучи. И цветы-то невиданны... Откуда это общее почитание Алтая?!»**



*Николай Константинович Рерих*

# Алтай

(Алатун, Алтын-ай, Алин-Тау)

Название нашего края происходит от двух тюркских слов:

**Ал** – высокий, пестрый, золотой

**Тай** - горы



- Алтайский край образован **28 сентября 1937 г.** (*Алтайский край и Ойротская автономная область*)
- **С 1991 г.** Алтайский край существует в **современных границах**



# Наш край в цифрах

- **Площадь Алтайского края 168,0 тыс. км<sup>2</sup>** (2 *Португалии* или 2 *Австрии*)

- **Край разделен на 60 районов**

- **На 2002 г. В крае проживало 2 607 000 человек**

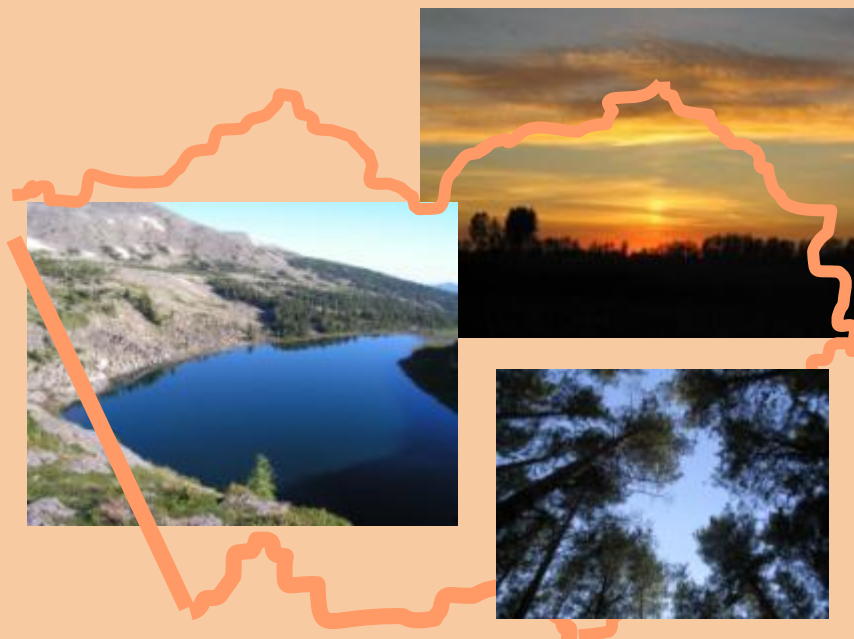
- **В состав края входит 12 городов, 14 поселков городского типа, 1621 сельских населенных пунктов.**

**Запишите эти данные на полях контурной карты!**



Тема урока:

# Географическое положение Алтайского края





**Пользуясь картой атласа  
на стр. 14 – 15, определите:**

**От 100... 150 м до  
2300 ... 2400 м**

- К каким формам рельефа приурочена территория Алтайского края?
- На какой высоте лежит территория Алтайского края? (*от ... до ...*)

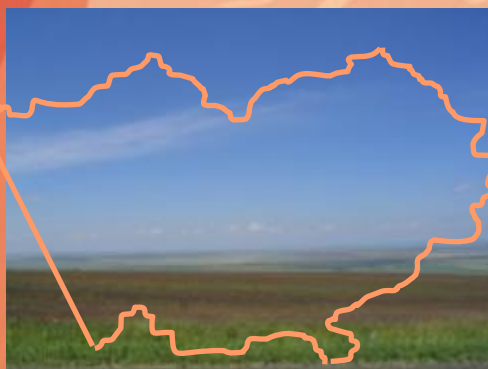
**Запишите эти данные на полях  
контурной карты**

# Пользуясь контурной картой, определите:

51 – 54° с.ш.

78 – 86° в.д.

- Географические координаты территории края (между какими параллелями и меридианами располагается территория края?)





**Какое влияние оказывают  
на природные условия  
географическая широта и  
рельеф местности?**





# Пользуясь картой атласа на стр. 10 – 11, определите:

- Протяженность территории Алтайского края с запада на восток? *(в самом широком месте)* **З → В ~ 560 км**
- Протяженность территории Алтайского края с севера на юг? *(в самом широком месте)* **С → Ю ~ 500 км**

**Запишите эти данные на полях  
контурной карты**



**Пользуясь картой атласа  
на стр. 10 – 11, определите:**

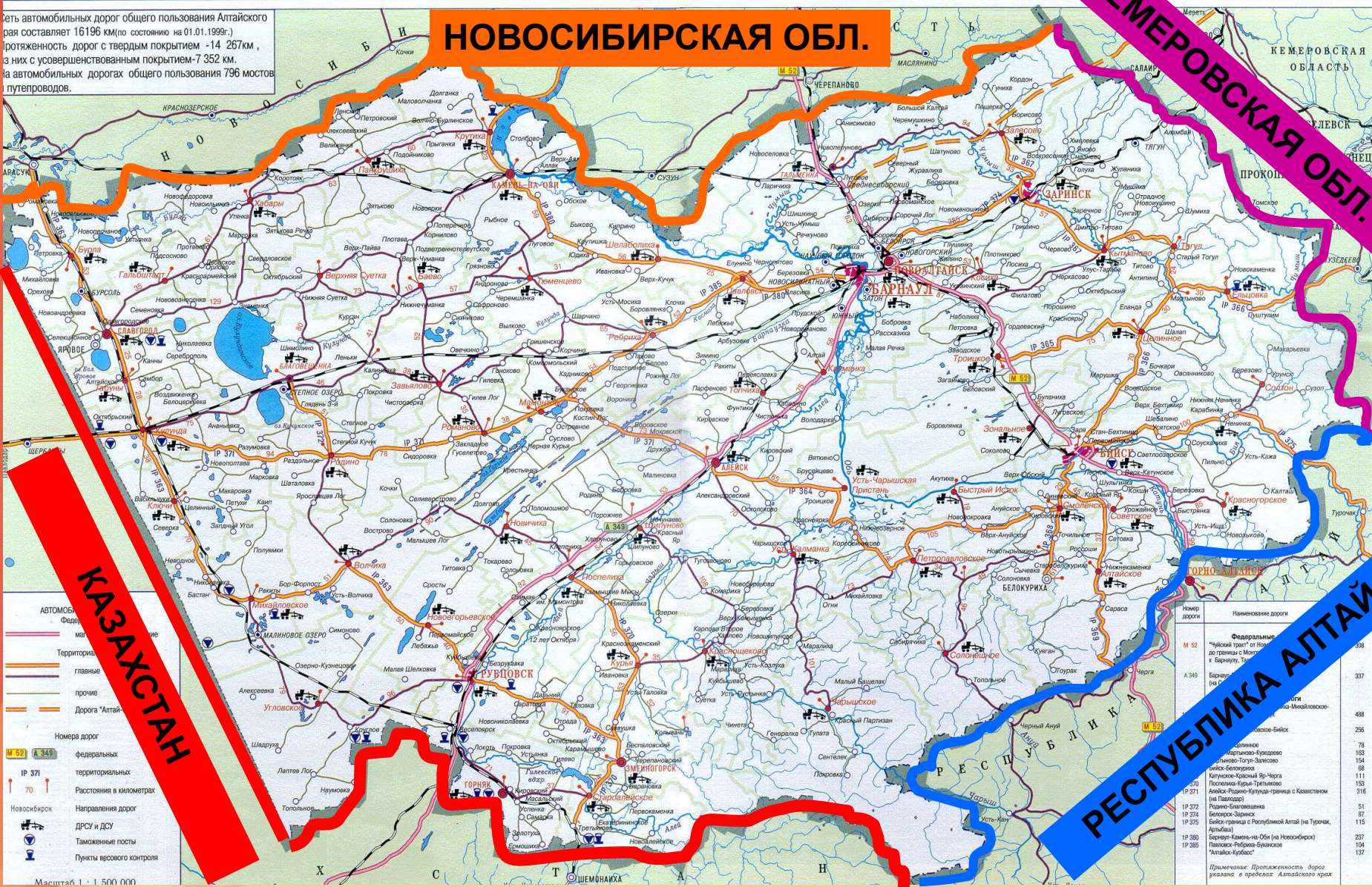
- **С какими субъектами  
Российской Федерации  
граничит Алтайский край?**
- **С какими государствами  
граничит Алтайский край?**

**Нанесите на контурную карту границы  
Алтайского края и названия пограничных  
территорий**

Сеть автомобильных дорог общего пользования Алтайского края составляет 16196 км (по состоянию на 01.01.1999г.). Протяженность дорог с твердым покрытием - 14 267км, из них с усовершенствованным покрытием - 7 352 км. На автомобильных дорогах общего пользования 796 мостов, путепроводов.

# НОВОСИБИРСКАЯ ОБЛ.

# КЕМЕРОВСКАЯ ОБЛ.



# КАЗАХСТАН

# РЕСПУБЛИКА АЛТАЙ

- АВТОМОБИЛЬНЫЕ ДОРОГИ**
- Федеральные
  - магистральные
  - Территориальные
  - главные
  - прочие
  - Дорога "Алтай"
- Номера дорог
- федеральных
  - территориальных
  - Расстояния в километрах
  - Направления дорог
  - ДРСУ и ДСУ
  - Таможенные посты
  - Пункты ввозного контроля
- Масштаб 1 : 1 500 000

Номер дороги	Наименование дороги	
M 52	Федеральный "Усть-Искитинский тракт" от Новосибирска до Могочинского района Кемеровской области	398
A 349	Барнаульский тракт от Барнаула до Троицкого района Кемеровской области	337
	Троицкий тракт от Троицка до Новокузнецкого района Кемеровской области	488
	Новокузнецкий тракт от Новокузнецка до Беловского района Кемеровской области	256
	Беловский тракт от Белова до Кемеровского района Кемеровской области	78
	Кемеровский тракт от Кемерово до Новокузнецкого района Кемеровской области	154
	Новокузнецкий тракт от Новокузнецка до Ленинского района Кемеровской области	154
	Ленинский тракт от Ленинска-Кузнецкого до Новокузнецкого района Кемеровской области	69
19 271	Алтайский тракт от Барнаула до границы с Казахстаном (на Галловку)	1116
19 272	Республиканский тракт от Барнаула до границы с Республикой Алтай (на Тарко-Сатку)	51
19 274	Беловский тракт от Белова до границы с Республикой Алтай (на Тарко-Сатку)	87
19 375	Беловский тракт от Белова до границы с Республикой Алтай (на Тарко-Сатку)	115
19 380	Барнаульский тракт от Барнаула до границы с Республикой Алтай (на Тарко-Сатку)	237
19 385	Платовский тракт от Платовского до границы с Республикой Алтай (на Тарко-Сатку)	137

Примечание: Протяженность дорог указана в километрах Алтайского края



**Пользуясь картой атласа на стр. 10 – 11, определите:**

- **Насколько удален административный центр Алтайского края от г.Москвы?**

**~ 3400 км**

- **Какое море ближайшее к Алтайскому краю и каково расстояние до него?**

**Карское, более 4000 км**

**Как удаленность от морей влияет на природу Алтайского края?**





**Пользуясь картосхемой на  
стр. 14 – 15 учебника,  
определите, в каком часовом  
поясе располагается  
Алтайский край?**

**Пользуясь картой учебника  
на стр. 16 – 17 (рис. 2), нанесите на  
контурную карту:**

- ***Административный центр  
Алтайского края – г.Барнаул***
- ***гг. Бийск, Славгород, Заринск,  
Рубцовск, Камень-на-Оби, Белокуриха***
- ***Границы Бийского района***
- ***с. Лесное***
- ***рр. Обь, Катунь, Бия***



**Прекрасна и разнообразна  
природа нашего края!  
Есть здесь и бескрайние  
ковыльные степи,  
всхолмленные предгорные  
равнины, березовые колки  
и сосновые боры, горные  
хребты и долины, могучие  
кедры и лиственницы,  
бурные говорливые ручьи  
и широкая величавая  
Обь...**



**ДОМАШНЕЕ ЗАДАНИЕ:**

**§ 1 (Учебник ГАК)**

**СПАСИБО ЗА РАБОТУ НА  
УРОКЕ!**