

Презентация к уроку по теме  
**«Географическое положение  
Алтайского края»**

Автор: Николаева Славяна  
Борисовна  
учитель биологии и географии МОУ  
«Лесная СОШ» Бийского района  
Алтайского края

# Примечания

Задания этой презентации рассчитаны на работу со следующими источниками информации:

- География. 8 кл.: атлас. – М.: Дрофа; издательство ДИК, 2009. – 48 с.: ил., карт
- Ревякин В. С. География Алтайского края: учебник для 8-9 кл. сред. шк..- Барнаул: XXI век, 2004.- 192 с.

Фотографии, использованные в презентации сделаны автором





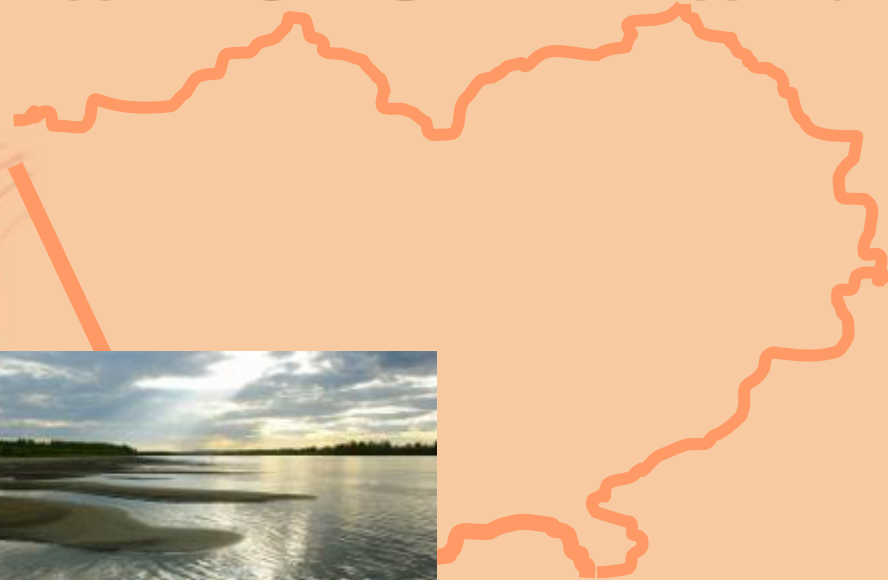
# МОЙ РОДНОЙ АЛТАЙСКИЙ КРАЙ!

Знакомство с  
малой Родиной





**Для меня этот край –  
моя Родина,  
А Родина – это Алтай!**



*Окрестности г.Белокуриха*





*Поля Алтая*

*Предалтайская равнина*





*Окрестности г.Биска*



*Кольванское озеро*




*Калманский район*



*р. Катунь*



**«И странно и чудно – везде по всему краю хвалят Русский Алтай. И горы-то прекрасны, и кедрь-то могучи. И цветы-то невиданны... Откуда это общее почитание Алтая?!»**



*Николай Константинович Рерих*


# Алтай

(Алатун, Алтын-ай, Алин-Тау)

Название нашего края происходит от двух тюркских слов:

**Ал** – высокий, пестрый, золотой

**Тай** - горы



- Алтайский край образован **28 сентября 1937 г.** (*Алтайский край и Ойротская автономная область*)
- **С 1991 г.** Алтайский край существует в **современных границах**



# Наш край в цифрах

- **Площадь**  
Алтайского края  
**168,0 тыс. км<sup>2</sup>** (2  
*Португалии или* 2  
*Австрии)*

- **Край разделен на**  
**60 районов**

- **На 2002 г. В крае**  
**проживало**  
**2 607 000 человек**

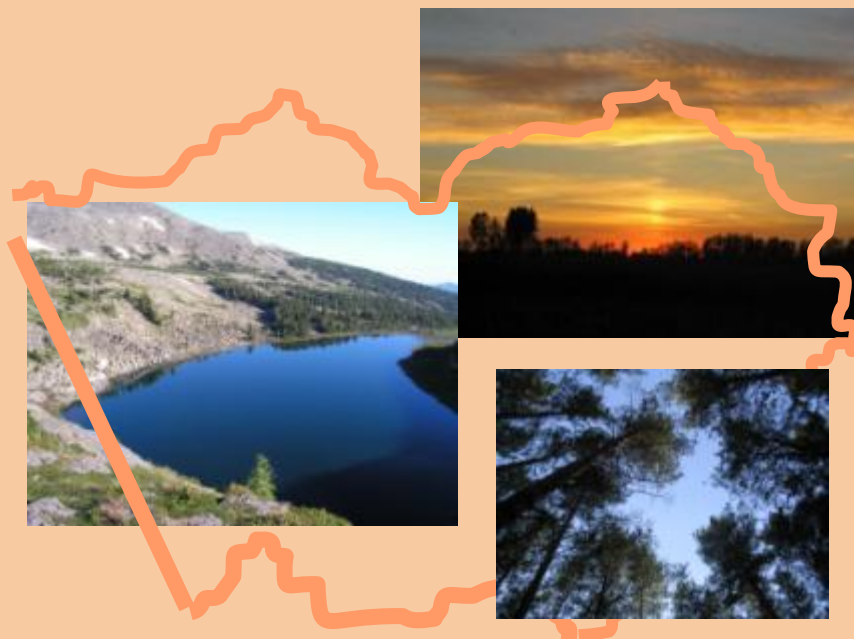
- **В состав края**  
**входит 12 городов,**  
**14 поселков**  
**городского типа,**  
**1621 сельских**  
**населенных**  
**пунктов.**

**Запишите эти**  
**данные на полях**  
**контурной карты!**



Тема урока:

# Географическое положение Алтайского края





**Пользуясь картой атласа  
на стр. 14 – 15, определите:**

**От 100... 150 м до  
2300 ... 2400 м**

- К каким формам рельефа приурочена территория Алтайского края?
- На какой высоте лежит территория Алтайского края? (*от ... до ...*)

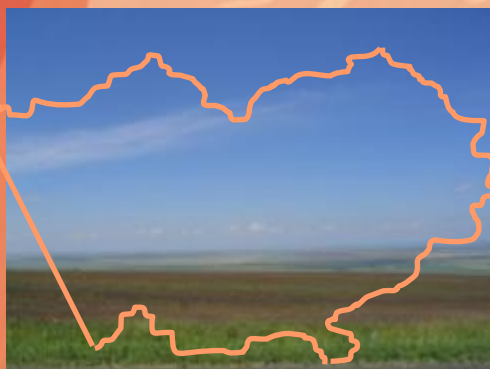
**Запишите эти данные на полях  
контурной карты**

# Пользуясь контурной картой, определите:

51 – 54° с.ш.

78 – 86° в.д.

- Географические координаты территории края (между какими параллелями и меридианами располагается территория края?)





**Какое влияние оказывают  
на природные условия  
географическая широта и  
рельеф местности?**





# Пользуясь картой атласа на стр. 10 – 11, определите:

- Протяженность территории Алтайского края с запада на восток? *(в самом широком месте)*      **З → В ~ 560 км**
- Протяженность территории Алтайского края с севера на юг? *(в самом широком месте)*      **С → Ю ~ 500 км**

**Запишите эти данные на полях  
контурной карты**



**Пользуясь картой атласа на стр. 10 – 11, определите:**

- **С какими субъектами Российской Федерации граничит Алтайский край?**
- **С какими государствами граничит Алтайский край?**

**Нанесите на контурную карту границы Алтайского края и названия пограничных территорий**

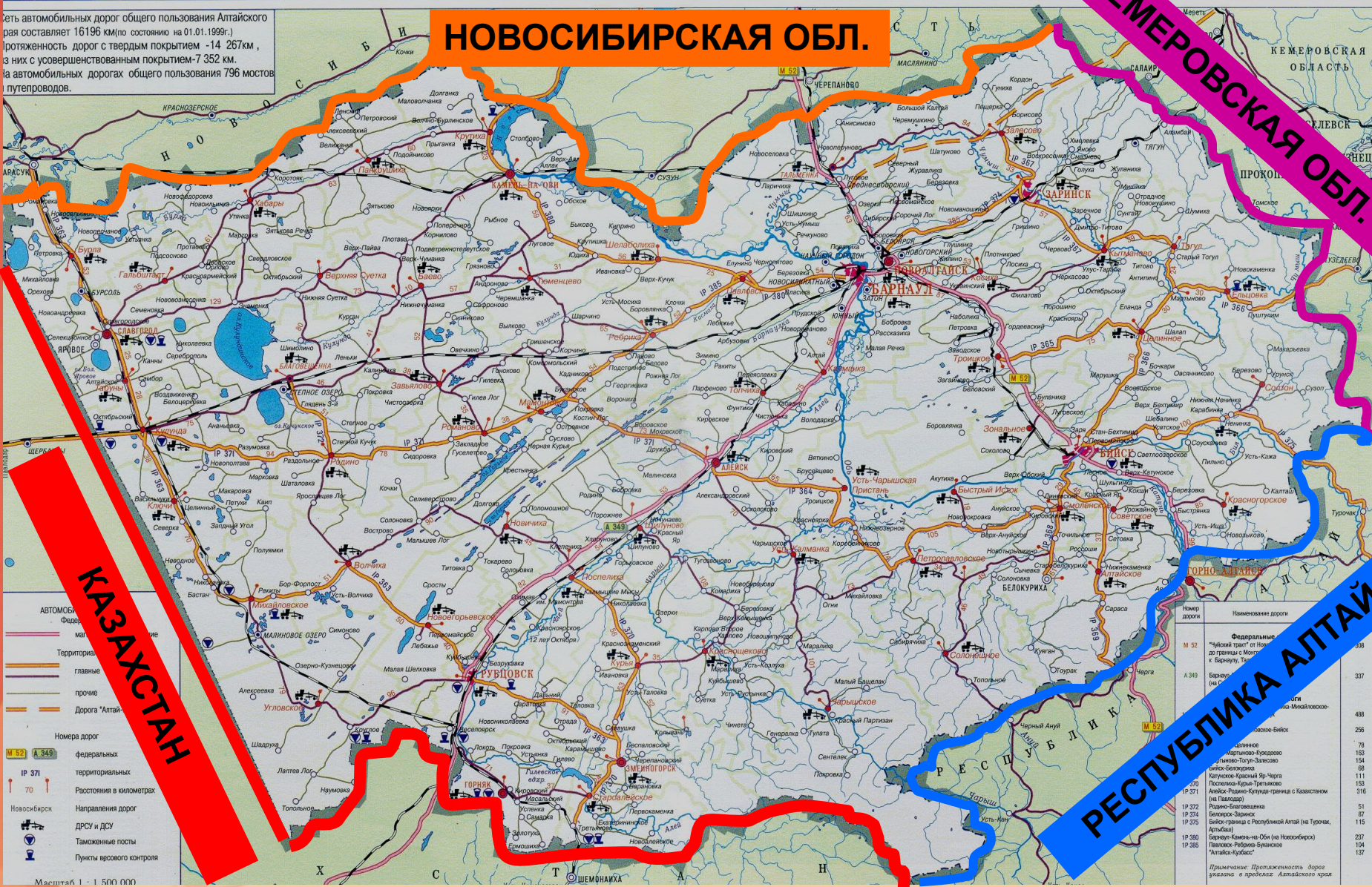
Сеть автомобильных дорог общего пользования Алтайского края составляет 16196 км (по состоянию на 01.01.1999г.). Протяженность дорог с твердым покрытием - 14 267км, из них с усовершенствованным покрытием - 7 352 км. На автомобильных дорогах общего пользования 796 мостов и путепроводов.

# НОВОСИБИРСКАЯ ОБЛ.

# КЕМЕРОВСКАЯ ОБЛ.

# КАЗАХСТАН

# РЕСПУБЛИКА АЛТАЙ



- АВТОМОБИЛЬНЫЕ ДОРОГИ**
- Федеральные
  - магистральные
  - Территориальные
  - главные
  - прочие
  - Дорога "Алтай"
- Номера дорог**
- федеральных (M 52, A 349)
  - территориальных (IP 371)
  - Расстояния в километрах (70)
  - Новосибирск
  - Направления дорог (ДРУС и ДСУ)
  - Таможенные посты
  - Пункты ввозного контроля
- Масштаб 1 : 1 500 000

| Номер дороги | Наименование дороги   |     |
|--------------|---|-----|
| M 52         | Федеральные "Русский тракт" от Новосибирска до Троицка и Мемельского Бирюлюкского | 338 |
| A 349        | Береговая (на Сибирском) от Новосибирска до Троицка                               | 337 |
|              | Сибирская (на Сибирском) от Новосибирска до Троицка                               | 488 |
|              | Сибирская (на Сибирском) от Новосибирска до Троицка                               | 256 |
|              | Сибирская (на Сибирском) от Новосибирска до Троицка                               | 78  |
|              | Сибирская (на Сибирском) от Новосибирска до Троицка                               | 153 |
|              | Сибирская (на Сибирском) от Новосибирска до Троицка                               | 154 |
|              | Сибирская (на Сибирском) от Новосибирска до Троицка                               | 69  |
|              | Сибирская (на Сибирском) от Новосибирска до Троицка                               | 111 |
|              | Сибирская (на Сибирском) от Новосибирска до Троицка                               | 153 |
|              | Сибирская (на Сибирском) от Новосибирска до Троицка                               | 916 |
|              | Сибирская (на Сибирском) от Новосибирска до Троицка                               | 51  |
|              | Сибирская (на Сибирском) от Новосибирска до Троицка                               | 87  |
|              | Сибирская (на Сибирском) от Новосибирска до Троицка                               | 115 |
|              | Сибирская (на Сибирском) от Новосибирска до Троицка                               | 237 |
|              | Сибирская (на Сибирском) от Новосибирска до Троицка                               | 137 |
|              | Сибирская (на Сибирском) от Новосибирска до Троицка                               | 104 |

*Примечание: Протяженность дорог указана в километрах Алтайского края*



**Пользуясь картой атласа на стр. 10 – 11, определите:**

- **Насколько удален административный центр Алтайского края от г.Москвы?**

**~ 3400 км**

- **Какое море ближайшее к Алтайскому краю и каково расстояние до него?**

**Карское, более 4000 км**

**Как удаленность от морей влияет на природу Алтайского края?**






**Пользуясь картосхемой на  
стр. 14 – 15 учебника,  
определите, в каком часовом  
поясе располагается  
Алтайский край?**

**Пользуясь картой учебника  
на стр. 16 – 17 (рис. 2), нанесите на  
контурную карту:**

- ***Административный центр  
Алтайского края – г.Барнаул***
- ***гг. Бийск, Славгород, Заринск,  
Рубцовск, Камень-на-Оби, Белокуриха***
- ***Границы Бийского района***
- ***с. Лесное***
- ***рр. Обь, Катунь, Бия***



**Прекрасна и разнообразна  
природа нашего края!  
Есть здесь и бескрайние  
ковыльные степи,  
всхолмленные предгорные  
равнины, березовые колки  
и сосновые боры, горные  
хребты и долины, могучие  
кедры и лиственницы,  
бурные говорливые ручьи  
и широкая величавая  
Обь...**



**ДОМАШНЕЕ ЗАДАНИЕ:**

**§ 1 (Учебник ГАК)**

**СПАСИБО ЗА РАБОТУ НА  
УРОКЕ!**