

---

# АФРИКА

---

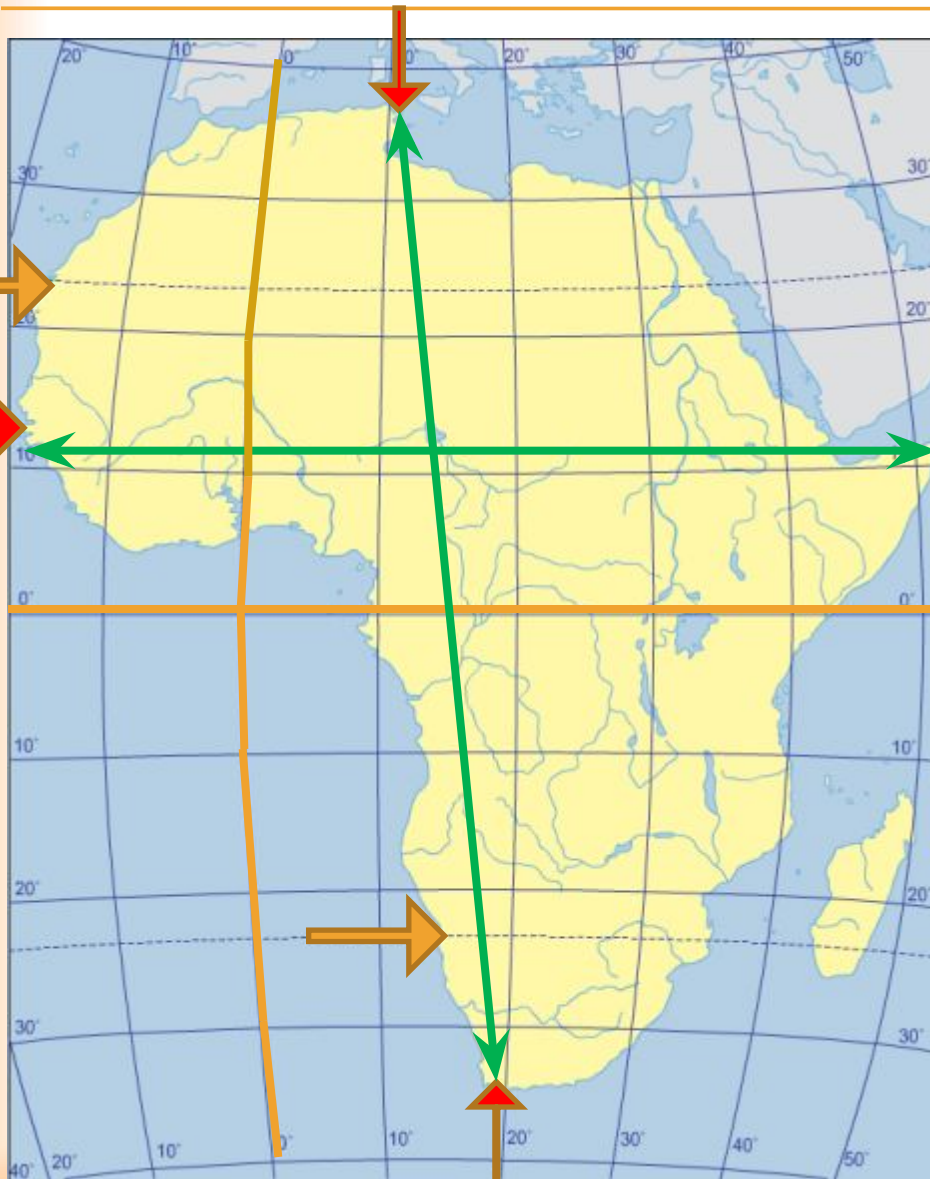
## Особенности природы

Учитель географии  
МАОУ «МЛ № 1» г.  
Магнитогорска  
Ахмадуллина Е.А.

# ПРОИСХОЖДЕНИЕ НАЗВАНИЯ

- Название «Африка» появилось во II веке до н. э. *Африкой римляне именовали ту часть света, где располагался Карфаген (современный Тунис) и его окрестности*, затем имя было распространено на всю часть света.
- Ещё одна из гипотез происхождения названия гласит, что часть света и материк названы *по одному из берберских племён авриг, или африк, которое в древности обитало на территории Туниса.*
- Африка второй по величине континент, его площадь - ?

# ОСОБЕННОСТИ ГП



## ОПРЕДЕЛИТЕ:

- положение материка относительно экватора, тропиков и начального меридиана;
- координаты крайних точек материка;
- наибольшую протяжённость материка в градусах с севера на юг и с запада на восток;
- какие океаны и моря омывают материк;
- что отделяет Африку от Евразии, Южной Америки, Австралии.

Обозначьте крайние точки  
Африки

# ВОСТОЧНО-АФРИКАНСКИЙ РАЗЛОМ



Рассмотрите  
рис. 3.2.2. на стр. 67 учебника:  
Когда формировалось  
Восточно-Африканское  
плато?

# ФОРМЫ РЕЛЬЕФА



Запишите в словарь термины:  
-Плато

Нанесите на к/к :  
нагорья, плато,

# КЛИМАТ

---

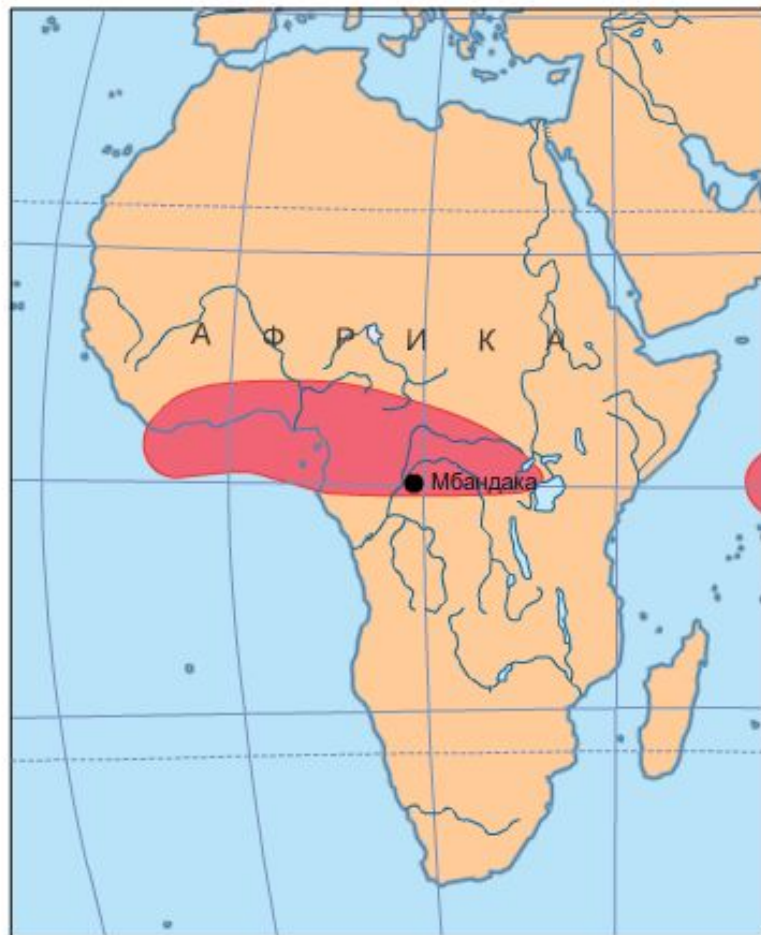
## Работа с атласами

- Почему Африку называют самым жарким континентом?
- В каком городе зафиксирована самая высокая температура (абс. max)?
- Как выпадают осадки на территории Африки?
- Можно ли увидеть снег в Африке?

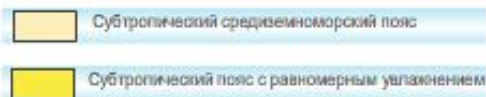


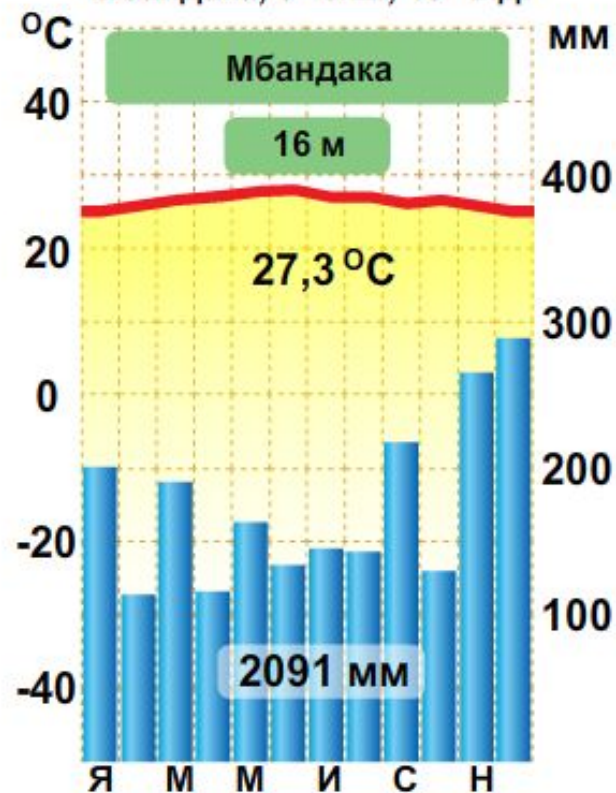
## Экваториальный пояс



Экваториальный пояс – круглый год экваториальная воздушная масса.



Демократическая Республика Конго,  
Мбандака, 0° с.ш., 18° в.д.


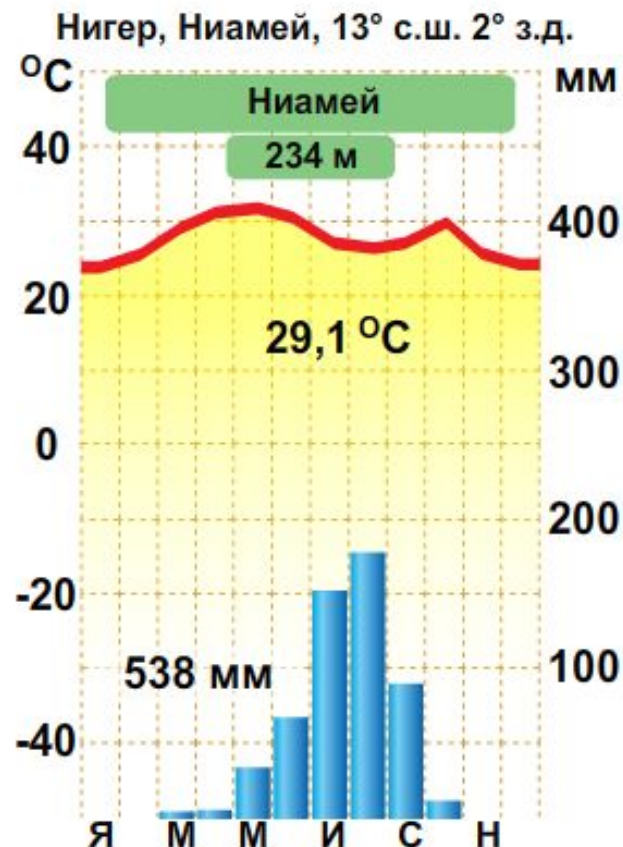
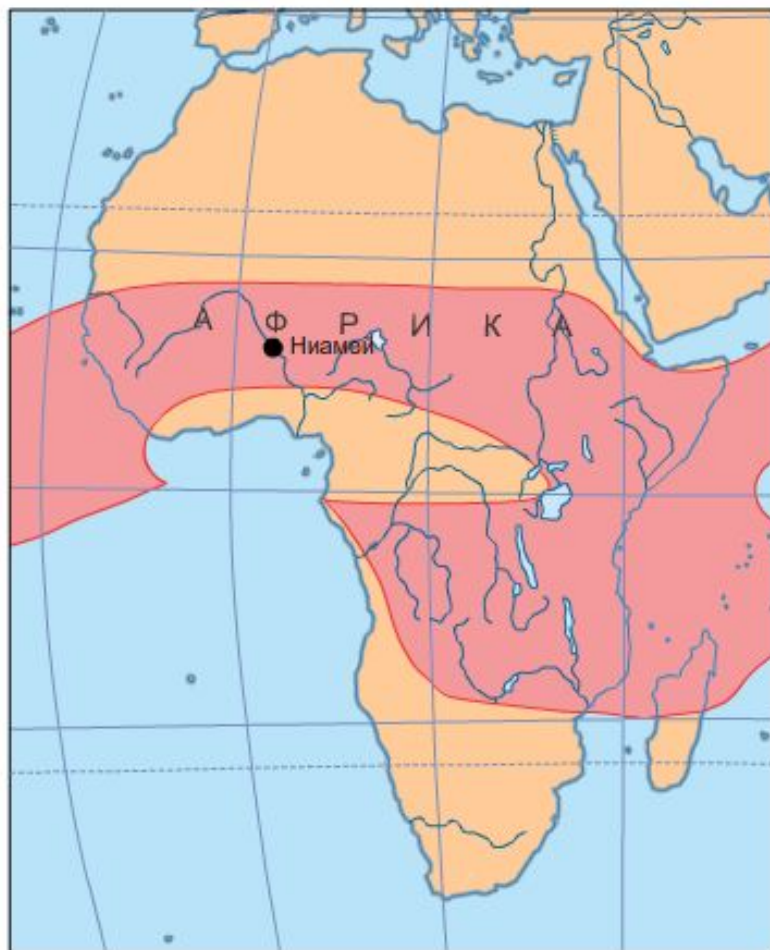


— Границы климатических поясов  
- - - Границы климатических областей

## Субэкваториальный пояс



Субэкваториальный пояс – летом экваториальная воздушная масса, зимой тропическая воздушная масса.



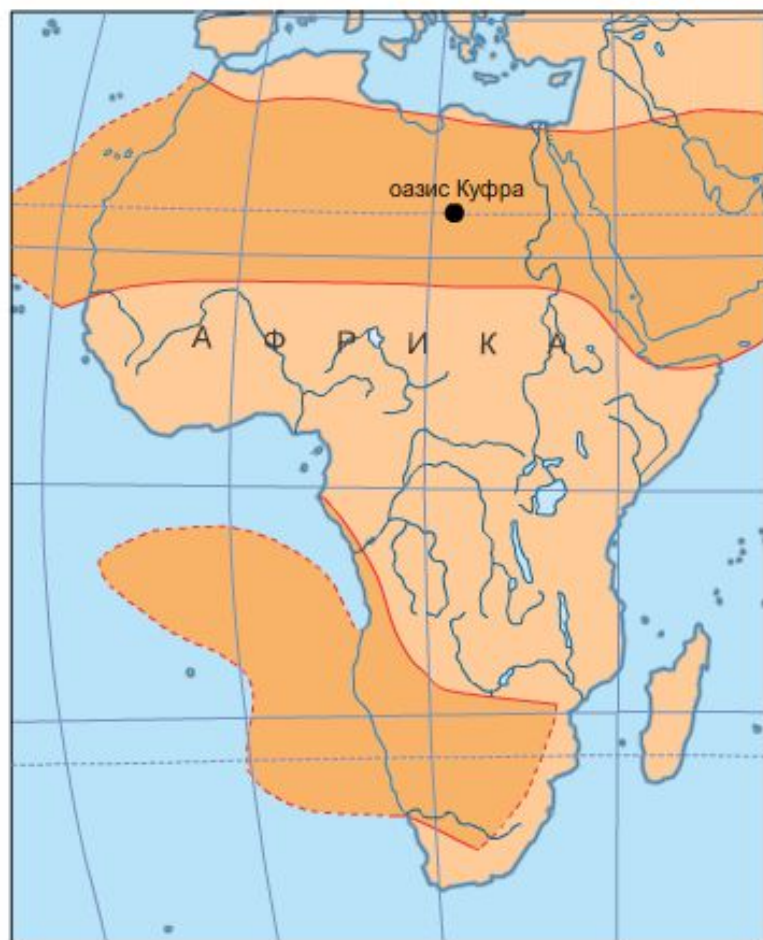
— Границы климатических поясов  
- - - Границы климатических областей



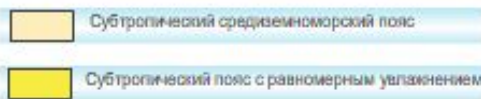
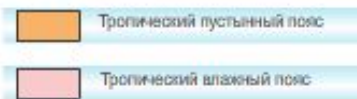

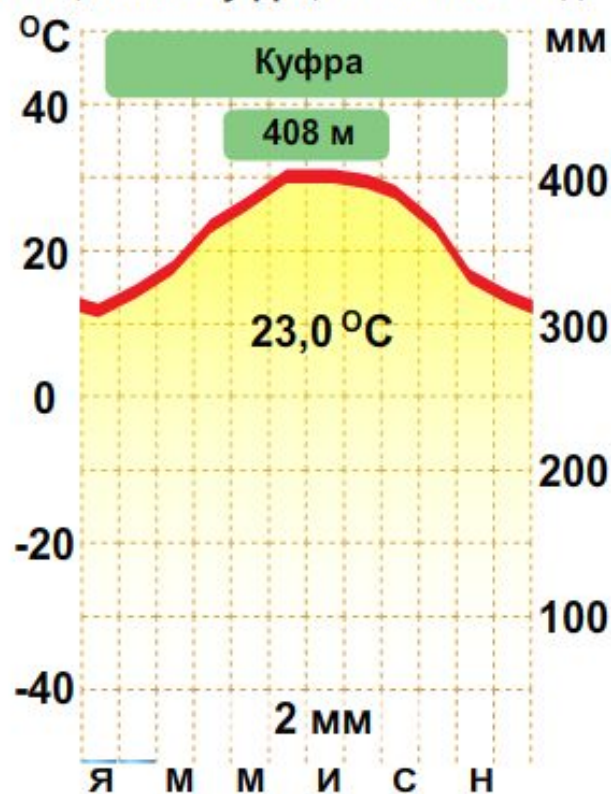
# Тропический пустынный пояс



Тропический пояс – круглый год тропическая воздушная масса.



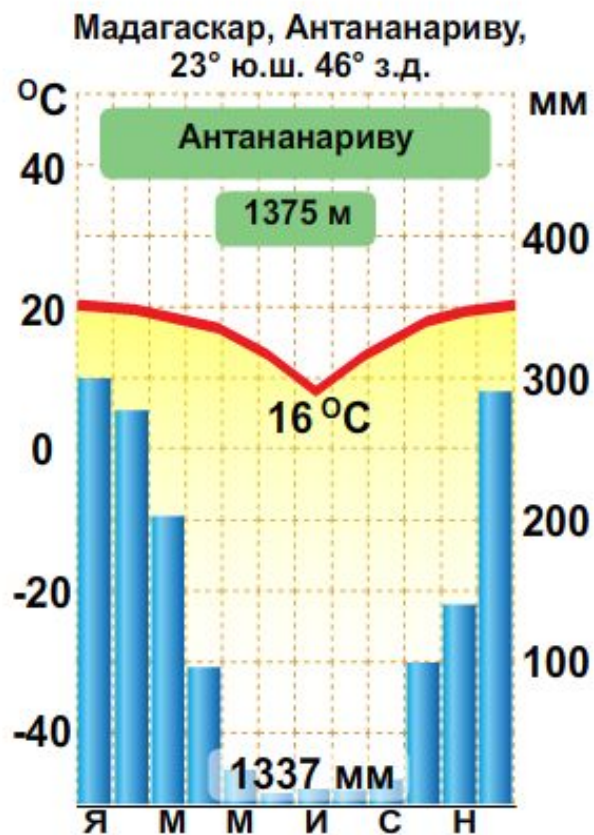
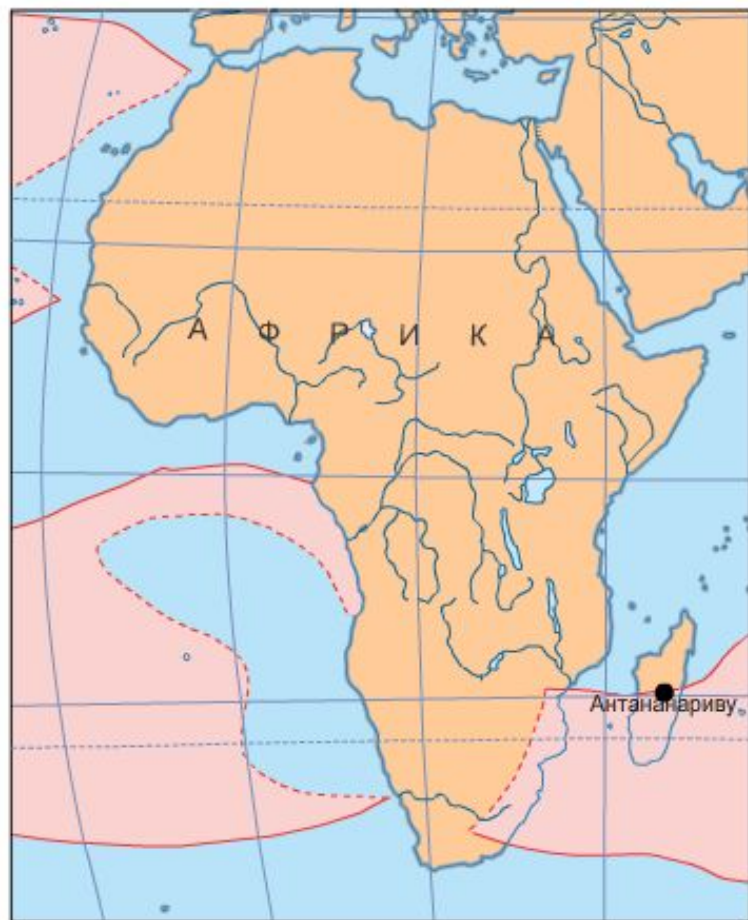
Ливия, оазис Куфра, 24° с.ш. 23° в.д.



— Границы климатических поясов  
- - - Границы климатических областей

# Тропический влажный пояс

Тропический пояс – круглый год тропическая воздушная масса.



Экваториальный пояс  
Субэкваториальный пояс

Тропический пустынный пояс  
Тропический влажный пояс

Субтропический средиземноморский пояс  
Субтропический пояс с равномерным увлажнением




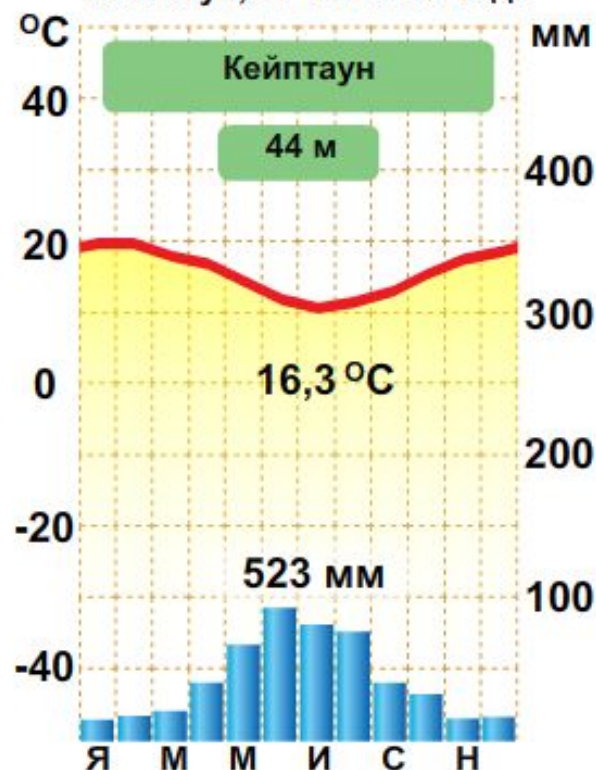
Границы климатических поясов  
Границы климатических областей

## Субтропический средиземноморский пояс

Субтропический пояс – летом тропическая воздушная масса, зимой умеренная воздушная масса.



Южно-Африканская республика,  
Кейптаун, 34° ю.ш. 18° в.д.



— Границы климатических поясов  
- - - Границы климатических областей

# ВНУТРЕННИЕ ВОДЫ



- Обозначьте на к/к водные объекты:
- Реки: Конго, Нил, Замбези, Нигер, Лимпопо, Оранжевая;
- Озера: Виктория, Чад, Танганьика, Ньяса

- 
- **Моси-о-Тунья — «Гремящий дым»** — так называли охотники племени батока водопад на реке Замбези.
  - Современное название дал водопаду англичанин **Давид Ливингстон** — первый европеец, увидевший его в **1855** году. Он назвал его в честь английской королевы **Виктории**.

# ОРГАНИЧЕСКИЙ МИР И ПРИРОДНЫЕ ЗОНЫ

---

Природная зона	Флора и фауна
Экваториальные леса	
Саванны	
Полупустыни и пустыни	

# Рекорды Африки

	Параметры	Рекорды
1.	Самая высокая вершина Африки	влк. Килиманджаро
2.	Самая низкая точка Африки	оз. Ассаль
3.	Крупнейшее озеро Африки	оз. Виктория
4.	Самая длинная река Африки и мира	Нил (с Кагерой)
5.	Самая многоводная река Африки	Конго
6.	Самый крупный остров Африки	Мадагаскар
7.	Самая большая пустыня Африки и мира	Сахара
8.	Самое жаркое место Африки и мира	г. Триполи (Ливия)
9.	Самое большое количество крупных животных	Бегемот, слон, носорог, жираф, лев, крокодил, африканский страус, зебры.

**На к/к обозначьте объекты с 1 по 8.**

# ДОМАШНЕЕ ЗАДАНИЕ:

---

1. § 22
2. На к/к обозначить:
  - *Крайние точки*
  - *Формы рельефа*
  - *Водные объекты*
  - *Рекорды Африки*