

«Физическая география Республики Татарстан»

Урок – игра по географии
для 8 класса.



Ход игры:

1. Выбрать определенную тему.
2. Выбрать вопрос на определенное количество баллов.
3. Перейти к вопросу, щелкнув на значение балла.
4. Ответить на вопрос.
5. Узнать верный ответ, щелкнув на правую кнопку мышки.
6. Вернуться назад, щелкнув на кнопку со стрелкой и продолжить игру.

САМЫЙ, САМАЯ, САМОЕ...	<u>5</u>	<u>10</u>	<u>15</u>	<u>20</u>	<u>25</u>
Цифры	<u>5</u>	<u>10</u>	<u>15</u>	<u>20</u>	<u>25</u>
Природа	<u>5</u>	<u>10</u>	<u>15</u>	<u>20</u>	<u>25</u>
ГОРОДА	<u>5</u>	<u>10</u>	<u>15</u>	<u>20</u>	<u>25</u>

Где находится самая северная точка Республики Татарстан?

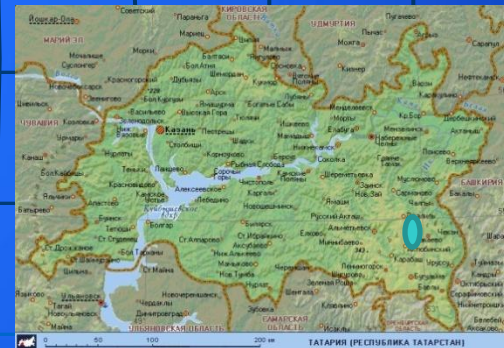
У с. Атна
Балтасинского
района



Где находится самая высокая точка Татарстана?

На Бугульминско-
Белебеевской


возвышенности (ю-в РТ)



Самый молодой город Прикамья?

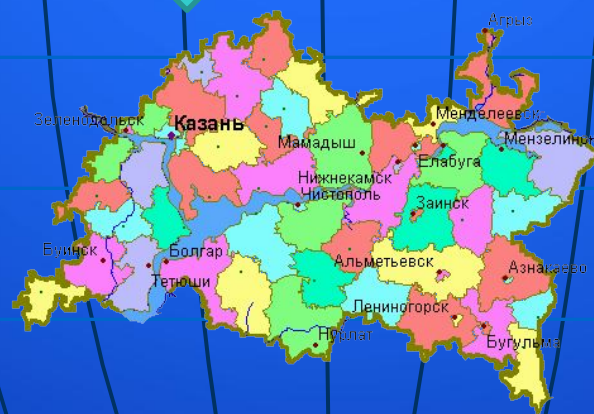
Нижнекамск.

год основания- 1961



Какой из районов самый маленький по площади?

Атнинский (68,1 тыс.га)



Самый молодой город Республики?

Бавлы.

(статус города получил в 1997г)



Бавлы



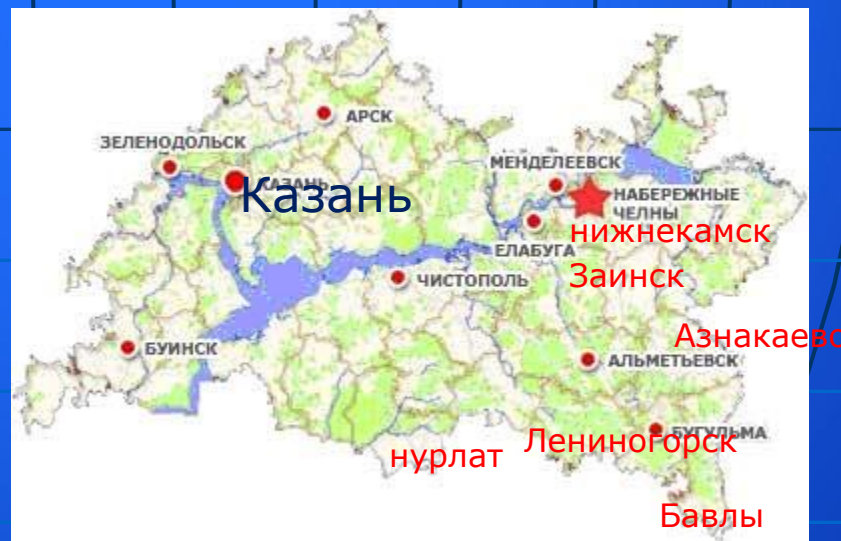
Площадь Республики Татарстан

68 ТЫС.КМ₂



Сколько городов
республиканского
подчинения ?
Перечислите их.

12



В каком году была
образована Татарская
Автономная Советская
Социалистическая
республика?

27 мая 1920года



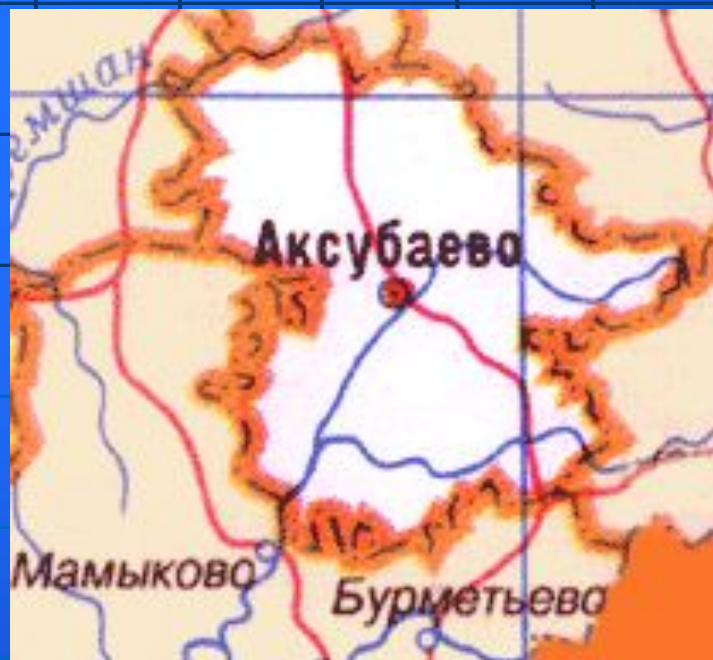
Какова численность населения Республики Татарстан?

3 972,9 тыс.чел.



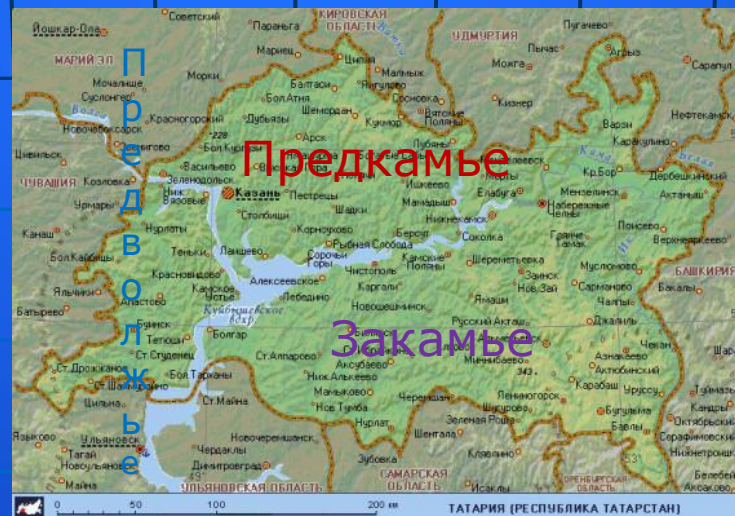
Площадь Аксубаевского района

144 тыс.га



На какие три природные районы делится территория Татарстана?

Предкамье, Закамье, Предволжье



Какие реки являются правыми притоками Камы?

Ик, Мензеля, Зай, Шешма,
Актай



Ценнейший памятник природы
не только в республике, но и в
восточной половине зоны
смешанных лесов европейской
части России?

Раифский




Какие виды растений включены в Красную книгу Республики Татарстан?

1 вид из голосемянных(эфедра
двухколосковая), 11 видов
папоротниковидных, 6 видов плауновидных, 2
вида хвощевидных и 15 видов
моховидных, 24 вида лишайников, 34 вида
грибов.



Какими полезными ископаемыми богата Республика Татарстан?

Нефть, газ, битум, горючие сланцы,
строительные материалы.



Город на Каме, родина
великого живописца
российской природы?

Елабуга. Иван Шишкин.



Что изображено на рисунках и каким населенным пунктам они относятся?



Булгар



Свияжск



Билярск



Казань



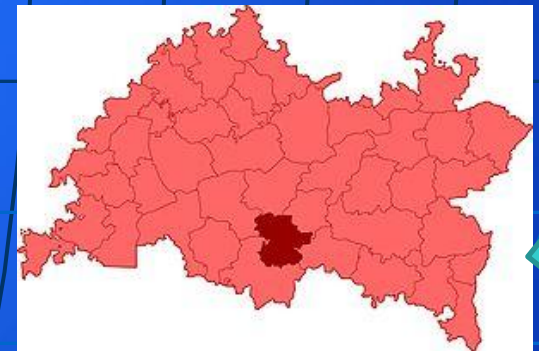
Перечислите города районного подчинения.

Агрыз, Буинск, Булгар, Мамадыш, Менделеевск, Мензелинск, Тетюши.



Назовите центры районов,
названия которых не
совпадают с названиями
районов.

Алькеевский-Базарные Матаки,
Спасский—г.Булгар,
Тукаевский-г.Наб.Челны,
Ютазинский—Уруссу..



Город основал купец Ушков,
решивший соперничать с
англичанами в изготовлении
редких и дорогих химических
материалов. Сюда приехал
отец русской химии Д.И.
Менделеев.

О каком городе идет речь?

Менделеевск.

