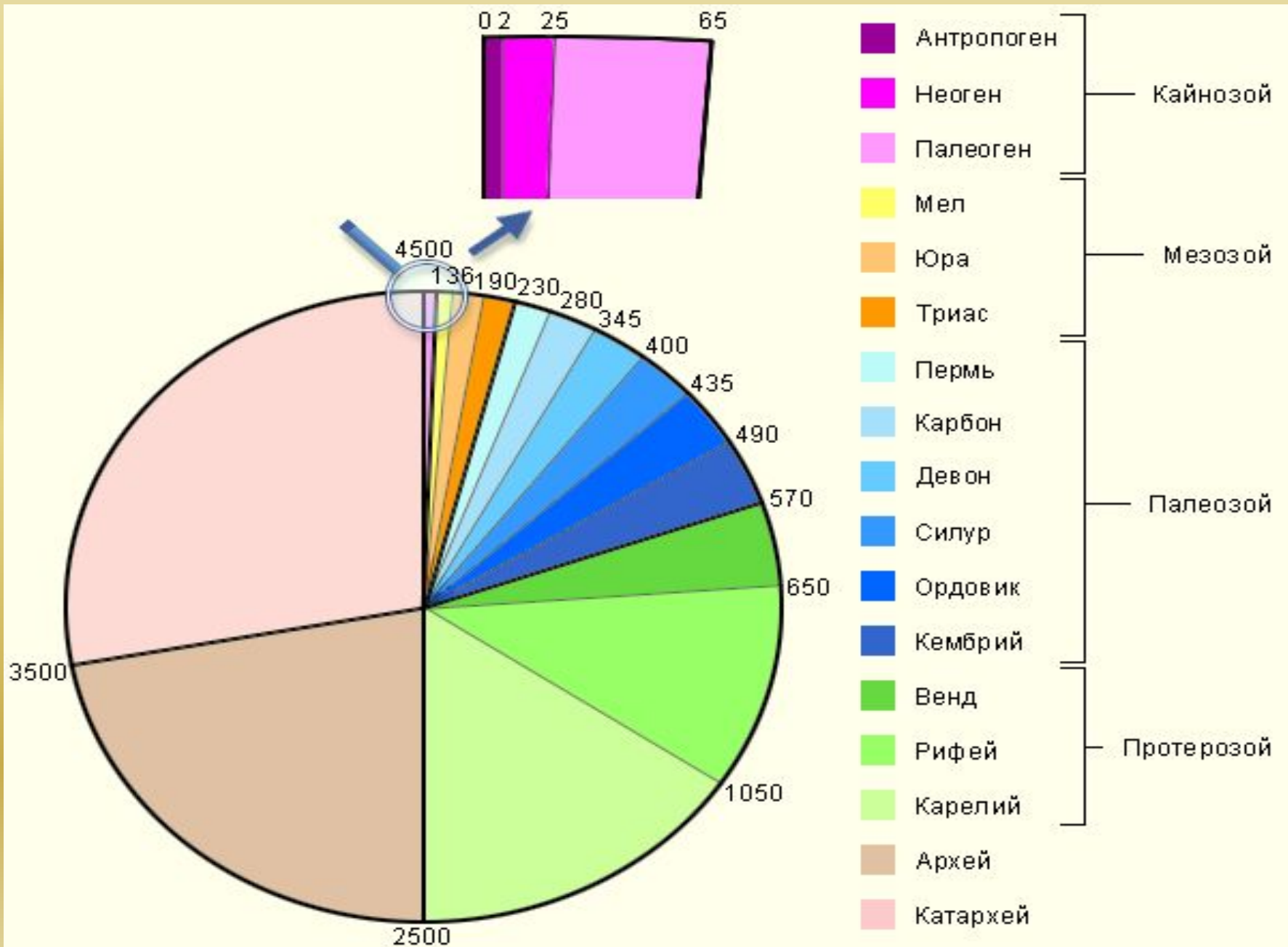
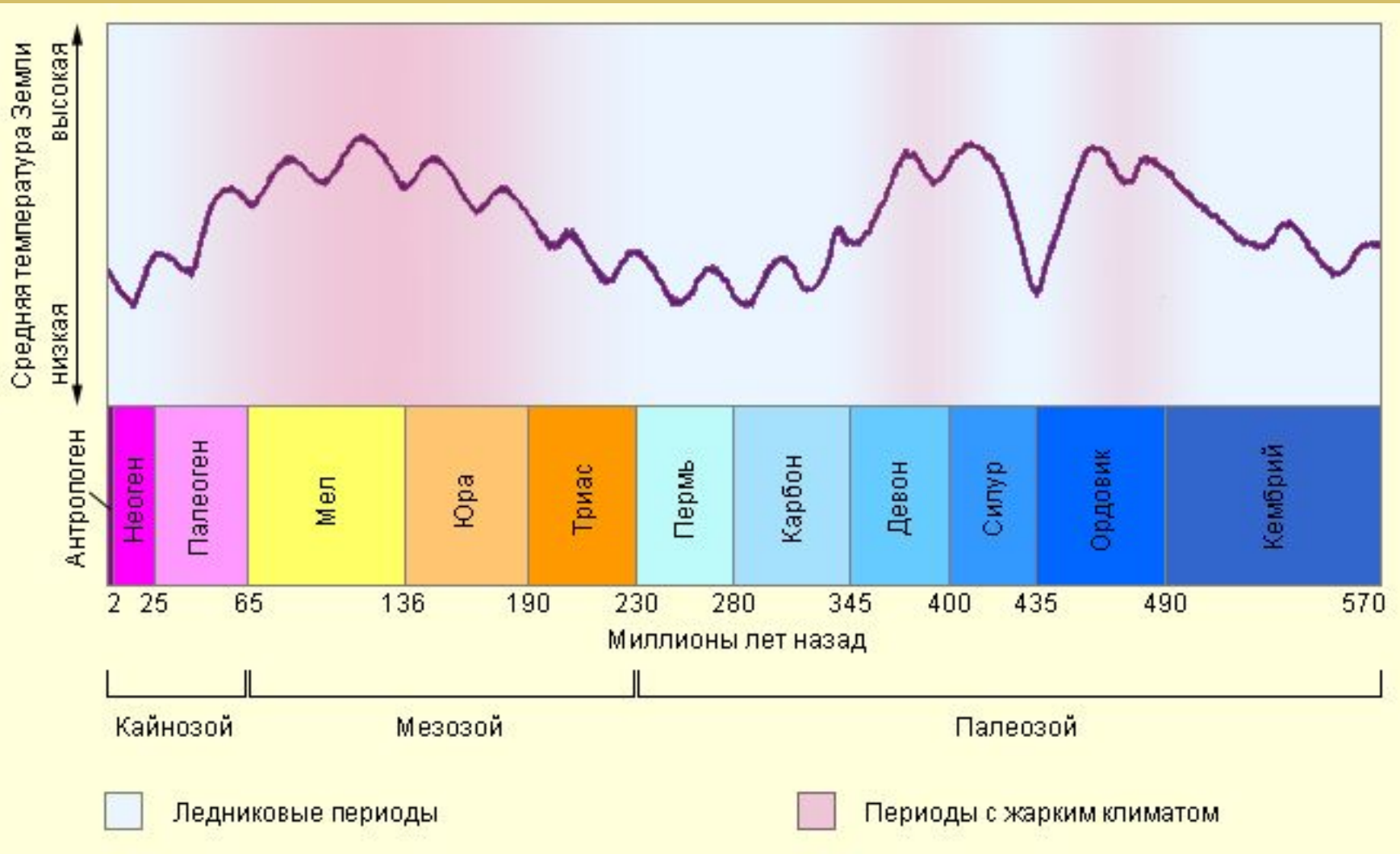


Геологическая история Земли.

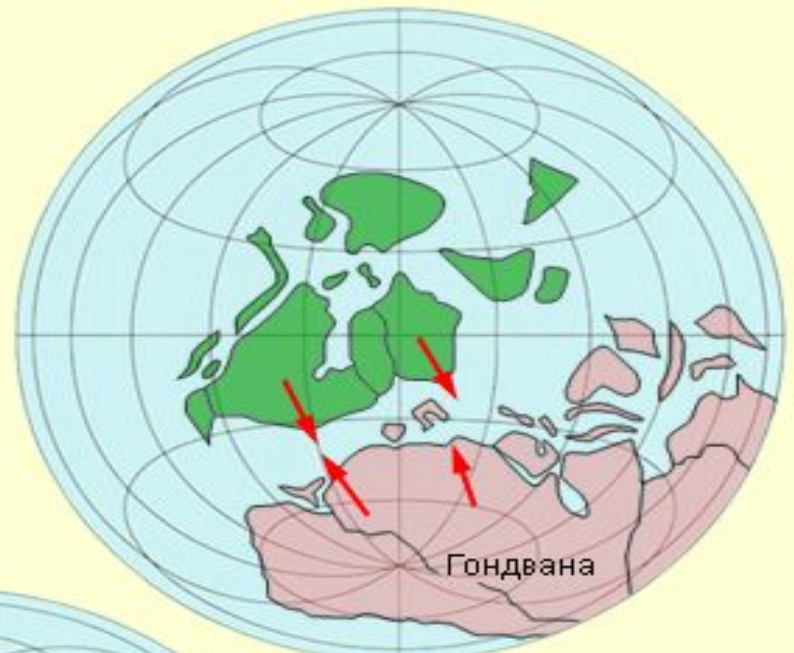


Динамика температуры





Ордовик



Девон



Пермь

1. Расположите перечисленные периоды геологической истории Земли в хронологическом порядке, начиная с самого раннего.

А) каменноугольный

Б) девонский

В) пермский

Запишите в таблицу получившуюся последовательность букв.

--	--	--

1. Расположите перечисленные периоды геологической истории Земли в хронологическом порядке, начиная с самого раннего.

А) каменноугольный

Б) девонский

В) пермский

Запишите в таблицу получившуюся последовательность букв.

Б	А	В
----------	----------	----------

2. Расположите перечисленные периоды геологической истории Земли в хронологическом порядке, начиная с самого раннего.

А) четвертичный

Б) неогеновый

В) палеогеновый

Запишите в таблицу получившуюся последовательность букв.

--	--	--

2. Расположите перечисленные периоды геологической истории Земли в хронологическом порядке, начиная с самого раннего.

А) четвертичный

Б) неогеновый

В) палеогеновый

Запишите в таблицу получившуюся последовательность букв.

В	Б	А
----------	----------	----------

3. Расположите перечисленные периоды геологической истории Земли в хронологическом порядке, начиная с самого позднего.

А) каменноугольный

Б) девонский

В) пермский

Запишите в таблицу получившуюся последовательность букв.

--	--	--

3. Расположите перечисленные периоды геологической истории Земли в хронологическом порядке, начиная с самого позднего.

А) каменноугольный

Б) девонский

В) пермский

Запишите в таблицу получившуюся последовательность букв.

В	А	Б
----------	----------	----------

4. Расположите перечисленные периоды геологической истории Земли в хронологическом порядке, начиная с самого раннего.

- А) ордовикский**
- Б) кембрийский**
- В) силурийский**

Запишите в таблицу получившуюся последовательность букв.

--	--	--

4. Расположите перечисленные периоды геологической истории Земли в хронологическом порядке, начиная с самого раннего.

- А) ордовикский**
- Б) кембрийский**
- В) силурийский**

Запишите в таблицу получившуюся последовательность букв.

Б	А	В
----------	----------	----------

5. Расположите перечисленные периоды геологической истории Земли в хронологическом порядке, начиная с самого раннего.

А) каменноугольный

Б) девонский

В) пермский

Запишите в таблицу получившуюся последовательность букв.

--	--	--

5. Расположите перечисленные периоды геологической истории Земли в хронологическом порядке, начиная с самого раннего.

А) каменноугольный

Б) девонский

В) пермский

Запишите в таблицу получившуюся последовательность букв.

Б	А	В
----------	----------	----------