

Геологическое строение, рельеф и полезные ископаемые России


Метелкина З.З.

Учитель географии

МОУ «Усть-Бюрская СОШ»



1 ВЫСОТА



Рельеф –

ЭТО



Формы рельефа

```
graph TD; A[Формы рельефа] --> B[Горы]; A --> C[Равнины]; B --> D[высокие]; B --> E[средние]; B --> F[низкие]; C --> G[низменности]; C --> H[возвышенности]; C --> I[плато];
```

The diagram is a hierarchical flowchart. At the top is a yellow box labeled 'Формы рельефа'. Two arrows point down to 'Горы' (left, green box) and 'Равнины' (right, green box). From 'Горы', three arrows point down to 'высокие', 'средние', and 'низкие' (all in blue boxes). From 'Равнины', three arrows point down to 'низменности', 'возвышенности и', and 'плато' (all in blue boxes). The text 'возвышенности и' is split across two lines in the box.

Горы

высокие

средние

низкие

Равнины

низменности

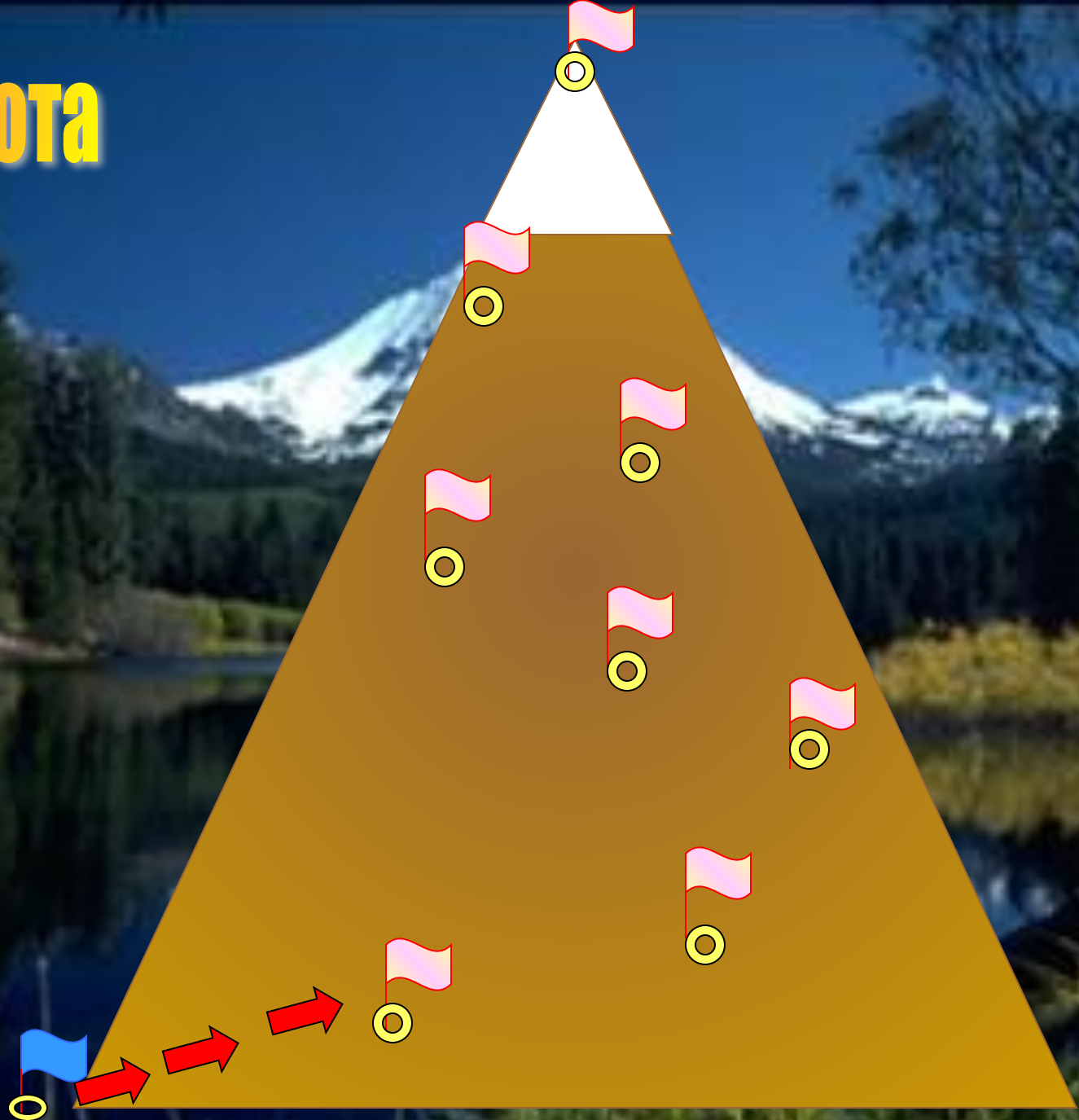
плато

возвышенности
и

Геологическое строение и тектоника



2 высота



Определите формы рельефа по координатам

- 56 с.ш., 33 в.д. –

Валдайская возвышенность.

- 60 с.ш., 72 в.д. –

Западно – Сибирская равнина.

- 44 с.ш., 43 в.д. –

гора Эльбрус.

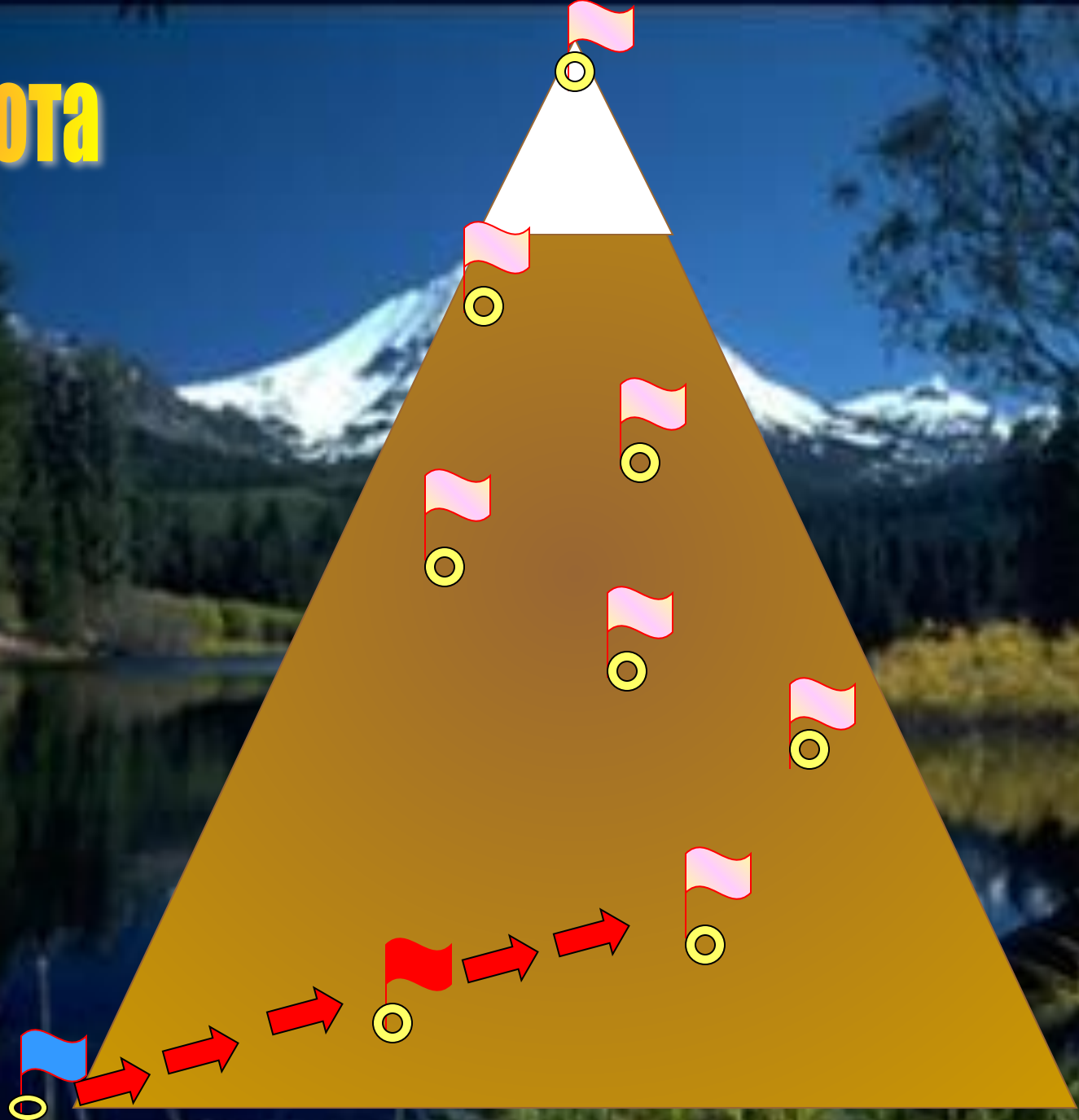
- 46 с.ш., 50 в.д. –

Прикаспийская низменность

- 66 с.ш., 100 в.д.-

Среднесибирское плоскогорье

3 ВЫСОТА



На интерактивную карту нанести формы рельефа и тектонические структуры

1 группа


1. Среднерусская возвышенность
2. Урал
3. Кавказ
4. Западно-Сибирская равнина
5. Западный Саян
6. Восточный Саян
7. Становой Хребет
8. Сихотэ-Алинь
9. Среднесибирское плоскогорье
10. Хибины

2 группа

1. Русская платформа
2. Область герцинской складчатости
3. Область кайнозойской складчатости
4. Западно-сибирская плита
5. Область каледонской складчатости
6. Область байкальской складчатости
7. Алданский щит
8. Область мезозойской складчатости
9. Сибирская платформа
10. Балтийский щит

4 ВЫСОТА





5 ВЫСОТА



**Какой эре
соответствует
период байкальской
складчатости?**

**В какой период
произошло
образование
Алтая и Саян?**

**Какой период
характеризуется
образованием Урала?**

**В каком периоде
наблюдается
горообразование
Хр.Черского, Сихотэ-
Алинь?**

**В какую эру и какой
период мы живем?**

**Когда происходило
образование гор
Кавказа, Камчатки?**





6 ВЫСОТА




Факторы

Эндогенные

Экзогенные



Под влиянием каких факторов формировались данные формы рельефа?



7 ВЫСОТА



Установите соответствия

- | | |
|---------------------------------|---------------------|
| 1. Восточно-Европейская равнина | А) уголь; |
| 2. Урал | Б) газ; |
| 3. Среднесибирское плоскогорье | В) алмазы; |
| 4. Кольский полуостров | Г) нефть; |
| 5. о.Сахалин | Д) железная руда; |
| | Е) апатиты; |
| | Ж) поваренная соль. |

8 ВЫСОТА



Ключевская Сопка



Долина Гейзеров







9 ВЫСОТА



Рельеф Хакасии





Выбери лишний объект



дный Саян, Кузнецкий Алатау, Восточный Саян



ский хребет, Абаканская впадина, Сыдо-Ербинская
впадина

инская котловина, Чулымо-Енисейская котловина
невский кряж

