

Тема урока:

Е В Р О П А

МОНГОЛИЯ

ИСПАНИЯ	М	АФРИКА		О		К		ВАТИКАН	К	АФРИКА	Нил
ИТАЛИЯ	Р	Килиман.		АНХЕЛЬ		СОМАЛИ		САУД. АРАВ.	И	СЕВ. АМЕР.	М
АРМЕНИЯ	?	АМЕРИКА		В		П		РОССИЯ	?	ЮЖ. АМЕР.	?
		Котопахи		ДУНАЙ		ИСЛАНДИЯ					
		ЕВРОПА	?								
Е				В	?	Р	?	О		П	
											А

Общая характеристика зарубежной Европы.

План урока:

- 1. ГЕОГРАФИЧЕСКОЕ ПОЛОЖЕНИЕ.*
- 2. СОСТАВ РЕГИОНА.*
- 3. НАСЕЛЕНИЕ.*

Цель урока:

ИЗУЧИТЬ СОСТАВ, ГЕОГРАФИЧЕСКОЕ ПОЛОЖЕНИЕ, ОСОБЕННОСТИ ГЕОГРАФИИ НАСЕЛЕНИЯ ЕВРОПЫ НА ОСНОВЕ РАБОТЫ С РАЗЛИЧНЫМИ ИСТОЧНИКАМИ ИНФОРМАЦИИ.



Географическое положение Европы.



Особенность
и ЭГП

Приморское положение


Компактность территории

Отсутствие крупных природных препятствий

Задание. Обоснуйте данные особенности географического положения.

Вывод:

ЭГП благоприятствует торговым связям со всеми странами мира, использованию богатств морей...



Состав региона.

Политическая карта Европы.

50
госуда
рств

21 страна входят в состав Европейского Союза
(Нажмите здесь)

16 стран являются членами НАТО
(Нажмите здесь)

Политическая карта Европы на протяжении XX века трижды претерпевала изменения после I и II Мировых войн и после окончания «Холодной войны» в 1991 году.

[Нажмите здесь](#)

- 1 - Нидерланды
- 2 - Бельгия
- 3 - Люксембург
- 4 - Андорра
- 5 - Монако
- 6 - Швейцария
- 7 - Лихтенштейн
- 8 - Словения
- 9 - Сан-Марино
- 10 - Босния и Герцеговина
- 11 - Ватикан
- 12 - Албания
- 13 - Македония
- 14 - Молдавия
- 15 - Гибралтар (Брит.)
- 16 - Сербия и Черногория



Острова, принадлежащие странам Европы



Продолжение



- 1 - Нидерланды
- 2 - Бельгия
- 3 - Люксембург
- 4 - Андорра
- 5 - Монако
- 6 - Швейцария
- 7 - Лихтенштейн
- 8 - Словения
- 9 - Сан-Марино
- 10 - Босния и Герцеговина
- 11 - Ватикан
- 12 - Албания
- 13 - Македония
- 14 - Молдовия
- 15 - Сербия и Черногория
- 16 - Гибралтар (Брит.)

Страны Европейского Союза (2000 г.)

- | | |
|--------------------|--------------|
| 1. ФРГ | 18. Латвия |
| 2. Франция | 19. Эстония |
| 3. Италия | 20. Чехия |
| 4. Нидерланды | 21. Словакия |
| 5. Бельгия | |
| 6. Люксембург | |
| 7. Великобритания | |
| 8. Дания | |
| 9. Ирландия | |
| 10. Греция | |
| 11. Испания | |
| 12. Португалия | |
| 13. Австрия | |
| 14. Швеция | |
| 15. Финляндия | |
| В 2004 году вошли: | |
| 16. Польша | |
| 17. Литва | |



Изменения на политической карте Европы в XX веке.

Назад



Проанализируйте карты. Какие видимые изменения произошли на политической карте Европы с 1914 по 1938 гг. Сравните карту Европы 1938 года с современной политической картой мира в атласе и найдите не менее 4-х изменений.



50

Состав Европейского региона.

Выполните задание, пользуясь атласом.

Вспомни!

Какими показателями характеризуется государственный строй?

монархии

12 монархий...

- Андорра
- Бельгия,
- Ватикан,
- Великобритания
- Дания,
- Испания,
- Лихтенштейн,
- Люксембург,
- Монако,
- Нидерланды,
- Норвегия,
- Швеция



Гибралтар

унитарные

федеративные

Федеративных государств в зарубежной Европе всего 5:
ФРГ
БЕЛЬГИЯ
ШВЕЙЦАРИЯ
АВСТРИЯ
Сербия и Черногория

 Бельгия Королевство Бельгия	
Число субъектов федерации	Дата создания федерации
3 региона	1989

 Германия Федеративная республика	
Число субъектов федерации	Дата создания федерации
16 земель	1871

 Швейцария Швейцарская Конфедерация	
Число субъектов федерации	Дата создания федерации
23 кантона	1848 ¹
<small>¹ дата вступления в действие новой конституции страны, по которой Швейцария из союзов кантонов стала федерацией</small>	

 Союз Сербии и Черногории Федеративная республика	
Число субъектов федерации	Дата создания федерации
2	1992

Государства - «карлики»



Крупные государства (S более 500 тыс. км²)

Украина
Франция
Испания

ВЫВОД: Большинство стран Европы унитарные республики.

Сербия - Косово и Метохия - в под управлении международной

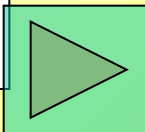


Диаграмма 1.

Место Зарубежной Европы в населении мира.

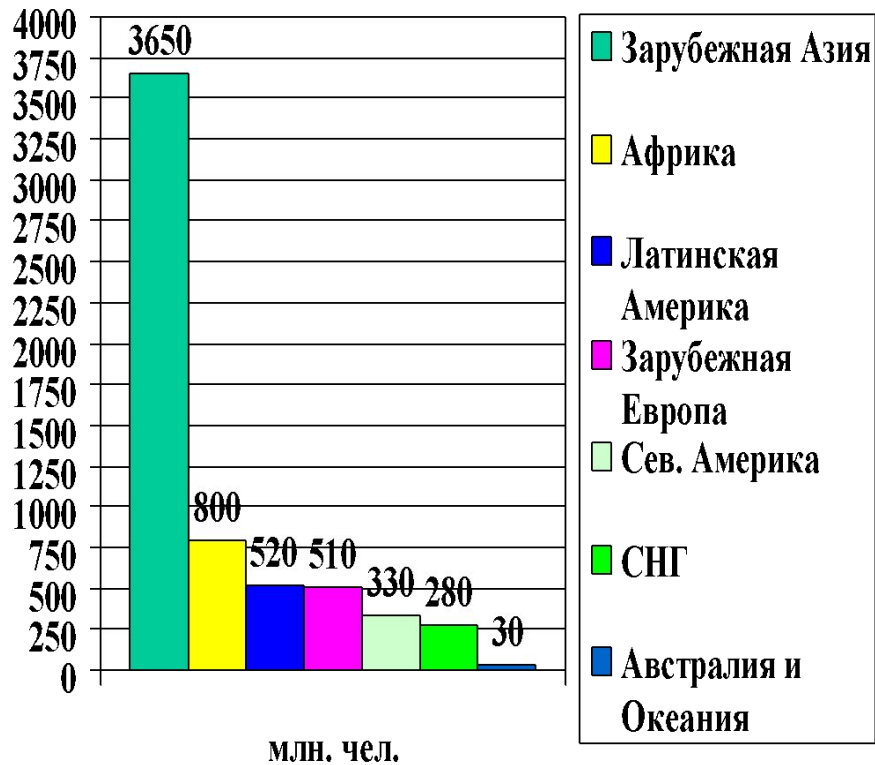
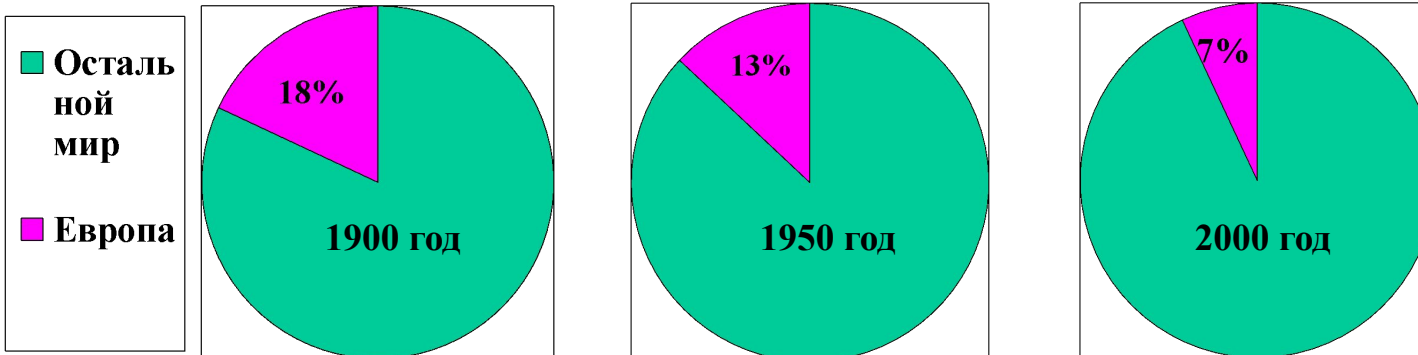


Диаграмма 2. Доля Зарубежной Европы в населении мира.



Население зарубежной Европы.

I. ПЛОТНОСТЬ и РАЗМЕЩЕНИЕ

ок. 100 чел/км²

Густонаселенный район мира

II. Демографическая ситуация

ЗАДАНИЕ. Проанализируйте диаграммы №1 и №2.
На каком месте находится Зарубежная Европа по численности населения и какова её доля в мировом населении? Как изменяется доля Зарубежной Европы в мировом населении?

[Смотри карту](#)

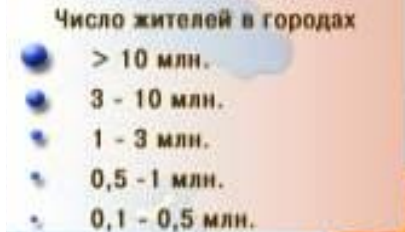
Далее

ПЛОТНОСТЬ НАСЕЛЕНИЯ ЕВРОПЫ

? Проанализируйте карту. В каких районах Зарубежной Европы высока плотность населения, какие районы слабо заселены. Как вы думаете в чем причины контраста в расселении?

(Щелкни мышкой, появится вывод)

Плотность населения(чел./кв.км)




Размещение населения.
География городов.

Карта городов

Зарубежная Европа - один из самых густонаселенных регионов мира. Однако очень велики контрасты в расселении. Область высокой плотности населения расположена в центральной части региона, которая охватывает Юго - Восточную Англию, Нидерланды, Бельгию, Север Франции, Рур и Рейнская часть ФРГ (более 300 чел/км²). Высокая плотность населения сформировалась здесь благодаря выгодам ЭГП, высокой концентрации промыш-ленности, инфраструктуры и городов.

Наиболее редко заселена Северная Европа, где природные условия более суровы, менее благоприятны для жизни и развития хозяйства. В Исландии - 2 чел/км²



РАЗМЕЩЕНИЕ НАСЕЛЕНИЯ.



Карта крупных городов

Размещение населения в Зарубежной Европе определяется географией городов, так как уровень урбанизации здесь один из самых высоких в мире. 3/4 населения живет в городах (в Великобритании, ФРГ, Бельгии, Исландии - более 85% , но в Португалии - 35%).


Главной формой городского расселения являются агломерации. Крупнейшими агломерациями являются - Лондонская (13 млн. жит.) и Парижская (11 млн. жит.). Формируются и мегалополисы - Английский (Лон-Лив) и Прирейнский (протянулся вдоль р. Рейн на территории ФРГ, Нидерландов, Бельгии).

Однако, вследствие обострения экономического и социального кризиса крупных городов, ухудшения условий жизни в них, изношенности жилого фонда, ухудшения состояния окружающей среды, сокращения занятости, рост городского населения замедляется, происходит отток населения из центральных зон агломераций в пригороды, то есть агломерации «растекаются». Стираются контрасты городских поселениями.





Мегалополис


Лон-Лив



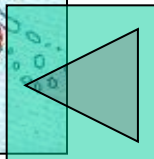
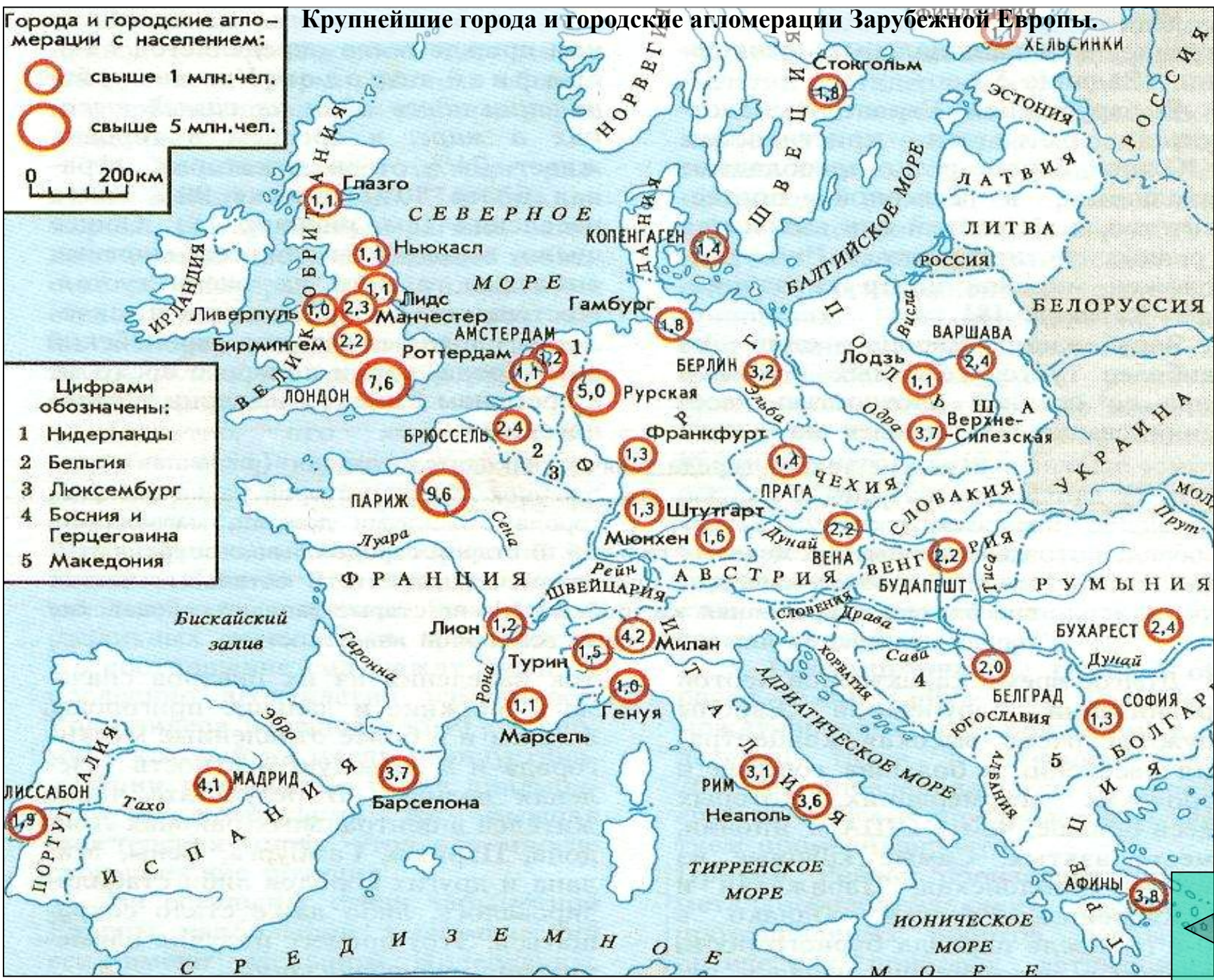
Крупнейшие города и городские агломерации Зарубежной Европы.

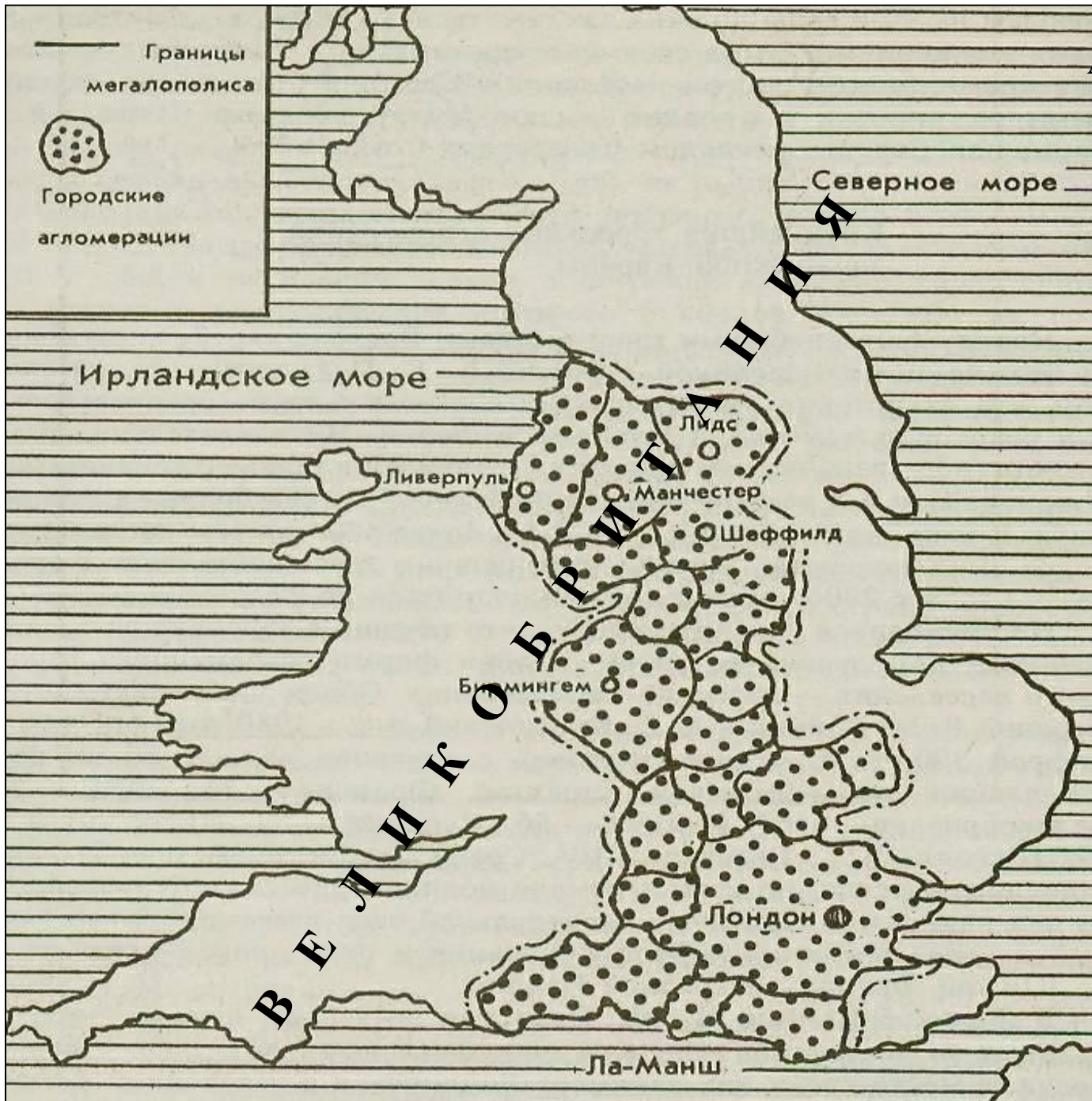
Города и городские агломерации с населением:

-  свыше 1 млн. чел.
-  свыше 5 млн. чел.




- Цифрами обозначены:
- 1 Нидерланды
 - 2 Бельгия
 - 3 Люксембург
 - 4 Босния и Герцеговина
 - 5 Македония





Английский мегалополис
«Лон-Лив»
(по Г.Д. Костинскому)



II. Демографическая ситуация (продолжение).

По темпам роста населения Зарубежная Европа занимает последнее место среди регионов мира, отчего её доля в населении Земли уменьшается. Главная причина - **сложная демографическая ситуация**. В чем же она выражается?

1. **Низкий уровень рождаемости** и относительно высокий уровень смертности - результат **преобладания пожилых людей**.
2. Убыль населения, «угасание наций» - **депопуляция**, которую не могут предотвратить даже при помощи демографической политики.
3. Обострение социально-экономических проблем, **рост безработицы**, кризис устоев семьи.
4. **Рост числа трудовых иммигрантов** из других регионов мира, что влияет на численность и трудовой потенциал населения, усложняет национальный состав, **обостряет межнациональные проблемы** (рисунок № 47 в учебнике).

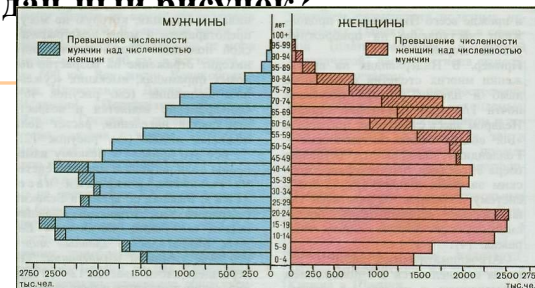
ДЕПОПУЛЯЦИЯ

МИРОВОЙ ОЧАГ ТРУДОВОЙ
ИММИГРАЦИИ


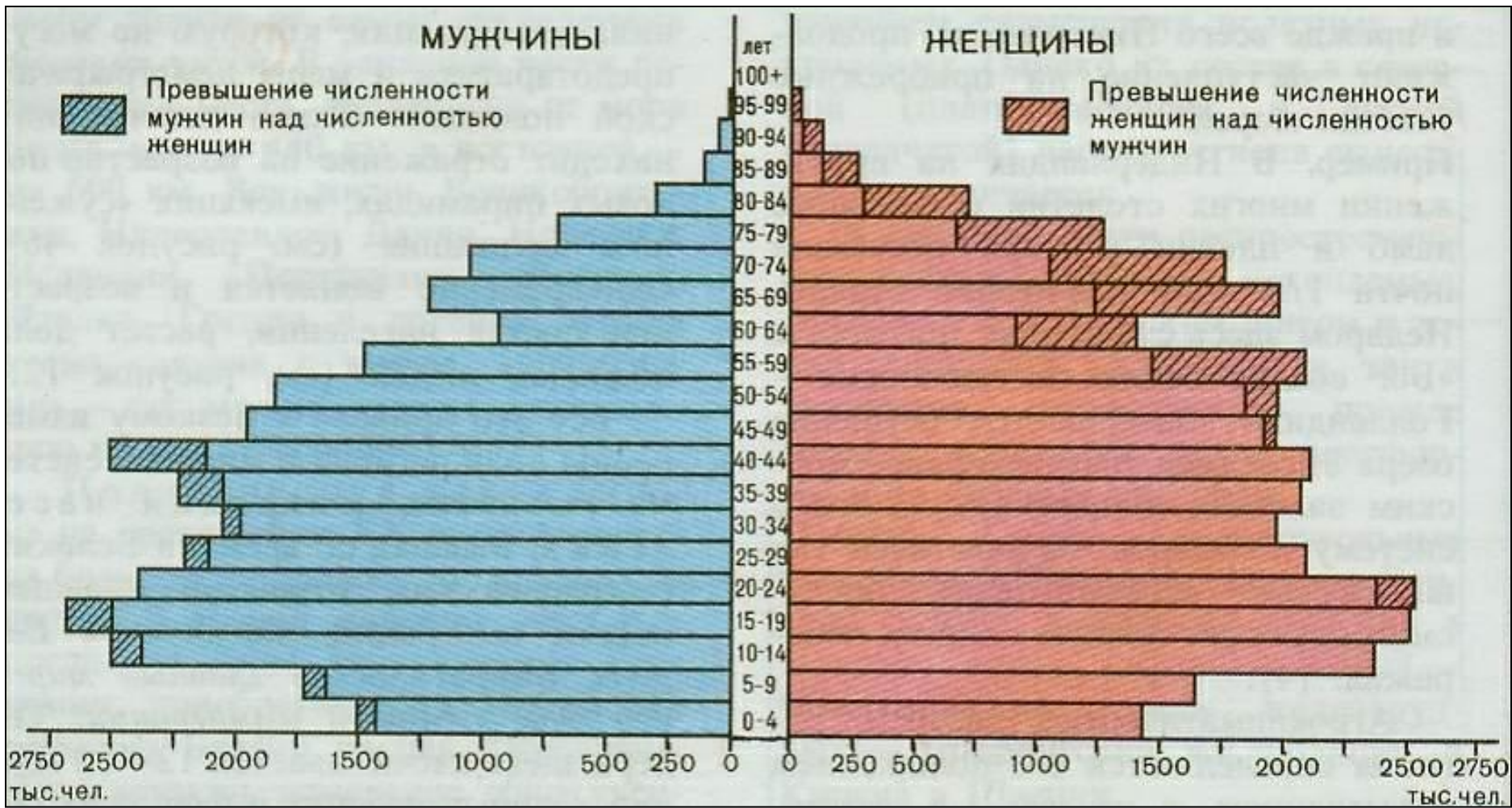
ЗАДАНИЕ.

Рассмотрите рисунок № 46 в учебнике В.П. Максаковского (стр. 164)

- Что отражает данная возрастно-половая пирамида?
- Какие выводы можно сделать, проанализировав данный рисунок?



Возрастно-половая пирамида ФРГ.



III. НАЦИОНАЛЬНЫЙ И РЕЛИГИОЗНЫЙ СОСТАВ НАСЕЛЕНИЯ ЕВРОПЫ

95
%

НАРОДОВ РЕГИОНА ОТНОСИТСЯ К ИНДОЕВРОПЕЙСКОЙ ЯЗЫКОВОЙ СЕМЬЕ

Романская группа - 36%
Германская - 35%
Славянская - 18%

Однако, на территории Европы немало государств со сложным национальным составом

МЕЖНАЦИОНАЛЬНЫЕ ПРОБЛЕМЫ

Босния и Герцеговина
Испания - баски
Франция - корсиканцы
Великобритания - Сев. Ирландия



Вывод: по национальному составу население Европы относительно однородно из 62 народов 95% относится к индоевропейской языковой семье. Тем не менее этническая карта региона, складывавшаяся на протяжении тысячелетий, очень пестра.



НАРОДЫ И ЯЗЫКИ ЕВРОПЫ



ИНДОЕВРОПЕЙСКАЯ СЕМЬЯ

- ### Славянские языки
- 1 Русский
 - 2 Украинский
 - 3 Белорусский
 - 4 Польский
 - 5 Чешский
 - 6 Словацкий
 - 7 Сорбский
 - 8 Сербско-хорватский
 - 9 Болгарский; македонский
 - 10 Словенский

- ### Германские языки
- 11 Немецкий
 - 12 Английский
 - 13 Голландский; фризский
 - 14 Шведский
 - 15 Датский
 - 16 Норвежский; фарерский
 - 17 Исландский

- ### Романские языки
- 18 Французский
 - 19 Итальянский; сардинский
 - 20 Испанский
 - 21 Португальский; галисийский
 - 22 Каталанский
 - 23 Румынский
 - 24 Ретороманские языки

- ### Балтийские языки
- 25 Латвийский
 - 26 Литовский


- ### Кельтские языки
- 27 Валлийский
 - 28 Бретонский
 - 29 Галский (ирландский)
- ### Греческий язык
- 30 Греческий язык
- ### Албанский язык
- 31 Албанский язык
- ### Цыганский язык
- 32 Цыганский язык

- ## УРАЛЬСКАЯ СЕМЬЯ
- ### Финно-угорские языки
- 33 Венгерский
 - 34 Финский
 - 35 Эстонский
 - 36 Коми
 - 37 Саамский
 - 38 Ненецкий

- ## АЛТАЙСКАЯ СЕМЬЯ
- ### Тюркские языки
- 39 Турецкий; гагаузский
- ### БАСКСКИЙ ЯЗЫК
- 40 Баскский язык

НАРОДЫ

Французы
Молдаване



III. НАЦИОНАЛЬНЫЙ И РЕЛИГИОЗНЫЙ СОСТАВ НАСЕЛЕНИЯ ЕВРОПЫ

ЗАДАНИЕ.

Проанализируйте карту. Ответьте на вопросы.

1. Какая религия занимает господствующее положение в Европе?
2. В каких частях Европы преобладает католицизм, в каких протестантство, православие?
3. Приведите примеры стран Европы население которых

исповедует протестантство, католицизм, православие (не менее 5 стран).


ИСПОВЕДУЕТ ХРИСТИАНСТВО

93%
НАСЕЛЕН

ПРОТЕСТАНТСТВО

КАТОЛИЦИЗМ

ПРАВОСЛАВИЕ





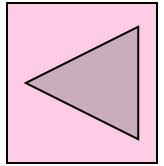
Ватикан

 <h2>Ватикан</h2> <p>Теократическая монархия</p>		
Территория, тыс. км ²	Население, тыс. чел.	Дата образования государства
0,00044	0,9	1929



Мировой центр католицизма - Ватикан расположен в Риме. Это самое маленькое в мире независимое государство имеет свое правительство, банк, гвардию, законы, валюту, почтовые марки и своего монарха - Папу Римского.

Основная функция Ватикана - религиозная. Ватикан владеет огромными капиталами и обширными землями во многих странах мира.



Проверь себя. Тест.

1. Самое крупное по площади государство Европейского Союза:

- 1) Швеция; 2) Украина; 3) Франция; 4) Германия.

2. Какое из перечисленных государств Европы не входит в НАТО?

- 1) Польша; 2) Греция; 3) Исландия; 4) Швейцария; 5) Чехия.

3. Какое из перечисленных государств не является федерацией?

- 1) Бельгия; 2) Австрия; 3) Франция; 4) Сербия и Черногория.

4. Численность населения Европы:

- 1) 280 млн.; 2) 810 млн.; 3) 510 млн.; 4) 330 млн..

5. Для городских поселений Европы характерно:

- 1) ложная урбанизация; 2) отток населения в пригород; 3) бурный рост численности населения; 4) бурный рост численности сельских жителей.

6. Для Европы характерна следующая демографическая ситуация:

- 1) высокий уровень рождаемости; 2) преобладание пожилых людей;
3) высокий уровень квалификации населения; 4) низкий уровень безработицы;
5) рост числа трудовых иммигрантов; 6) высокая продолжительность жизни;
7) суженное воспроизводство; 8) депопуляция.

7. Сопоставьте районы Европы и преобладающие в них религии:

- | | |
|---------------------------|-------------------|
| 1) Северная Европа | А) православие |
| 2) Восточная Европа | Б) протестантство |
| 3) Средняя и Южная Европа | В) католицизм |

**ОТВЕТ
Ы**

Ответы

1. Самое крупное по площади государство Европейского Союза:

1) Швеция; 2) Украина; 3) Франция; 4) Германия.

2. Какое из перечисленных государств Европы не входит в НАТО?

1) Польша; 2) Греция; 3) Исландия; 4) Швейцария; 5) Чехия.

3. Какое из перечисленных государств не является федерацией?

1) Бельгия; 2) Австрия; 3) Франция; 4) Сербия и Черногория.

4. Численность населения Европы:

1) 280 млн.; 2) 810 млн.; 3) 510 млн.; 4) 330 млн..

5. Для городских поселений Европы характерно:

1) ложная урбанизация; 2) отток населения в пригород; 3) бурный рост численности населения; 4) бурный рост численности сельских жителей.

6. Для Европы характерна следующая демографическая ситуация:

1) высокий уровень рождаемости; 2) преобладание пожилых людей;
3) высокий уровень квалификации населения; 4) низкий уровень безработицы;
5) рост числа трудовых иммигрантов; 6) высокая продолжительность жизни;
7) суженное воспроизводство; 8) депопуляция.

7. Сопоставьте районы Европы и преобладающие в них религии:

1) Северная Европа



Б) протестантство

2) Восточная Европа

А) православие

3) Средняя и Южная Европа

В) католицизм



Государственный строй стран Европы.

- 1 - Нидерланды
- 2 - Бельгия
- 3 - Люксембург
- 4 - Андорра
- 5 - Монако
- 6 - Швейцария
- 7 - Лихтенштейн
- 8 - Словения
- 9 - Сан-Марино
- 10 - Босния и Герцеговина
- 11 - Ватикан
- 12 - Албания
- 13 - Македония
- 14 - Молдавия
- 15 - Гибралтар (Брит.)
- 16 - Сербия и Черногория

- - монархии
- ▲ - республики



Назад