

Тема урока:

Китайская Народная Республика.

ПЛАН:

1. Территория Китая. ЭГП
2. Форма правления и административно-территориальное устройство.
3. Население (численность, ПВС, динамика роста, размещение).
4. Хозяйство КНР.



Территория.

9, 6 МЛН.
КМ²

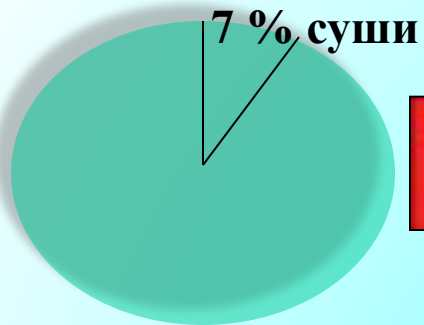
ИСТОРИЧЕСКАЯ СПРАВКА.

«Чжунго» - называют китайцы свою страну - «Срединное государство вселенной». В русский язык слово «Китай» пришло от названия народа, обитавшего в С-З районах страны - «кидань».

История Китая представляет собой череду сменяющих друг друга государств, распавшихся и снова собиравшихся. С 17 века до начала 20 века господство над Китаем установили маньчжурские правители - Цины. В 1912 году монархия была свергнута и образовалась Китайская Республика. С этих пор территория Китая стала открытой для иностранного капитала и в скорое попала в сильную зависимость от иностранных держав. После разгрома в 1945 г. Советской Армией вооруженных сил Японии, под руководством КПК 1 октября 1949 г. была провозглашена Китайская Народная Социалистическая Республика. В КНР осуществляются реформы строительства социалистической многоукладной хозяйственной системы.



Территория.



СОСТАВ ТЕРРИТОРИИ:

**ОСНОВНАЯ
(материковая)
ЧАСТЬ**

о. ТАЙВАНЬ

о. ХАЙНАНЬ

ГОНКОНГ

АОМЫНЬ

ЭГП

Протяженность границы Китая 36,5 тыс. км.

**Сухопутные
21,5 тыс. км.**

**Морские
15 тыс. км.**

Задание.
Пользуясь физической и политической картами зарубежной Азии, оцените роль границ Китая для внешних экономических связей.


Выходы к незамерзающим морям:

Определи , пользуясь картой.

Соседи (по суше) - 13 государств:

Определи , пользуясь картой.





Форма правления и административно-территориальное устройство Китайской Народной Республики.

**РЕСПУБЛИКА
(СОЦИАЛИСТИЧЕСКАЯ)**

ВЫСШИЙ ОРГАН ВЛАСТИ - ВСЕКИТАЙСКОЕ СОБРАНИЕ НАРОДНЫХ ПРЕДСТАВИТЕЛЕЙ (ВСНП) (избираются на 5 лет). **ВСНП ВЫБИРАЕТ ПРЕДСЕДАТЕЛЯ И ЕГО ПРЕМЬЕРА.** Руководящая политическая партия - Коммунистическая партия Китая.

АТУ (смотри карту на след. слайде)

См. учебник стр. 212.

РИС. 65

3 ЭКОНОМИЧЕСКИЕ ЗОНЫ

**УНИТАРНОЕ
ГОСУДАРСТВО**

ВОСТОЧНАЯ

ЦЕНТРАЛЬНАЯ

ЗАПАДНАЯ

**23 ПРОВИНЦИИ, 5 АВТОНОМНЫХ РАЙОНОВ,
4 ГОРОДА ЦЕНТРАЛЬНОГО ПОДЧИНЕНИЯ (Пекин,
Тяньцзинь, Шанхай, Чунцин).**

В конце XX века для привлечения капитала были созданы 5 «специальных свободных экономических зон».

ШЕНЬЧЖЭНЬ

ЧЖУХАЙ

ШАНЬТОУ


(Провинция ГУАНДУН на Ю-В Китая)

СЯМЭНЬ

(Провинция ФУЦЗЯНЬ)

о. ХАЙНАНЬ

(Провинция ХАЙНАНЬ)



Фор

РЕСПУБЛИКА
(СОЦИАЛИСТИЧЕСКАЯ)

УНИТАРНОЕ
ГОСУДАРСТВО

В конце XX века
новых экономических



ШЕНЬЧЖЭНЬ
(Провинция ГУАНДУН на Ю-В Китая)

СЯМЭНЬ
(Провинция ФУЦЗЯНЬ)

о. ХАЙНАНЬ
(Провинция ХАЙНАНЬ)

СВОБОДНАЯ ЭКОНОМИЧЕСКАЯ ЗОНА - территория, для которой установлен льготный налоговый и таможенный режим, для привлечения иностранного капитала.

Задание. На контурную карту Китая нанести границу КНР, границы экономических зон, города центрального подчинения, свободные экономические зоны. Указать долю экономической зоны по населению и промышленности.

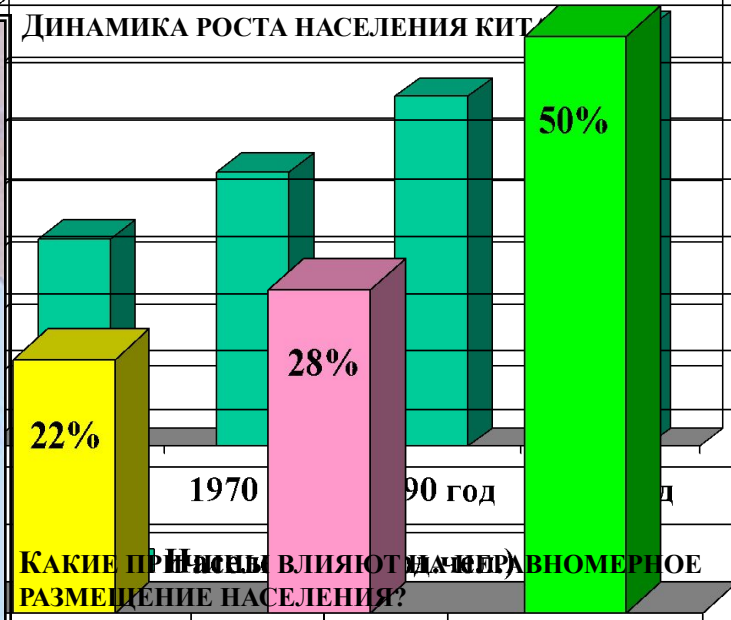
Административно-территориальное деление Китайской Народной Республики



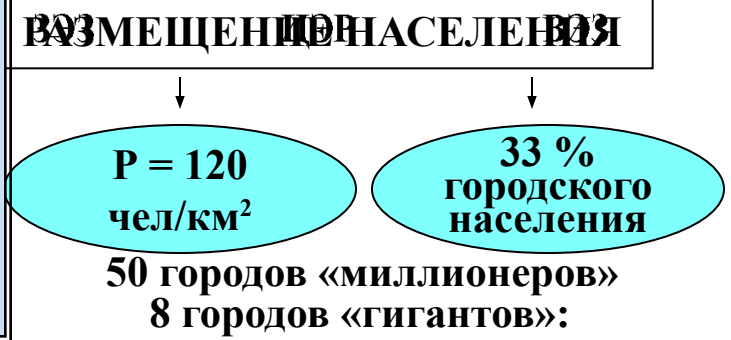
* НИНСЯ-ХУЭЙСКИЙ АВТ. РАЙОН

Население

МНОГОНАЦИОНАЛЬНАЯ СТРАНА - 56 НАРОДНОСТЕЙ



Какие причины влияют на неравномерное размещение населения?



ШАНХАЙ, ПЕКИН, ТЯНЬЦЗИНЬ,
ЧУНЦИН, ШЕНЬЯН, УХАНЬ,
ГУАНЧЖОУ, ХАРБИН



Размещение населения Китая.



ЭКОНОМИКА КНР

Общий уровень экономического развития Китая остается пока не очень высоким, а с учетом среднедушевых показателей эта страна остается в ряду бедных. Однако в последние годы её роль в экономике мира стремительно возросла, темпы развития самые высокие в мире.

Китай - мощная индустриально-аграрная страна

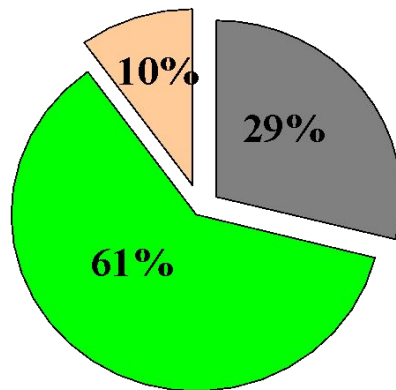
Добывающая промышленность

1 место в мире по добыче угля, Fe руды.

Обрабатывающая промышленность

1 место в мире по выплавке стали, выпуску хлопчатобумажных тканей, телевизоров, радиоприемников и т.д.

Доля занятых в секторах экономики



■ промышленность
■ с/х
■ сфера услуг



Спецификой современного китайского социализма является многоукладность экономики, сочетание плана и рынка, доля государственных предприятий постепенно падает, в то же время растет доля предприятий коллективного и частного сектора.

ДОБЫВАЮЩАЯ ПРОМЫШЛЕННОСТЬ И ЭЛЕКТРОЭНЕРГЕТИКА КИТАЯ

Добывающая промышленность

- каменный уголь
- ▲ нефть
- △ природный газ
- ▲ железные руды
- ⊗ полиметаллические руды
- золото
- Мп марганцевые руды
- W вольфрамовые руды
- Al алюминийевые руды
- Сu медные руды
- Hg ртутные руды

Цифрами на карте обозначены

- 1-Дагэн
- 2-Янцюань
- 3-Тайюань
- 4-Фынфын
- 5-Сюйчжоу
- 6-Хуайбэй
- 7-Пиндиншань

- ✈ Железные дороги
- 🐟 центры рыболовства



ОБРАБАТЫВАЮЩАЯ ПРОМЫШЛЕННОСТЬ КИТАЯ

Центры промышленности

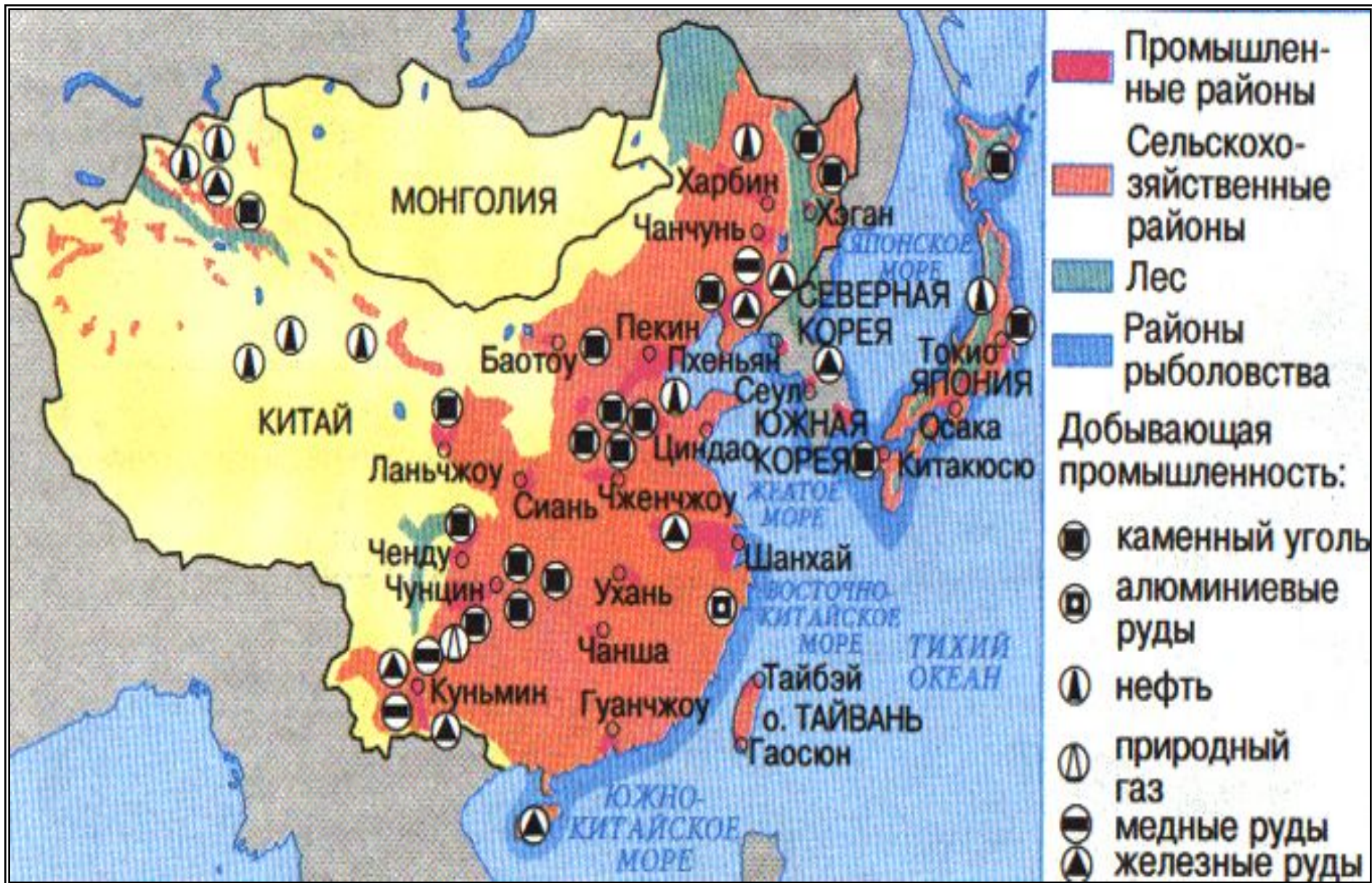
- многоотраслевые
- черная металлургия
- цветная металлургия
- машиностроение
- химическая
- деревообрабатывающая
- строительных материалов
- кожанно-обувная
- пищевая
- текстильная
- фарфоро-фаянсовая

Промышленные центры

- крупнейшие
- средние
- прочие важные



ХОЗЯЙСТВО



ТРАНСПОРТ

Учитывая численность населения и размеры территории транспорт для Китая имеет огромное значение. Более половины грузо- и пассажирооборота приходится на железнодорожный транспорт. Быстро растет доля морского транспорта.

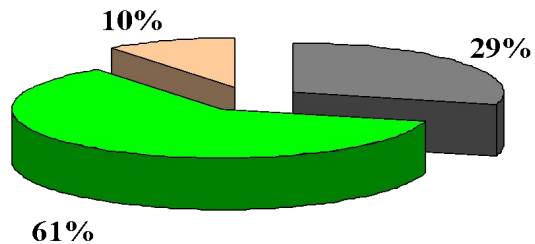
Наиболее плотная транспортная сеть в приморских провинциях, во внутренних районах велика роль гужевого и вьючного транспорта.



ВАЖНЕЙШИЕ ПУТИ
СООБЩЕНИЯ

железные
дороги

Сельское хозяйство



61%

- Доля занятых в с/х



ЗЕМЛЕДЕЛЬЧЕСКИЕ РАЙОНЫ КИТАЯ

ВОСТОЧНЫЙ РАЙОН

СЕВЕРО-ЗАПАДНЫЙ РАЙОН

ЮГО-ЗАПАДНЫЙ

«ЖЕЛТЫЙ КИТАЙ»

«ЗЕЛЕНый КИТАЙ»

«СУХОЙ КИТАЙ»

«ХОЛОДНЫЙ КИТАЙ»

СПЕЦИАЛИЗАЦИЯ РАЙОНОВ:

Задание. Пользуясь текстом учебника стр. 214-215 и картой атласа определите специализацию земледельческих районов Китая. Назовите причины такой специализации.

Пшеница,
кукуруза

Рис, чай

Кочевое
скотоводство

-