

КЛИМАТ

ЕВРАЗИИ



Определите, в каких климатических поясах находится территория Евразии?

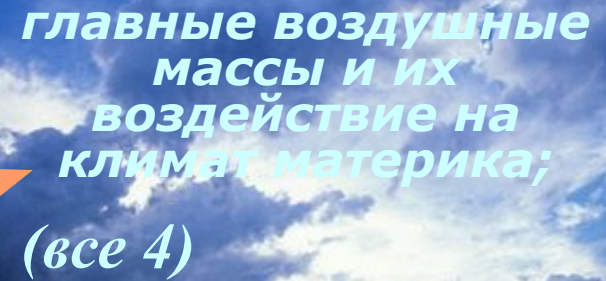


Найдите сходство и различие между Северной Америкой и Евразией


- *Назовите главные природные факторы, которые могут оказать влияние на климат Евразии.*



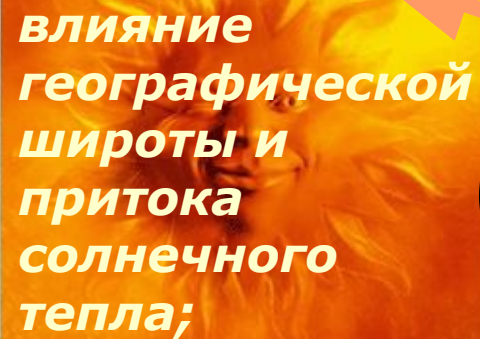
**влияние высоты
местности на
климат Евразии**




**главные воздушные
массы и их
воздействие на
климат материка;
(все 4)**



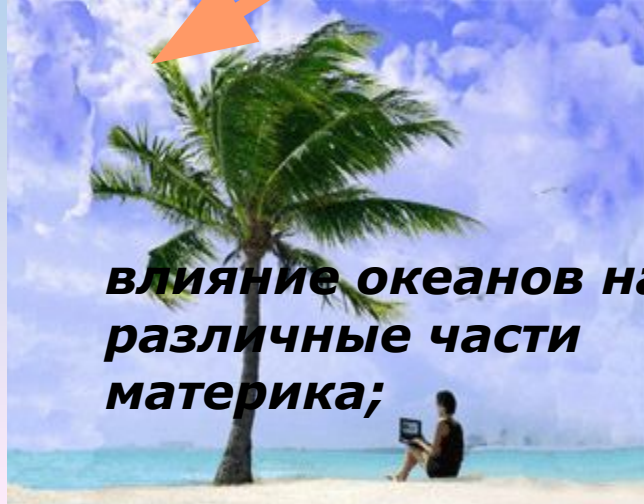
**Факторы,
влияющие
на климат
Евразии**



**влияние
географической
широты и
притока
солнечного
тепла;**

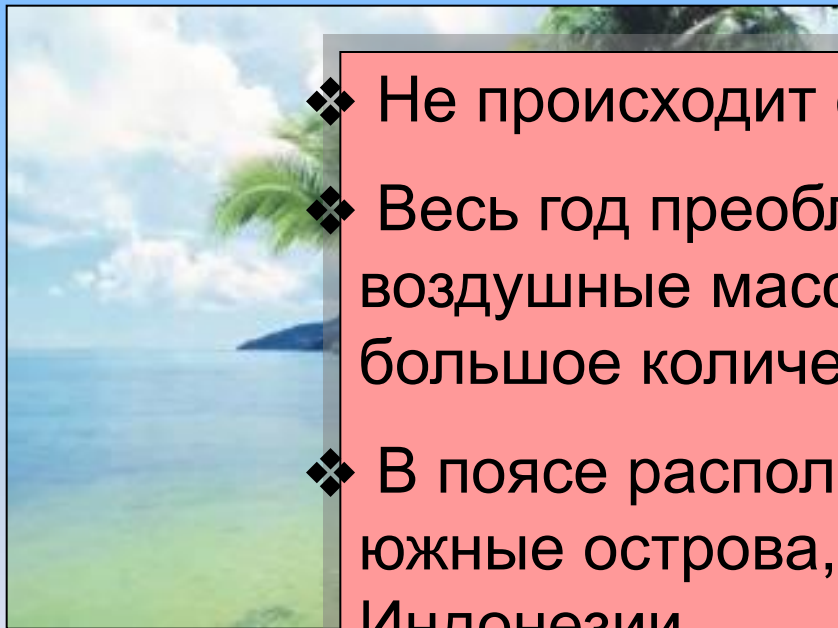


**расположение
наиболее высоких гор
по отношению к
движению воздушных
масс;**




**влияние океанов на
различные части
материка;**

Определите, о каком климатическом поясе идет речь.



- ❖ Не происходит смены времен года.
- ❖ Весь год преобладают постоянные воздушные массы, высокие температуры, большое количество осадков.
- ❖ В поясе располагаются в основном южные острова, например, острова Индонезии.

Экваториальный пояс



Определите, о каком климатическом поясе идет речь.

- ❖ Летом преобладают тропические, а зимой – умеренные воздушные массы.
- ❖ Зимой выпадают осадки, лето сухое.
- ❖ Имеет три климатических сектора.
- ❖ На западе сектор средиземноморский, на востоке – муссонный.
- ❖ В западной части осадки выпадают зимой, на востоке –

Субтропический пояс

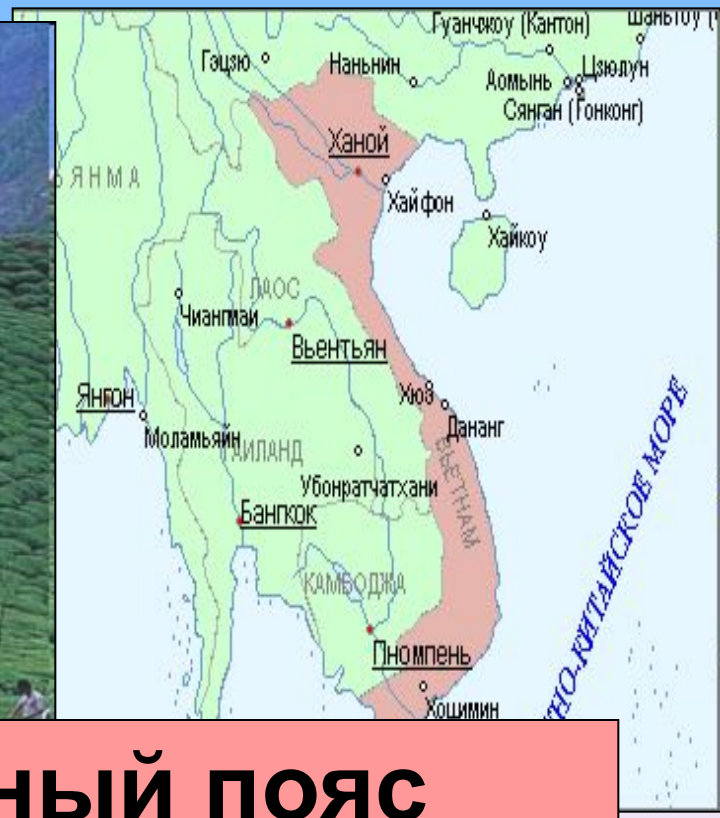

- ❖ В центральном секторе находится нагорье Тибет.

Определите, о каком климатическом поясе идет речь.



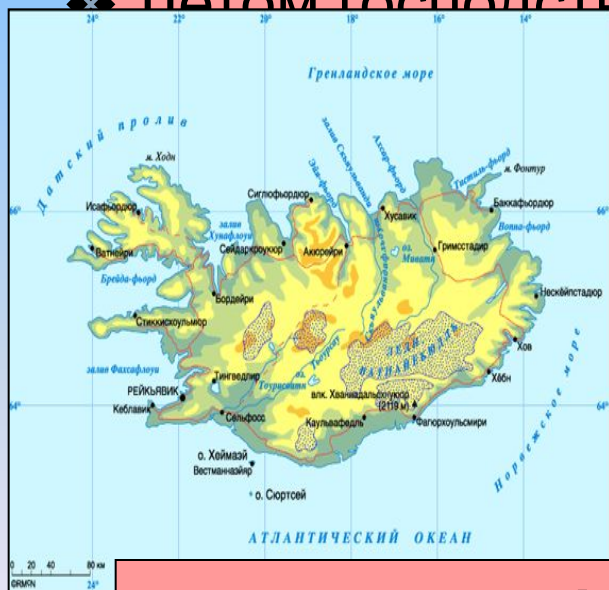
Арктический пояс

Определите, о каком климатическом поясе идет речь.



Субэкваториальный пояс

Определите, о каком климатическом поясе идет речь.




Летом господствуют умеренные воздушные массы, а зимой — арктические.

В летний период, вызываются континентальные воздушные массы.

Характеризуется остров Исландия.


Субарктический пояс

Определите, о каком
климатическом поясе
идет речь.



Тропический пояс

Определите, о каком климатическом поясе идет речь.



климатических

Находится по

тем

ОТЯ

ОЫ


С Х

сирована

Умеренный пояс

Найдите соответствие между климатическими поясами и географическими объектами.

1. Арктический пояс




а) Великобритания

2. Субарктический пояс




б) Таймырский пол-ов

3. Умеренный пояс




в) Остров Калимантан

4. Субтропический пояс




г) Йемен и Оман

5. Тропический пояс




д) Вьетнам и Лаос

6. Субэкваториальный пояс



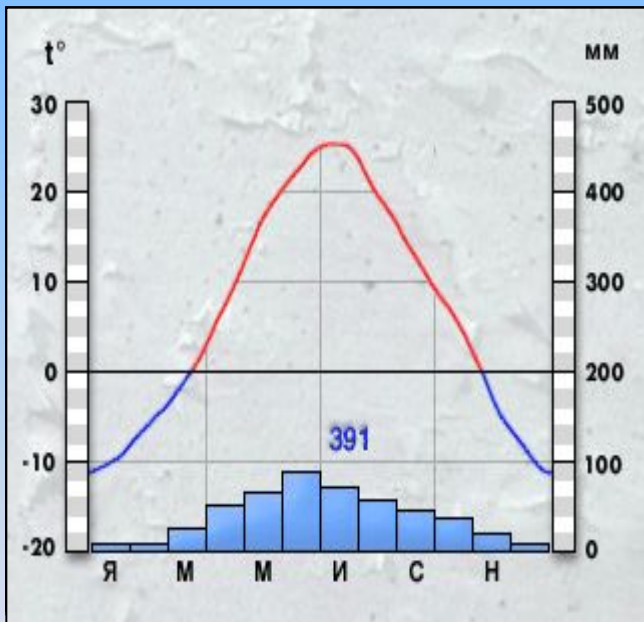
е) Пол-ов Чукотка

7. Экваториальный пояс



ж) Турция

По климатограмме определите особенности данного типа климата.



Проанализируйте климатограмму по плану:

1. Чему равны максимальная и минимальная температуры, и на какие месяцы приходится максимум и минимум? Определите амплитуду температур.
2. Определите годовое количество осадков и режим их выпадения.
3. Сделайте вывод о климате.

Подумайте!

Какие течения оказывают на климат Евразии большое воздействие?



№ п/п	Климатический пояс	Тип климата	Температура января, °С	Температура Июля, °С	Годовое количество осадков, мм
1.	Умеренный пояс	1. Морской			
		2. Муссонный			
		3. Умеренно-континентальный			
		4. Континентальный			
		5. Резко-континентальный			
2.	Арктический и субарктический	1. Морской на западе			
		2. Континентальный на востоке			
3.	Субтропический				
4.					
5.					
6.					
7.					

