

# Климат и внутренние воды Австралии

Шишигина Елена Робертовна,  
учитель географии,  
высшая категория

[Europa](#)

[Asien](#)

[Afrika](#)

[N-Amerika](#)

[M-Amerika](#)

[S-Amerika](#)

[Australien](#)

[Antarktis](#)

[Frames](#)

[Alle Stationen](#)

[Klimakarten](#)

[Klimaklassifikation](#)

[Infos](#)

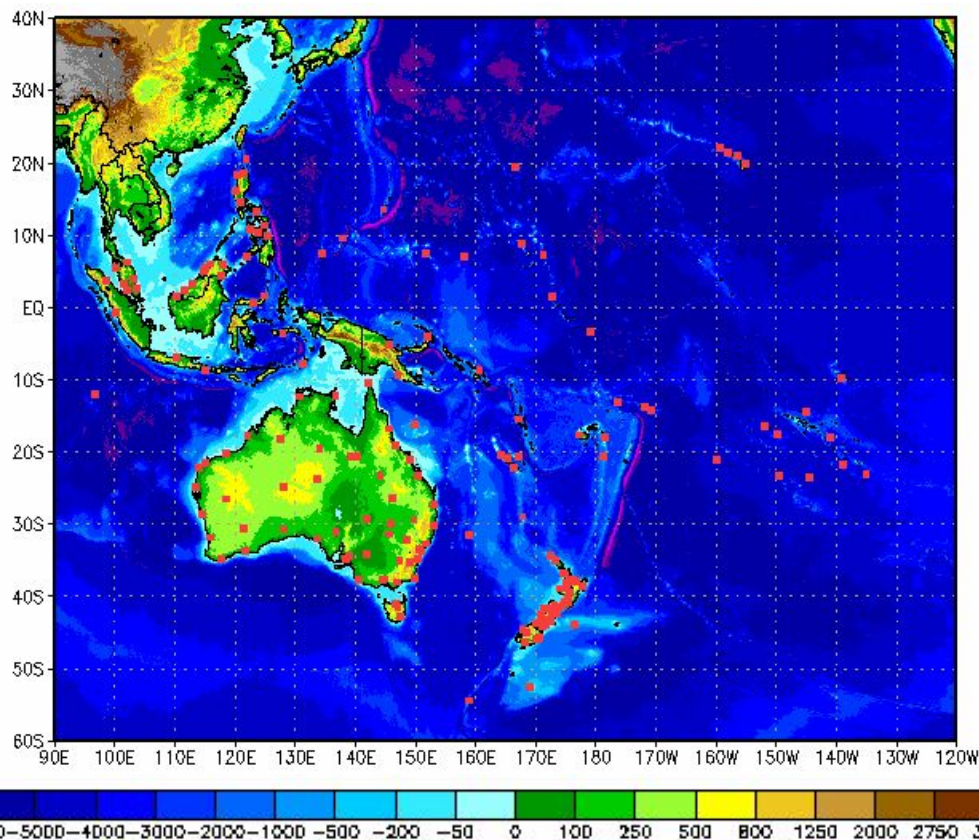
## Australien und Ozeanien

[Australien \(31\)](#)  
[Belau \(1\)](#)  
[Brunei \(1\)](#)  
[Cook-Inseln \(1\)](#)  
[Fidschi \(2\)](#)  
[Gambier-Inseln \(2\)](#)  
[Gesellschaftsinseln \(2\)](#)

[Hawaii \(2\)](#)  
[Indonesien \(8\)](#)  
[Karolinen \(2\)](#)  
[Kiribati \(1\)](#)  
[Marianen \(1\)](#)  
[Marquesas-Inseln \(2\)](#)

[Marshall \(1\)](#)  
[Neu-Kaledonien \(2\)](#)  
[Neuseeland \(10\)](#)  
[Papua-Neuguinea \(3\)](#)  
[Philippinen \(8\)](#)  
[Samoa \(2\)](#)

[Tuamuto-Archipel \(1\)](#)  
[Tubuai-Inseln \(2\)](#)  
[Tuvalu \(1\)](#)  
[Vanuatu \(1\)](#)  
[Wake-Insel \(1\)](#)  
[Wallis und Futuna \(1\)](#)



## Задания

**Группа №1.**

**Проанализировать климатограмму по плану.**

**Каждый ответ – на листочек. По настенной карте определить КП (помощник).**

**Группа №2.**

**Распределить три предложенные на:**

**Тропический засушливый,**

**Тропический влажный,**

**Умеренный.**

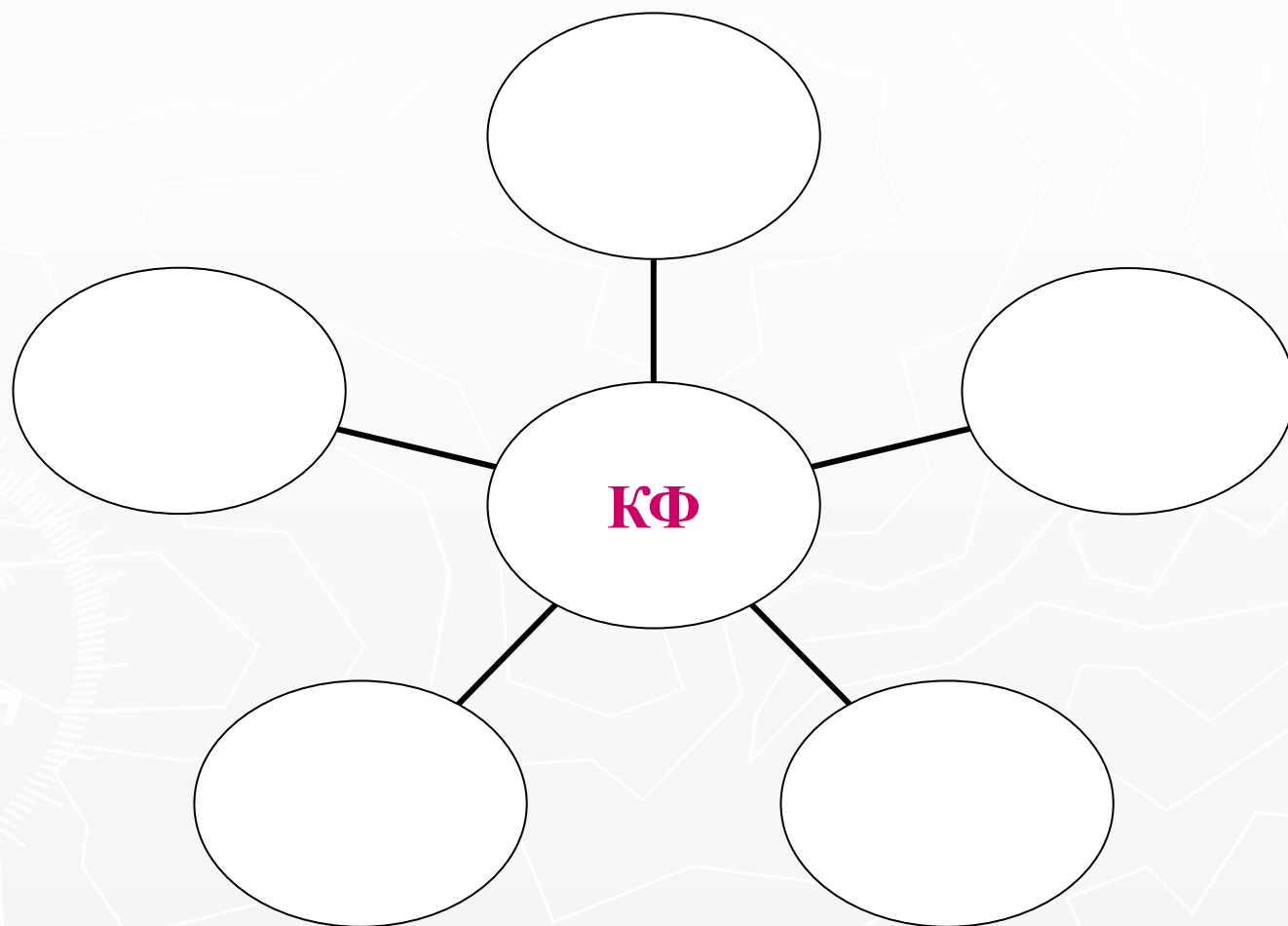
**Зная климатообразующие факторы.**

**Группа №3.**

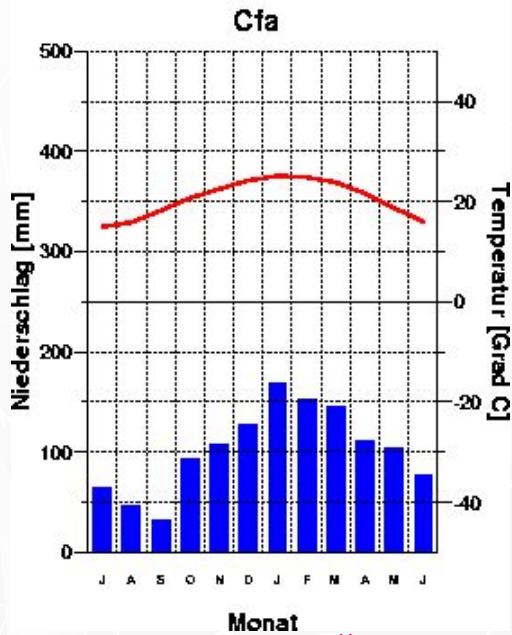
**Выбрать из 5 только те, которые принадлежат трем областям субтропического климатического пояса.**

**Объяснить.**

# Климатообразующие факторы (для второй и третьей групп)



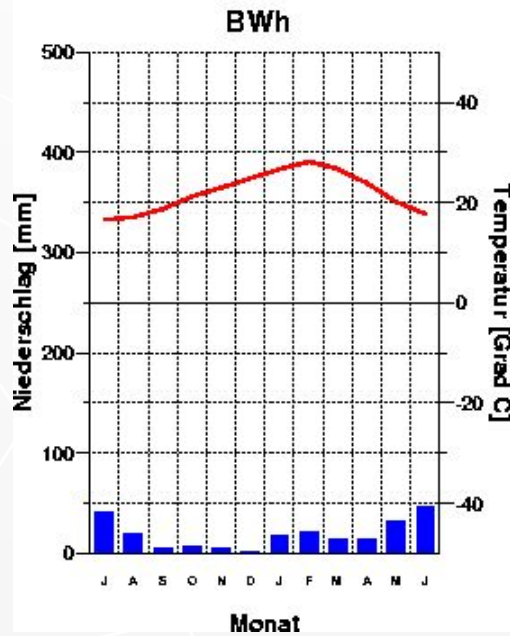
20.6 Grad C  
1230 mm



ТРОПИЧЕСКИЙ  
ВЛАЖНЫЙ

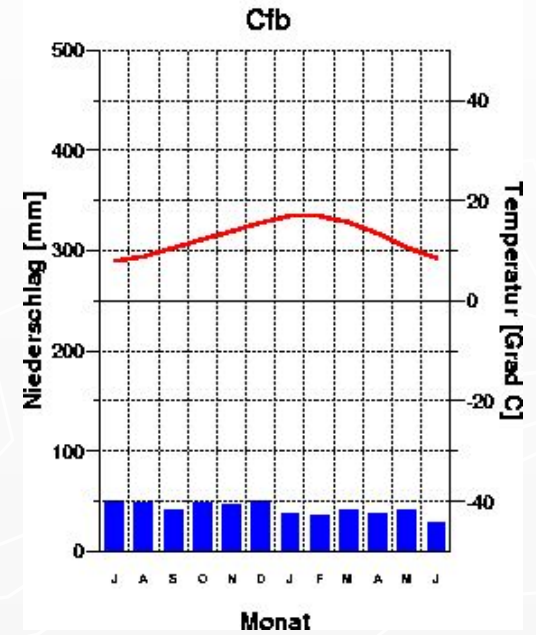
ТРОПИЧЕСКИЙ  
ПУСТЫННЫЙ

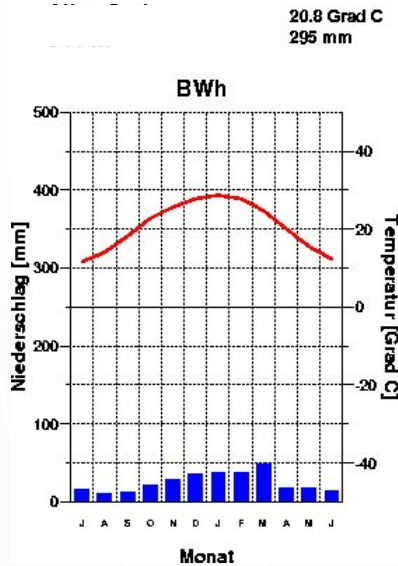
22.1 Grad C  
226 mm



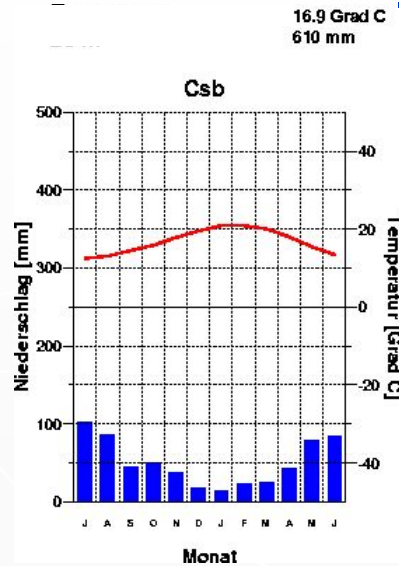
УМЕРЕННЫЙ

12.7 Grad C  
510 mm

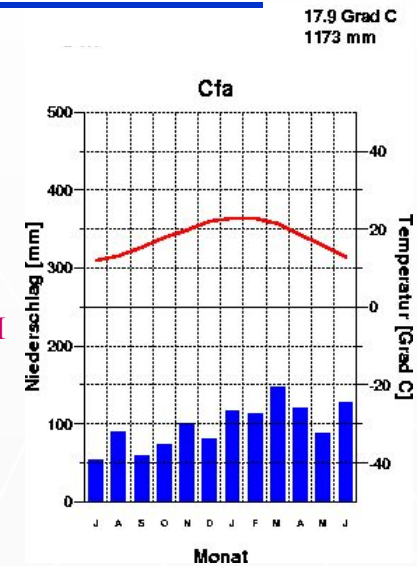




ТРОПИЧЕСКИЙ  
ПУСТЫННЫЙ

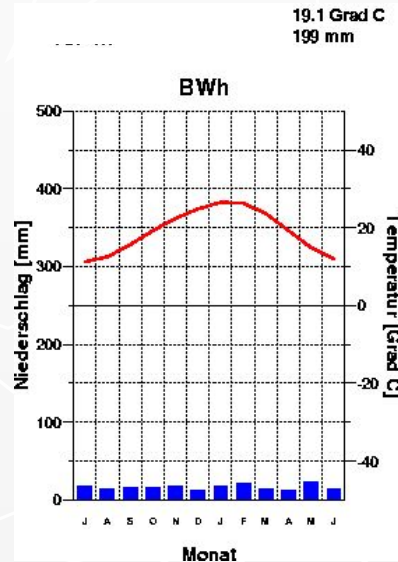
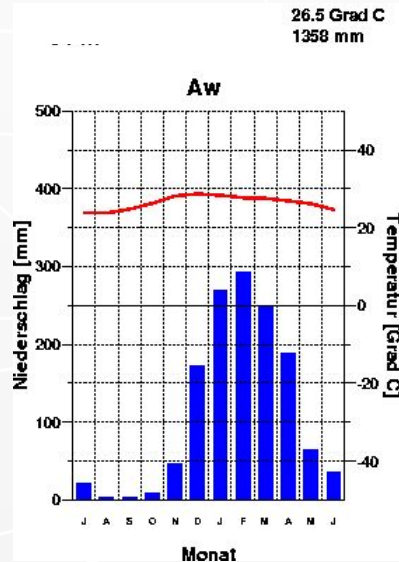


СУБТРОПИЧЕСКИЙ  
СРЕДИЗЕМНОМОРСКИЙ



СУБТРОПИЧЕСКИЙ С  
УМЕРЕННЫМ  
УВЛАЖНЕНИЕМ

СУБЭКВАТОРИАЛЬНЫЙ

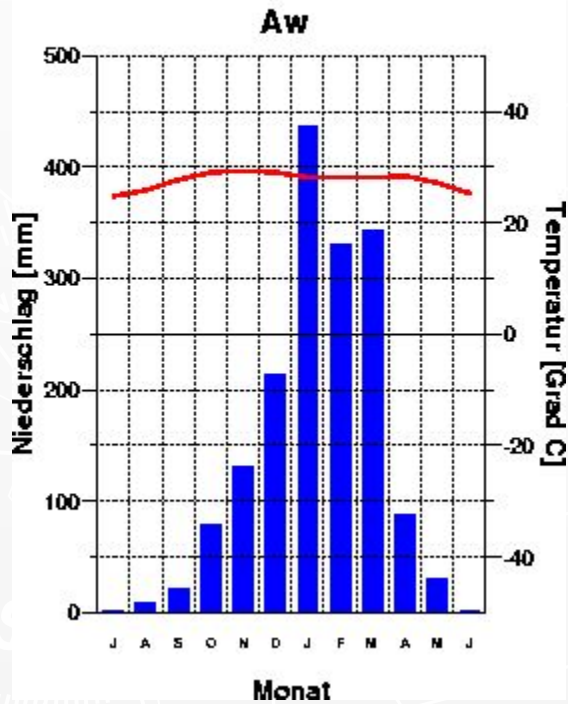


СУБТРОПИЧЕСКИЙ  
КОНТИНЕНТАЛЬНЫЙ

**СУБЭКВАТОРИАЛЬНЫЙ**

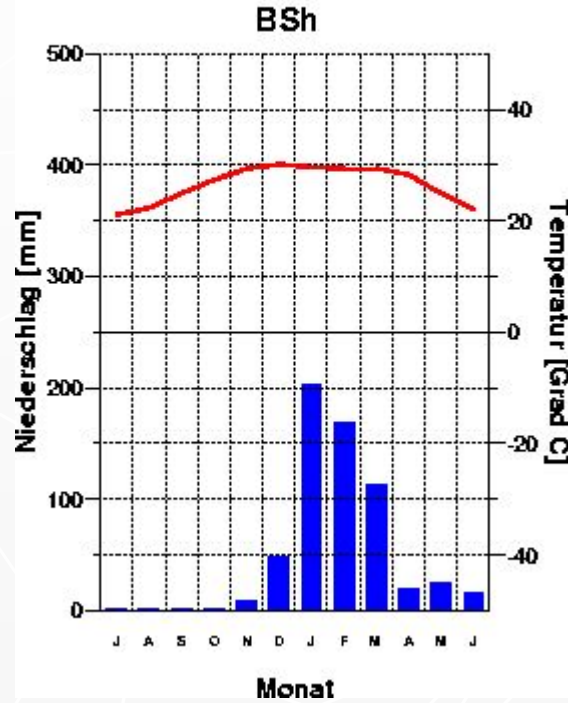
Darwin  
27 m

27.6 Grad C  
1686 mm



Broome  
9 m

26.7 Grad C  
611 mm

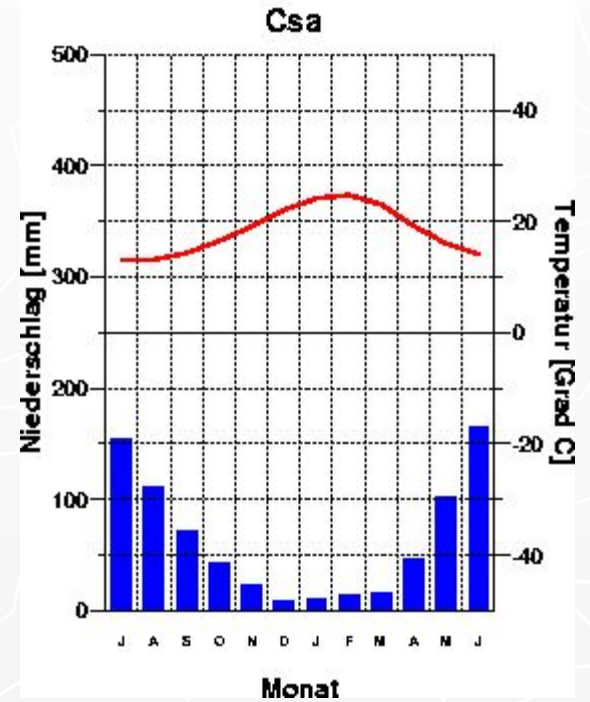


**СУБЭКВАТОРИАЛЬНЫЙ**

**СУБТРОПИЧЕСКИЙ**

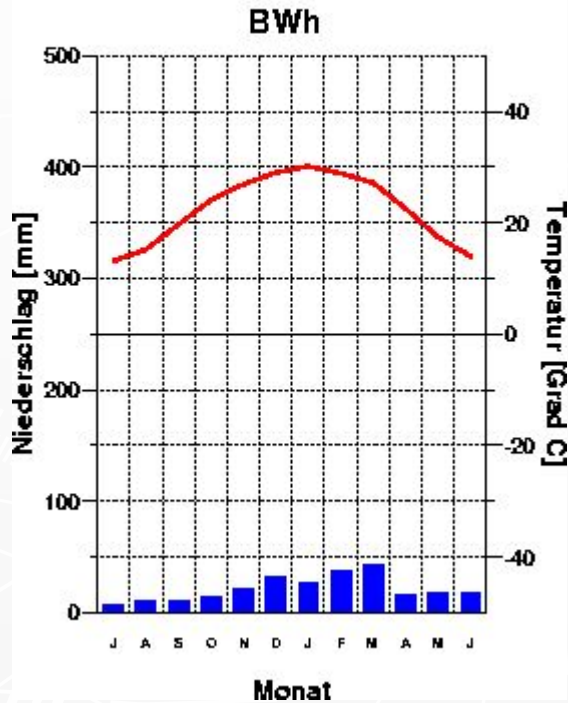
Perth  
12 m

18.3 Grad C  
769 mm



Giles  
599 m

22.5 Grad C  
256 mm

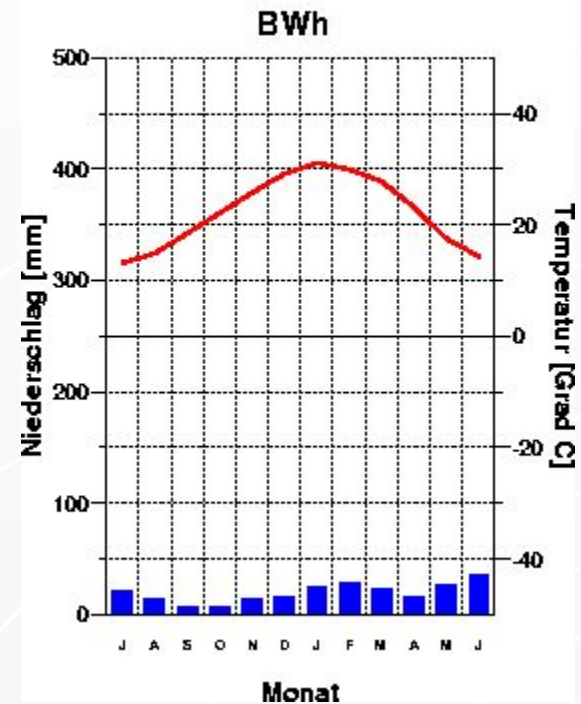


ТРОПИЧЕСКИЙ

ТРОПИЧЕСКИЙ

Meekatharra  
518 m

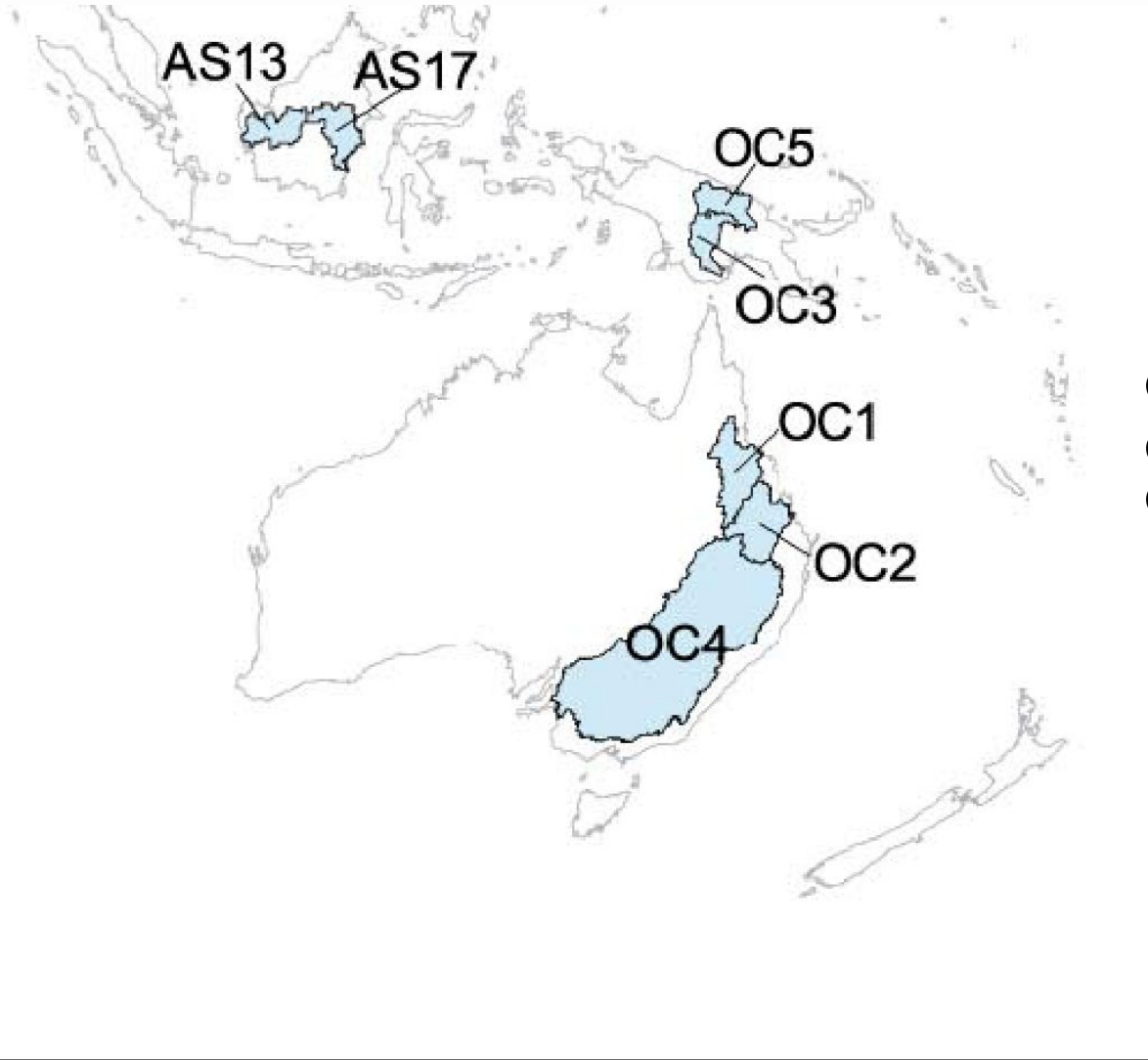
22.3 Grad C  
236 mm





[http://earthtrends.wri.org/maps\\_spatial/watersheds/index.php](http://earthtrends.wri.org/maps_spatial/watersheds/index.php) - сайт

Института мировых ресурсов



**OC1 Burdekin-Belyando**  
**OC2 Dawson**  
**OC4 Murray-Darling**

## Тест. Закончи предложение

1. Австралия (включая остров Тасмания) находится в следующих климатических поясах ...

Субэкват., троп., субтроп., умеренном

2. В центре Австралии осадков выпадает (много, мало) ..., потому что находится в ... кп.

Осадков мало, т. к. тропический КП

3. Температура высокая в течение года, выделяются зимой - сухой сезон, а летом – влажный. Это ... кп.

Субэкват.(лето – ЭВМ, зима – ТВМ)

4. На востоке материка много осадков, потому что ...  
(3-4 причины)

БВ хребет, В-Австр. теплое течение, пассаты,  
север – ЭВМ, а юг – УВМ ⇒ восток, осадки

5. Река Муррей (субтропический климатический пояс) имеет самый высокий уровень ... (лето или зима)

река Муррей(субтропич. КП) самый высокий уровень –  
зима – приход УВМ