

Климат и внутренние воды Австралии

Шишигина Елена Робертовна,
учитель географии,
высшая категория

- [Europa](#)
- [Asien](#)
- [Afrika](#)
- [N-Amerika](#)
- [M-Amerika](#)
- [S-Amerika](#)
- [Australien](#)
- [Antarktis](#)
- [Frames](#)
- [Alle Stationen](#)
- [Klimakarten](#)
- [Klimaklassifikation](#)
- [Infos](#)

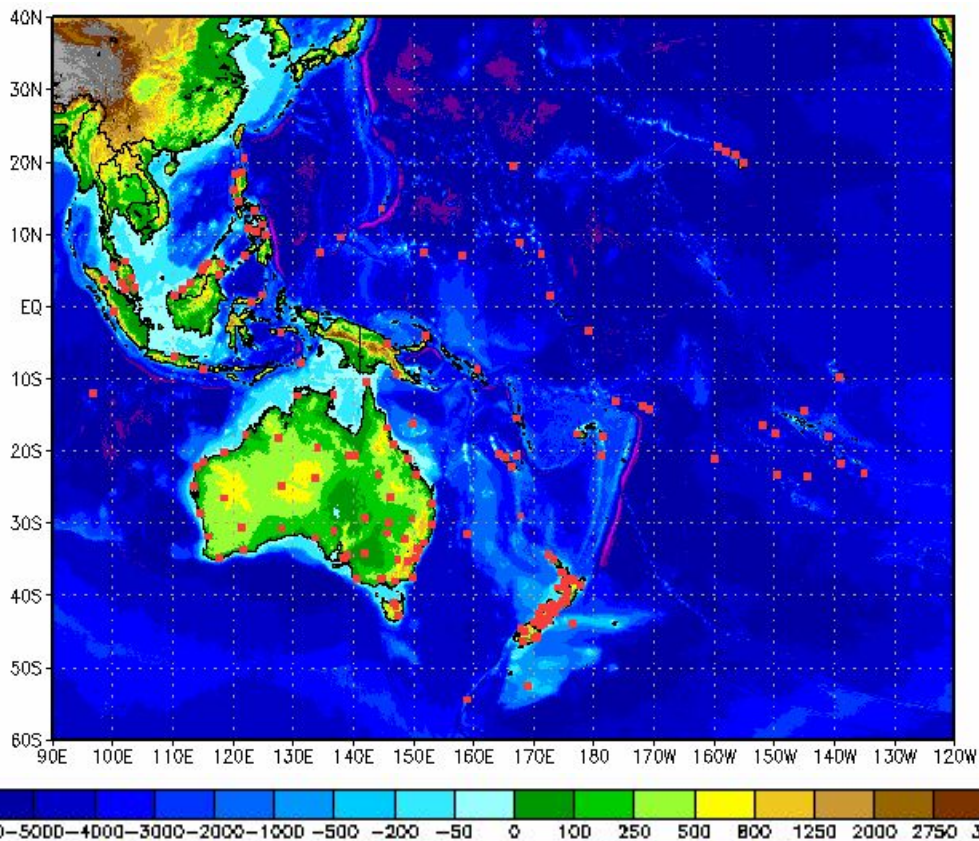
Australien und Ozeanien

- [Australien \(31\)](#)
- [Belau \(1\)](#)
- [Brunei \(1\)](#)
- [Cook-Inseln \(1\)](#)
- [Fidschi \(2\)](#)
- [Gambier-Inseln \(2\)](#)
- [Gesellschaftsinseln \(2\)](#)

- [Hawaii \(2\)](#)
- [Indonesien \(8\)](#)
- [Karolinen \(2\)](#)
- [Kiribati \(1\)](#)
- [Marianen \(1\)](#)
- [Marquesas-Inseln \(2\)](#)

- [Marshall \(1\)](#)
- [Neu-Kaledonien \(2\)](#)
- [Neuseeland \(10\)](#)
- [Papua-Neuguinea \(3\)](#)
- [Philippinen \(8\)](#)
- [Samoa \(2\)](#)

- [Tuamuto-Archipel \(1\)](#)
- [Tubuai-Inseln \(2\)](#)
- [Tuvalu \(1\)](#)
- [Vanuatu \(1\)](#)
- [Wake-Insel \(1\)](#)
- [Wallis und Futuna \(1\)](#)



Задания

Группа №1.

Проанализировать климатограмму по плану.

Каждый ответ – на листочек. По настенной карте определить КП (помощник).

Группа №2.

Распределить три предложенные на:

Тропический засушливый,

Тропический влажный,

Умеренный.



зная климатообразующие факторы.

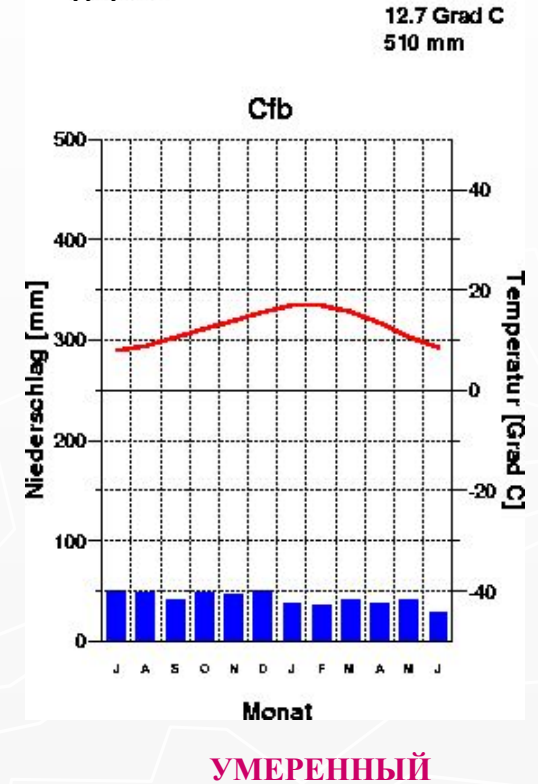
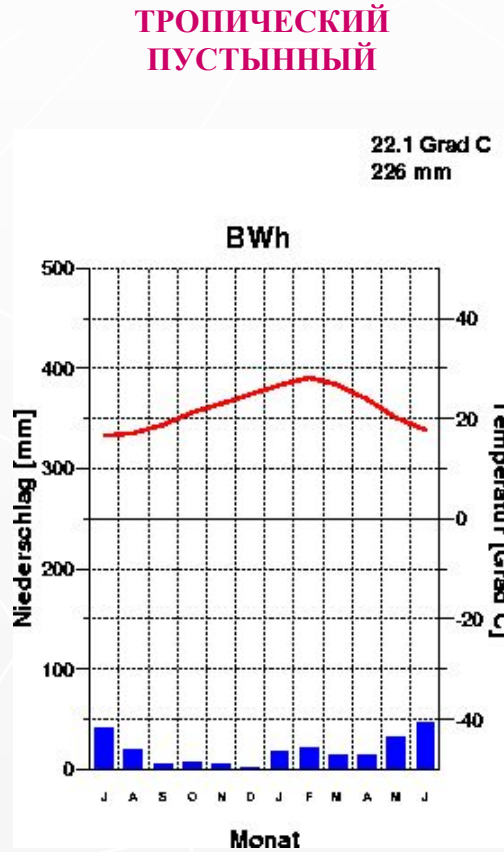
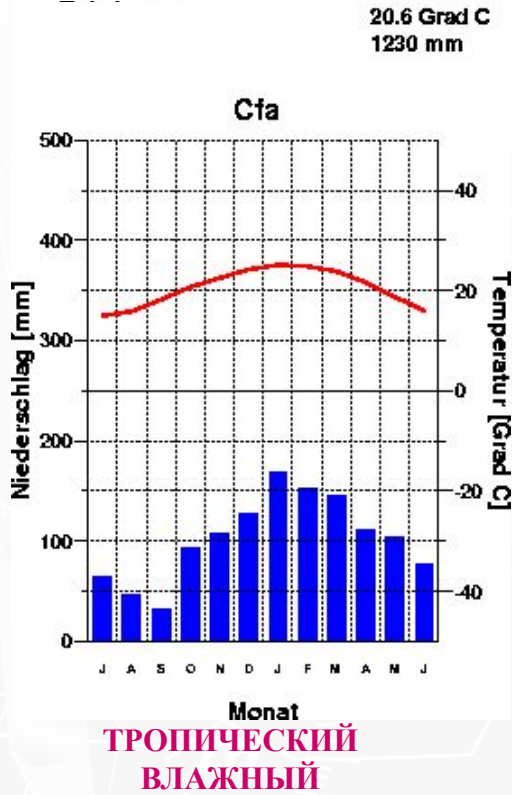
Группа №3.

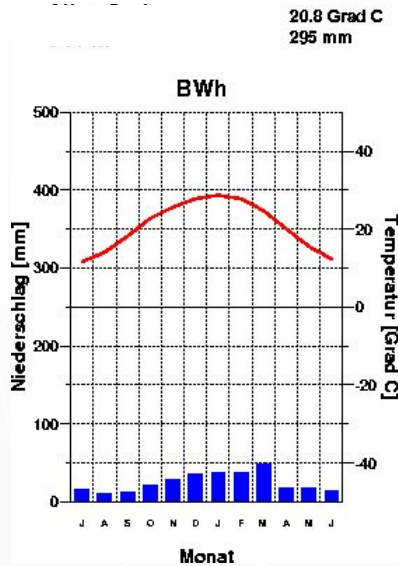
Выбрать из 5 только те, которые принадлежат трем областям субтропического климатического пояса.

Объяснить.

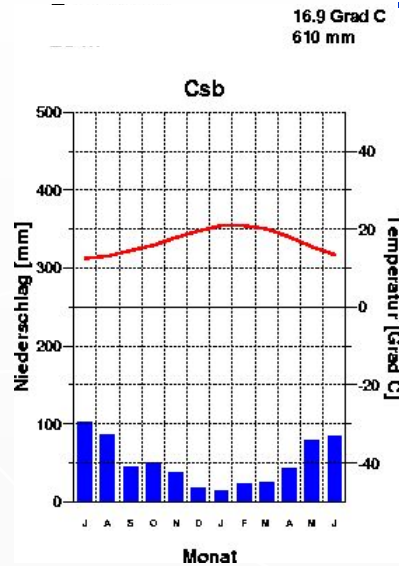
Климатообразующие факторы (для второй и третьей групп)



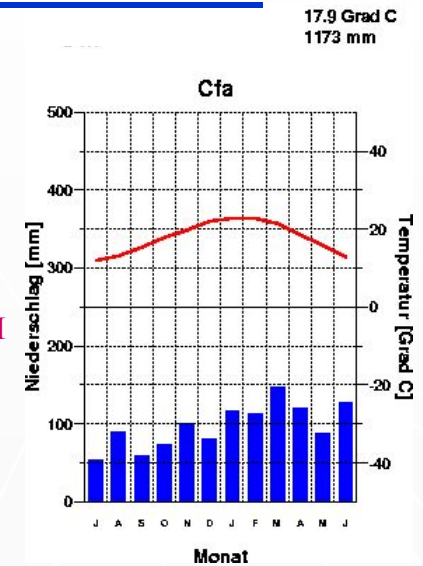




ТРОПИЧЕСКИЙ
ПУСТЫННЫЙ

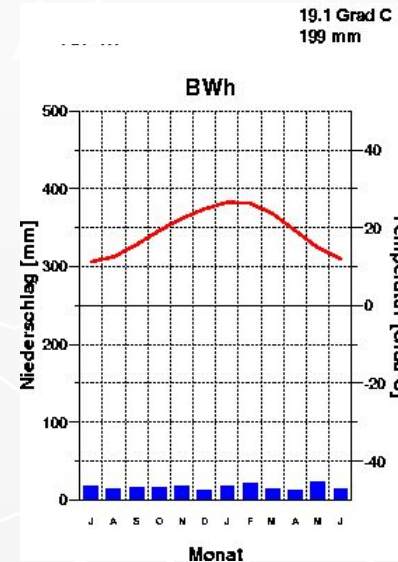
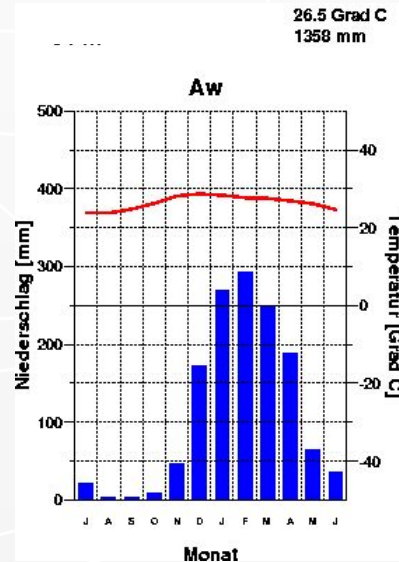


СУБТРОПИЧЕСКИЙ
СРЕДИЗЕМНОМОРСКИЙ



СУБТРОПИЧЕСКИЙ С
УМЕРЕННЫМ
УВЛАЖНЕНИЕМ

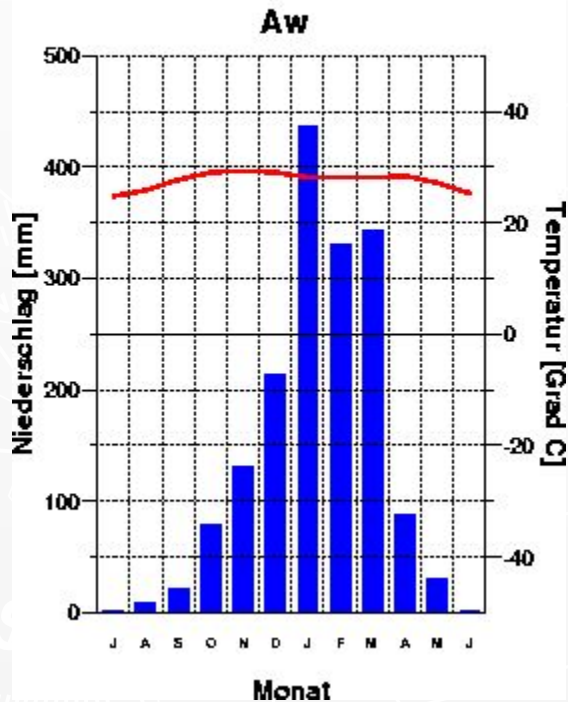
СУБЭКВАТОРИАЛЬНЫЙ



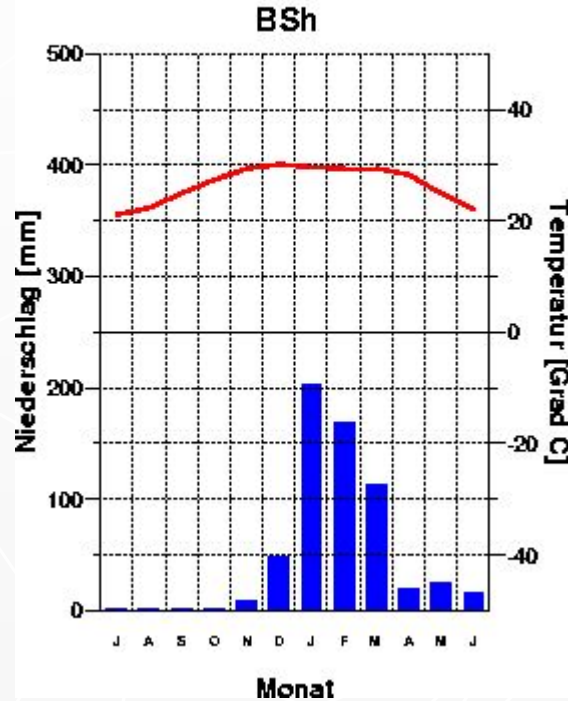
СУБТРОПИЧЕСКИЙ
КОНТИНЕНТАЛЬНЫЙ

СУБЭКВАТОРИАЛЬНЫЙ

Darwin
27 m
27.6 Grad C
1686 mm



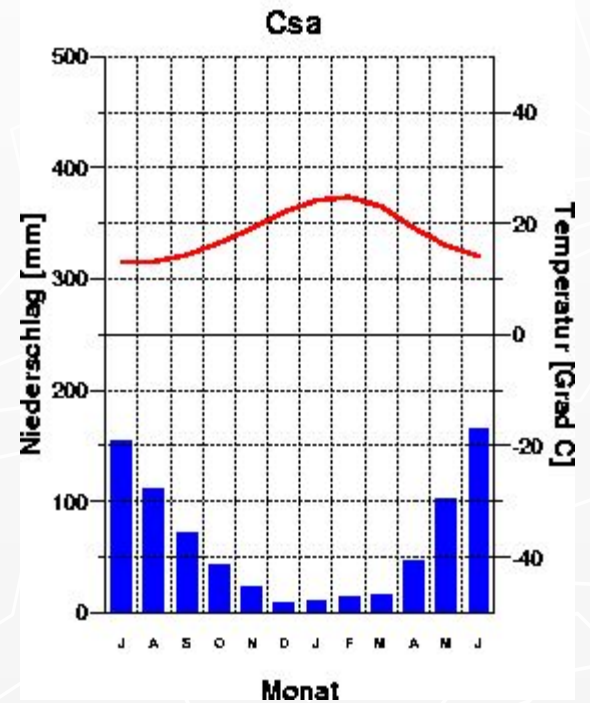
Broome
9 m
26.7 Grad C
611 mm



СУБЭКВАТОРИАЛЬНЫЙ

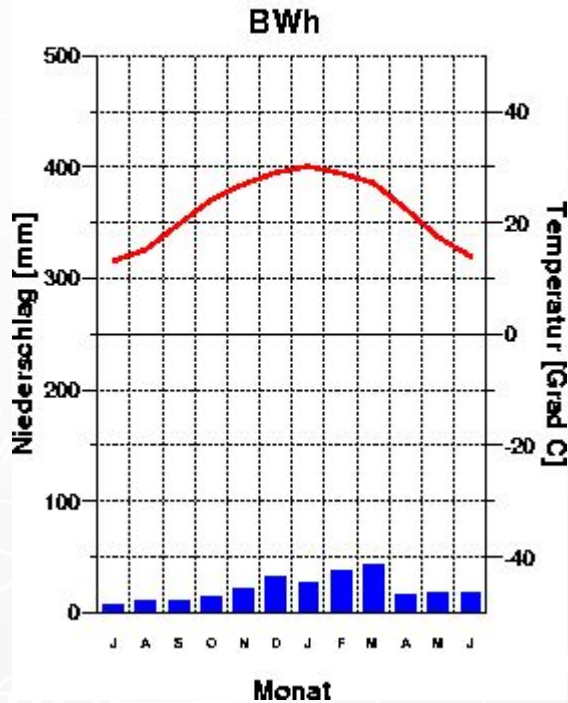
СУБТРОПИЧЕСКИЙ

Perth
12 m
18.3 Grad C
769 mm



Giles
599 m

22.5 Grad C
256 mm

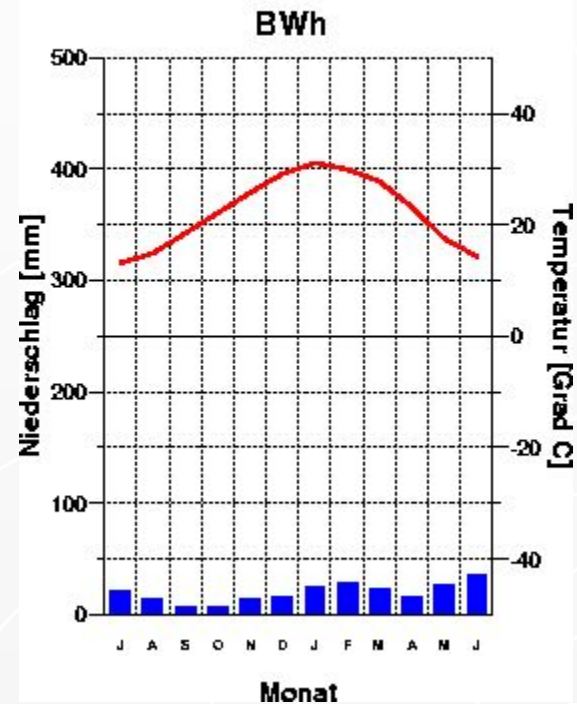


ТРОПИЧЕСКИЙ

ТРОПИЧЕСКИЙ

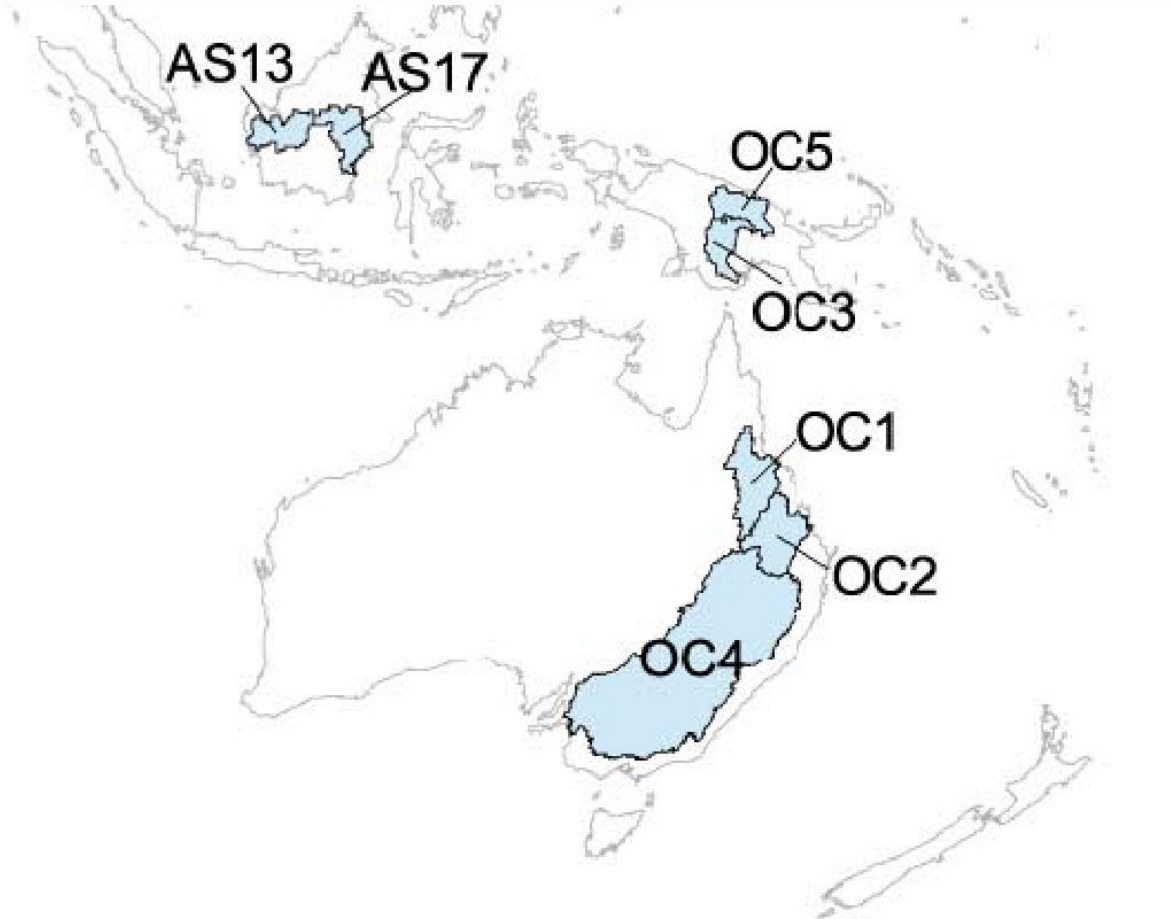
Meekatharra
518 m

22.3 Grad C
236 mm



http://earthtrends.wri.org/maps_spatial/watersheds/index.php - сайт

Института мировых ресурсов



OC1 Burdekin-Belyando
OC2 Dawson
OC4 Murray-Darling

Тест. Закончи предложение

1. Австралия (включая остров Тасмания) находится в следующих климатических поясах ...

Субэкват., троп., субтроп., умеренном

2. В центре Австралии осадков выпадает (много, мало) ..., потому что находится в ... кп.

Осадков мало, т. к. тропический КП

3. Температура высокая в течение года, выделяются зимой - сухой сезон, а летом – влажный. Это ... кп.

Субэкват.(лето – ЭВМ, зима – ТВМ)

4. На востоке материка много осадков, потому что ... (3-4 причины)

БВ хребет, В-Австр. теплое течение, пассаты,
север – ЭВМ, а юг – УВМ ⇒ восток, осадки

5. Река Муррей (субтропический климатический пояс) имеет самый высокий уровень ... (лето или зима)

река Муррей(субтропич. КП) самый высокий уровень – зима – приход УВМ