



АЗИЯ. ЗАГАЛЬНИЙ ОГЛЯД. СКЛАД РЕГІОНУ. РІЗНОМАНІТНІСТЬ КРАЇН.

Миколаївська гімназія № 41
Вчитель географії, Слободян Т.
Г

ТЕМА: АЗІЯ. ЗАГАЛЬНИЙ ОГЛЯД. СКЛАД РЕГІОНУ. РІЗНОМАНІТНІСТЬ КРАЇН.



План уроку

- *Склад регіону.*
- *Географічне положення*
- *Населення*

Мета уроку:

**познайомитись зі складом регіону ,
виділити особливості географічного положення та особливості населення Азії**

Загальні відомості про регіон



Площа – **44,4** млн. км²
Кількість населення – **3,95**
млрд. чол. – **60,7%** світу

Склад регіону : **48** держав
(без Росії)

- **47** суверенних держав
- **1** залежна територія

Палестинські території
(окуповані Ізраїлем)

Субрегіони Азії (без Росії)

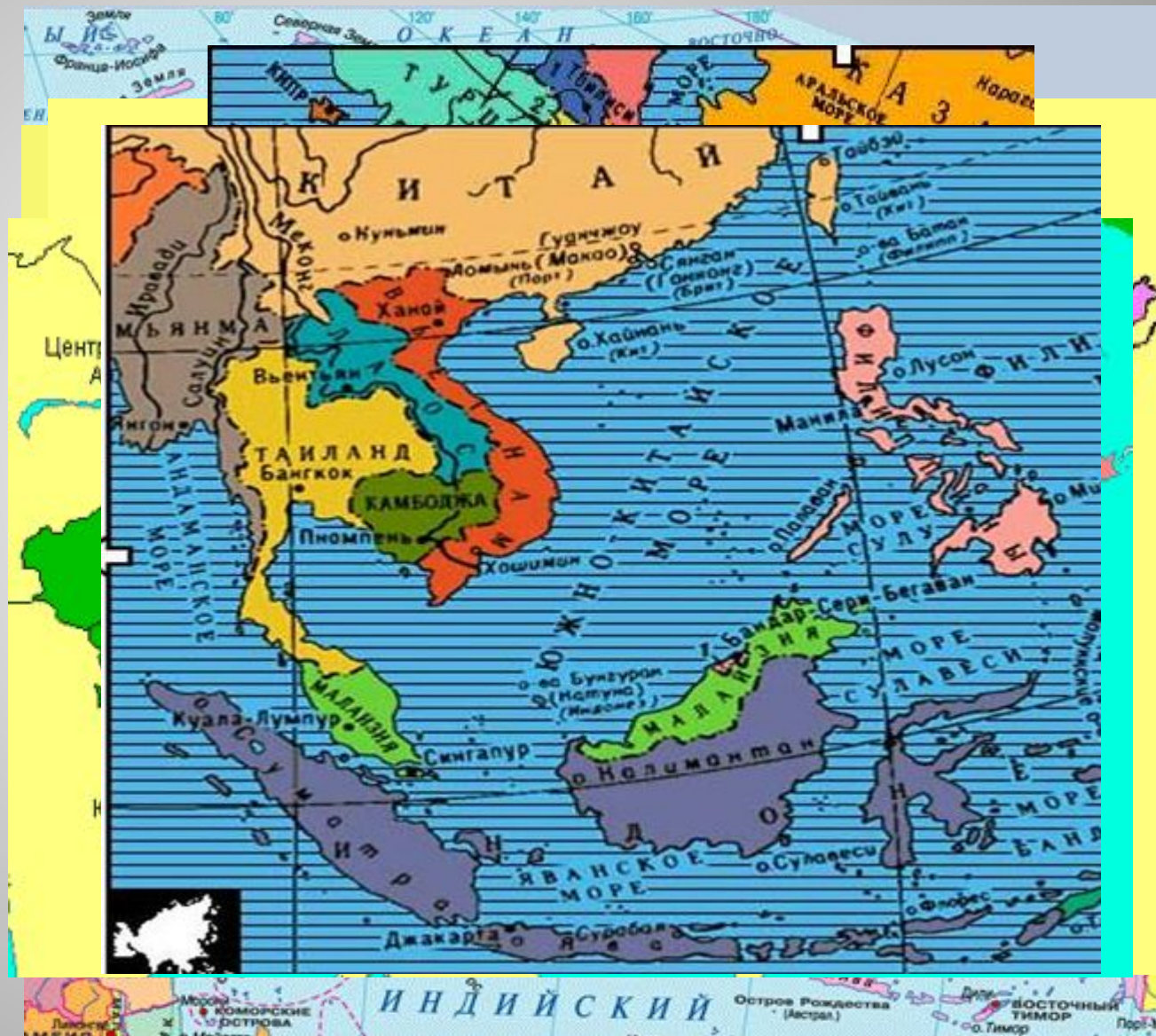
Південна
Азія

Південно –
Західна Азія

Центральна
Азія

Південно –
Східна Азія

Східна Азія



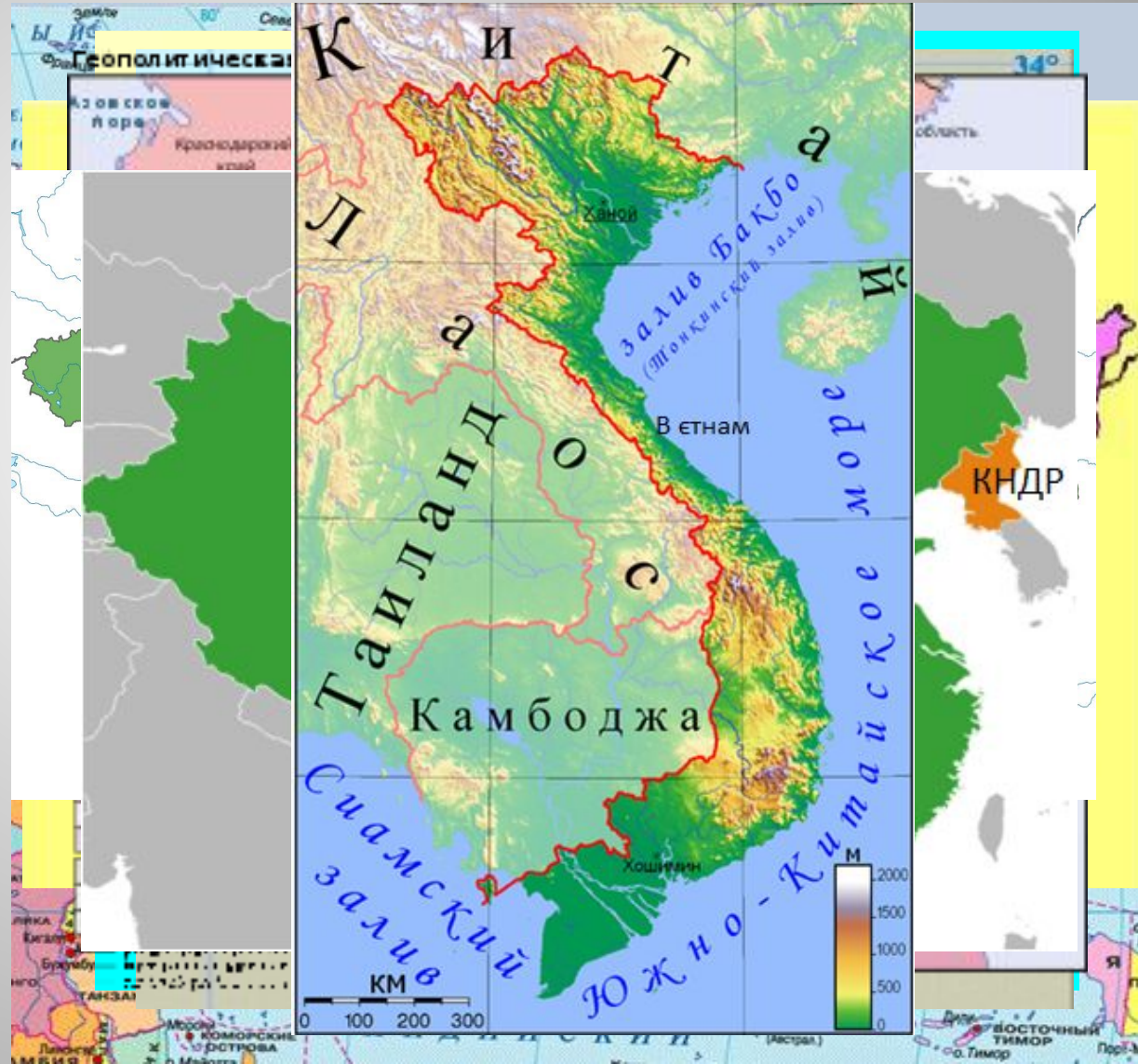
Згадайте основні
типи країн світу !

Рівень економічного розвитку

Високорозвинуті
країни - 2

Країни з перехідною
економікою - 9

Країни планової
економіки - 3



Використовуємо
карту атласу

Рівень економічного розвитку

Країни, що розвиваються - 33

Нафтодобувні - 8

Нові індустріальні
країни - 7

Країни середніх
можливостей - 8

Найменш розвинуті
країни - 10



Використовуємо
карту атласу

Державний лад

*Які форми правління
визнаєте?*

*Які форми адміністративно –
територіального устрою
існують у світі?*

Республіки – 34

Монархії – 13
-абсолютні – 7

- конституційні 6

*Китай
Індія
Монголія...*

*Саудівська
Аравія
Кувейт ...*

*Японія
Таїланд
Малайзія...*

*Китай
Японія
Монголія ...*

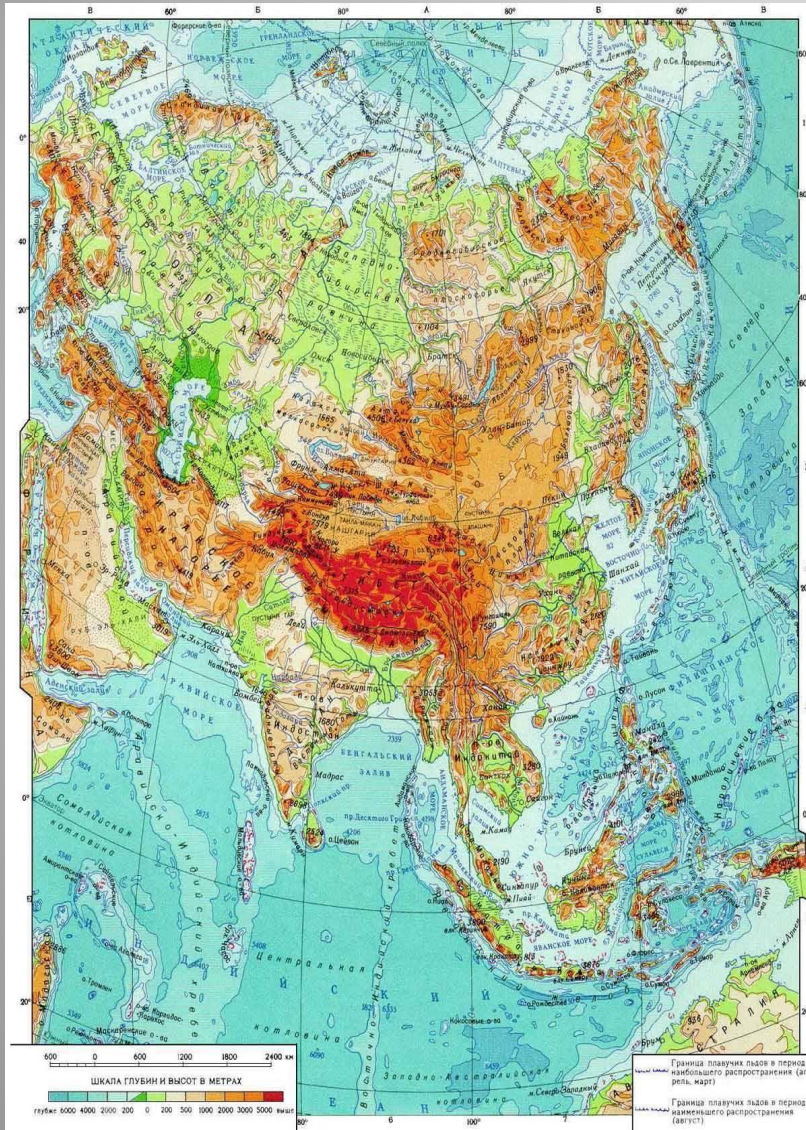
*Індія,
Пакистан,
Малайзія ...*

**Унітарні
держави – 38**

Федерації - 9

*Висновок: серед країн Азії
переважають республіки та
унітарні держави*

Географічне положення



Особливості ЕГП

+ Держави розташовані на перетині важливих транспортних шляхів

+ Більшість країн мають приморське положення

+ Наближеність до сировинних баз Австралії

+ Економічні зв'язки з країнами Америки

- Зони конфліктів та екологічних катастроф

Населення Азії

Згадайте основні особливості I та II типів відтворення населення

Другий тип відтворення
 $24n - 8c + 16п.п.$
Мах – 49 п.п. в Омані

Перший тип відтворення
Японія – 2 п.п.

Міграції населення

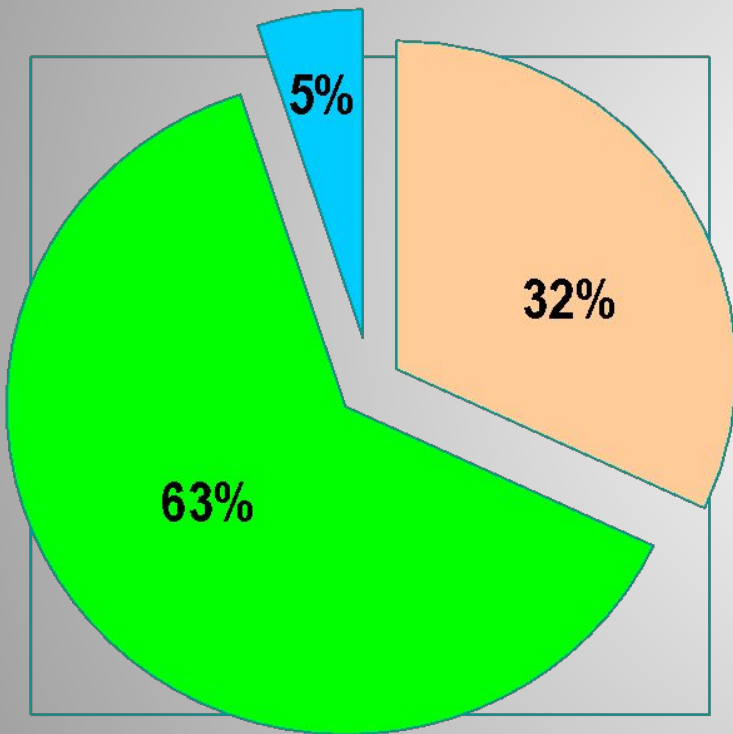
? Чим можна пояснити різні рівні природного приросту азійських держав?
Які проблеми викликає другий тип відтворення? Якими заходами демографічної політики в країнах регіону регулюють рівень народжуваності

?
Які види міграцій ви знаєте?
Які міграції впливають на зміну кількості населення країни? Назвіть причини виникнення зовнішніх міграцій

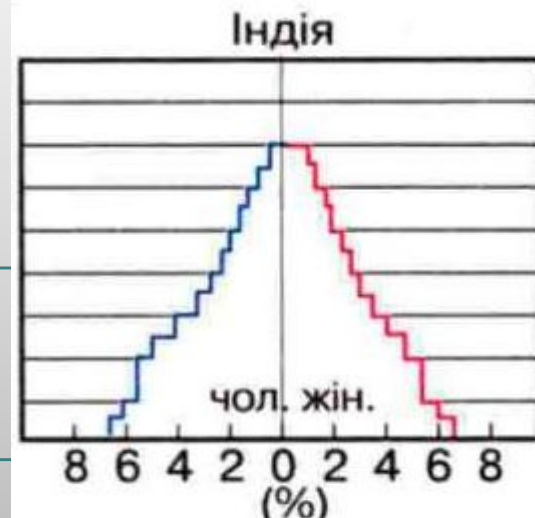
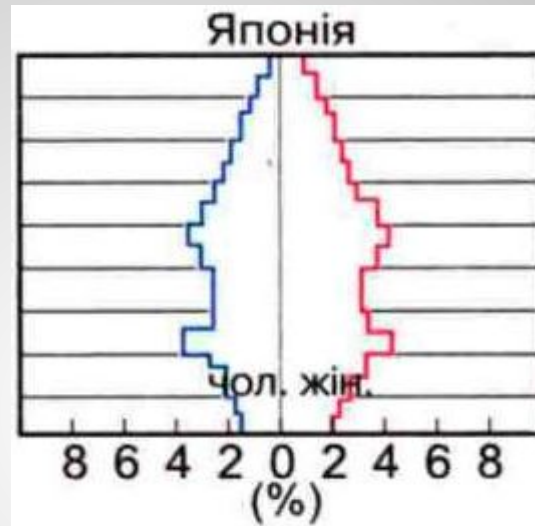
-Екс
зат
-Рел
Пак
-Нап
-Пол
Афа
-Екс

? Які основні ознаки вікової та статеві структури країн з I та II типом відтворення ?

Вікова та статеві структура населення



- діти до 16 років
- працездатне населення
- старше 60 років



Національний склад

~ 1100 народів

Багатонаціональні
(майже всі)

Двонаціональна

Однонаціональні
країни

Індія > 150 націй;
Індонезія ~ 150;
Філіппіни ~ 75 націй;
Китай, В'єтнам > 50
націй

Кіпр (греки -
кіпріоти, турки
– кіпріоти)

Арабські держави
Пд- Зх Азії, Японія,
Вірменія, Бангладеш,
КНДР, Республіка
Корея, Тайвань



Робота з атласом


Мовний склад

Китайсько тибетська сім'я
(китайська, мови народів Тибету,
М'янми, Бутану)

Індоевропейська
(мови народів Індії, вірменська,
російська, перська, пушту)


Алтайська
(турецька, казахська, якутська,
монгольська...)

Семітсько хамітська
(арабська мова)
Інші (японська, грузинська...)



Азія – батьківщина всіх релігій

Буддизм



Іслам

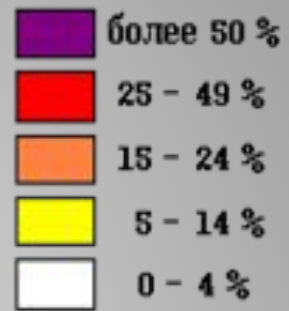
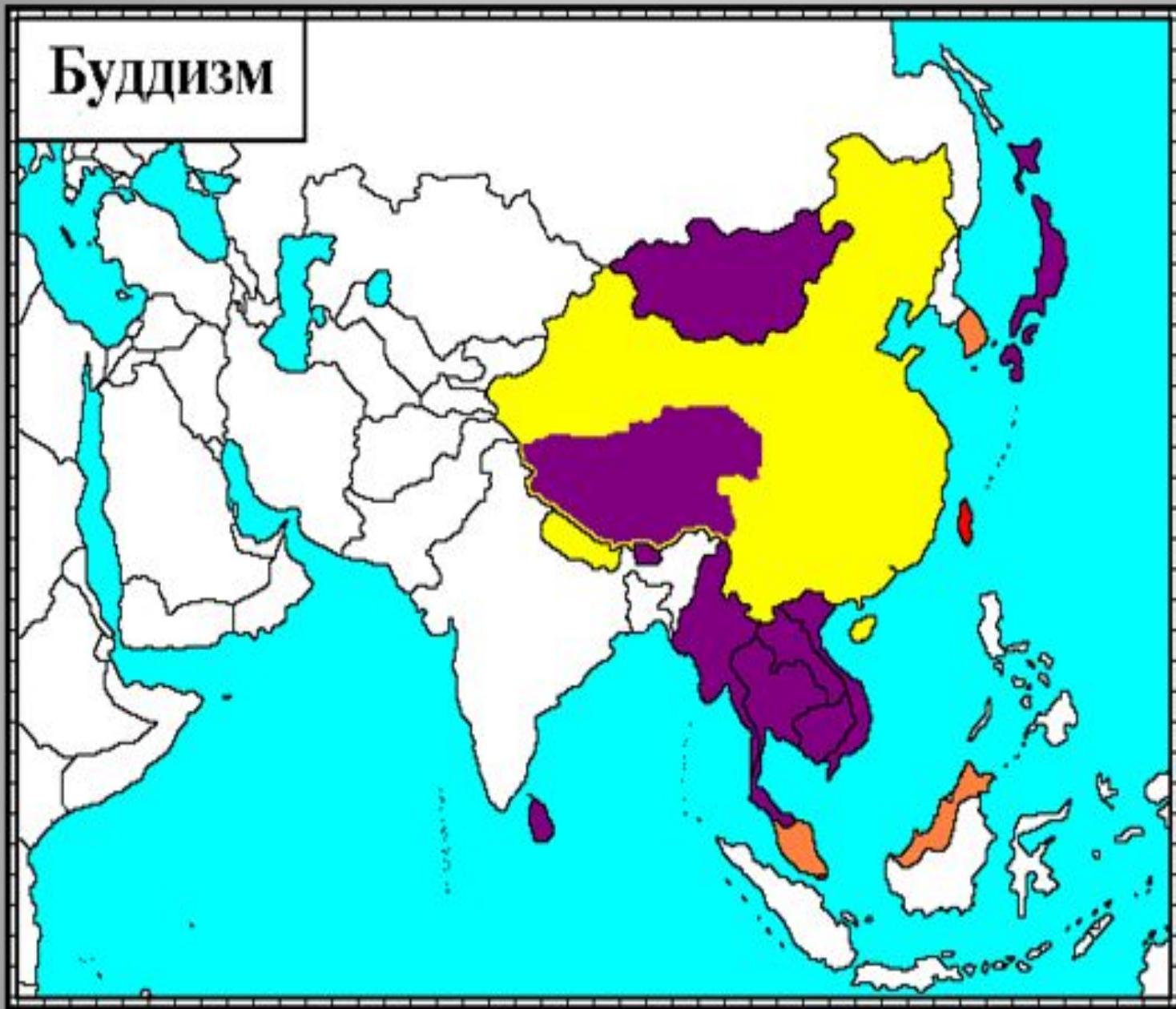


Християнство

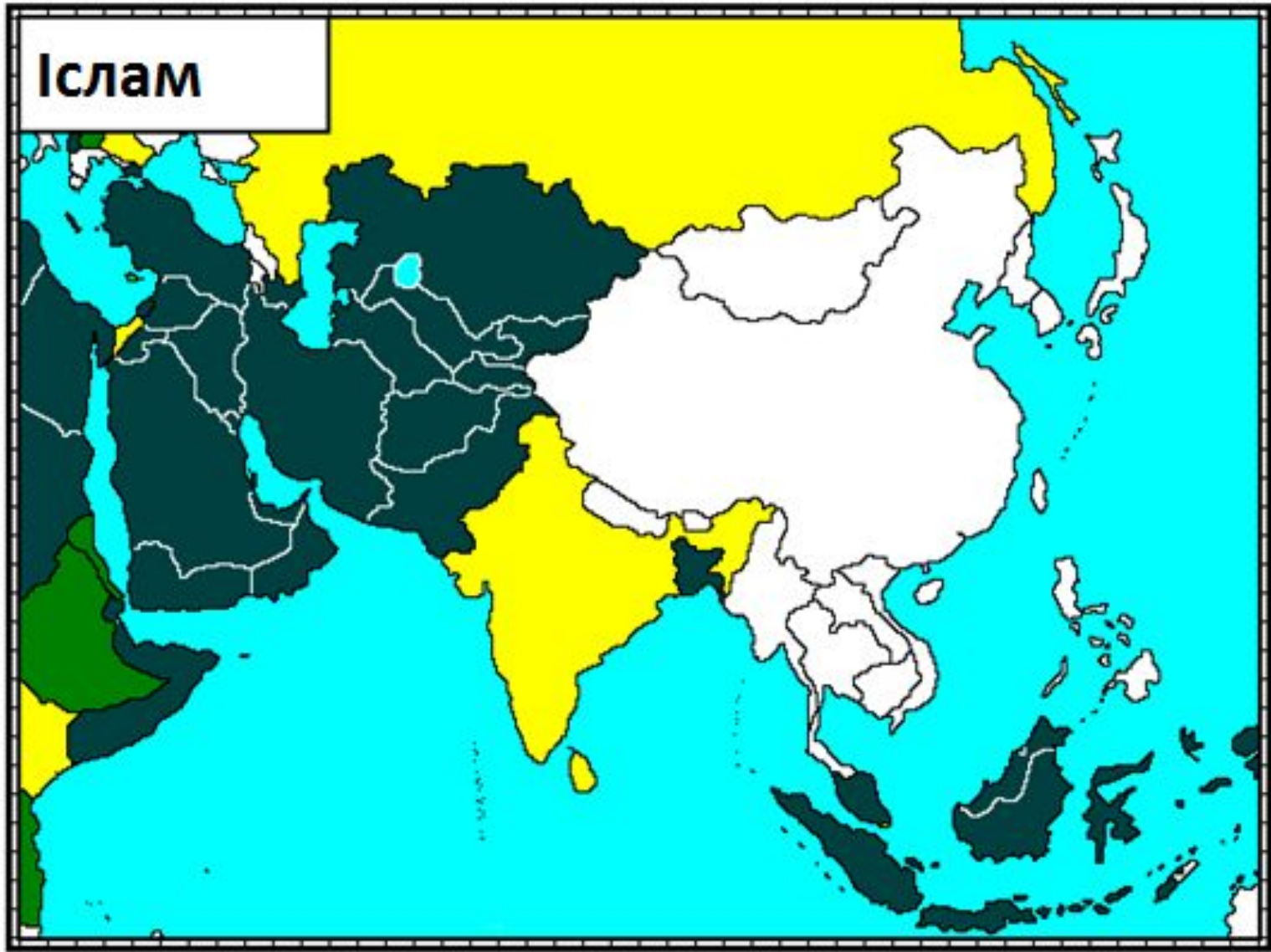


Національні релігії
(іудаїзм, індуїзм, синтоїзм,
конфуціанство, даосизм)

Буддизм



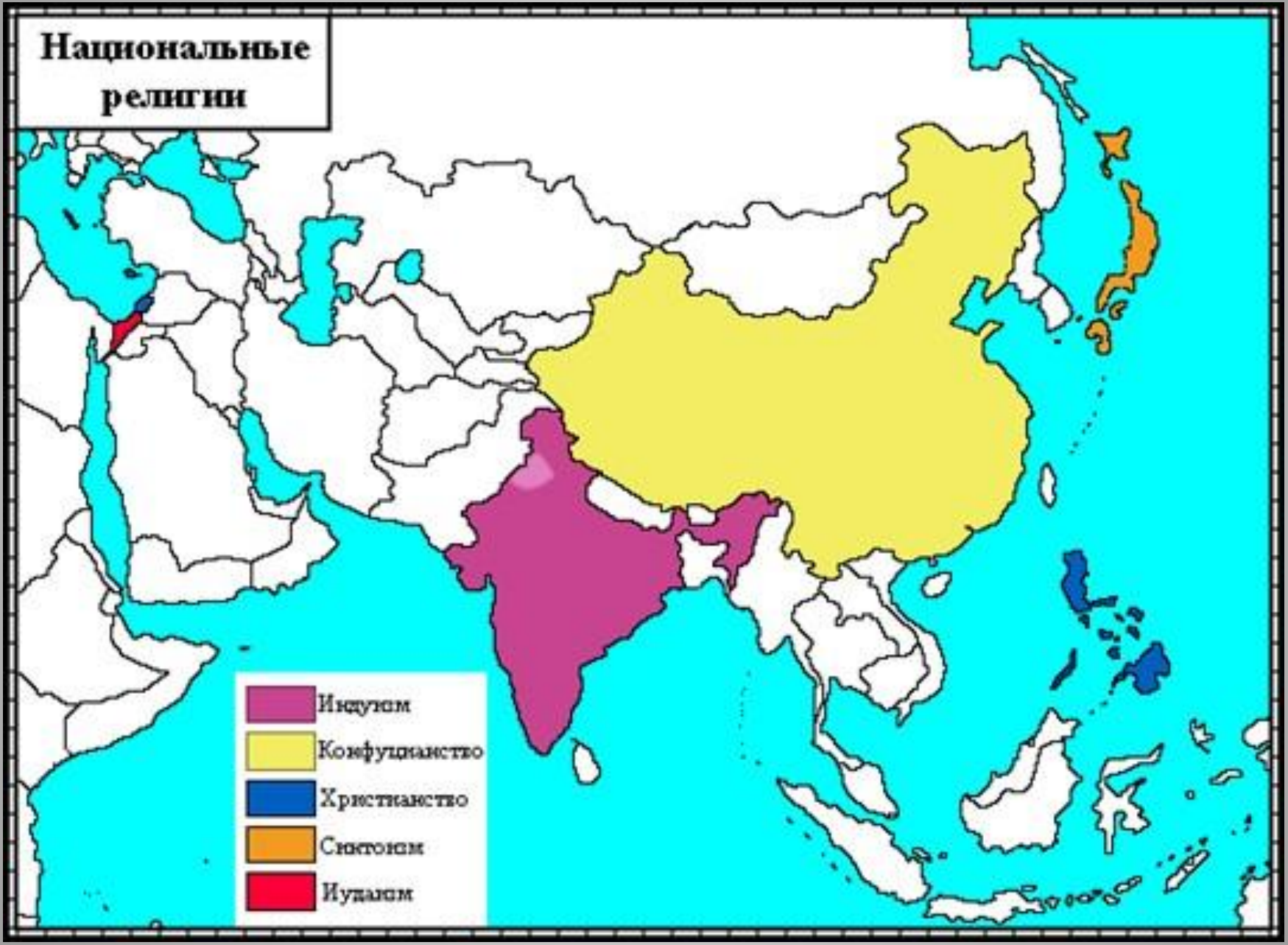
Ислам



Dark Green	более 50 %
Green	25 - 49 %
Light Green	15 - 24 %
Yellow	5 - 14 %
White	0 - 4 %



Национальные религии

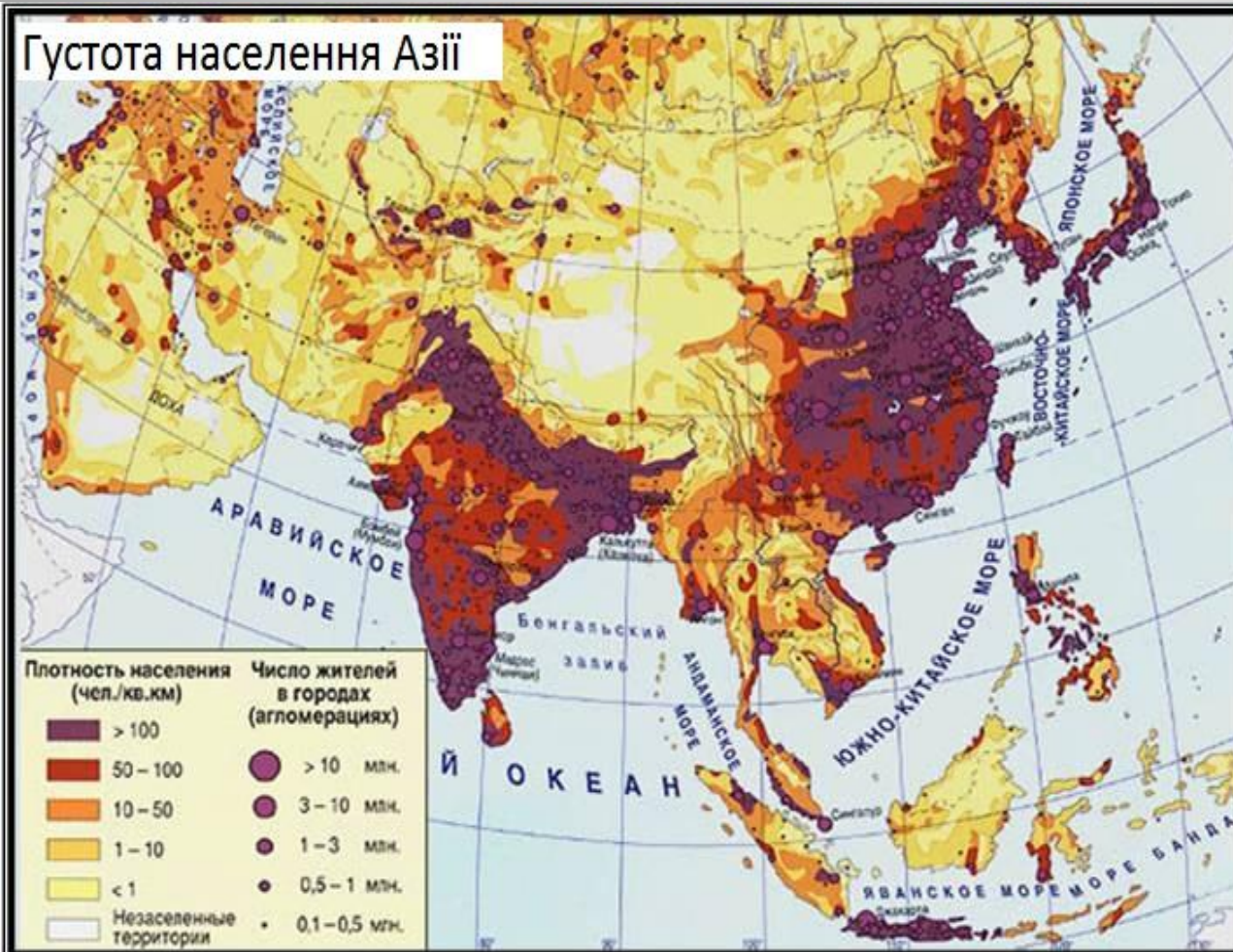


Розміщення населення

Середня густина населення – 86 чол/км², густина сільського населення найбільша у світі – понад 60 чол/км²

?

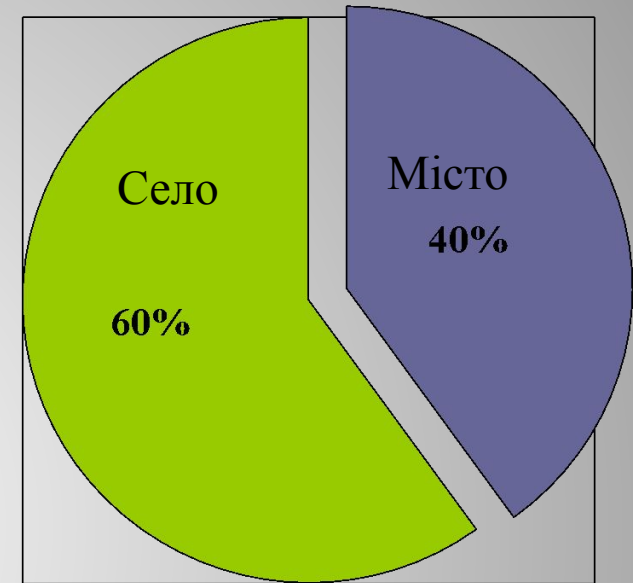
Користуючись картою “Розміщення населення” назвіть регіони з найбільшою та найменшою густиною населення



1. Китай - 1,3 млрд. чол.
2. Индия - 1 млрд. чол.
3. Индонезия - 200 млн.
4. Бангладеш - 150 млн.
5. Пакистан - 140 млн.
6. Япония - 125 млн.

Розміщення населення

Більшість країн Азії притаманні середній рівень урбанізації та дуже високі темпи приросту міського населення. У країна, що розвиваються, темпи урбанізації випереджають темпи приросту промисловості, будівництва та сфери послуг, тому виникає явище **хибної урбанізації**



Рівні урбанізації

Сінгапур – 100%
Кувейт – 97%
Ізраїль – 91% Японія
- 80%
Афганістан – 20%
Оман – 13%
Бутан – 6%



Найбільші міста Азії



Токайдо 70 млн.чол



Шанхай 18,9 млн.чол



Стамбул 16,8 млн.чол



Карачі 18,1 млн.чол



Мумбай 13,9 млн.чол



Дакка 12,7 млн.чол

ПЕРЕВІР СЕБЕ

1. Який тип держав за рівнем економічного розвитку переважає в Азії?

- А) розвинуті країни; Б) Країни, що розвиваються ;
В) країни планової економіки ; Г) країни з перехідною економікою.

2. Виберіть з названих держав Азії монархії

- А) Японія; Б) Індія; В) Китай; Г) Саудівська Аравія; Д) Туреччина; Е) Кувейт

3. Які з названих держав є федеративними?

- А) Індія; Б) Індонезія; В) Китай; Г) Малайзія.

4. За національним складом населення більшості країн Азії є:

- А) однонаціональним; Б) двонаціональним; В) багатонаціональним.

5. Які з релігій поширених у країнах Азії, є національними?

- А) Іслам; Б) Індуїзм; В) Іудаїзм; Г) Християнство; Д) Конфуціанство

6. Виберіть характерні ознаки демографічної ситуації в Азії

- А) “ Демографічний вибух ”
Б) Перший тип відтворення
В) депопуляція в окремих країнах
Г) Другий тип відтворення
Д) “ Старіння нації”
Е) Надлишок трудових ресурсів

Відповідь

ь



ПЕРЕВІР СЕБЕ

1. Який тип держав за рівнем економічного розвитку переважає в Азії?

- А) розвинуті країни; Б) Країни, що розвиваються ;
В) країни планової економіки ; Г) країни з перехідною економікою.

2. Виберіть з названих держав Азії монархії

- А) Японія; Б) Індія; В) Китай; Г) Саудівська Аравія; Д) Туреччина; Е) Кувейт

3. Які з названих держав є федеративними?

- А) Індія; Б) Індонезія; В) Китай; Г) Малайзія.

4. За національним складом населення більшості країн Азії є:

- А) однонаціональним; Б) двонаціональним; В) багатонаціональним.

5. Які з релігій поширених у країнах Азії, є національними?

- А) Іслам; Б) Індуїзм; В) Іудаїзм; Г) Християнство; Д) Конфуціанство

6. Виберіть характерні ознаки демографічної ситуації в Азії

- А) “ Демографічний вибух ”
Б) Перший тип відтворення
В) депопуляція в окремих країнах
Г) Другий тип відтворення
Д) “ Старіння нації ”
Е) Надлишок трудових ресурсів

