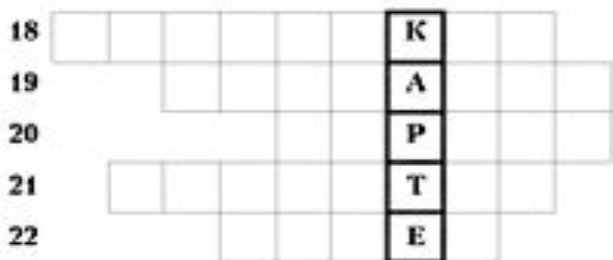

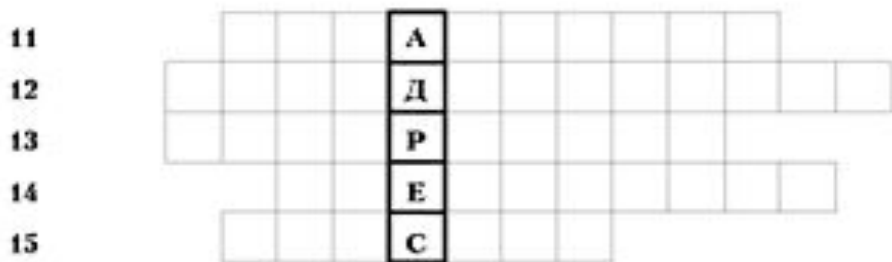
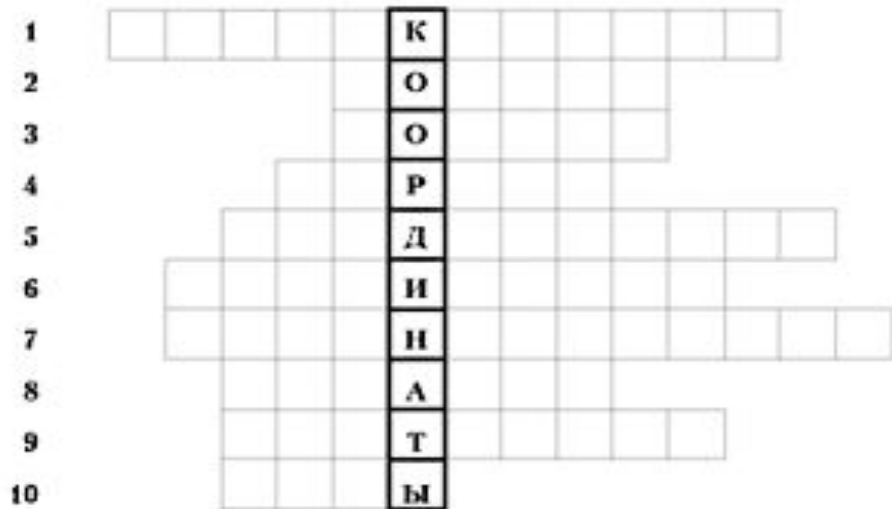


Найдите по координатам на карте объекты, названные в скобках.

Впишите их названия в клетки кроссворда.



1.  $24^{\circ}$  с. ш.  $90^{\circ}$  з. д. (залив).
2.  $60^{\circ}$  с. ш.  $100^{\circ}$  в. д. (страна).
3.  $10^{\circ}$  с. ш.  $50^{\circ}$  в. д. (полуостров).
4.  $0^{\circ}$  ш.  $20^{\circ}$  в. д. (материк).
5.  $40^{\circ}$  с. ш.  $10^{\circ}$  в. д. (море).
6.  $45^{\circ}$  с. ш.  $50^{\circ}$  в. д. (озеро).
7.  $0^{\circ}$  ш.  $0^{\circ}$  д. (океан).
8.  $2^{\circ}$  ю. ш.  $102^{\circ}$  в. д. (остров).
9.  $25^{\circ}$  ю. ш.  $135^{\circ}$  в. д. (материк).
10.  $30^{\circ}$  ю. ш.  $70^{\circ}$  з. д. (горы).
11.  $20^{\circ}$  ю. ш.  $46^{\circ}$  в. д. (остров).
12.  $65^{\circ}$  с. ш.  $15^{\circ}$  в. д. (полуостров).
13.  $90^{\circ}$  ю. ш.  $0^{\circ}$  д. (материк).
14.  $70^{\circ}$  с. ш.  $40^{\circ}$  з. д. (остров).
15.  $22^{\circ}$  с. ш.  $38^{\circ}$  в. д. (море).
16.  $5^{\circ}$  ю. ш.  $60^{\circ}$  з. д. (низменность).
17.  $55^{\circ}$  с. ш.  $160^{\circ}$  в. д. (полуостров).
18.  $40^{\circ}$  ю. ш.  $100^{\circ}$  в. д. (океан).
19.  $55^{\circ}$  с. ш.  $70^{\circ}$  з. д. (полуостров).
20.  $43^{\circ}$  с. ш.  $35^{\circ}$  в. д. (море).