


**Тема: «Регион Латинская Америка.
Общая характеристика».**



ПЛАН УРОКА

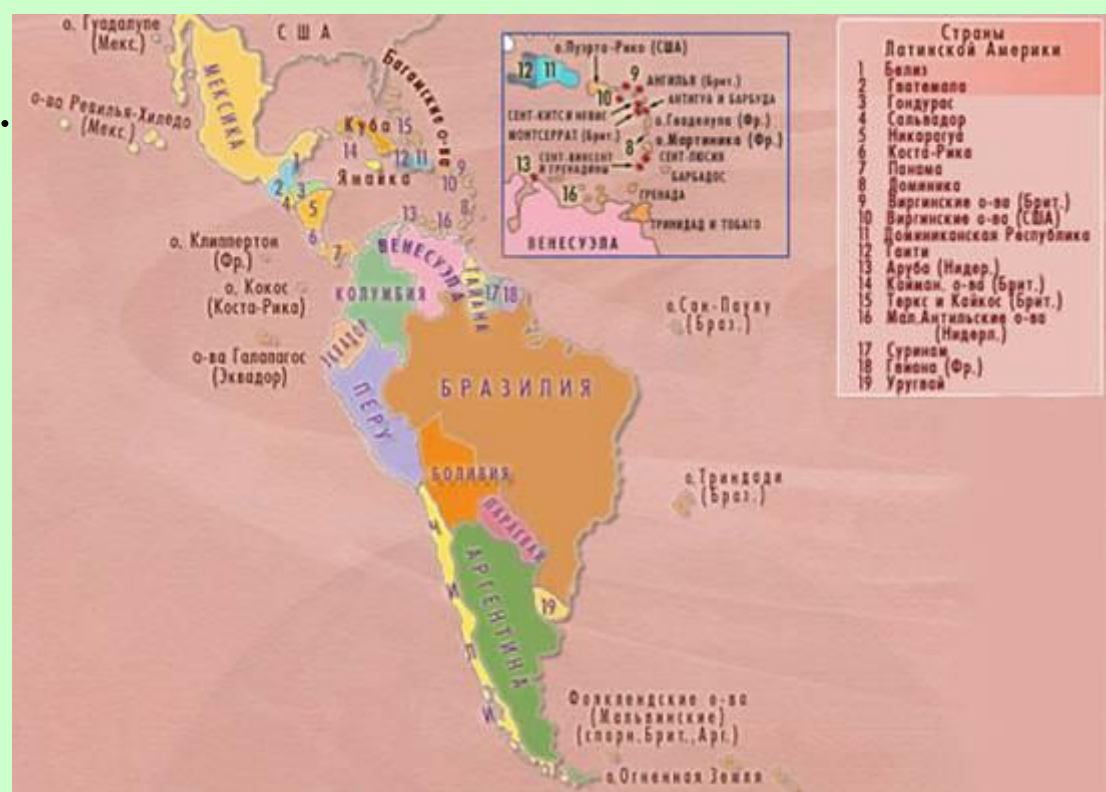
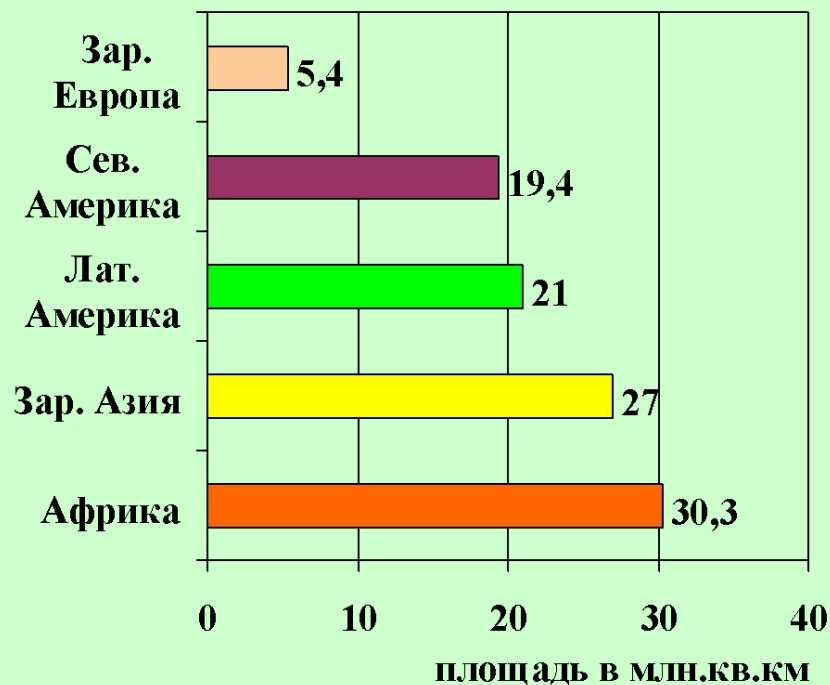
1. Территория, состав и политическая карта Латинской Америки.

2. Население Латинской Америки:

- **динамика роста численности;**
- **воспроизводство;**
- **этнический состав;**
- **языковой состав;**
- **размещение населения.**

3. Хозяйство.

Площадь Латинской Америки.



Состав. Политическая карта региона.

Состав субрегионов Латинской Америки.

| Мексика | Центральная Америка | Вест-Индия | Андские страны | Страны бассейна Ла-Платы | Бразилия |
|---------|----------------------------------------------------------------------------------|-------------------------------------------------------------------------------------------------------------|-------------------------------------------------------------|----------------------------------|----------|
| Мексика | Гватемала Сальвадор Гондурас Белиз Никарагуа Коста-Рика Панама | Куба, Гаити, Доминиканская Республика, Багамские острова, Ямайка, Барбадос, Суринам и др. | Венесуэла Колумбия Эквадор Перу Боливия Чили | Парагвай Уругвай Аргентина | Бразилия |

Политическая карта региона.

| Страны | Государственный флаг | Площадь, тыс. км ² | Население, млн. чел. | Столицы | Форма правления | Форма тер-риг. устр-ва |
|-------------------|----------------------|-------------------------------|----------------------|----------------|-----------------|------------------------|
| Гаити | | 28 | 7,6 | Порт-о-Пренс | Р | У |
| Доминик. Республ. | | 49 | 8,4 | Санто-До-Минго | Р | У |
| Ямайка* | | 11 | 2,6 | Кингстон | Р | У |
| Тринидад и Тобаго | | 5 | 1,4 | Порт-оф-Спейн | Р | У |
| Колумбия | | 1139 | 38,5 | Сант-Фе-Богота | Р | У |
| Венесуэла | | 912 | 23,7 | Каракас | Р | Ф |
| Эквадор | | 284 | 12,5 | Кито | Р | У |
| Перу | | 1285 | 25 | Лима | Р | У |
| Боливия | | 1097 | 8,3 | Сукре (Ла-Пас) | Р | У |
| Чили | | 757 | 15,3 | Сантьяго | Р | У |
| Бразилия | | 8512 | 170 | Бразилиа | Р | Ф |
| Парагвай | | 407 | 5,4 | Асунсьон | Р | У |
| Уругвай | | 178 | 3,5 | Монтевидео | Р | У |
| Аргентина | | 2777 | 36,5 | Буэнос-Айрес | Р | Ф |
| Мексика | | 1973 | 98 | Мехико | Р | Ф |
| Гватемала | | 109 | 11,8 | Гватемала | Р | У |
| Гондурас | | 112 | 6,3 | Тегусигальпа | Р | У |
| Сальвадор | | 21 | 6,2 | Сан-Сальвадор | Р | У |
| Никарагуа | | 130 | 4,6 | Мангуа | Р | У |
| Коста-Рика | | 51 | 3,8 | Сан-Хосе | Р | У |
| Панама | | 77 | 2,8 | Панама | Р | У |
| Куба | | 111 | 11,3 | Гавана | Р | У |



В настоящее время в пределах региона расположено 46 государств и владений некоторых стран Европы и США. Независимых государств в регионе 33.

По форме правления страны Латинской Америки отличаются большой однородностью. Все они являются республиками. Особое место занимает Куба – единственная страна региона, относящаяся к социалистическим государствам.

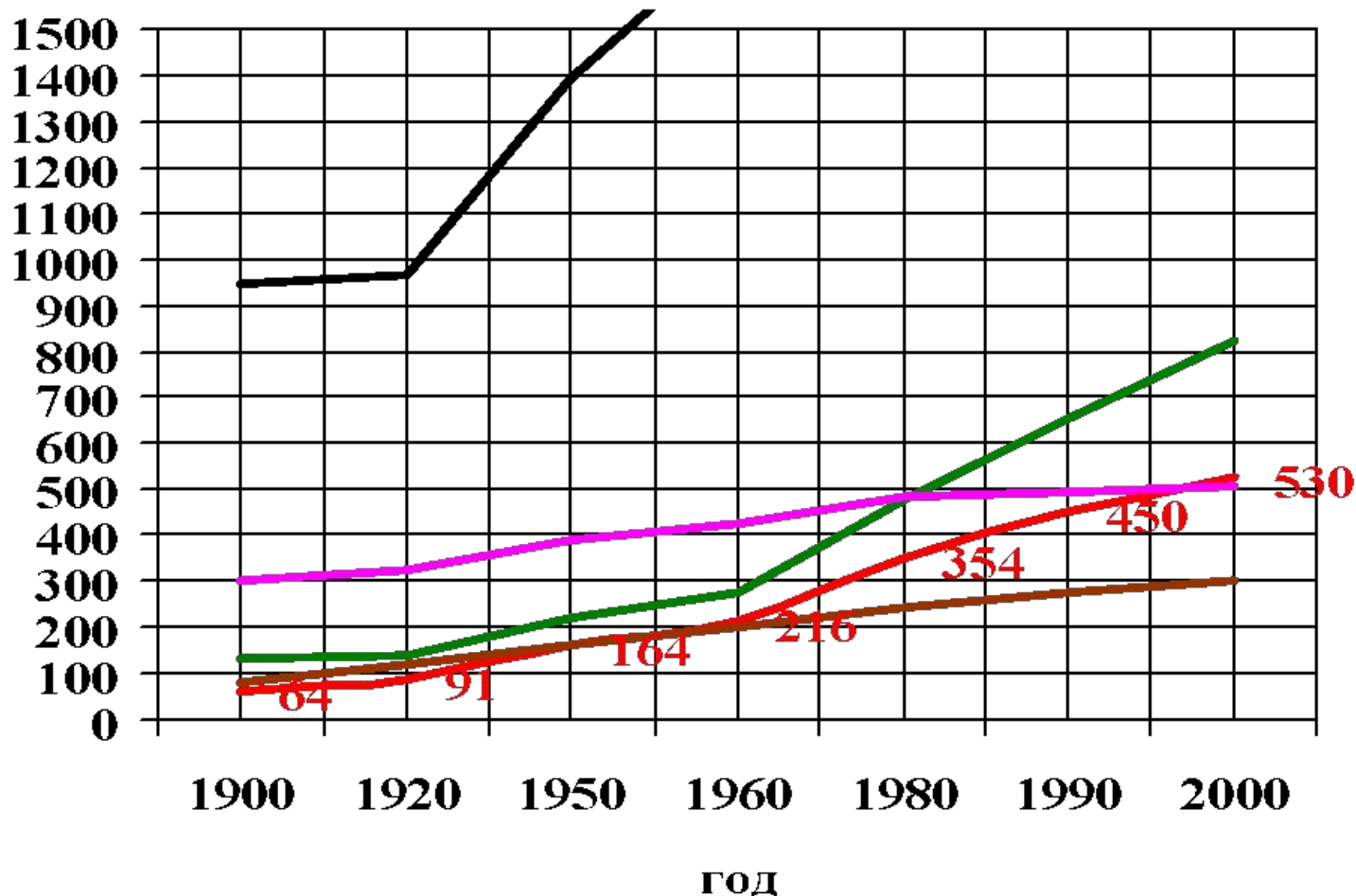
По форме административно-территориального устройства в Латинской Америке преобладают унитарные государства. Четыре самых крупных её страны и одно государство Вест-Индии имеют федеративное устройство.

Население Латинской Америки

Латинская Америка - часть планеты Земля, часть планеты людей.

График. Динамика роста численности населения Латинской Америки.

— Латинская Америка — Северная Америка
— Африка — Зар. Азия
— Зар. Европа



ЗАДАНИЕ.

Проанализируйте график динамики роста численности населения Латинской Америки и ответьте на следующие вопросы:

1. Какова численность населения Латинской Америки?
2. Во сколько раз возросла численность населения региона с начала XX века?
3. Сравните динамику роста численности населения Латинской Америки с другими регионами.

Воспроизводство населения и естественный прирост.

Карты атласа стр. 10-11.

«Рождаемость»

«Смертность»

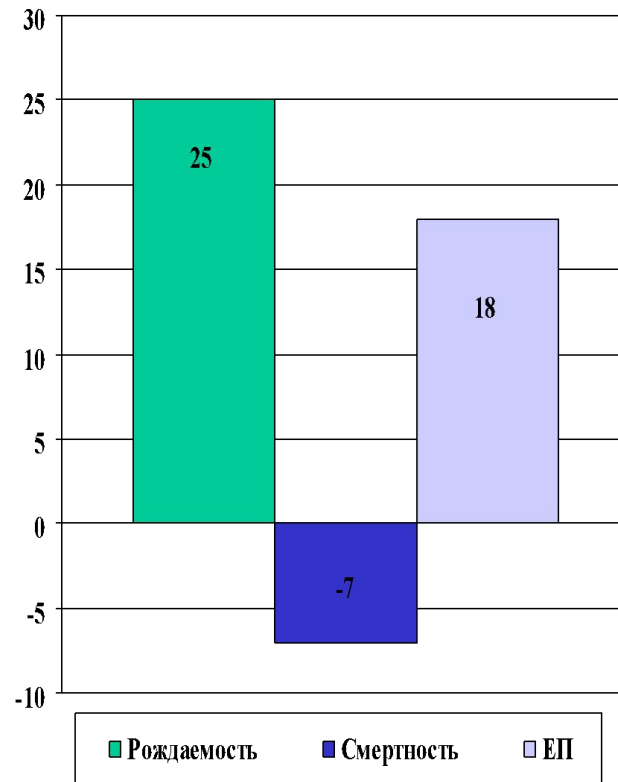
Щелкни мышкой 2 раза.

2. Рассмотрим тематическую карту «Смертность». Как видно, на карте преобладает светло-зелёная окраска, следовательно, число умерших за год на 1000 жителей Лат. Америки составляет в среднем 7 чел.

тематическую карту «Рождаемость». Как видно, на карте преобладающий цвет – желтый, следовательно, число родившихся за год на 1000 жителей Лат. Америки составляет в среднем 25 чел. (Рассмотрев карту, щелкни мышку 2 раза).

Теперь проанализируем, полученные сведения из карт и рассмотрим диаграмму «Естественный прирост». Зелёный столбик показывает количество родившихся за год на 1000 жителей (25), синий столбик – количество умерших за год на 1000 жителей (7). А сиреневый столбик показывает разницу между числом родившихся и умерших ($25 - 7 = 18$). Значит численность населения Лат. Америки растет со скоростью 18 чел. на 1000 жителей в год. («Если тебе не лень?» Рассчитайте, зная численность населения Лат. Америки на 2000 г, сколько жителей стало в это регионе в 2001 и т.д.).


Естественный прирост населения Латинской Америки.



Проанализировав карты и диаграмму, можно сделать вывод, что для Лат. Америки характерен II тип воспроизводства. Это влияет на численность и возрастную структуру населения региона.


РОЖДАЕМОСТЬ

(число родившихся за год на 1000 человек населения)



СМЕРТНОСТЬ

(число умерших за год на 1000 человек населения)



Этнический состав населения.

Для этнического расового состава населения Латинской Америки характерна большая сложность, что связано с особенностью её исторического развития. Многие представители крупных этносов образовались в этом регионе уже в новое время. В их формировании участвовали три главных элемента: коренное индейское население, эмигранты из стран Европы и рабы, вывозившиеся из Африки.



Древний храм ацтеков.



Сохранившиеся памятники доколумбового периода свидетельствуют о высоком уровне развития культуры ацтеков, майя и инков.

Эта культура была полностью разрушена испано-португальскими завоевателями.

Эрнандес Кортес в 1521 г. с невероятной жестокостью разрушил государство ацтеков. Франциско Писсаро с такой же жестокостью уничтожил государство инков. В 1532 г. он обманным путем захватил Верховного Инку Атаульпу, который в обмен на свою свободу предложил неслыханный выкуп: заполнить золотом комнату, в которой он был в заключении. Верховный Инка сдержал свое слово, но испанцы, получив золото, казнили его. До прибытия Колумба численность коренного населения составляла 20 млн. чел., а в 1521 г. – 7,3 млн. чел.



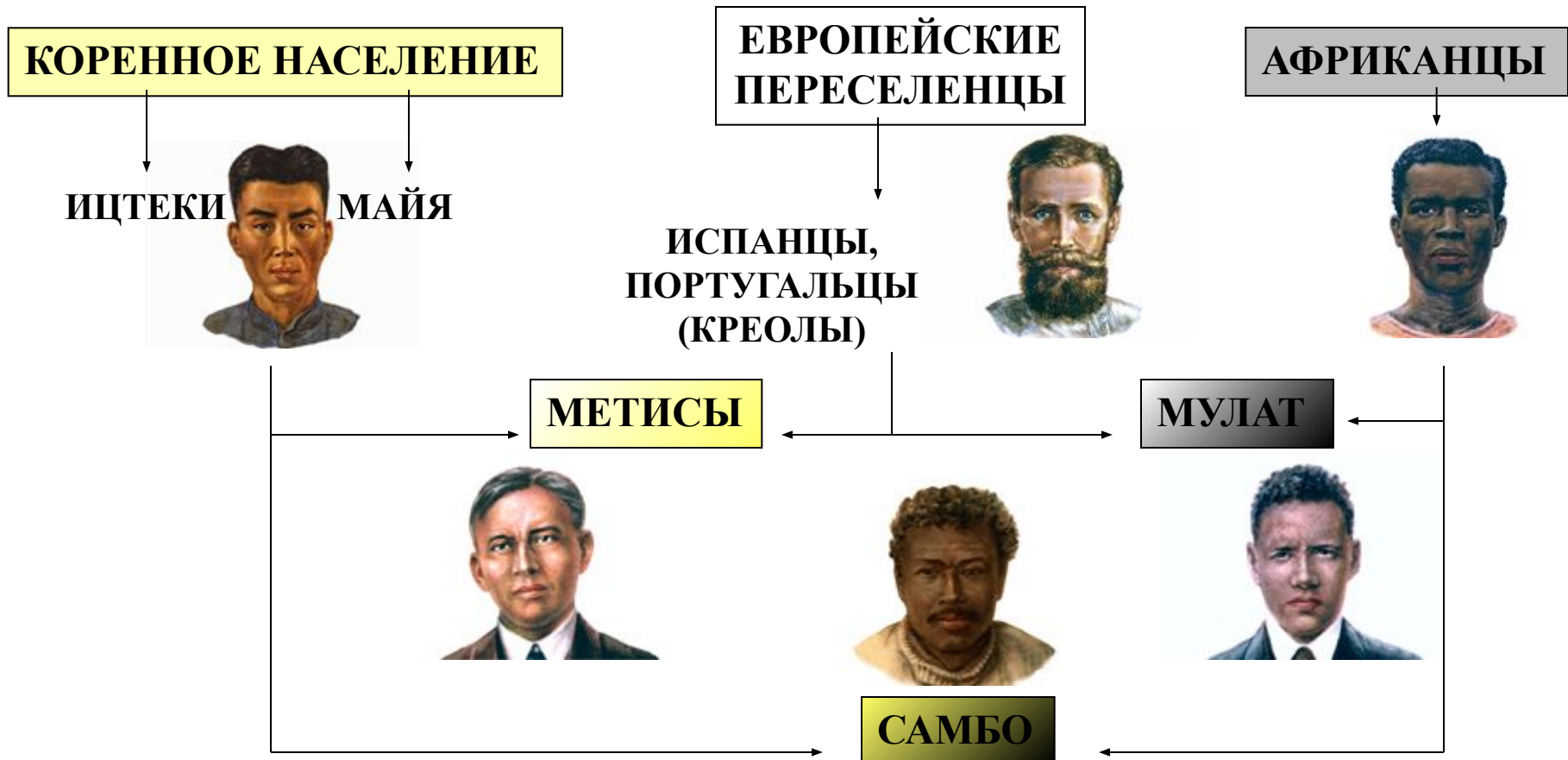
Мачу-Пикчу – древний город инков.



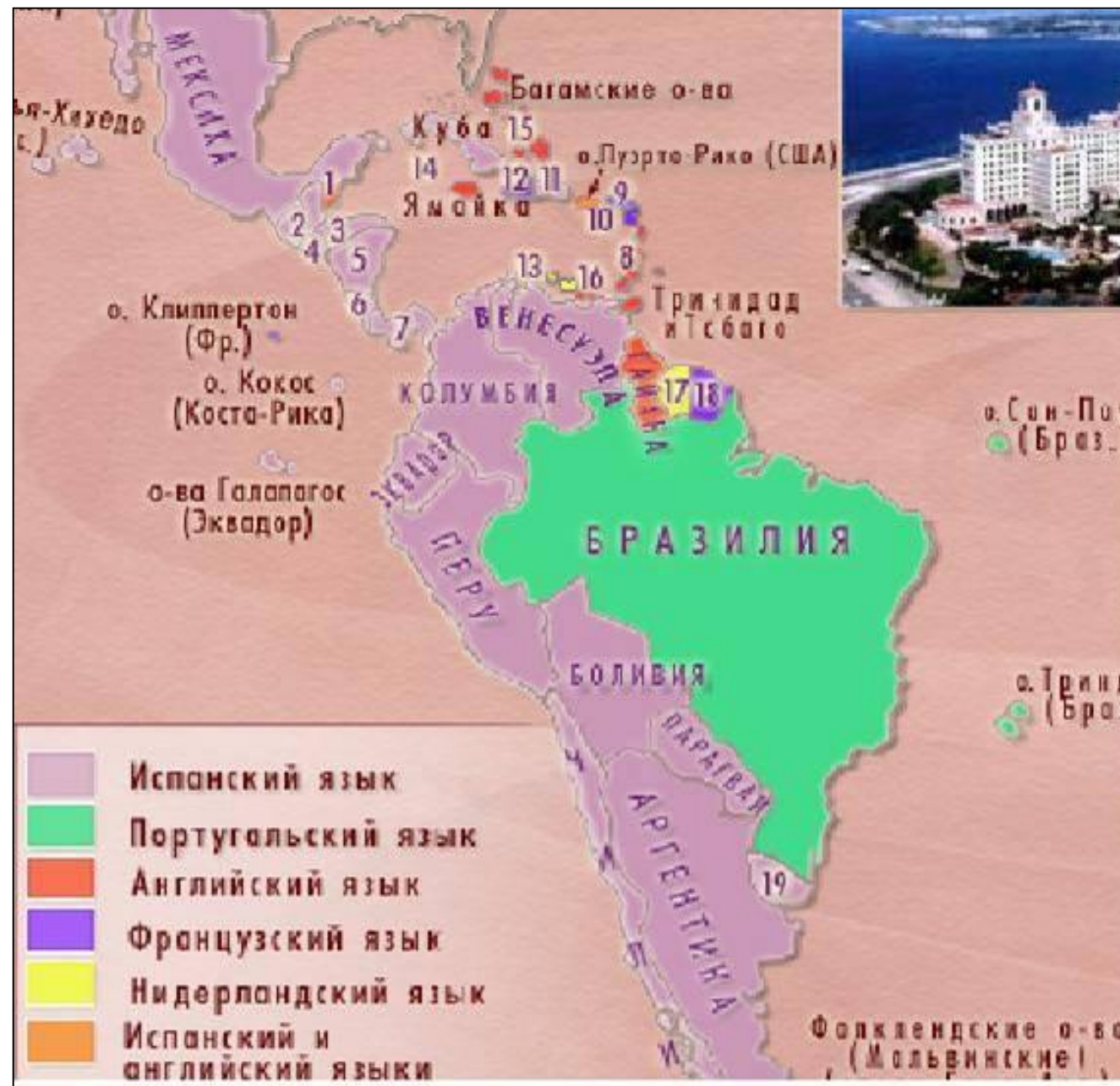
Этнический состав населения.

Почти полное истребление индейцев поставило перед колонизаторами вопрос о рабочей силе, который был разрешен путем ввоза негров-рабов из Африки. Общая численность привезенных в Америку негров составила 10 млн. чел.

Так сложились три главных расово-этнических элемента.



Языковой состав.



Более однородный. Преобладает испанский и португальский языки. Испанский язык служит государственным в 18 странах (250 млн. чел.). Португальский язык в одной стране Бразилии - 170 млн. чел. В Мексике, Боливии, Парагвае наряду с испанским языком официальными считаются – ацтекский, кечуа.

ПЛОТНОСТЬ НАСЕЛЕНИЯ ЛАТИНСКОЙ АМЕРИКИ



ПЛОТНОСТЬ НАСЕЛЕНИЯ на 1 кв. км

| | |
|---|-------------------------|
| 5 | более 100 человек |
| 4 | от 50 до 100 человек |
| 3 | от 10 до 50 человек |
| 2 | от 1 до 10 человек |
| 1 | до 1 человека |
| □ | Незаселенные территории |

ЧИСЛО ЖИТЕЛЕЙ В ГОРОДАХ

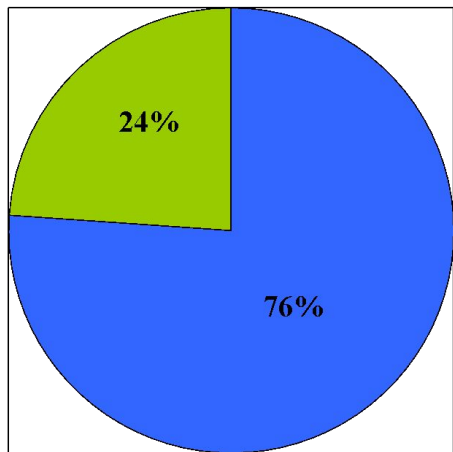
| | |
|---|---------------------------------|
| ○ | свыше 7 млн. человек |
| ○ | от 1 до 5 млн. человек |
| ○ | от 300 тыс. до 1 млн. человек |
| ○ | от 100 тыс. до 300 тыс. человек |
| ● | от 20 тыс. до 100 тыс. человек |
| ● | Лима - агломерация |

ХАРАКТЕРНЫЕ ЧЕРТЫ РАЗМЕЩЕНИЯ:

- наименее заселенный регион мира со средней плотностью 25 чел. на км. кв.;
- сильно выражена неравномерность размещения;
- высока доля высокогорного населения.

УРБАНИЗАЦИЯ

■ ГОРОД ■ СЕЛО



Характерна ложная урбанизация. Формирование трущобных районов, «поясов нищеты», в которых живет до 50% населения многих городов.

Крупнейшие города с населением более 10 млн. чел.



Доля городского населения в странах Латинской Америки

| Страна | Доля городского населения (%) |
|--------------------------|-------------------------------|
| Уругвай | 91 |
| Аргентина | 88 |
| Багамские Острова | 87 |
| Венесуэла | 86 |
| Чили | 84 |
| Бразилия | 79 |
| Куба | 76 |
| Мексика | 74 |
| Колумбия | 73 |
| Тринидад и Тобаго | 72 |
| Перу | 71 |
| Доминиканская Республика | 63 |
| Никарагуа | 63 |
| Боливия | 61 |
| Эквадор | 60 |
| Панама | 56 |
| Ямайка | 54 |
| Парагвай | 53 |
| Коста-Рика | 50 |
| Суринам | 49 |
| Белиз | 47 |
| Гондурас | 44 |
| Сальвадор | 43 |
| Гватемала | 39 |
| Гайана | 36 |
| Гаити | 32 |

Хозяйство Латинской Америки.

Промышленность и сельское хозяйство.


Латинскую Америку можно отнести к промышленно развитым регионам, хотя все его страны, принято относить к группе развивающихся.

Доля региона в мировом валовом продукте составляет 8,5%.

$\frac{4}{5}$ всей промышленной продукции приходится на тройку экономических лидеров – Бразилию, Мексику, Аргентину.

В мировом сельскохозяйственном производстве региону принадлежит видное место.





Хозяйство Латинской Америки.

Промышленность и сельское хозяйство.

ПРОМЫШЛЕННОСТЬ.

Долгое время промышленность региона характеризовалась в первую очередь развитием горно-добывающих отраслей. Однако, в последнее время ведущая роль стала переходить к обрабатывающей промышленности (особенно черная, цветная металлургия, нефтепереработка, а так же электроника и машиностроение).

В Бразилии получили развитие электроника, автомобиле-, судо-, самолетостроение; в Мексике, Аргентине – производство автомобилей, станков.

СЕЛЬСКОЕ ХОЗЯЙСТВО.

Представлено двумя совершенно разными секторами.

Первый сектор – это высокотоварное, плантационное хозяйство. Крупнейшие в мире производители бананов – Коста-Рика, Колумбия, Эквадор, Гондурас, Панама. На судах-рефрижераторах весь сбор бананов вывозится в Европу, США, причем по дороге они дозревают. На Кубе $\frac{1}{2}$ всех обрабатываемых земель занята плантациями сахарного тростника. Сахарные заводы производят более 5 млн т сахара в год. Сахарная промышленность – отрасль специализации Кубы.

Второй сектор – это потребительское малотоварное хозяйство, не затронутое «зелёной революцией». Крестьяне, занятые в нём выращивают кукурузу, маниоку, фасоль, овощи, картофель.

Хозяйство Латинской Америки. Транспорт.

Транспортная оснащённость Латинской Америки слабая. Недостаточно развиты внутренний водный, трубопроводный транспорт, несмотря на большую протяжённость железных дорог их пропускная способность очень низкая, лучше развит – воздушный и автомобильный. Огромную роль играет морской транспорт и морские порты, все дороги в регионе ведут к морскому порту.



Дорога в Андах.



Грузовой состав. Бразилия.



Панамский канал.



Речные трамваи.



Гужевого транспорт.