



# Масштаб

Решение задач



# №1

Какому расстоянию на местности соответствует 8,5 см на карте, если масштаб карты 1:10000




№1

Ответ: 850 м.


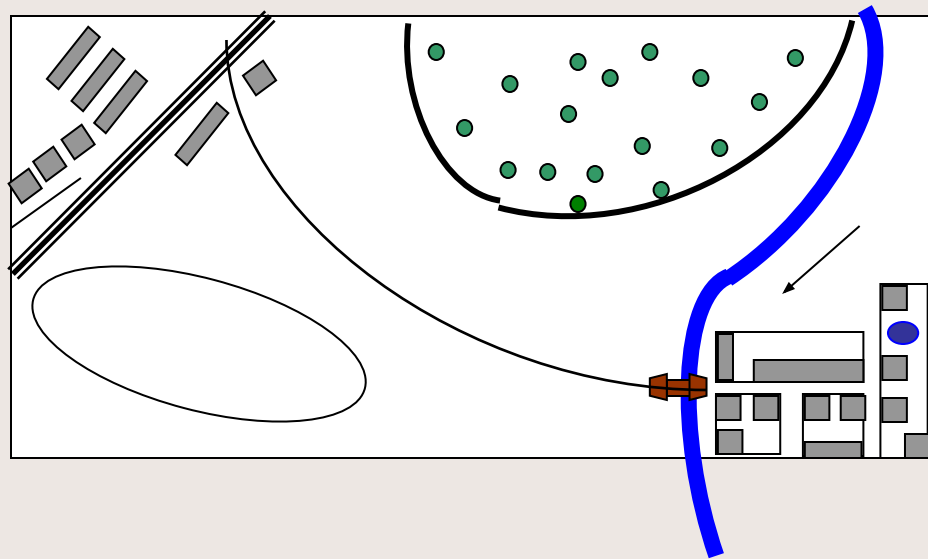
*Если получен другой ответ,  
проверь свое решение*

**Проверка!**



## №2

От деревни Орловка до деревни Малиновка 9 км.  
На плане это расстояние равно 4,5 см.  
Чему равен масштаб плана?




№2

Ответ: 1 : 200 000.

*Если получен другой ответ,  
проверь свое решение*

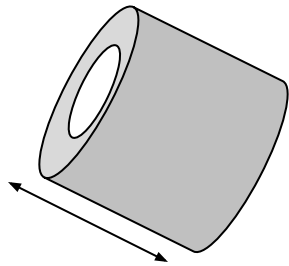
**Проверка!**



# №3


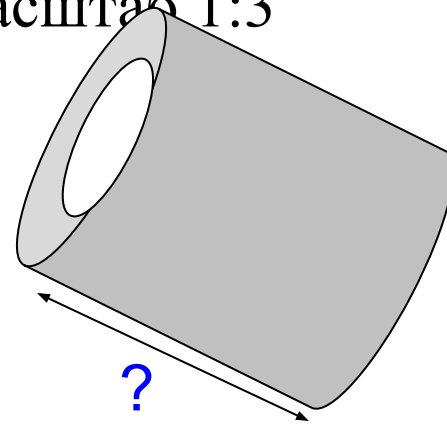
Определите длину детали на втором чертеже.

Масштаб 1:5



Длина детали 4,5см.

Масштаб 1:3




№3

Ответ: 7,5 см.


*Если получен другой ответ,  
проверь свое решение*

**Проверка!**



## №4

Площадь земельного участка прямоугольной формы 6 га. Найдите площадь прямоугольника, изображающего этот участок на плане, масштаб которого 1 : 50 000.






№4

Ответ:  $1,2 \text{ м}^2$ .

*Если получен другой ответ,  
проверь свое решение*

**Проверка!**



A spiral-bound notebook with a light-colored, textured cover and a silver metal spiral binding on the left side. The notebook is open to a page with a faint grid pattern. The text is centered on the page.

Все задания выполнены