

МОРЯ РОССИИ



МОРЯ СЕВЕРНОГО ЛЕДОВИТОГО ОКЕАНА

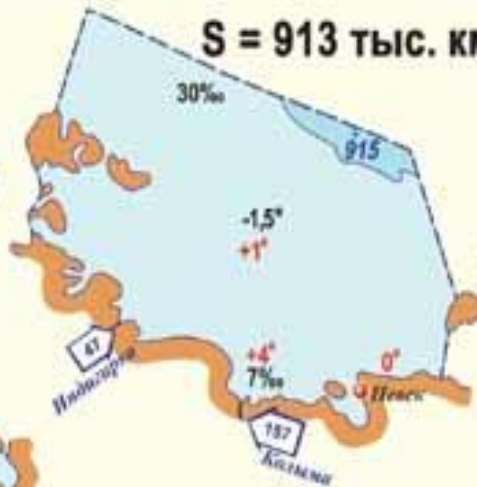
БАРЕНЦЕВО МОРЕ

S = 1424 тыс. км²



ВОСТОЧНО-СИБИРСКОЕ МОРЕ

S = 913 тыс. км²



КАРСКОЕ МОРЕ

S = 883 тыс. км²



БЕЛОЕ МОРЕ

S = 90 тыс. км²



Условные обозначения:


- Государственная граница
- Границы полярных владений
- Температура воды летом
- Температура воды зимой
- Соленость воды
- Отметки глубин, м
- Сток рек, км³/год

МОРЕ ЛАПТЕВЫХ

S = 662 тыс. км²



ШКАЛА ГЛУБИН, м



ЧУКОТСКОЕ МОРЕ

S = 595 тыс. км²

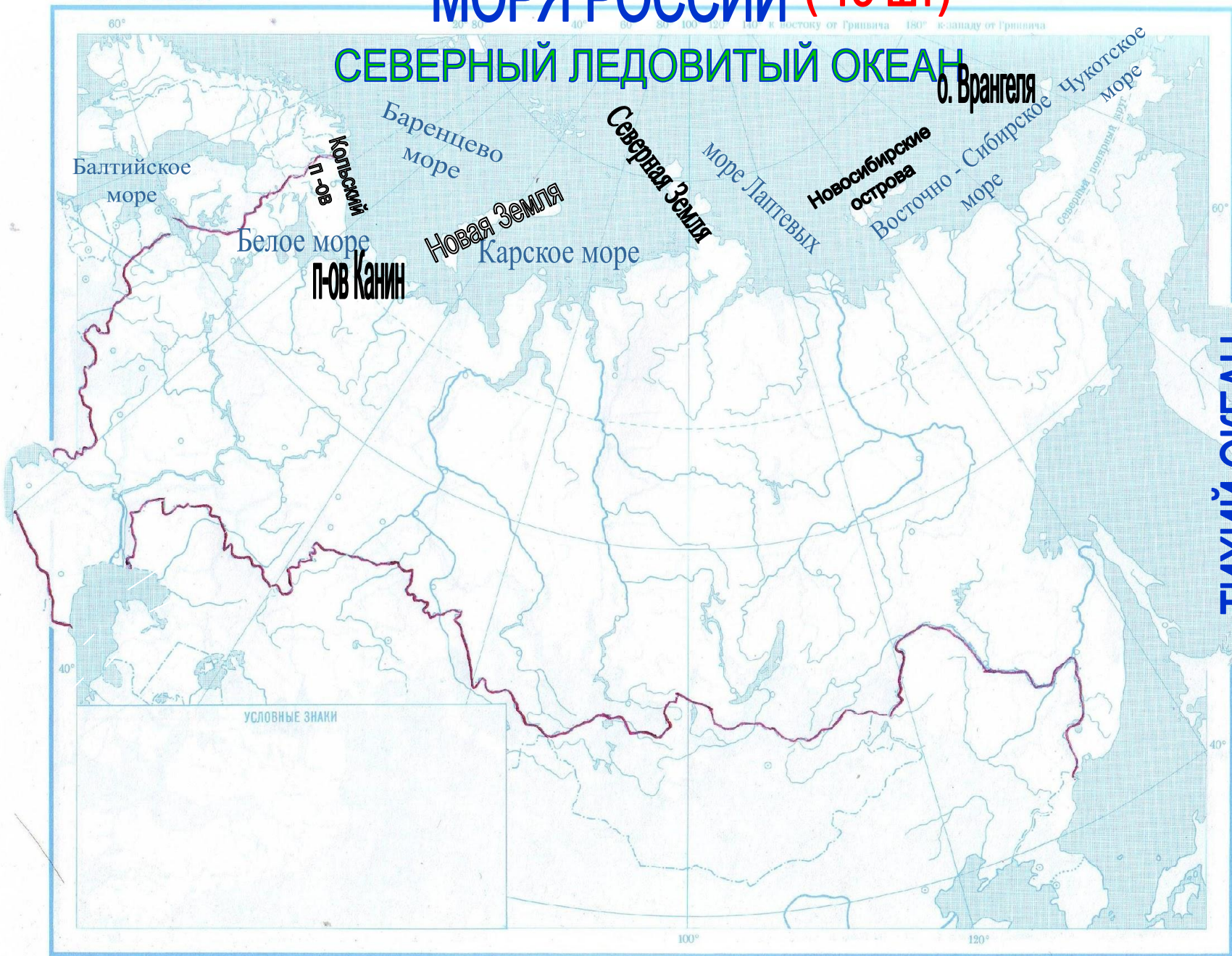


МОРЯ РОССИИ (13 ШТ)

СЕВЕРНЫЙ ЛЕДОВИТЫЙ ОКЕАН

АТЛАНТИЧЕСКИЙ ОКЕАН

ТИХИЙ ОКЕАН



Северный морской путь



МОРЯ АТЛАНТИЧЕСКОГО И ТИХОГО ОКЕАНОВ

МОРЯ ТИХОГО ОКЕАНА

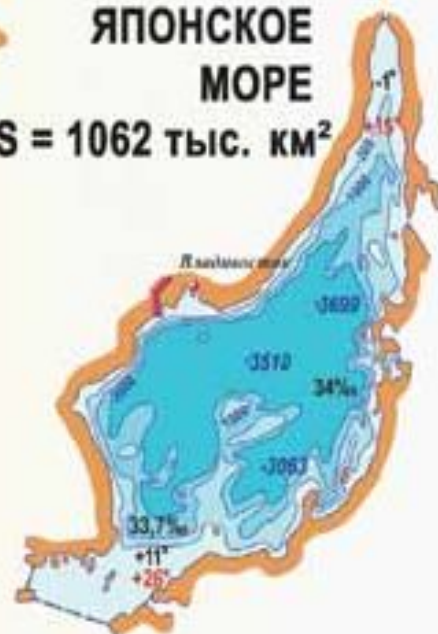
БЕРИНГОВО МОРЕ

S = 2315 тыс. км²

ОХОТСКОЕ МОРЕ

S = 1603 тыс. км²

ЯПОНСКОЕ МОРЕ

S = 1062 тыс. км²

Условные обозначения:

- Государственная граница
- +4° Температура воды летом
- 2° Температура воды зимой
- 35‰ Соленость воды
- 330 Отметки глубин, м
- 602 Сток рек, км³/год

БАЛТИЙСКОЕ МОРЕ

S = 419 тыс. км²


АЗОВСКОЕ МОРЕ

S = 38 тыс. км²

ЧЕРНОЕ МОРЕ

S = 422 тыс. км²

ШКАЛА ГЛУБИН, м



МОРЯ АТЛАНТИЧЕСКОГО ОКЕАНА

Моря Тихого океана

Чукотский
П-В

Берингово
море

П-ОВ
Камчатка

Охотское
море

о. Сахалин

Японское
море

ТИХИЙ ОКЕАН



УСЛОВНЫЕ ЗНАКИ

A legend box containing the text 'УСЛОВНЫЕ ЗНАКИ' (Legend). The box is empty, suggesting that the legend content is not visible or is obscured by the map's features.

ЭКОНОМИЧЕСКАЯ ЗОНА - ЭТО

- **Прибрежные воды шириной в 200 миль, охраняемые государством.**
- **В России установлена в 1984 году**
- **В пределах этой зоны иностранным государствам запрещены любые действия без согласия России**
- **Россия ведёт борьбу с загрязнениями в пределах зоны.**

МОРЯ АТЛАНТИЧЕСКОГО И ТИХОГО ОКЕАНОВ

МОРЯ ТИХОГО ОКЕАНА

БЕРИНГОВО МОРЕ

S = 2315 тыс. км²



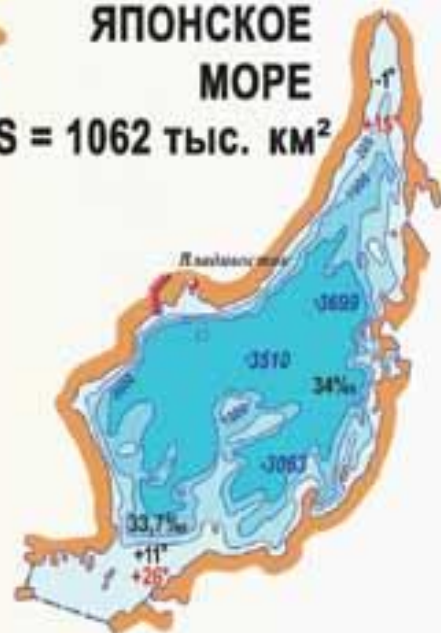
ОХОТСКОЕ МОРЕ

S = 1603 тыс. км²



ЯПОНСКОЕ МОРЕ

S = 1062 тыс. км²



Условные обозначения:

- Государственная граница
- +4° Температура воды летом
- 2° Температура воды зимой
- 35‰ Соленость воды
- 330 Отметки глубин, м
- 602 Сток рек, км³/год

БАЛТИЙСКОЕ МОРЕ

S = 419 тыс. км²



АЗОВСКОЕ МОРЕ

S = 38 тыс. км²




ЧЕРНОЕ МОРЕ

S = 422 тыс. км²



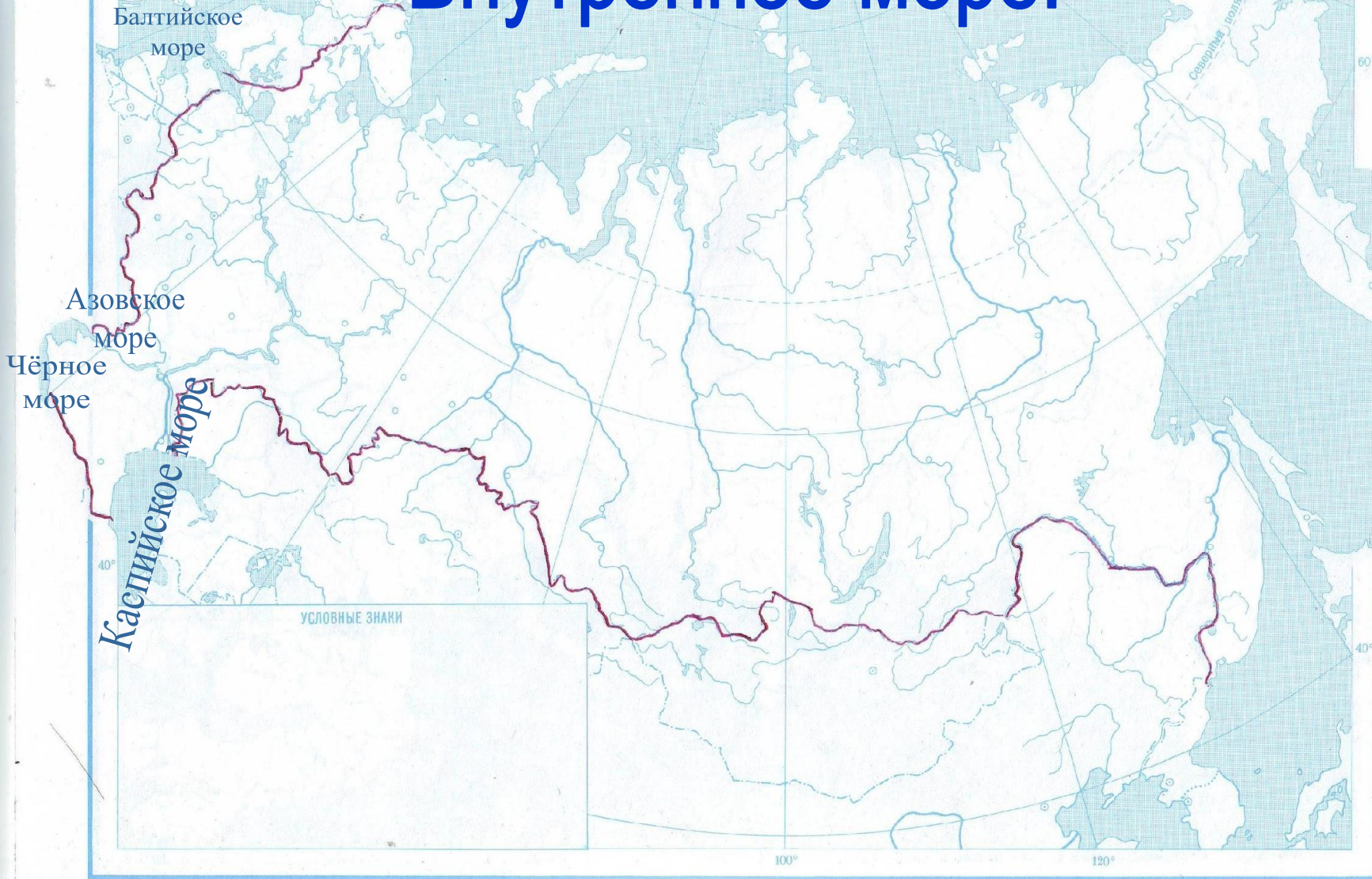
ШКАЛА ГЛУБИН, м



МОРЯ АТЛАНТИЧЕСКОГО ОКЕАНА

Моря Атлантического океана. Внутреннее море.

АТЛАНТИЧЕСКИЙ ОКЕАН



Масштаб 1:30 000 000 (в 1 см 300 км)
300 0 300 600 900 1200 1500 км

ЗАКРЕПЛЕНИЕ ИЗУЧЕННОГО

МАТЕРИАЛА

Моря Северного Ледовитого океана	<u>5</u>	<u>10</u>	<u>15</u>	<u>20</u>	<u>25</u>
Моря Тихого океана	<u>5</u>	<u>10</u>	<u>15</u>	<u>20</u>	<u>25</u>
Моря Атлантического Океана и бессточное море.	<u>5</u>	<u>10</u>	<u>15</u>	<u>20</u>	<u>25</u>
Загадки о морях	<u>5</u>	<u>10</u>	<u>15</u>	<u>20</u>	<u>25</u>

Самое холодное и
ледовитое море

Восточно-Сибирское
море



Самое чистое
море России.

Чукотское море.



Назови единственное
незамерзающее море,
омывающее побережье
России и относящееся к
бассейну Северного
Ледовитого океана

Баренцево море.



Какое море на севере
России раньше
называли Мурманское
или Русское?

Баренцево море.



Назови причину низкой солёности вод морей Северного Ледовитого океана.

**Впадение крупных рек, которые
опресняют воду.**



Не пользуясь картой
назови моря Тихого
океана, омывающие
Россию.

**Берингово,
Охотское,
Японское.**



Объясни почему все
моря Тихого
океана имеют
большую глубину.

**Они находятся в
зоне столкновения
литосферных плит.**



Объясни почему
температура морей
Тихого океана летом
разная.

**Они находятся в
разных широтах**



Где в России наблюдаются самые высокие приливы и почему?

**В Пенжинской губе
Охотского моря (13 м).
Это происходит из-за того,
что Охотское море через
многочисленные проливы
между островами
обменивается водами
с Тихим океаном.**



Какие ценные морские
зверьки обитают только
в морях Дальнего
Востока?

Морской котик и морская выдра (калан).



Не пользуясь картой
назови моря,
относящиеся к бассейну
Атлантического океана.

Балтийское,
Чёрное,
Азовское моря.



Почему морские приливы в морях Атлантического океана, практически не наблюдаются?

Моря , относящиеся к Атлантическому океану имеют сравнительно слабую связь с океаном через мелководные проливы, поэтому приливы в них практически не наблюдаются.



Какое море является морем мертвых глубин?

**Черное. Начиная со 125 – 200 м.
вода отравлена сероводородом.
Его выделяют особые бактерии.
Они одни населяют глубины.**



Назови два моря России
противоположных по
положению,
температуре воды и
названию.

Белое и Чёрное моря.



В каком море течения образуют два больших круговорота: в северной части моря против часовой стрелки, а в южной – по часовой ?

В Каспийском



Та вода, что у причалов,
И которая вдали,
И в которую сначала
С моря входят корабли,-
Эта территория
Зовётся.....

Акватория.
(С. Козлов)



Ветер в море бушевал,
Превращая волны в вал.
Натворил немало дел.
И куда Нептун смотрел!

Шторм



Камень, ты как очутился
В бездонной пучине морской?
Откуда тебя вымывает
Балтийского моря прибой?

Янтарь



В ярме шагает **первый слог,**
Второй, конечно же ,
предлог.

А целое – корабль качает,
То вверх, то вниз его бросает.

Вол + на = волна



Назовите остров, о
котором сложили
загадку:

«Кругом вода, а
посредине беда».

Сахалин

