



**Тема: «Население
Африки»**

План урока:

1. Особенности размещения населения по территории материка.
2. Расы и народы.
3. Политическая карта Африки.

Д/З - § 20, подготовить сообщение о жилищах африканских народов.

Размещение населения на материке?

ВЫВОД : население по территории материка размещено очень неравномерно.

В области пустынь (Сахаре и Калахари) население размещено редко, некоторые районы совершенно безлюдны.

Сравнительно густо заселены побережья Гвинейского залива, Средиземного моря.

Очень высокая плотность населения в дельте Нила, где она превышает 1000 ч/км².
км.

Крупнейшие города Африки.

Отметьте на карте Африки города и городские агломерации с численностью населения более 10 млн.

Отметьте на карте Африки города с численностью населения от 1 до 5 млн. человек.

ЛАГОС, КАИР

Отметьте на карте страны Африки с минимальной плотностью населения!!!

Западная Сахара, Намибия.

Расы и народы.

Европеоидная раса

Негроидная раса

Южнее
Сахары

Экваториальные
леса

Пустыни и
полупустыни

Монголоидная раса

1. Где живут?
2. Народы.
3. Характерные черты лица.

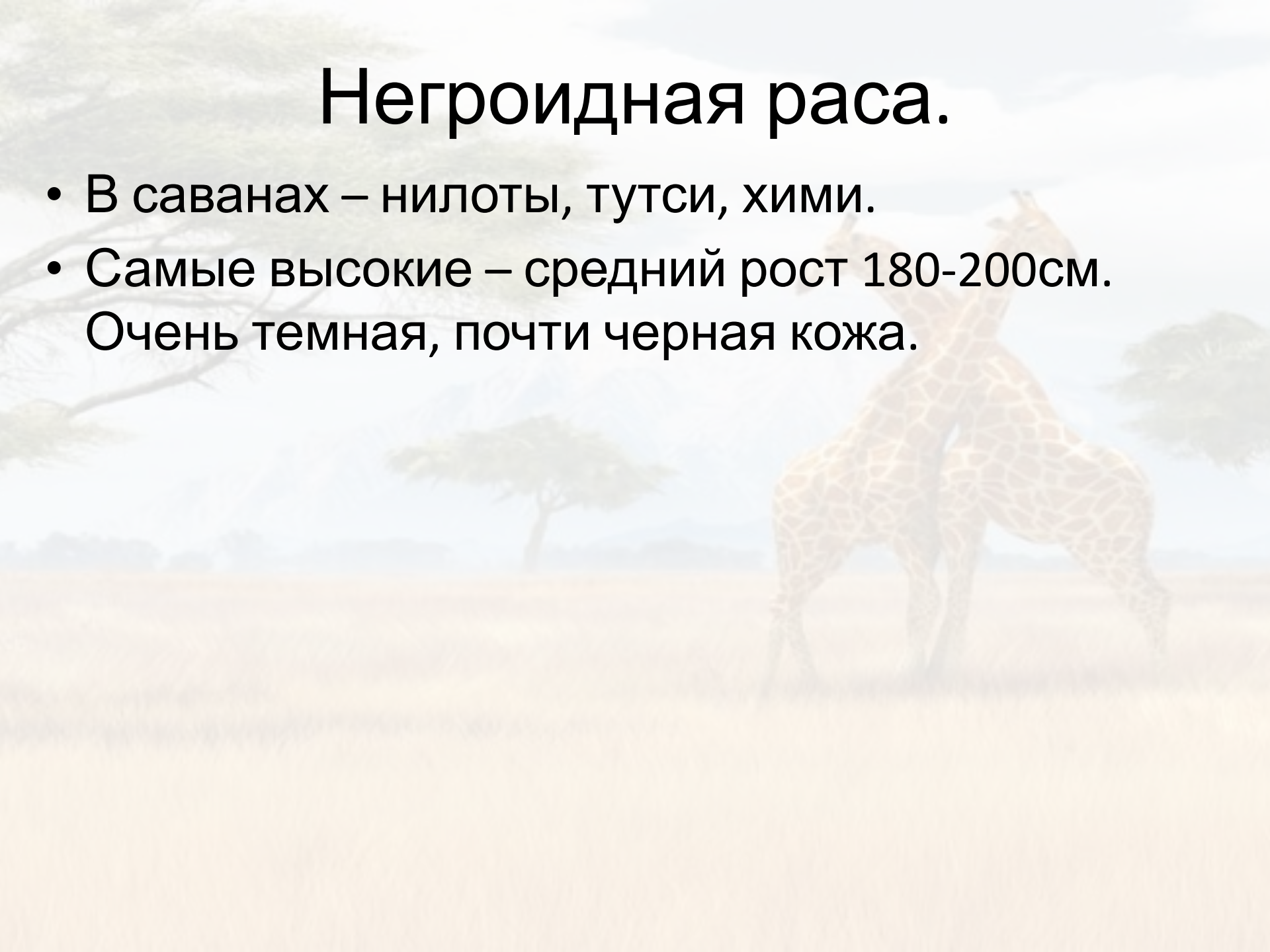
Европеоидная раса.

- Живут на севере Африки.
- Арабские народы – египтяне, ливийцы, алжирцы; берберы.
- Смуглая кожа, темные волосы и глаза, узкий нос, овальное лицо.



Негроидная раса.



- В саванах – нилоты, тутси, хими.
- Самые высокие – средний рост 180-200см. Очень темная, почти черная кожа.





Негроидная раса.

- В пустынях – бушмены, готтентоты, [туареги](#).
- Желтовато-коричневый цвет кожи, широкое плоское лицо, что придает им сходство с монголоидами.
- Низкорослы.



Туареги



Негроидная раса.

- Народы экваториальных лесов – пигмеи.
- Малорослые, коренастые. Цвет кожи у них менее темный, чем у многих других негроидов, губы тонкие, нос широкий.

ТИГМЕИ




А
Ф
Р
И
К
А





POCT - 140 cm.



Монголоидная


- **ораса.**

Мадагаскар.

- Малагасийцы

.





**Народы - фон, дагомей,
барба, сомба, йоруба, буса.**





Хижина жителей саванны.





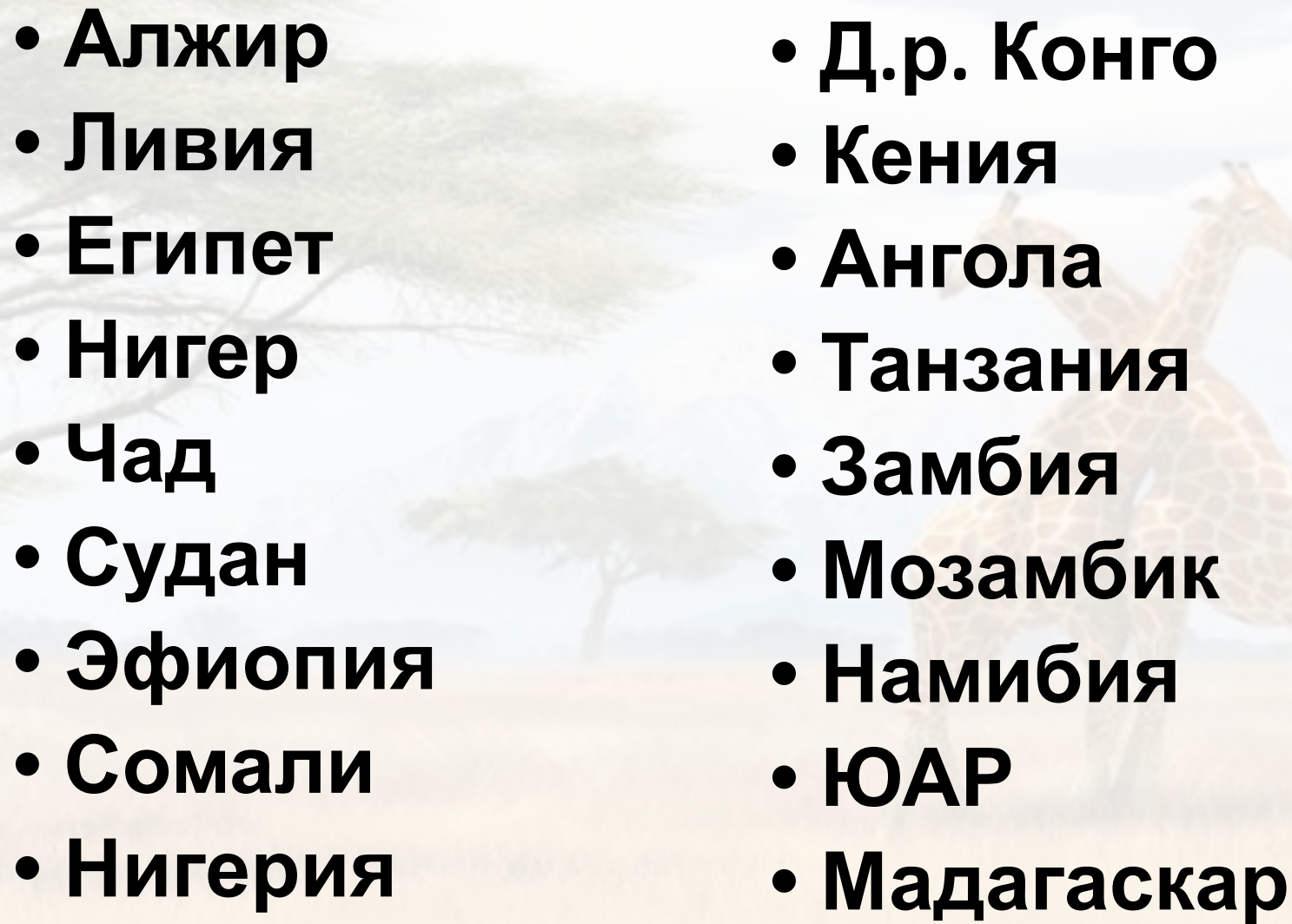
Политическая карта Африки. стр.121 рис.49

1. Отметьте на карте самые большие по площади страны Африки.

**Судан, Алжир, Конго,
Ливия**

2. Отметьте на карте самые маленькие по площади страны Африки.



- 
- Алжир
 - Ливия
 - Египет
 - Нигер
 - Чад
 - Судан
 - Эфиопия
 - Сомали
 - Нигерия
 - Д.р. Конго
 - Кения
 - Ангола
 - Танзания
 - Замбия
 - Мозамбик
 - Намибия
 - ЮАР
 - Мадагаскар