

Население Евразии и политическая карта



Цели нашего урока

Познакомиться...

Узнать...

Научиться...



Какие океаны омывают берега

Евразии?

Какие материки ближе всего находятся к Евразии?

Охарактеризуйте положение материка по отношению к экватору и нулевому меридиану?

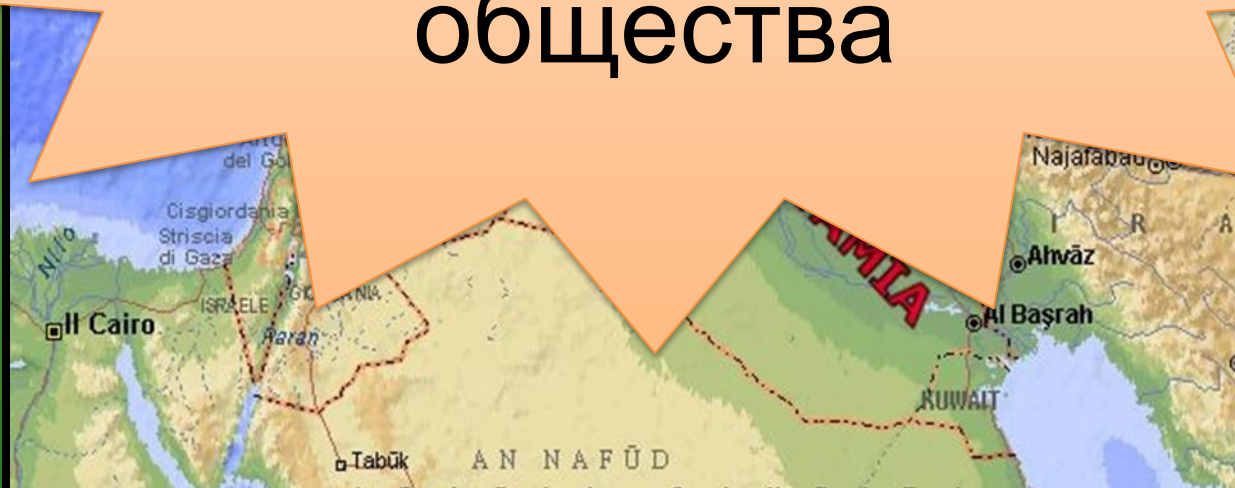


В Евразии известны
древнейшие цивилизации Земли

В Инд

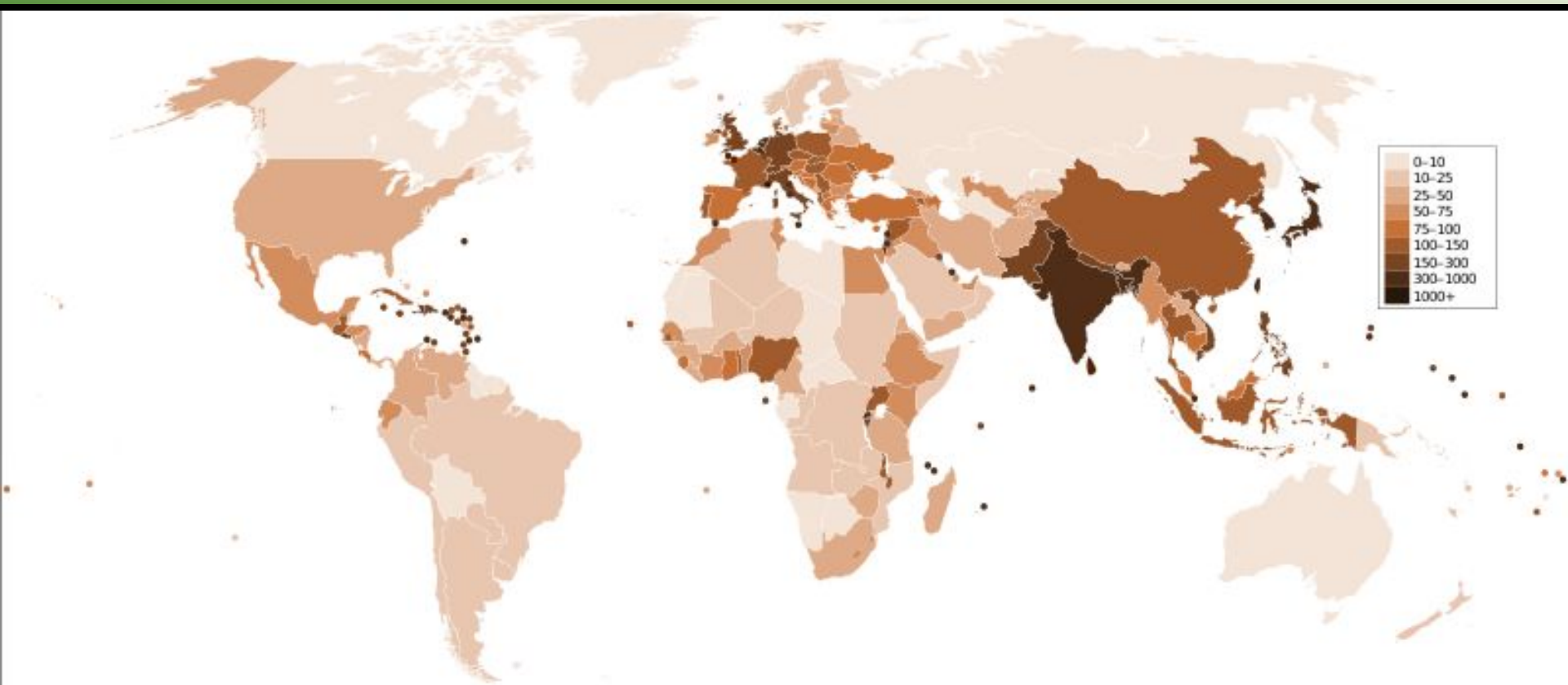
АММИИ

Они сыграли
большую роль в
развитии
человеческого
общества





Плотность населения мира

Изучив карту плотности населения, установите особенности размещения населения на материке Евразия и их причины



Многообразие расового и национального состава Евразии

Европеоидная		Монголоидная	Экваториальная
Северная	Южная	Центральная и Восточная Азия	Острова Южной Азии и юга Индостана
Заселяют Северную и Северо-западную территории материка; волосы и глаза	Южная Европа, Юго-Западная Азия. Темные глаза и волосы, смуглая кожа (более древняя ветвь)	низкорослые, кожа желто-смуглая, темные узкие глаза, широкий нос, прямые темные волосы	темнокожие, плосколицые, темные волнистые волосы




РАЗМИНКА





Политическ ая карта Евразии



Группы стран

НаПример

Крупнейшие по площади страны

Островные страны

Россия

Сингапур

Италия

Испания

Ирландия

Китай

Андорра

Португалия

Дания

Исландия

Закрепление



Какие расы, народы, их семьи и группы проживают на территории Евразии? Назовите и покажите на карте.



Покажите на карте наиболее заселенные части континента. Какие территории населены слабо? Почему?



По каким признакам можно группировать страны Евразии? Приведите примеры стран каждой группы.



Домашнее задание

Уметь показывать на
политической карте
мира страны
Зарубежной Европы

