

«Население и народы Африки»

7 класс







- [Происхождение человека](#)
- [РАСЫ](#)
- [РЕЛИГИОЗНЫЙ СОСТАВ](#)
- [ПЛОТНОСТЬ НАСЕЛЕНИЯ](#)
- [КОЛОНИАЛЬНОЕ ПРОШЛОЕ](#)
- [ЗАДАНИЯ](#)
- [ДОМАШНЕЕ ЗАДАНИЯ](#)

*Африка –
прародина человека*

На территории современных
Эфиопии, Кении и Танзании



были обнаружены
останки человека
и его орудия труда,
возраст которых
более **20** млн. лет.




ЭК
ВА
ТО
РИ
АЛ



НВР
АӨПЕ
ОИД
ГШАЯ



МӨ
ЕЖ
УТО
ЧН
АЯ



Экваториальная раса

Саванны

Влажные
экваториальные
леса

Пустыни и
полупустыни

- масаи
- нилоты
- тутси

• пигмеи

- бушмены
- готтентоты



Экваториальная раса




Масаи

Масаи до сих пор ведут полукочевой образ жизни на территории Кении и Танзании. Но строительство новых городов и рост уже построенных всё чаще заставляет их уходить из родных мест. Самый высокий народ Африки.



Масаи традиционно строят свои хижины из навоза. Это племя кочевников, они постоянно перемещаются в поисках корма и воды для скота.

Поэтому их жилища не постоянны, но они должны простоять какое то время пока *масаи* находятся на одном месте.



Хижины
выстраиваются по кругу и
ограждаются ветвями с
колючками и шипами для
защиты от львов.
Молодые коровы и козы
также содержатся внутри
бомы (деревни).

Пигмеи

«Дети леса»



Первое древнейшее свидетельство о пигмеех оставил греческий историк **V** в. до х. э. Геродот.

Пигмеи – народ кочевой. Несколько раз за год они оставляют свои дома и вместе со всем нехитрым скарбом уходят скрытыми тропами в самые глухие лесные уголки.

Самый низкорослый народ.

Рост *пигмеев* — **140—150** см. Кожа у них золотисто-коричневого цвета, светлее, чем у других африканцев.





Тетивой для их крохотных луков служат выющиеся растения. Свои миниатюрные стрелы они затачивают острым камнем и обмазывают растительным ядом.

Глиняные горшки выменивают у соседних племен. Никаких запасов провизии *пигмеев* не делают. Если добыли мясо, то съедают его в тот же день.



Пигмеи придумали очень эффективный способ ловли!

Они бросают в реку специально сваренный растительный яд.

Рыба засыпает и всплывает на поверхность.





Живут пигмеи в шалашах, похожих на небольшие зеленые бугорки.

Огонь пигмеи поддерживают постоянно.

При переходе на другую стоянку они несут с собой горящие головни, так как высекать огонь при помощи кремня очень долго и трудно .



В землю втыкают лозу, которую перекидывают на определенной высоте через центр будущего жилища и укрепляют в противоположной стороне.

Так получается куполообразный остов, который затем переплетают лианами, а сверху покрывают листьями. У пигмеев, знакомых с земледелием, крыши делаются из банановых листьев. Первые слои листьев просто накладывают друг на друга, а верхние, которые может унести ветер, связывают лианами.



Название расы	Народы	Место проживания	Характерные черты
<i>Экваториальная (негроидная)</i>			
<i>Экваториальная</i>			
<i>Европеоидная</i>			
<i>Промежуточная</i>			

Нилоты
Масаи
Тутси
Пигмеи

Саванны в
северной части
материка
Зона экваториальных лесов

Очень темная, почти чёрная кожа.
Рост **180-200** см.


Кожа менее тёмная, губы тонкие.
Нос широкий.
Коренастые, малорослые (**150** см)

Характеристика расы



Бушмены

«властители пустыни»



Бушмены - древнейшее коренное население Южной и Восточной Африки. Живут в пустынях Калахари и Намиб, в окрестностях впадины Этоша в Намибии, в смежных с ней районах Ботсваны, Анголы и ЮАР; незначительное число в Танзании.

Бушмены – низкорослый народ, однако сложены они пропорционально.

Бушмены гораздо светлее пигмеев и банту, имеют кожу желтоватого оттенка, свойственную жителям Южной Азии.





Никто в Африке не может сравниться с бушменами своим знанием природы.

Бушмены – непревзойденные охотники и следопыты, художники и знатоки змей, насекомых и растений.



Мужчины охотятся с помощью луков и стрел, наконечники которых отравленные ядом.

Яд, парализующий нервную систему жертвы, добывают из высушенных и размолотых особых личинок жуков.

Также расставляют силки из сухожилий животных у водопоев.





Обычно свой табор *бушмены* устраивают среди кустарника, за что, видимо, и получили от европейцев название – «*кустарниковые люди*» .

Постоянное жилье *бушменов* незначительно отличается от временного. Они строят его, используя те же подсобные материалы с применением шкур антилоп.



Бушмены – кочевники, и когда иссякает пища, они покидают это место и уходят в поисках ее дальше.



Название расы	Народы	Место проживания	Характерные черты
Экваториальная (негроидная)	Нилоты Масаи Тутси	Саванны в северной части материка	Очень темная, почти чёрная кожа. Рост 180-200 см.
	Пигмеи	Зона экваториальных лесов	Кожа менее тёмная, губы тонкие. Нос широкий. Коренастые, малорослые (150 см)
Экваториальная			
Европеоидная			
Промежуточная			

Бушмены
Готтентоты

Полупустыни
пустыни

Желтовато-коричневый цвет кожи.
Широкое плоское лицо.
Бушмены низкорослы, но тонкокостны.



Европеоидная раса

КОРЕННОЕ НАСЕЛЕНИЕ

- **АРАБСКИЕ НАРОДЫ:**
берберы, алжирцы,

ПРИШЛОЕ НАСЕЛЕНИЕ

- **СЕВЕР** - французы
- **ЮГ** – африканеры (буры)



Европеоидная раса

(коренное население)




арабские народы

берберы

В местном переводе
«бер-бер» означает «переселение
группами».

Коренное население Северной Африки – *Берберы*
– проживают в настоящее время на территориях стран:
*Алжира, Марокко, Ливии, Туниса, Судана, Египта,
Нигер, Мали.*




Сейчас подавляющее большинство бербер ведёт оседлый образ жизни.

Распространено пашенное земледелие (пшеница, ячмень, просо, оливки, финиковая пальма, садоводство и огородничество).

А скотоводы-кочевники разводят верблюдов, крупный и мелкий рогатый скот.



Жилища кочевников – палатки-шатры (тахамт), а оседлые племена живут в деревянных или каменных жилищах.



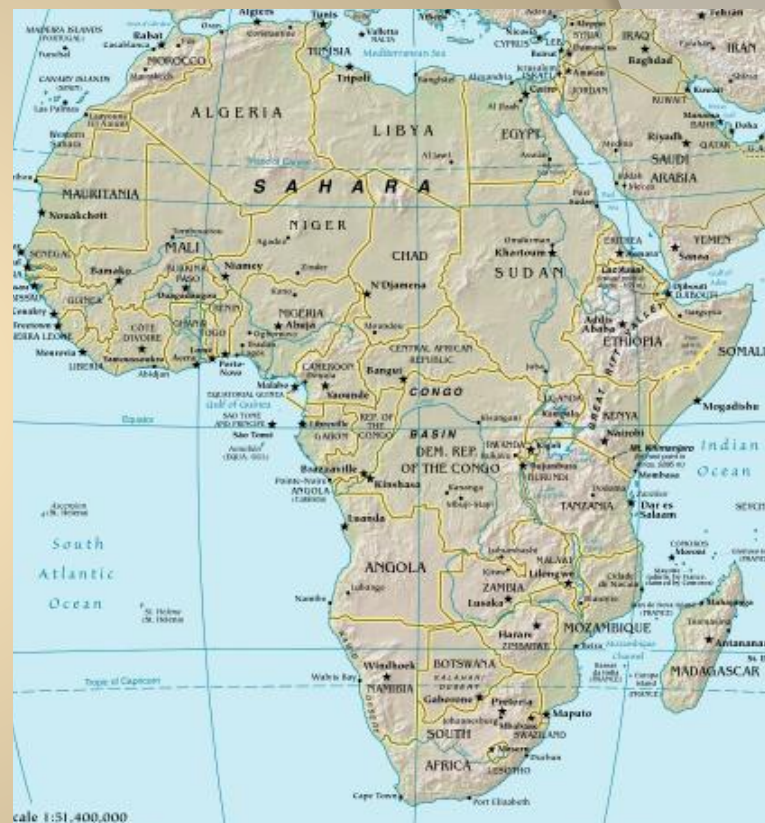


С началом арабских завоеваний в конце **VII** века происходит арабизация и исламизация берберского населения, особенно в **XI—XII** веках. В то же время сохраняется выраженное этническое самосознание.



Европеоидная раса

(пришлое население)



Французы

Африканеры
(буры)



Название расы	Народы	Место проживания	Характерные черты
Экваториальная (негроидная)	Нилоты Масаи Тутси Пигмеи	Саванны в северной части материка Зона экваториальных лесов	Очень темная, почти чёрная кожа. Рост 180-200 см. Кожа менее тёмная. Губы тонкие. Нос широкий. Коренастые, малорослые (150 см)
Экваториальная	Бушмены Готтентоты	Полупустыни пустыни	Желтовато-коричневый цвет кожи, широкое плоское лицо. Бушмены низкорослы, но тонкокостны
Европеоидная			
Промежуточная			

Алжирцы
Туареги
Египтяне
Берберы

Север Африки
Юг Африки


Смуглая кожа, тёмная окраска волос и глаз, удлинённый череп, узкий нос и овальное лицо



Промежуточная раса

ЭФИОПЫ


МАЛАГАСИЙЦЫ



Промежуточная раса

эфиопы

от греч. **Aithíops** — *обожжённый солнцем, загорелый*



греки первоначально называли эфиопами
все народы с темным цветом кожи
население верховьев Нила

Эфиопы низкорослые, тонкокостные с широким плоским лицом. У них узкий нос и тонкие губы.




малагасийцы

основное население Республики
Мадагаскар (до **20** млн человек)

Скотоводство является подсобным.
Уход за скотом (выпас, дойка) —
почетная обязанность мужчин
и подростков.



Население влажного тропического района
на *восточном побережье* занимается
земледелием
и рыболовством.
Основная культура — рис



Рыболовство и охота на морских животных
занимают значительное место в жизни
прибрежного населения, особенно на
западе

Название расы	Народы	Место проживания	Характерные черты
Экваториальная (негроидная)	Нилоты Масаи Тутси	Саванны в северной части материка	Очень темная, почти чёрная кожа. Рост 180-200 см.
	Пигмеи	Зона экваториальных лесов	Кожа менее тёмная, губы тонкие. Нос широкий. Коренастые, малорослые (150 см)
Экваториальная	Бушмены Готтентоты	Полупустыни пустыни	Желтовато-коричневый цвет кожи, широкое плоское лицо. Бушмены низкорослы, но тонкокостны
Европеоидная	Алжирцы Туареги Египтяне Берберы	Север Африки	Смуглая кожа, тёмная окраска волос и глаз, удлинённый череп, узкий нос и овальное лицо
Промежуточная			

Эфиопы
Малагасийцы

п-ов Сомали
о.Мадагаскар

Более светлая, но с красноватым
оттенком кожа. Смешение монголоидной
и негроидной рас



РАСЫ

```
graph TD; A[РАСЫ] --> B[ЭКВАТОРИАЛЬНАЯ]; A --> C[ПРОМЕЖУТОЧНАЯ]; A --> D[ЕВРОПЕОИДНАЯ];
```

ЭКВАТОРИАЛЬНАЯ


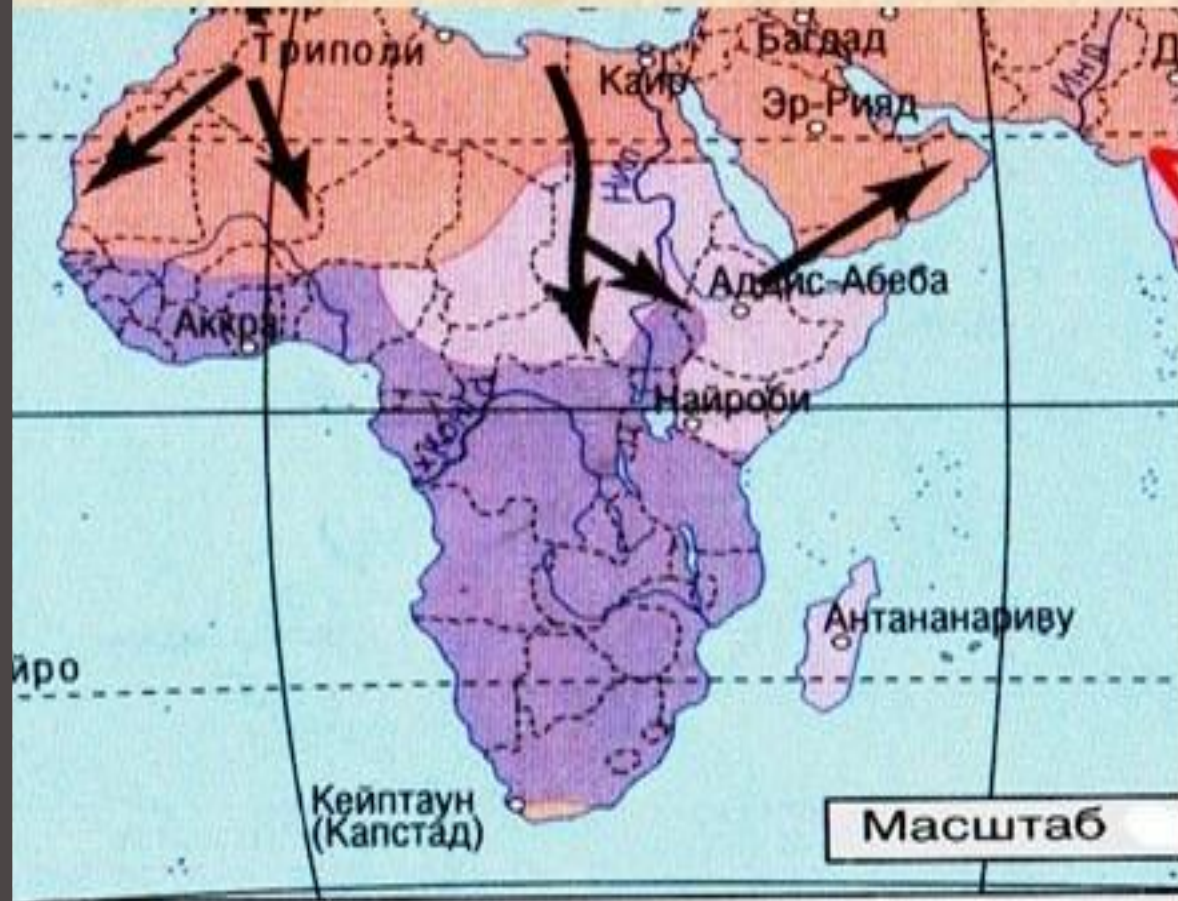
ПРОМЕЖУТОЧНАЯ

ЕВРОПЕОИДНАЯ

Р а с ы - это исторически сложившиеся группы людей, связанные единством происхождения, имеющие сходные признаки, которые передаются по наследству.



Расовый состав населения.



Религиозный состав



Народы Африки исповедуют различные религии.
В арабских странах (Алжир, Марокко, Египет и т.д.),
а также в Сомали и Джибути господствует
ислам суннитского направления.
Много *мусульман* в Центральной Африке.
В целом Центральная Африка отличается
преобладанием *местных религий.*
В Южной Африке (Намибия, ЮАР и др.)
распространено *христианство.*
Имеются *секты индуизма и иудаизма.*





Карта распространения языков



В Африке проживает более **200** народов, относящихся к **16** различным языковым семьям.



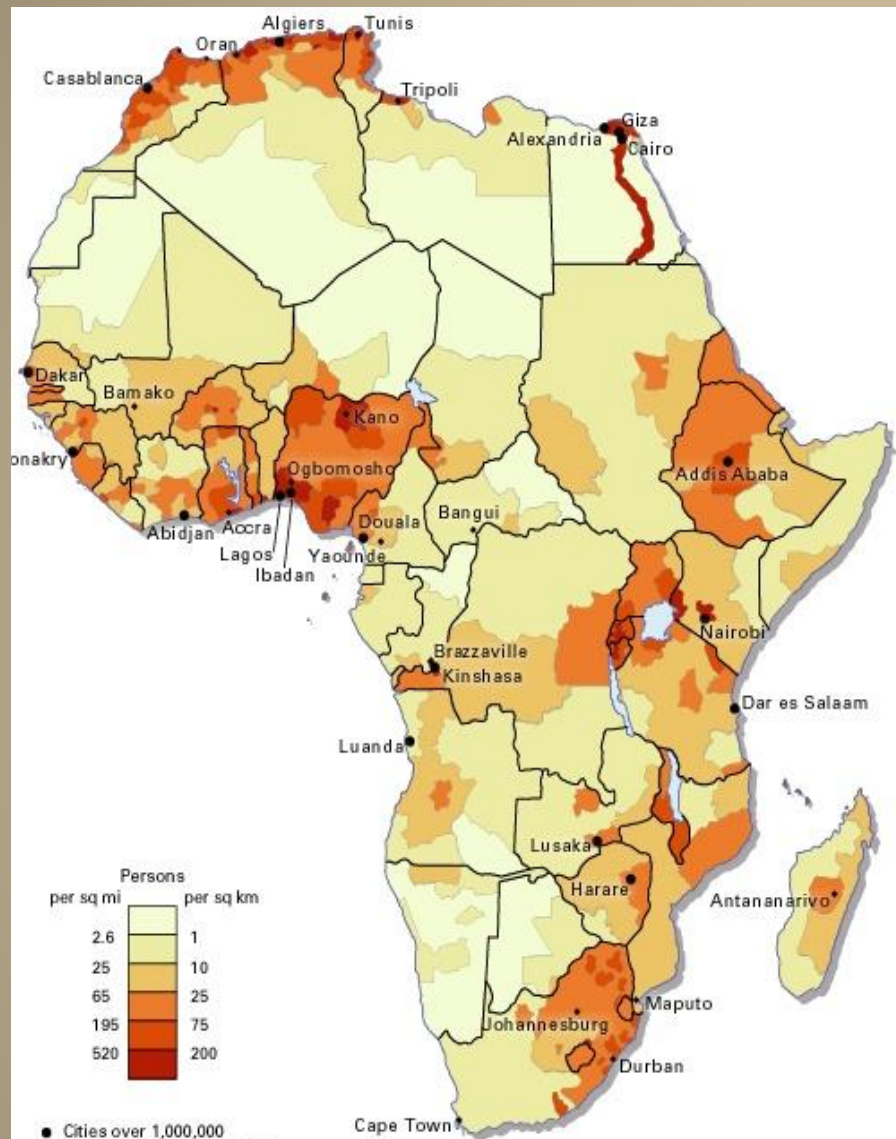


Плотность населения

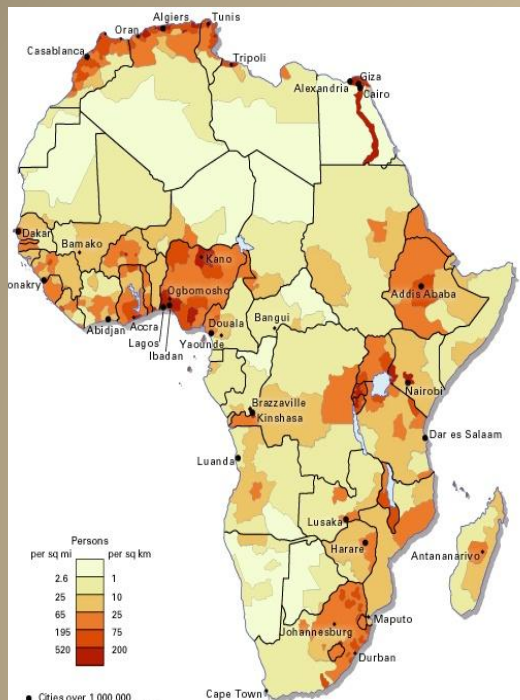
Средняя плотность населения

континента —

около **30 чел./км²**



На размещение населения влияют не только *природные условия*, но и *исторические факторы*, в первую очередь последствия работорговли и колониального господства.



В целом густо населены долины *Нила* (**1200 чел./км²**), приморская зона - страны *Марокко, Алжир, Тунис*, районы орошаемого земледелия *Судана*, *оазисы Сахары*, окрестности крупных городов (**100-200 чел. км. кв.**).

Низкая плотность населения отмечается

в Сахаре – менее **1**,

в Тропической Африке – **1-5**,

в сухих степях и полупустынях Намиб и Калахари – менее **1** чел.

/км².



Вопросы к тематической карте:

- 1.** Покажите на карте районы с наибольшей плотностью населения (более **100** чел/км²).
- 2.** Покажите на карте районы с наименьшей плотностью населения (менее **1** чел/км²).
- 3.** Как изображаются на карте незаселенные территории? Есть ли они на территории материка?
- 4.** Какова плотность населения на востоке материка?
- 5.** Какая плотность населения преобладает в бассейне реки Конго?



ВЫВОД:



Численность Африки на **2011** год составила **1,04 млрд. человек**. Средняя плотность населения континента невелика – **34,2 чел./км²**.

На размещение населения влияют *природные условия и исторические факторы* - последствия работорговли и колониального господства.


Густо населены долины Нила, приморская зона Средиземноморья, государства Восточной Африки, оазисы Сахары, окрестности крупных городов.

Низкая плотность населения отмечается в Тропической Африке, в сухих степях и полупустынях Намиб и Калахари, а в отдельных областях Сахары население вообще отсутствует.

Колониальное прошлое Африки

ЗАДАНИЕ:

выберите правильные утверждения



1. Колонизация материка началась ещё в древние века.
2. Страны Европы разделили между собой почти всю Африку к началу XX века.
3. Либерия и Египет – это страны, которые оставались свободными в начале XX века.
4. Колонизаторы угнетали и эксплуатировали коренное население, превратили африканцев фактически в рабов.
5. Длительное господство колониальных держав способствовало быстрому развитию африканских стран.
6. В конце XX века Африка стала материком национально-освободительной борьбы, колониальная система рухнула.
7. В настоящее время в Африке нет колоний.





Нельсон Холилала Мандела

Родился в **1918** году. Первый чернокожий президент ЮАР с **10** мая **1994** по **14** июня **1999**, *один из самых известных активистов в борьбе за права человека в период существования апартеида.*

Лауреат Нобелевской премии мира **1993**. Почётный член более **50** международных университетов.

«Быть свободным значит не просто скинуть с себя оковы, но жить, уважая и приумножая свободу других»



Политический и общественный деятель, первый премьер-министр Демократической Республики Конго в **1960.**

Национальный герой Заира, поэт и один из символов борьбы народов Африки за независимость.

Основатель (**1958**) и руководитель партии Национальное движение Конго.

Патрис Эмери Лумумба
(**2** июля **1925** — **17** января **1961**)

Закрепление изученного материала



- 1.** Какой материк ученые считают прародиной современного человека?
- 2.** К какой расе относится большая часть населения Африки?
- 3.** Какие народы проживают в полупустынях и пустынях Южной Африки?
- 4.** Эти «лесные люди» отличаются желтоватым цветом кожи, очень широким носом, малым ростом? Кто это?
- 5.** Где в пределах материка проживает пришлое население европеоидной расы?
- 6.** Какова численность населения Африки? Чему равна средняя плотность населения материка?
- 7.** Как называется страна, лишенная политической и хозяйственной самостоятельности?

Т е с т

1. В АФРИКЕ ПРОЖИВАЕТ ... ЧЕЛОВЕК.

а) менее 500 млн., б) 500 млн. - 850 млн., в) около 1 млрд.

2. В ЭКВАТОРИАЛЬНОЙ АФРИКЕ ПРЕОБЛАДАЕТ НАСЕЛЕНИЕ ... РАСЫ. а)

негроидной, б) европеоидной, в) монголоидной.

3. НАСЕЛЕНИЕ СЕВЕРНОЙ АФРИКИ:

а) малагасийцы, б) арабские народы, в) народы банту.

4. САМЫЕ НИЗКИЕ НАРОДЫ АФРИКИ НАЗЫВАЮТСЯ:

а) пигмеи, б) лилипуты, в) бушмены.

5. НАИБОЛЕЕ ДРЕВНИЕ ОСТАНКИ ЧЕЛОВЕКА БЫЛИ НАЙДЕНЫ В:

*а) Египте, Ливии, Алжире, б) Нигерии, Габоне, Чаде,
в) Танзании, Кении, Эфиопии.*

6. ОДИН ИЗ САМЫХ ВЫСОКИХ НАРОДОВ АФРИКИ:

а) бушмены, б) масаи, в) арабы.

7. ПРИШЛОЕ НАСЕЛЕНИЕ АФРИКИ ПРОЖИВАЕТ:

*а) на экваторе, б) на побережье Гвинейского залива,
в) на северном и южном побережье материка.*



Т е с т - о т в е т ы

1. В АФРИКЕ ПРОЖИВАЕТ ... ЧЕЛОВЕК.

а) менее **500** млн., б) **500** млн. - **850** млн., в) около **1** млрд.

2. В ЭКВАТОРИАЛЬНОЙ АФРИКЕ ПРЕОБЛАДАЕТ НАСЕЛЕНИЕ ... РАСЫ. а)

негроидной, б) европеоидной, в) монголоидной.

3. НАСЕЛЕНИЕ СЕВЕРНОЙ АФРИКИ:

а) малагасийцы, б) арабские народы, в) народы банту.

4. САМЫЕ НИЗКИЕ НАРОДЫ АФРИКИ НАЗЫВАЮТСЯ:

а) пигмеи, б) лилипуты, в) бушмены.

5. НАИБОЛЕЕ ДРЕВНИЕ ОСТАНКИ ЧЕЛОВЕКА БЫЛИ НАЙДЕНЫ В:

а) Египте, Ливии, Алжире, б) Нигерии, Габоне, Чаде,

в) Танзании, Кении, Эфиопии.

6. ОДИН ИЗ САМЫХ ВЫСОКИХ НАРОДОВ АФРИКИ:

а) бушмены, б) масаи, в) арабы.

7. ПРИШЛОЕ НАСЕЛЕНИЕ АФРИКИ ПРОЖИВАЕТ:

а) на экваторе, б) на побережье Гвинейского залива,

в) на северном и южном побережье материка.



Домашнее задание:

§20, вопросы после параграфа


(учебник «Наш дом – Земля»).

Подготовить сообщения на темы: *мифы, легенды и сказки народов Африки.*

Практическая работа в контурной карте: обозначить границы размещения рас.



Интернет-ресурсы



<http://www.youtube.com/watch?v=qepwTY8u9LE&feature=related> – видеофрагмент
<http://www.webeconomy.ru/uploads/eur/top/azia/6.jpg> – пигмеи
<http://pptcloud.ru/datai/geografija/Narod-Afriki/0012-022-Pigmei.jpg> – пигмеи
<http://www.vokrugsveta.ru/photo/thumbnails/600/14126.jpg> – пигмеи
<http://900igr.net/datai/geografija/Narod-Afriki/0012-023-Pigmei.jpg> - пигмеи
<http://www.bi-om.ru/om/images/img/kongo/11.jpg>
- пигмеи (жилище)
<http://lewebpedagogique.com/virginievacher/files/2009/10/31.jpg> – бушмены
<http://www.zambezi.co.uk/safari/images/ua07iu.jpg> – бушмены
<http://0.tqn.com/d/archaeology/1/0/u/6/1/BushmenSan.jpg> – бушмены
http://gallery.exonet.ru/main.php?g2_view=core.DownloadItem&g2_itemId=7494&g2_serialNumber=4 - бушмены
http://www.tourworld.ru/namibia05-2007/IMG_0142.jpg - бушмены (жилище)
http://gallery.forum-grad.ru/files/6/7/1/2/7/masai-mara_3.jpg – масаи
<http://www.vokrugsveta.ru/img/cmn/2009/05/28/002.jpg> – масаи
<http://s009.radikal.ru/i309/1107/c2/4ea0fcaece09.jpg>
- масаи (жилище)
<http://www.restoran65.ru/up/article/img/maroc.jpg> – берберы
<http://img373.imageshack.us/img472/865/sahra291yp.jpg> - берберы
http://www.tourblogger.ru/sites/default/files/imagecache/600x450/albums/16874/7850/original/2911_31115.jpg - берберы
http://www.karakumi.ru/burjui/marocco/albomfra/big/vibert_10.jpg - берберы
http://img-f.photosight.ru/7a9/3607487_thumb.jpeg - берберы
<http://upload.wikimedia.org/wikipedia/commons/2/23/BerberTentZagora.jpg> – палатки-шатры берберов
<http://www.sntc.org.sz/sdphotos/photos/sboerfamily1886.jpg> – африканеры
http://www.abtt.com.ua/img/img_dat/efiop3.jpg - эфиопы
http://www.worldphotostour.com/Main/Ethiopian_tribe_karo_003.JPG - эфиопы
<http://900igr.net/datai/geografija/Narod-Afriki/0022-041-Promezhutochnaja-rasa-malagasijtsy.jpg> – малагасийцы
<http://www.femsinspace.com/bushman.jpg> - малагасийцы
<http://s012.radikal.ru/i320/1107/ae/e51d1e6ca250.jpg> - религии Африки
<http://mygeog.ru/narody-afriki-plan-uroka-prezentaciya-video/> - карты, картинки
<http://science.compulenta.ru/upload/iblock/6c1/71724-004-2743B5E9.jpg> – плотность населения Африки – карта
<http://indulgedtraveler.com/stories/pics/africa/Ghana5.jpg> - отец и сын
http://img.terra.com.mx/galeria_de_fotos/images/482/962643.jpg - Нельсон Холилала Мандела
http://www.afriquechos.ch/IMG/gif/Lumumba1960_b.gif - Патрис Лумумба
<http://dic.academic.ru/dic.nsf/lower/13003> - апартеид

**СПАСИБО
ЗА РАБОТУ!**