

Тест по теме

«Природные зоны Южной Америки»

1. В Южной Америке расположены следующие природные зоны:

а) влажные экваториальные леса, переменнно-влажные леса, саванны и редколесья, жестколиственные вечнозелёные леса и кустарники, полупустыни, степи, смешанные леса, высотная поясность;

б) полупустыни и пустыни, саванны и редколесья, жестколиственные вечнозелёные леса и кустарники, переменнно-влажные леса, высотная поясность;

в) антарктические и арктические пустыни.

2. Эта природная зона занимает на материке большую площадь. Она расположена на Амазонской низменности и на прилегающих к ней восточных склонах Анд, а также в северной части Тихоокеанского побережья:

а) переменнo-влажные леса;

б) влажные экваториальные леса;

в) саванны и редколесья.

3. Эта природная зона занимает Оринокскую низменность и большую часть Гвианского и Бразильского нагорий. Расположены в основном в субэкваториальном и частично в тропическом климатических поясах:

а) влажные экваториальные леса;

б) степи;

в) саванны.

4. Скучная растительность представлена сухими злаками и кустарниками. Почвы малоплодородные. Зона расположена в субтропическом и умеренном климатических поясах:

а) степи;

б) высотная поясность;

в) полупустыни.

5. Её называют пампой:

а) степи;

б) полупустыни;

в) саванны.

6. Её называют сельвой:

а) степи;

б) полупустыни;

в) влажные экваториальные леса.

7. Её называют Патагонией:

а) степи;

б) полупустыни;

в) влажные экваториальные леса.

Проверка дополнительного задания:

Определите центры происхождения культурных растений:

- твёрдая пшеница –
- рис –
- кукуруза –
- кофе –
- помидоры –
- какао –
- картофель –
- фасоль –
- чай –

Критерии оценивания

- Оценка «5» - 14 - 15 правильных ответов
- Оценка «4» - 10 –13 правильных ответов
- Оценка «3» - 4 -9 правильных ответов





Потомки коренных жителей Амазонии.



Жители Перу.



У древних народов Южной Америки существовал такой способ передачи информации, как узелковое письмо — кипу.





Так выглядит жильё простых сельских жителей Ю.Америки, живущих во влажных и переменно-влажных лесах.

Сейчас в Южной Америке живут представители всех трёх рас человечества. Назовите их.

Найдите термины в учебнике: **метисы, мулаты, самбо, креолы.**

Задание. Назовите сложный этнический состав населения Южной Америки, начиная фразой: «От браков ... с ...».



Индейцы


Метисы

Европейцы

Самбо

Негры

Мулаты



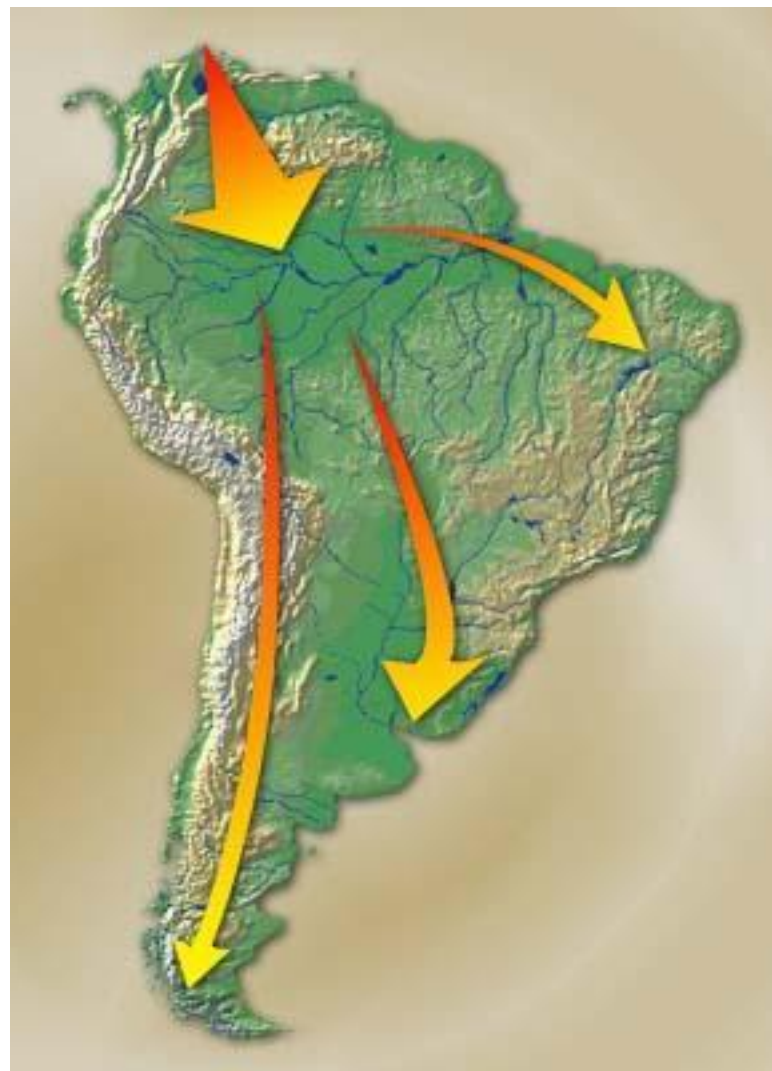
Население Южной Америки

В Южной Америке живёт более 391 млн. человек. Расовый и этнический состав населения характеризуется большой сложностью, что объясняется историей заселения материка.

Крупнейшие индейские народы:

- Кечуа – 14,87 млн. чел.*
- Аймара – 2,55 млн. чел.*
- Арауканы – 870 тыс. чел.*
- Чибча – 635 тыс. чел.*
- Араваки – 400 тыс. чел.*

Происхождение коренного населения материка — индейцев — долгое время вызывало споры среди ученых. По наиболее распространенному мнению предки индейцев пришли на материк через Северную Америку из Северо-Восточной Азии примерно за 15 тыс. лет до нашей эры. Предками некоторых групп индейцев Южной Америки (например, арауканов, гуарауно, карибов), по мнению некоторых ученых, могли быть более поздние выходцы из Океании.



На материке выделяют страны Амазонии, Ла-Платской низменности и Андские страны.

Они отличаются друг от друга размерами территории, географическим положением, природными ресурсами, численностью населения и развитием хозяйства. После освобождения от колониальной зависимости в начале XIX в. страны избрали республиканскую форму правления. На материке расположен и «заморский департамент» Франции - Гвиана (Французская).



Распределение заданий по группам

Задания (работа с картами атласа :

1. Назовите основные языки населения материка.
2. Сгруппируйте страны по таким признакам:
 - по площади (самые большие и маленькие);
 - имеющие выход к морю;
 - не имеющие выхода к морю;
 - имеющие равнинный рельеф;
 - имеющие горный рельеф;
 - с самой большой плотностью населения;
 - с самой маленькой плотностью населения.

Итог урока.

1. Каково происхождение населения современной Южной Америки?
2. Что обозначают термины:
 - метисы - ...
 - мулаты - ...
 - самбо - ...
 - креолы - ...
3. Назовите территории Южной Америки с высокой плотностью населения.

Домашнее задание: § 43; изучить политическую карту Южной Америки.

