

Население и страны Африки



География 7 класс
Учитель географии
МОУ-СОШ с. Софьино
Шмелева Татьяна Викторовна

ЦЕЛИ УРОКА

1. НАЗЫВАТЬ И ПОКАЗЫВАТЬ РАЙОНЫ ПОВЫШЕННОЙ ПЛОТНОСТИ НАСЕЛЕНИЯ И ОСНОВНЫЕ РАСЫ;
2. ОБЪЯСНЯТЬ ОТЛИЧИЯ ПРЕДСТАВИТЕЛЕЙ КАЖДОЙ РАСЫ И ПРИНЦИП РАЗМЕЩЕНИЯ НАСЕЛЕНИЯ;
3. НАЗЫВАТЬ И ПОКАЗЫВАТЬ НАИБОЛЕЕ КРУПНЫЕ ПО ПЛОЩАДИ СТРАНЫ;
4. ОПРЕДЕЛЯТЬ ПО КАРТЕ ГЕОГРАФИЧЕСКОЕ ПОЛОЖЕНИЕ СТРАНЫ И ЕЕ СТОЛИЦЫ.

Проверка домашнего задания

ГЕОГРАФИЧЕСКИЙ ДИКТАНТ

Задание. Выписать номера правильных ответов.

1. Саванна
2. Мадагаскар
3. Игольный
4. Нил
5. Килиманджаро
6. Конго
7. Пустыня
8. Виктория
9. Серенгети
10. Самум

Вопрос	Ответ
1. Самое большое озеро Африки по площади.	
2. Самая полноводная река Африки.	
3. Национальный парк , пользуется мировой известностью.	
4. Природная зона, занимающая 40% площади материка.	
5. Самая высокая точка материка.	
6. Самый большой остров материка.	
7. Климат в этой зоне тропический сухой.	
8. Крайняя южная точка материка.	
9. Самая длинная река материка и мира.	
10. Сильнейший ветер, несущий тучи песка.	

ПРОВЕРИМ !

Вопрос	Ответ
1.Самое большое озеро Африки по площади.	8. Виктория
2. Самая полноводная река Африки.	6. Конго
3. Национальный парк, пользуется мировой известностью.	9. Серенгети
4. Природная зона, занимающая 40% площади материка.	1. Саванна
5. Самая высокая точка материка.	5. Килиманджаро
6. Самый большой остров материка.	2. Мадагаскар
7. Климат в этой зоне тропический сухой.	7. Пустыня
8. Крайняя южная точка материка.	3. Игольный
9. Самая длинная река материка и мира.	4. Нил
10. Сильнейший ветер, несущий тучи песка.	10. Самум

ИЗУЧЕНИЕ НОВОГО МАТЕРИАЛА

АФРИКА – ПРАРОДИНА ЧЕЛОВЕКА.

Современное население Африки относится к трём основным расам: европеоидная, экваториальная, монголоидная.

Основную часть жителей материка составляет коренное, постоянное население.

НАРОДЫ АФРИКИ

Название расы	Народы	Место проживания	Характерные черты
Европеоидная	Алжирцы Марокканцы Египтяне Берберы	Север Африки	Смуглая кожа, тёмная окраска волос и глаз, удлинённый череп, узкий нос и овальное лицо

НАРОДЫ АФРИКИ

Название расы	Народы	Место проживания	Характерные черты
Экваториальная (негроидная)	Тутси Нилоты Масаи Пигмеи	Саванны и северные части материка Зона экваториальных лесов	Очень темная, почти чёрная кожа, рост 180-200 см. Кожа менее тёмная, губы тонкие, широкий нос, коренастые, малорослые (150 см)

НАРОДЫ АФРИКИ

Название расы	Народы	Место проживания	Характерные черты
Монголоидная	Бушмены Готтентоты	Полупустыни пустыни	Желтовато-коричневый цвет кожи, широкое плоское лицо. Бушмены низкорослы, но тонкокожны.

НАРОДЫ АФРИКИ

Название расы	Народы	Место проживания	Характерные черты
Промежуточная	Эфиопы Малагасийцы	Мадагаскар	Более светлая, но с красноватым оттенком кожа. Смешение монголоидной и негроидной рас.

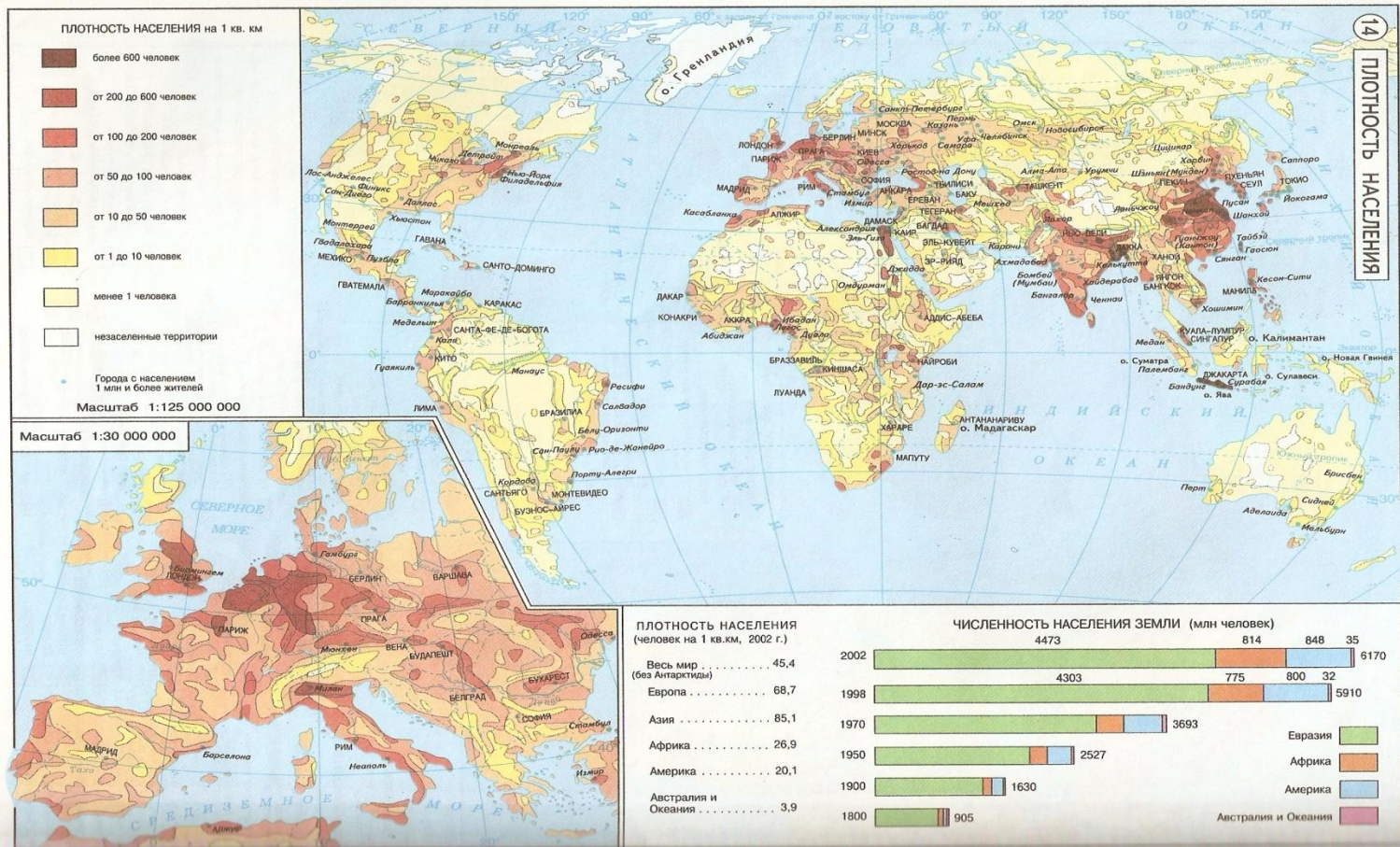
ИНТЕРЕСНО!

Известно, что на планете Земля живут люди с различным цветом кожи: чернокожие, желтолицые, бледнолицые. А вот *туарегов*, населяющих Нигер, называют «синими людьми пустыни». Их праздничная одежда цвета индиго под яркими лучами солнца отбрасывает синие отсветы на смуглую кожу, а нестойкая краска впитывается в неё.

ИНТЕРЕСНО!

На границе Уганды и Судана живут изолированные от внешнего мира племена ***карамоджонгов***, относящиеся к группе нилотов, самых высоких людей планеты. Средний рост женщин, которые гораздо ниже мужчин, достигает 190 см. Эти африканские гулливеры являются и самыми темнокожими.

Работа с картой «Народы и плотность населения».



РАЗМЕЩЕНИЕ НАСЕЛЕНИЯ

Из анализа карты видно, что сравнительно густо заселены побережья Средиземного моря, Гвинейского залива и юго-восточное побережье материка.

Высокая плотность населения в дельте Нила, где на 1 км^2 приходится 1000 человек. В пустыне Сахара, занимающей почти $\frac{1}{4}$ материка, живёт менее 1% всего населения, а в отдельных областях оно вообще отсутствует.

ВЫВОД

Численность Африки превышает 780 млн. человек. Африка имеет относительно редкое население, которое крайне неравномерно размещается по территории материка. На размещение населения влияют не только природные условия, но и исторические причины, в первую очередь последствия работорговли и колониального господства.

КОЛОНИАЛЬНОЕ ПРОШЛОЕ МАТЕРИКА

Колонизация материка началась ещё в средние века. А к началу XX века почти всю территорию Африки капиталистические страны Европы разделили между собой и превратили в материк *колоний* (стран, лишённых политической и хозяйственной самостоятельности). Колонизаторы угнетали и эксплуатировали коренное население, отнимали лучшие земли, сгоняли с родных мест в малопригодные для жизни районы. Они беспощадно грабили страны.

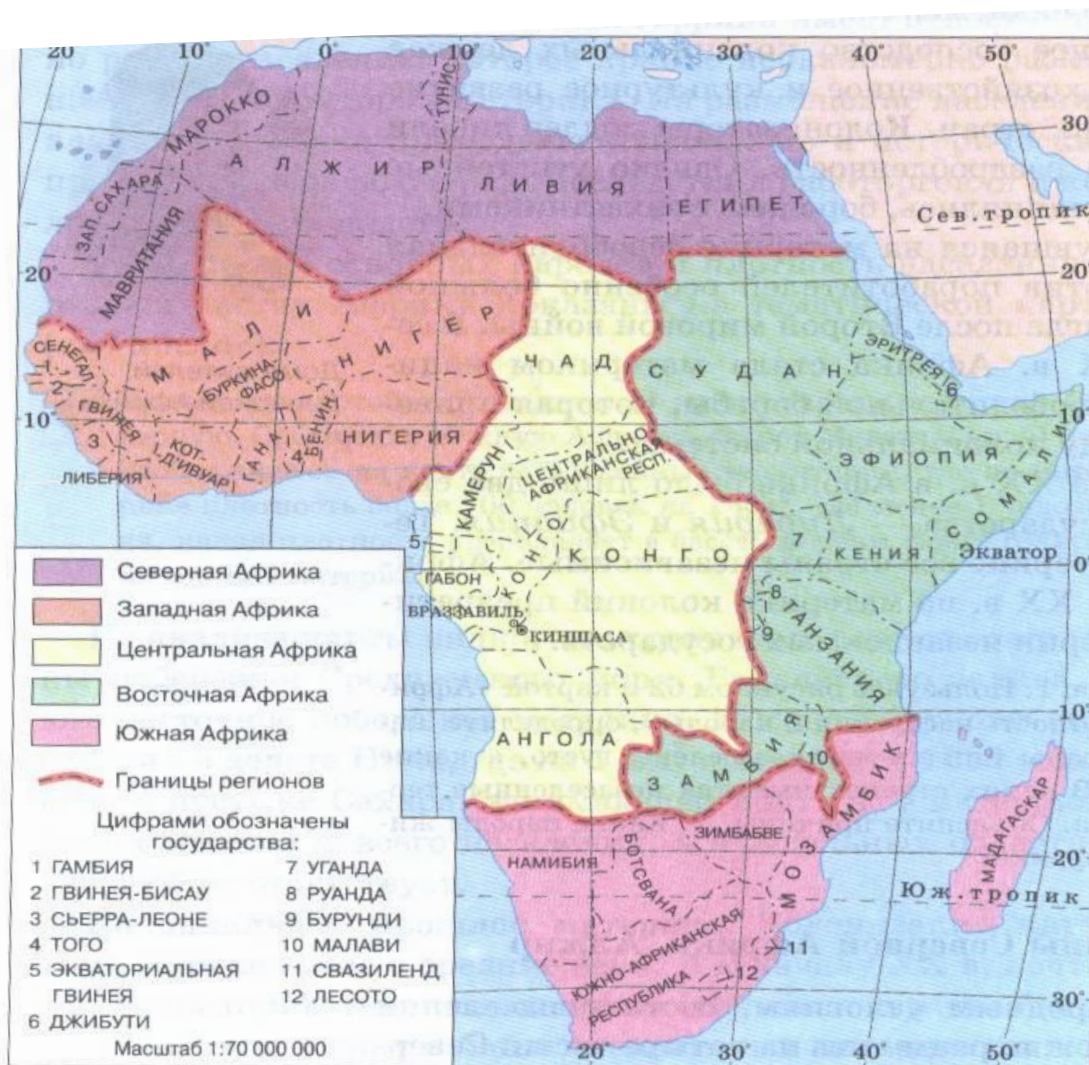
В начале XX века в Африке было лишь два свободных государства. Теперь на материке все страны независимые.

СТРАНЫ АФРИКИ

По природным условиям, составу населения Африку можно разделить на четыре части: Северную, Западную и Центральную, Восточную, Южную.



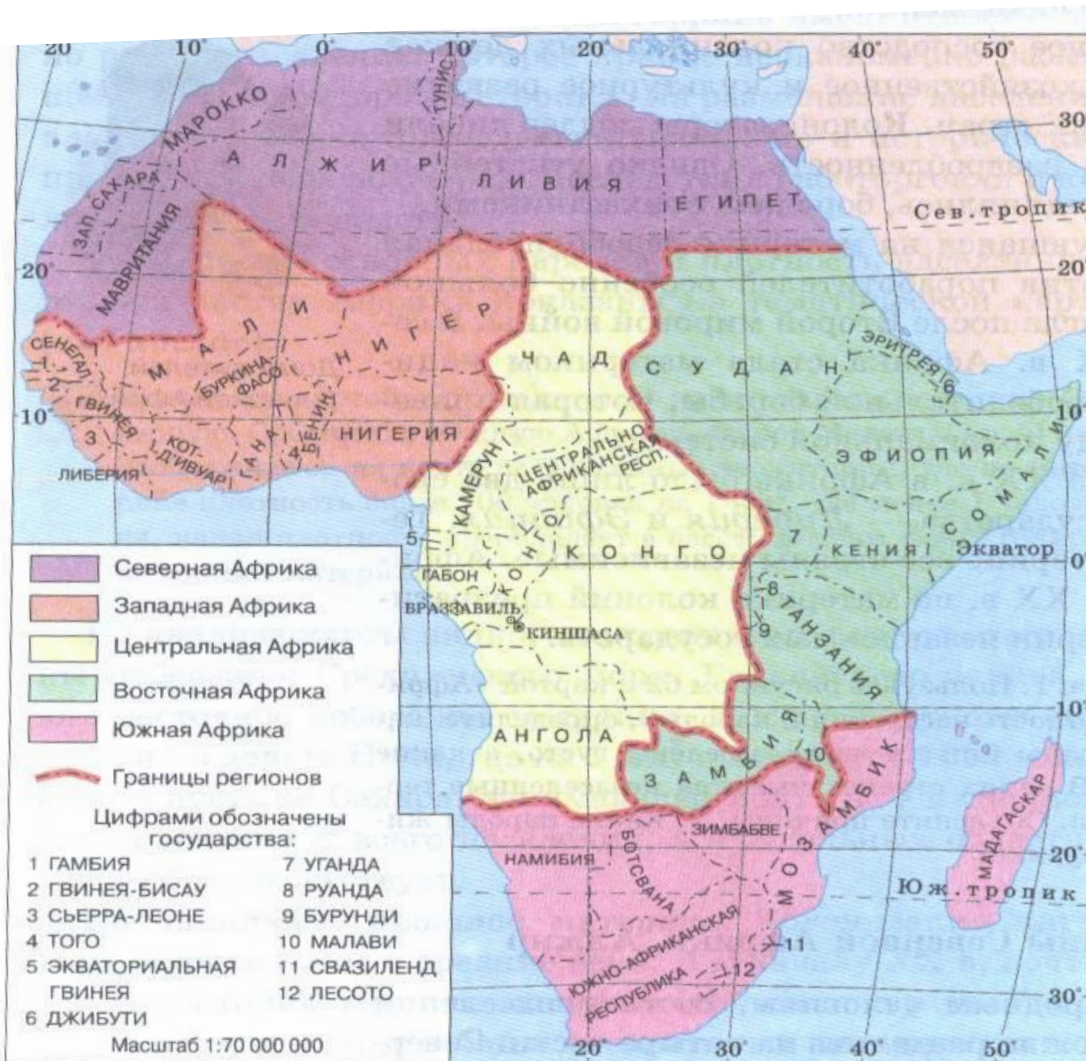
СТРАНЫ АФРИКИ



1. По карте определите, какие государства расположены в Северной, Западной, Центральной, Восточной, Южной Африке.
2. Нанесите их границы на контурной карте.
3. Презентации учащихся.

Рис. 62. Регионы и страны Африки

СТРАНЫ АФРИКИ



Вывод:



Рис. 62. Регионы и страны Африки

ЗАКРЕПЛЕНИЕ

Заполните таблицу:

Районы	Страны	Народы	Раса
Северная Африка			
Центральная Африка			
Южная Африка			
Восточная Африка			

Проверим!

Районы	Страны	Народы	Раса
Северная Африка	Алжир, Марокко Ливия, Мавритания Египет, Тунис	алжирцы марокканцы египтяне французы	Европеоидная
Центральная Африка	Заир, Ангола Чад, Конго Камерун, Габон	пигмеи конго, малави зулу, фульбе	Экваториальная
Южная Африка	Намибия, Ботсвана Мозамбик, ЮАР Зимбабве, Лесото	англоафриканцы, бушмены, готтентоты банту	Европеоидная Монголоидная Экваториальная
Восточная Африка	Судан, Эфиопия Сомали, Кения Танзания, Замбия	эфиопы амхара оромо	Промежуточная

ОТВЕТЬ НА ВОПРОСЫ

1. Какая страна расположена восточнее – Алжир или Египет?
2. Какое государство имеет большую площадь – Египет или Судан?
3. Какие народы населяют Африку и как они распределяются на материке?
4. В какие страны Африки вы бы хотели совершить путешествия? Почему?

ЗАПОЛНИ ТАБЛИЦУ

Назови столицу государства

Государство	Столица
Египет	
Алжир	
ЮАР	
Эфиопия	
Нигерия	

ПРОВЕРИМ!

Государство	Столица
Египет	Каир
Алжир	Алжир
ЮАР	Претория
Эфиопия	Аддис-Абеба
Нигерия	Абуджа

Определите географические координаты столицы указанных государств.

ЧТО НОВОГО ВЫ УЗНАЛИ НА УРОКЕ?

Домашнее задание

1. Составить кроссворд по теме «Африка».
2. Составить маршрут путешествия по Африке.

