

Тема урока:

Е В Р О П А

МОНГОЛИЯ

ИСПАНИЯ	М	АФРИКА		О		К		ВАТИКАН	К	АФРИКА	Нил
ИТАЛИЯ	Р	Килиман.		АНХЕЛЬ		СОМАЛИ		САУД. АРАВ.	И	СЕВ. АМЕР.	М
АРМЕНИЯ	?	АМЕРИКА		В		П		РОССИЯ	?	ЮЖ. АМЕР.	?
		Котопахи		ДУНАЙ		ИСЛАНДИЯ					
		ЕВРОПА	?								
	Е		В	?	Р	?	О		П		А


Общая характеристика зарубежной Европы.

План урока:

- 1. ГЕОГРАФИЧЕСКОЕ ПОЛОЖЕНИЕ.*
- 2. СОСТАВ РЕГИОНА.*
- 3. НАСЕЛЕНИЕ.*

Цель урока:

ИЗУЧИТЬ СОСТАВ, ГЕОГРАФИЧЕСКОЕ ПОЛОЖЕНИЕ, ОСОБЕННОСТИ ГЕОГРАФИИ НАСЕЛЕНИЯ ЕВРОПЫ НА ОСНОВЕ РАБОТЫ С РАЗЛИЧНЫМИ ИСТОЧНИКАМИ ИНФОРМАЦИИ.



Состав региона.

Политическая карта Европы.

50
госуда
рств

21 страна входят в состав Европейского Союза
(Нажмите здесь)

16 стран являются членами НАТО
(Нажмите здесь)

Политическая карта Европы на протяжении XX века трижды претерпевала изменения после I и II Мировых войн и после окончания «Холодной войны» в 1991 году.

[Нажмите здесь](#)

- 1 - Нидерланды
- 2 - Бельгия
- 3 - Люксембург
- 4 - Андорра
- 5 - Монако
- 6 - Швейцария
- 7 - Лихтенштейн
- 8 - Словения
- 9 - Сан-Марино
- 10 - Босния и Герцеговина
- 11 - Ватикан
- 12 - Албания
- 13 - Македония
- 14 - Молдавия
- 15 - Гибралтар (Брит.)
- 16 - Сербия и Черногория



Острова, принадлежащие странам Европы



Продолжение



- 1 - Нидерланды
- 2 - Бельгия
- 3 - Люксембург
- 4 - Андорра
- 5 - Монако
- 6 - Швейцария
- 7 - Лихтенштейн
- 8 - Словения
- 9 - Сан-Марино
- 10 - Босния и Герцеговина
- 11 - Ватикан
- 12 - Албания
- 13 - Македония
- 14 - Молдовия
- 15 - Сербия и Черногория
- 16 - Гибралтар (Брит.)

Страны Европейского Союза (2000 г.)

- | | |
|--------------------|--------------|
| 1. ФРГ | 18. Латвия |
| 2. Франция | 19. Эстония |
| 3. Италия | 20. Чехия |
| 4. Нидерланды | 21. Словакия |
| 5. Бельгия | |
| 6. Люксембург | |
| 7. Великобритания | |
| 8. Дания | |
| 9. Ирландия | |
| 10. Греция | |
| 11. Испания | |
| 12. Португалия | |
| 13. Австрия | |
| 14. Швеция | |
| 15. Финляндия | |
| В 2004 году вошли: | |
| 16. Польша | |
| 17. Литва | |





- 1 - Нидерланды
- 2 - Бельгия
- 3 - Люксембург
- 4 - Андорра
- 5 - Монако
- 6 - Швейцария
- 7 - Лихтенштейн
- 8 - Словения
- 9 - Сан-Марино
- 10 - Босния и Герцеговина
- 11 - Ватикан
- 12 - Албания
- 13 - Македония
- 14 - Молдавия
- 15 - Сербия и Черногория
- 16 - Гибралтар (Брит.)

Европейские страны НАТО

1. ФРГ
2. Великобритания
3. Франция
4. Италия
5. Норвегия
6. Дания
7. Исландия
8. Бельгия
9. Нидерланды
10. Люксембург
11. Испания
12. Португалия
13. Греция
14. Венгрия
15. Чехия
16. Польша



Изменения на политической карте Европы в XX веке.

Назад



Проанализируйте карты. Какие видимые изменения произошли на политической карте Европы с 1914 по 1938 гг. Сравните карту Европы 1938 года с современной политической картой мира в атласе и найдите не менее 4-х изменений.



50

Состав Европейского региона.

Выполните задание, пользуясь атласом.

Вспомни!

Какими показателями характеризуется государственный строй?

монархии

12 монархий...

Андорра
Бельгия,
Ватикан,
Великобритани
я
Дания,
Испания,
Лихтенштейн,
Люксембург,
Монако,
Нидерланды,
Норвегия,
Швеция



Гибралтар

унитарные


федеративные

Федеративных государств в зарубежной Европе всего 5:
ФРГ
БЕЛЬГИЯ
ШВЕЙЦАРИЯ
АВСТРИЯ
Сербия и Черногория

 Бельгия Королевство Бельгия	
Число субъектов федерации	Дата создания федерации
3 региона	1989

 Германия Федеративная республика	
Число субъектов федерации	Дата создания федерации
16 земель	1871

 Швейцария Швейцарская Конфедерация	
Число субъектов федерации	Дата создания федерации
23 кантона	1848 ¹
<small>¹ дата вступления в действие новой конституции страны, по которой Швейцария из союзов кантонов стала федерацией</small>	

 Союз Сербии и Черногории Федеративная республика	
Число субъектов федерации	Дата создания федерации
2	1992

Государства - «карлики»



Крупные государства (S более 500 тыс. км²)

Украина
Франция
Испания

ВЫВОД: Большинство стран Европы унитарные республики.

Сербия - Косово и Метохия - в под управлением международной

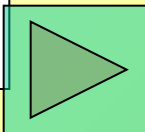
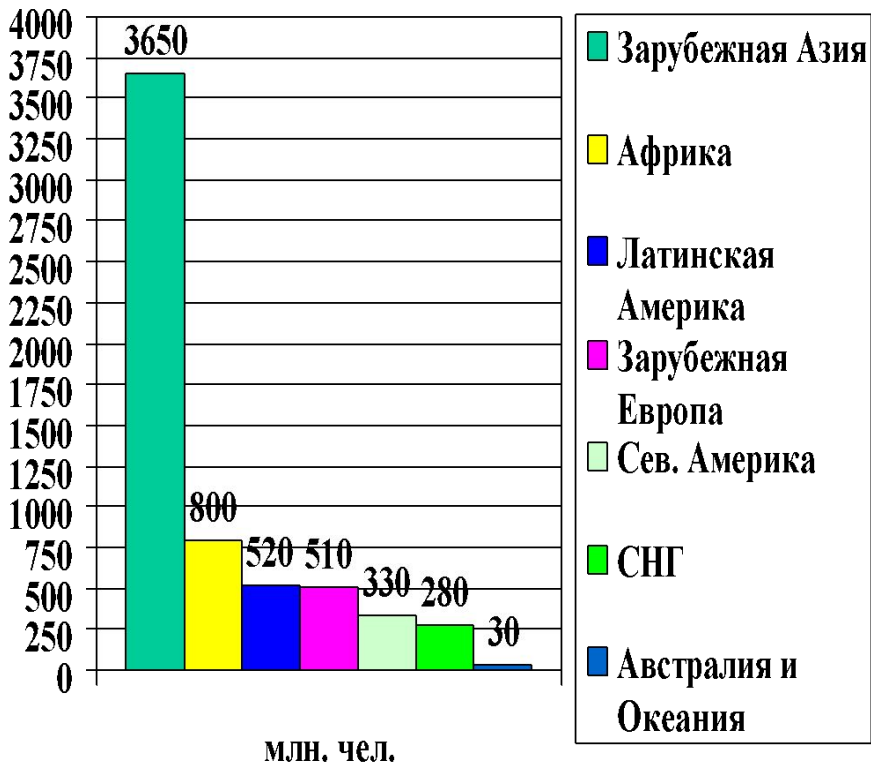


Диаграмма 1.

Место Зарубежной Европы в населении мира.



Население зарубежной Европы.

I. ПЛОТНОСТЬ и РАЗМЕЩЕНИЕ

ок. 100 чел/км²

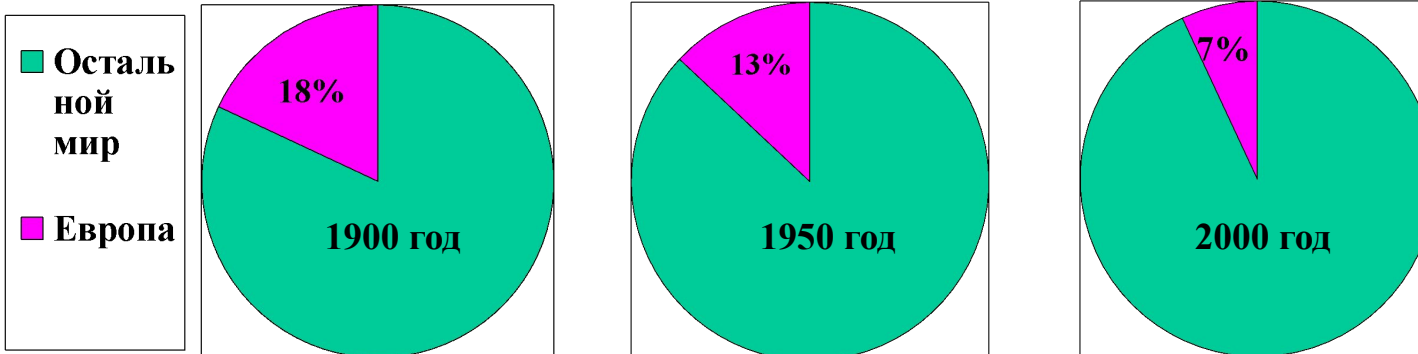
Густонаселенный район мира

II. Демографическая ситуация

ЗАДАНИЕ. Проанализируйте диаграммы №1 и №2.

На каком месте находится Зарубежная Европа по численности населения и какова её доля в мировом населении? Как изменяется доля Зарубежной Европы в мировом населении?

Диаграмма 2. Доля Зарубежной Европы в населении мира.



[Смотри карту](#)

Далее

ПЛОТНОСТЬ НАСЕЛЕНИЯ ЕВРОПЫ

? Проанализируйте карту. В каких районах Зарубежной Европы высока плотность населения, какие районы слабо заселены. Как вы думаете в чем причины контраста в расселении?

(Щелкни мышкой, появится вывод)

Размещение населения.

География городов.

Карта городов

Плотность населения(чел./кв.км)




Число жителей в городах



Зарубежная Европа - один из самых густонаселенных регионов мира. Однако очень велики контрасты в расселении. Область высокой плотности населения расположена в центральной части региона, которая охватывает Юго - Восточную Англию, Нидерланды, Бельгию, Север Франции, Рур и Рейнская часть ФРГ (более 300 чел/км²). Высокая плотность населения сформировалась здесь благодаря выгодам ЭГП, высокой концентрации промыш-ленности, инфраструктуры и городов.

Наиболее редко заселена Северная Европа, где природные условия более суровы, менее благоприятны для жизни и развития хозяйства. В Исландии - 2 чел/км²



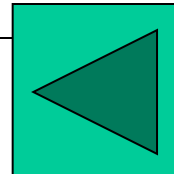
РАЗМЕЩЕНИЕ НАСЕЛЕНИЯ.



Размещение населения в Зарубежной Европе определяется географией городов, так как уровень урбанизации здесь один из самых высоких в мире. 3/4 населения живет в городах (в Великобритании, ФРГ, Бельгии, Исландии - более 85% , но в Португалии - 35%).

Главной формой городского расселения являются агломерации. Крупнейшими агломерациями являются - Лондонская (13 млн. жит.) и Парижская (11 млн. жит.). Формируются и мегалополисы - Английский (Лон-Лив) и Прирейнский (протянулся вдоль р. Рейн на территории ФРГ, Нидерландов, Бельгии).

Однако, вследствие обострения экономического и социального кризиса крупных городов, ухудшения условий жизни в них, изношенности жилого фонда, ухудшения состояния окружающей среды, сокращения занятости, рост городского населения замедляется, происходит отток населения из центральных зон агломераций в пригороды, то есть агломерации «растекаются». Стираются контрасты городских поселениями.



Крупнейшие города и городские агломерации Зарубежной Европы.

Города и городские агломерации с населением:


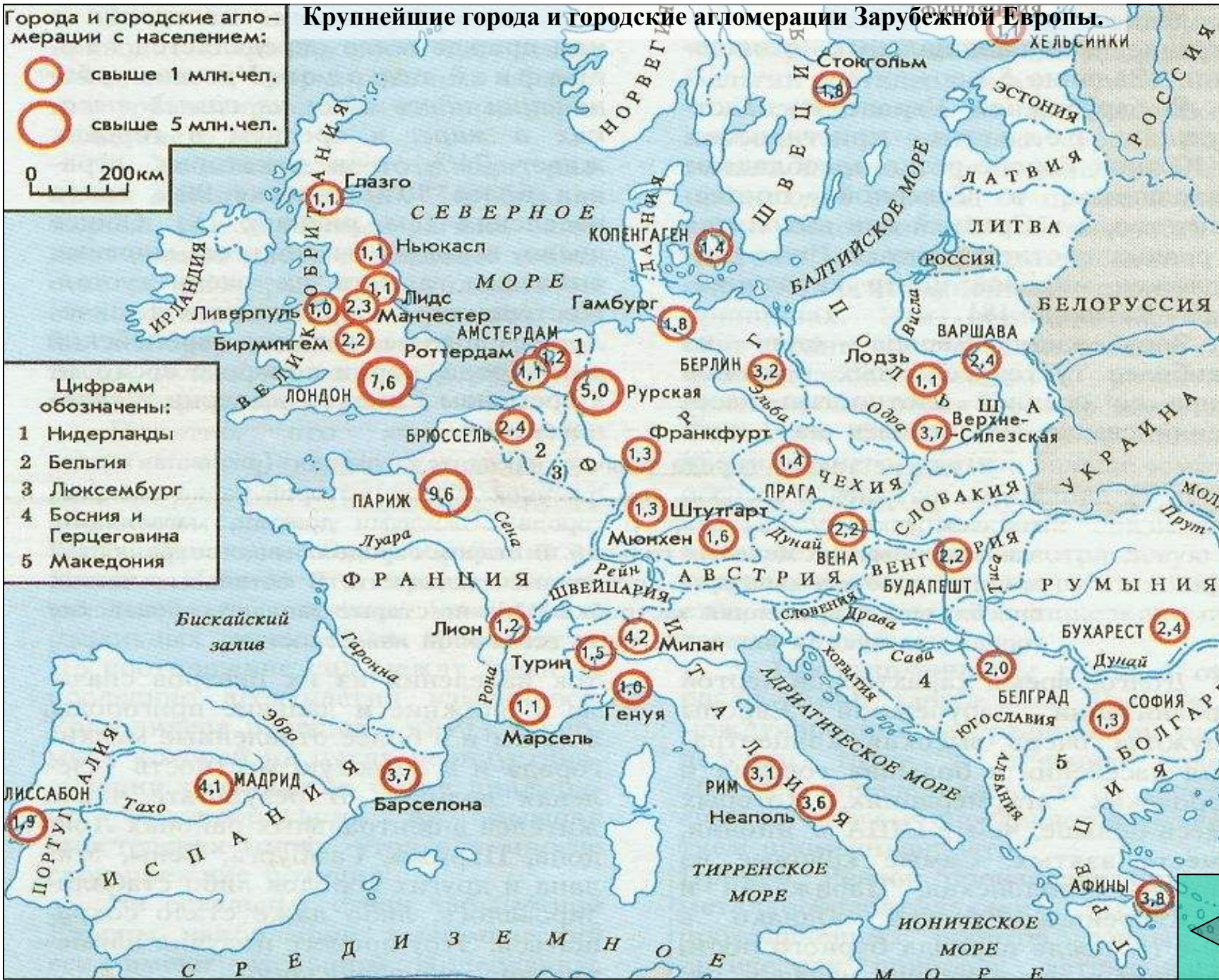
○ свыше 1 млн. чел.

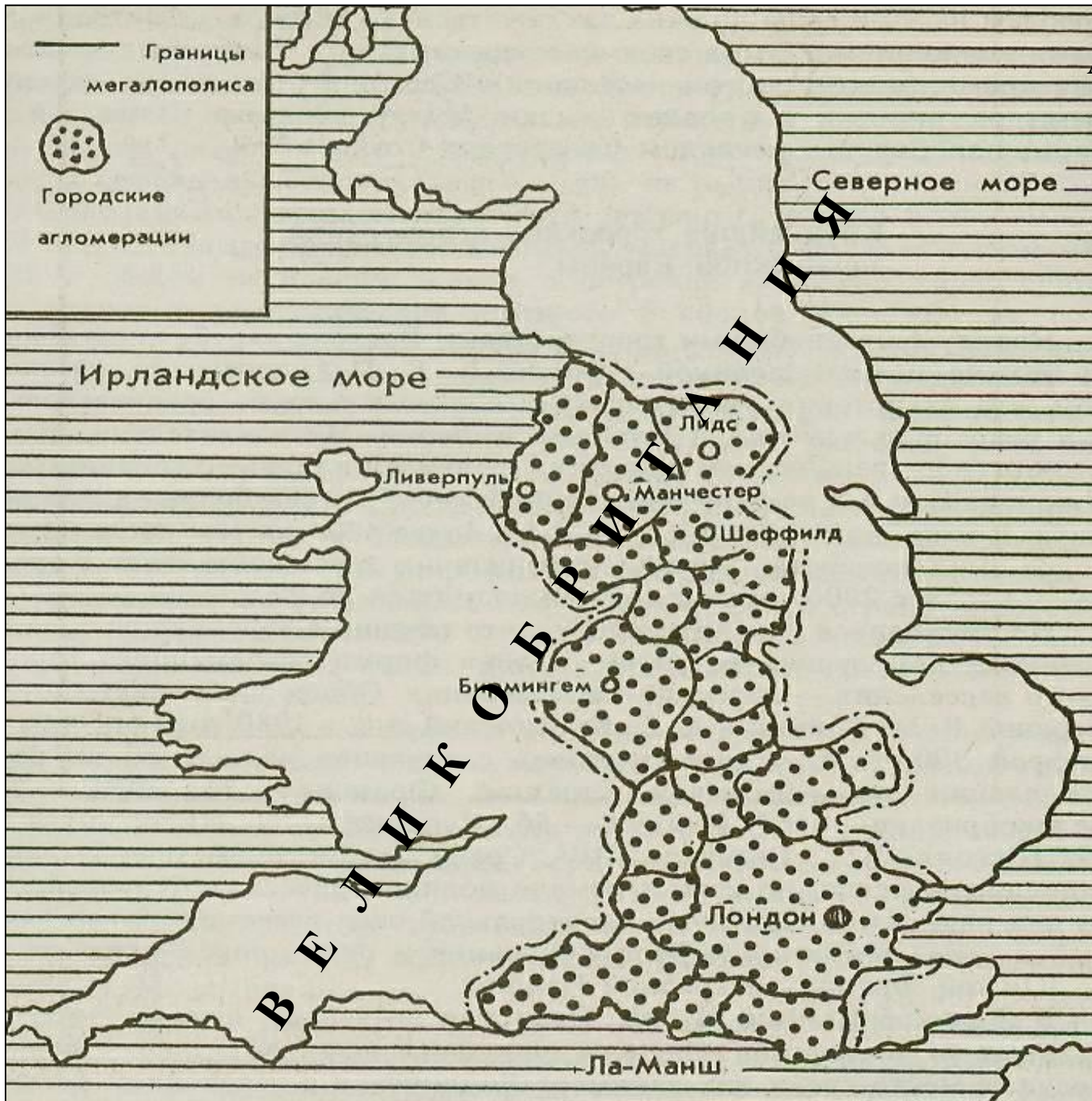
○ свыше 5 млн. чел.

0 200 км


Цифрами обозначены:

- 1 Нидерланды
- 2 Бельгия
- 3 Люксембург
- 4 Босния и Герцеговина
- 5 Македония





Английский мегалополис
«Лон-Лив»
(по Г.Д. Костинскому)



II. Демографическая ситуация (продолжение).

По темпам роста населения Зарубежная Европа занимает последнее место среди регионов мира, отчего её доля в населении Земли уменьшается. Главная причина - **сложная демографическая ситуация**. В чем же она выражается?

1. **Низкий уровень рождаемости** и относительно высокий уровень смертности - результат **преобладания пожилых людей**.
2. Убыль населения, «угасание наций» - **депопуляция**, которую не могут предотвратить даже при помощи демографической политики.
3. Обострение социально-экономических проблем, **рост безработицы**, кризис устоев семьи.
4. **Рост числа трудовых иммигрантов** из других регионов мира, что влияет на численность и трудовой потенциал населения, усложняет национальный состав, **обостряет межнациональные проблемы** (рисунок № 47 в учебнике).

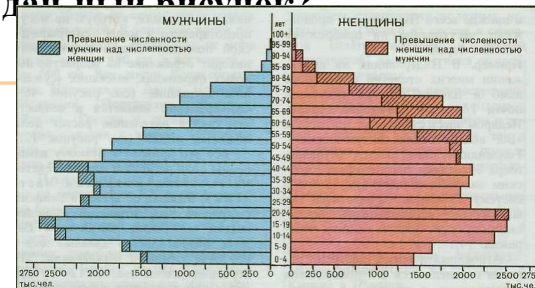
ДЕПОПУЛЯЦИЯ

МИРОВОЙ ОЧАГ ТРУДОВОЙ
ИММИГРАЦИИ


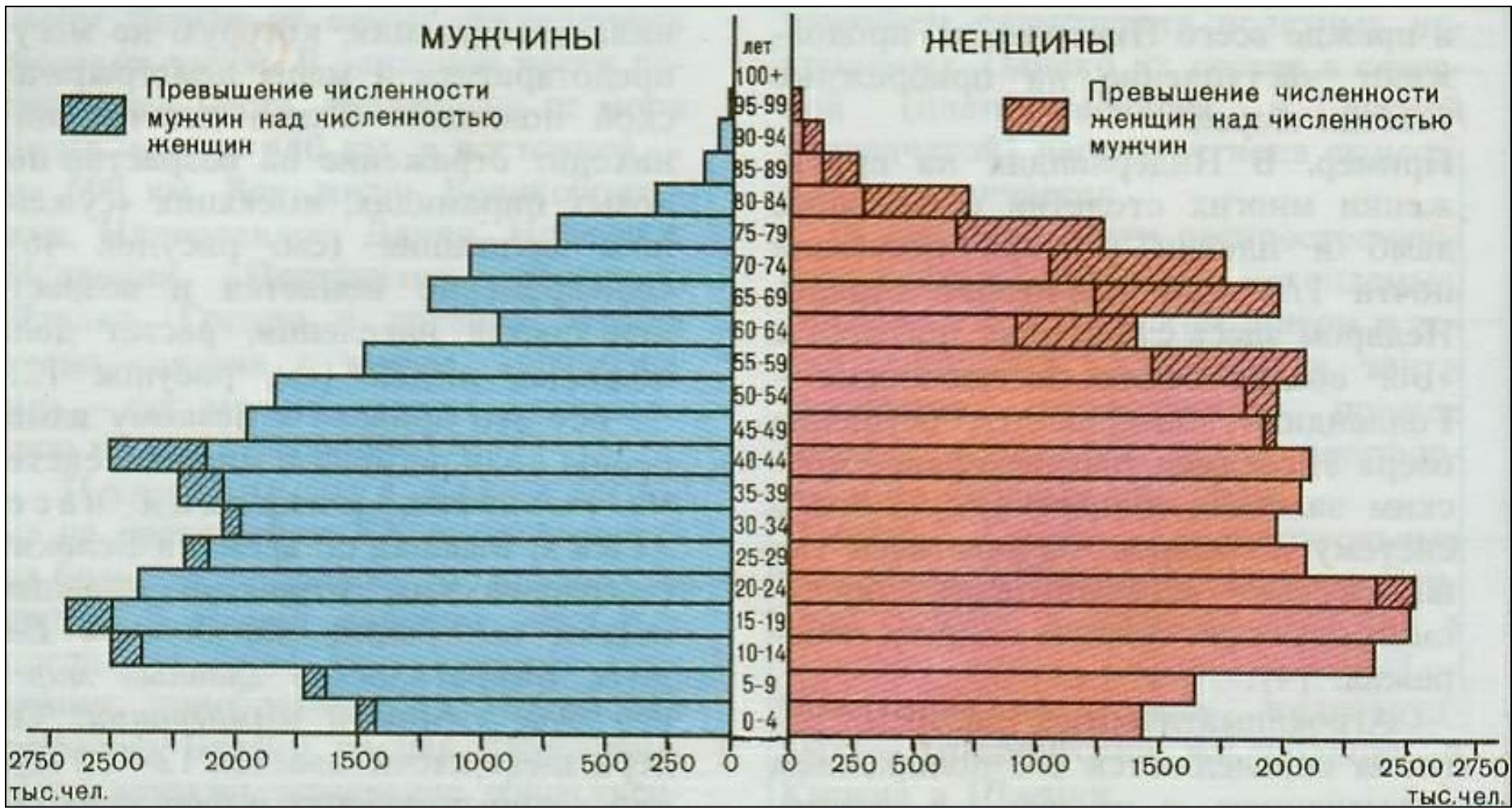
ЗАДАНИЕ.

Рассмотрите рисунок № 46 в учебнике В.П. Максаковского (стр. 164)

- Что отражает данная возрастно-половая пирамида?
- Какие выводы можно сделать, проанализировав данный рисунок?



Возрастно-половая пирамида ФРГ.



НАРОДЫ И ЯЗЫКИ ЕВРОПЫ



ИНДОЕВРОПЕЙСКАЯ СЕМЬЯ

- ### Славянские языки
- 1 Русский
 - 2 Украинский
 - 3 Белорусский
 - 4 Польский
 - 5 Чешский
 - 6 Словацкий
 - 7 Сорбский
 - 8 Сербско-хорватский
 - 9 Болгарский; македонский
 - 10 Словенский

- ### Германские языки
- 11 Немецкий
 - 12 Английский
 - 13 Голландский; фризский
 - 14 Шведский
 - 15 Датский
 - 16 Норвежский; фарерский
 - 17 Исландский

- ### Романские языки
- 18 Французский
 - 19 Итальянский; сардинский
 - 20 Испанский
 - 21 Португальский; галисийский
 - 22 Каталанский
 - 23 Румынский
 - 24 Ретороманские языки

- ### Балтийские языки
- 25 Латвийский
 - 26 Литовский


- ### Кельтские языки
- 27 Валлийский
 - 28 Бретонский
 - 29 Галский (ирландский)
- ### Греческий язык
- 30 Греческий язык
- ### Албанский язык
- 31 Албанский язык
- ### Цыганский язык
- 32 Цыганский язык

- ## УРАЛЬСКАЯ СЕМЬЯ
- ### Финно-угорские языки
- 33 Венгерский
 - 34 Финский
 - 35 Эстонский
 - 36 Коми
 - 37 Саамский
 - 38 Ненецкий

- ## АЛТАЙСКАЯ СЕМЬЯ
- ### Тюркские языки
- 39 Турецкий; гагаузский
- ### БАСКСКИЙ ЯЗЫК
- 40 Баскский язык

НАРОДЫ

Французы
Молдаване



III. НАЦИОНАЛЬНЫЙ И РЕЛИГИОЗНЫЙ СОСТАВ НАСЕЛЕНИЯ ЕВРОПЫ

РЕЛИГИИ

- ХРИСТИАНЕ**
- 1 Православные
- 2 Римские католики
- 3 Греческие католики
- Протестанты**
- 4 Лютеране
- 5 Кальвинисты
- 6 Англикане
- 7 МУСУЛЬМАНЕ
- Религиозные центры



ЗАДАНИЕ.

Проанализируйте карту. Ответьте на вопросы.


1. Какая религия занимает господствующее положение в Европе?
2. В каких частях Европы преобладает католицизм, в каких протестантство, православие?
3. Приведите примеры стран Европы население которых

исповедует протестантство, католицизм, православие (не менее 5 стран). ИСПОВЕДУЕТ ХРИСТИАНСТВО НАСЕЛЕНИЕ

ПРОТЕСТАНТСТВО

КАТОЛИЦИЗМ

ПРАВОСЛАВИЕ





Ватикан

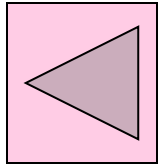
 <h2>Ватикан</h2> <p>Теократическая монархия</p>		
Территория, тыс. км ²	Население, тыс. чел.	Дата образования государства
0,00044	0,9	1929



Собор Святого Петра

Мировой центр католицизма - Ватикан расположен в Риме. Это самое маленькое в мире независимое государство имеет свое правительство, банк, гвардию, законы, валюту, почтовые марки и своего монарха - Папу Римского.

Основная функция Ватикана - религиозная. Ватикан владеет огромными капиталами и обширными землями во многих странах мира.



Проверь себя. Тест.

1. Самое крупное по площади государство Европейского Союза:

- 1) Швеция; 2) Украина; 3) Франция; 4) Германия.

2. Какое из перечисленных государств Европы не входит в НАТО?

- 1) Польша; 2) Греция; 3) Исландия; 4) Швейцария; 5) Чехия.

3. Какое из перечисленных государств не является федерацией?

- 1) Бельгия; 2) Австрия; 3) Франция; 4) Сербия и Черногория.

4. Численность населения Европы:

- 1) 280 млн.; 2) 810 млн.; 3) 510 млн.; 4) 330 млн..

5. Для городских поселений Европы характерно:

- 1) ложная урбанизация; 2) отток населения в пригород; 3) бурный рост численности населения; 4) бурный рост численности сельских жителей.

6. Для Европы характерна следующая демографическая ситуация:

- 1) высокий уровень рождаемости; 2) преобладание пожилых людей;
3) высокий уровень квалификации населения; 4) низкий уровень безработицы;
5) рост числа трудовых иммигрантов; 6) высокая продолжительность жизни;
7) суженное воспроизводство; 8) депопуляция.

7. Сопоставьте районы Европы и преобладающие в них религии:

- | | |
|---------------------------|-------------------|
| 1) Северная Европа | А) православие |
| 2) Восточная Европа | Б) протестантство |
| 3) Средняя и Южная Европа | В) католицизм |

**ОТВЕТ
Ы**

Ответы

1. Самое крупное по площади государство Европейского Союза:

1) Швеция; 2) Украина; 3) Франция; 4) Германия.

2. Какое из перечисленных государств Европы не входит в НАТО?

1) Польша; 2) Греция; 3) Исландия; 4) Швейцария; 5) Чехия.

3. Какое из перечисленных государств не является федерацией?

1) Бельгия; 2) Австрия; 3) Франция; 4) Сербия и Черногория.

4. Численность населения Европы:

1) 280 млн.; 2) 810 млн.; 3) 510 млн.; 4) 330 млн..

5. Для городских поселений Европы характерно:

1) ложная урбанизация; 2) отток населения в пригород; 3) бурный рост численности населения; 4) бурный рост численности сельских жителей.

6. Для Европы характерна следующая демографическая ситуация:

1) высокий уровень рождаемости; 2) преобладание пожилых людей;
3) высокий уровень квалификации населения; 4) низкий уровень безработицы;
5) рост числа трудовых иммигрантов; 6) высокая продолжительность жизни;
7) суженное воспроизводство; 8) депопуляция.

7. Сопоставьте районы Европы и преобладающие в них религии:

1) Северная Европа

Б) протестантство

2) Восточная Европа

А) православие

3) Средняя и Южная Европа

В) католицизм

