

«Основные формы рельефа»

6 класс

Основные формы рельефа Земли


Цель урока: сформировать общие представления о формах рельефа земной коры, рельефе суши, горах и равнинах суши, их различии и изменении во времени, понятие «горы», «равнины», развить практическое умение описывать географическое положение гор и равнин.

Рельеф - это совокупность неровностей земной поверхности, отличающихся по высоте, возрасту и происхождению.

Основные формы рельефа суши:



Равнины



Горы

Главная причина разнообразия рельефа Земли

– **ВЗАИМОДЕЙСТВИЕ ВНЕШНИХ И ВНУТРЕННИХ ПРОЦЕССОВ**

Внешние силы

- Выветривание
- Ветер
- Ледники
- Текучая вода
- Морской прибой

Внутренние силы

- Движения литосферных плит
- Землетрясения
- Вулканизм

Равнины

**часть земной поверхности с
различием относительных высот
неровностей на ней не более 200 м**

По характеру рельефа



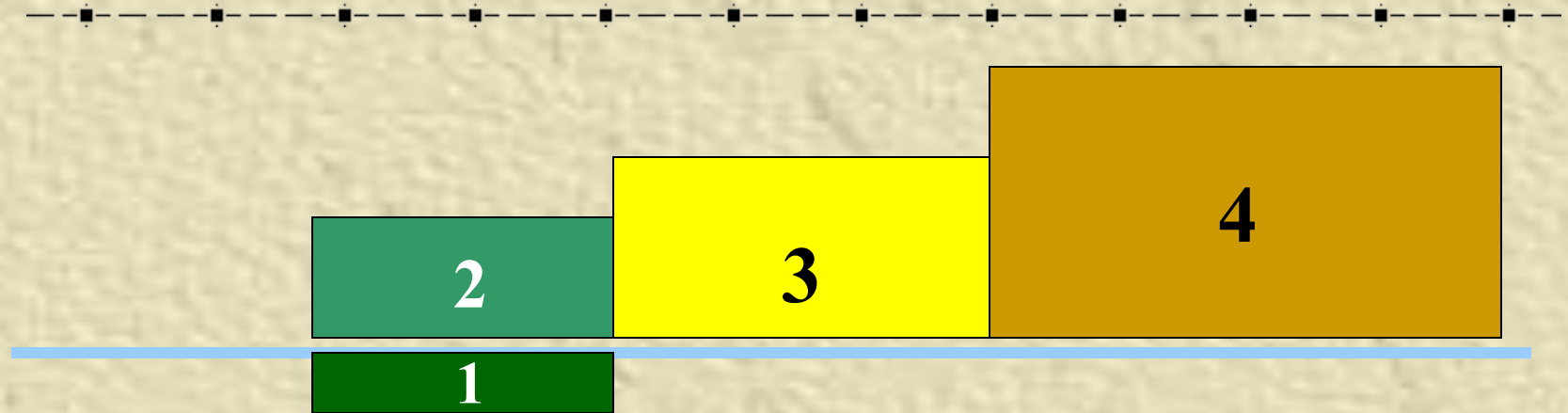
Плоские

Западно-Сибирская

Холмистые

**Восточно-
Европейская**

По абсолютной высоте



уровень
океана

1. Депрессия
2. Низменность (до 200 м)
3. Возвышенность (от 200 до 500 м)
4. Плато (более 500 м)

ГОРЫ

часть земной поверхности,
высоко приподнятая над
равнинами и сильно

расчлененная
Происхождение



тектоническое

вулканическое

Высота гор




Задание: пользуясь физической картой, распределите данные ниже названия гор в соответствии с их высотой:

- Кордильеры, Альпы, Уральские, Гималаи, Кавказские, Крымские, Аппалачи, Алтай, Анды, Драконовы, Атлас, Карпаты.


**Внешние силы -
выравнивают
неровности земной
поверхности**

**Внутренние
СИЛЫ – создают
неровности земной
поверхности**



Рельеф

**- совокупность неровностей
земной поверхности.**



**Горы – это выпуклая
форма поверхности с
хорошо выраженной
вершиной, подошвой и
склоном.**

**Равнины – часть
земной поверхности с
различием
относительных высот
не более 200 м**

Задание «Белая ворона»

- Из предложенных ниже групп форм рельефа найдите лишнюю:
- Гималаи, Великая Китайская, Альпы, Анды.
- Западно-Сибирская, Восточно-Европейская, Средне-Сибирское, Уральские.
- Кордильеры, Крымские, Кавказские, Памир.

Задание: дайте название форм рельефа, которым соответствуют данные цифры

