

ПАРАЛЛЕЛИ

Меридианы – это

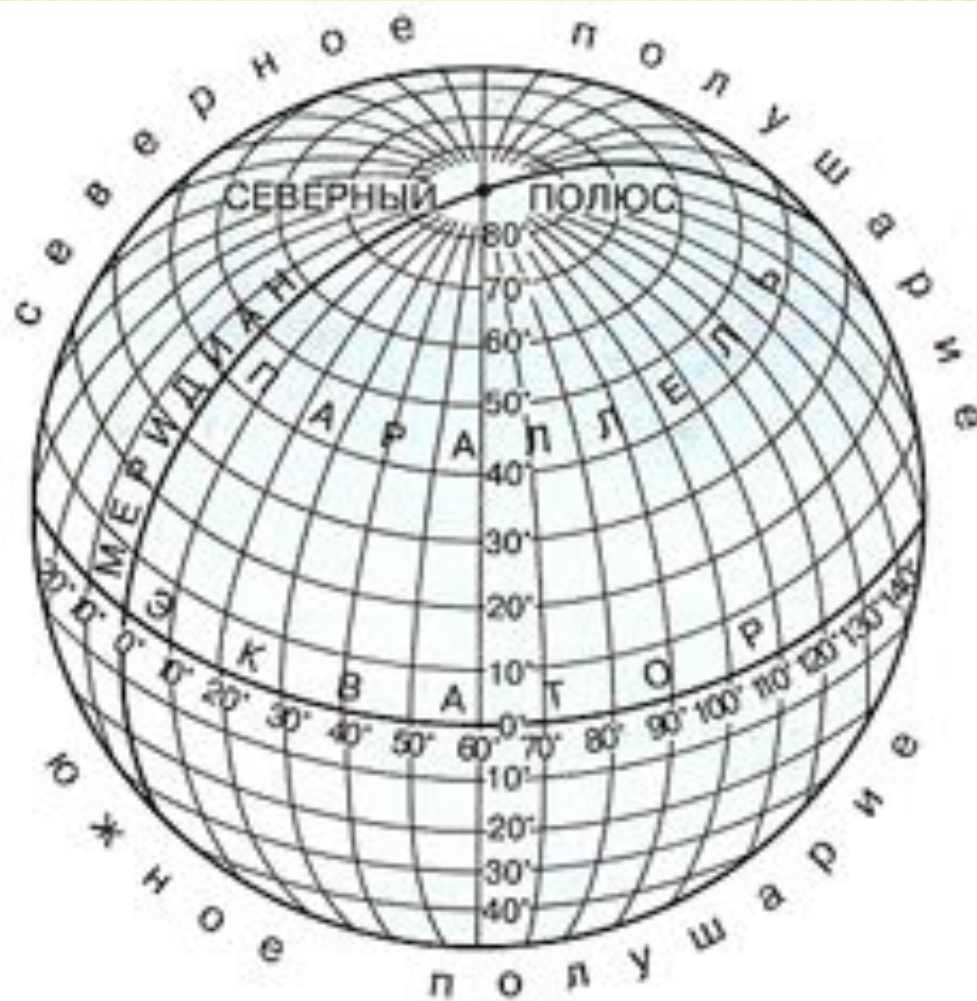


Какое направление показывают меридианы?

1. Какие по форме меридианы?
2. Равны ли меридианы по длине?
3. Чему равна длина меридиана в градусах?
4. В километрах? (окружность Земли = 40 000км).
5. Сколько км в 1 градусе меридиана?

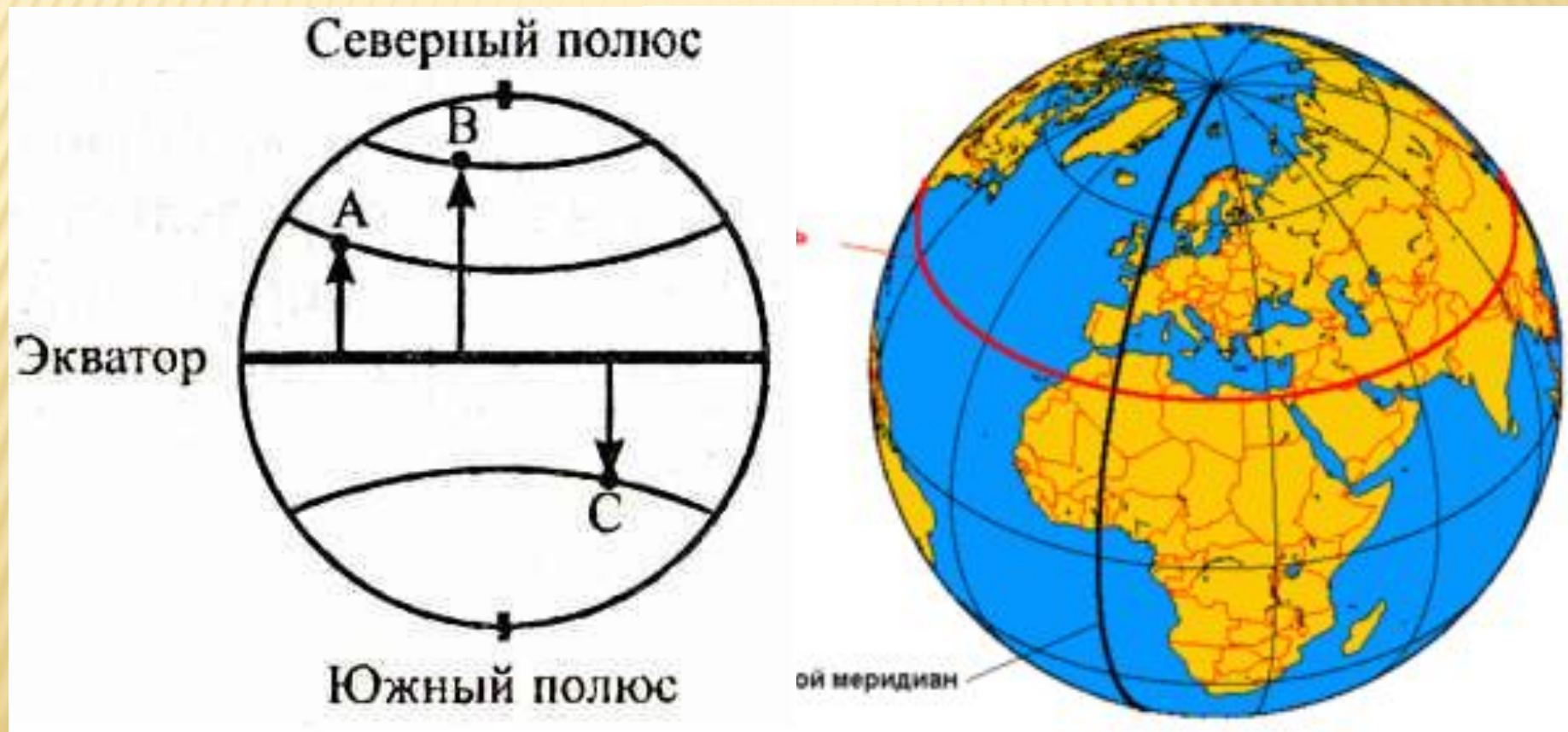


1. Найдите на карте полушарий меридианы. Где подписаны их градусы?
2. Определите: сколько км от Москвы до Северного полюса?
3. До Южного полюса (без использования масштаба).




ПАРАЛЛЕЛИ

Линии, условно проведённые на земной поверхности параллельно экватору.



- ▣ Параллели показывают направление на карте с запада на восток.
-

запад



ВОСТОК

**Экватор
параллели**

ЭКВАТОР





OCEANO ATLANTICO

AFRICA DO SUL

50°E
60°E
70°E



INTI-NAN
MUSEUM
LAT. 00° 00' 00"
CALCULATED WITH
G.P.S.

ECUADOR IN THE MIDDLE OF THE WORLD



UGANDA

EQUATOR

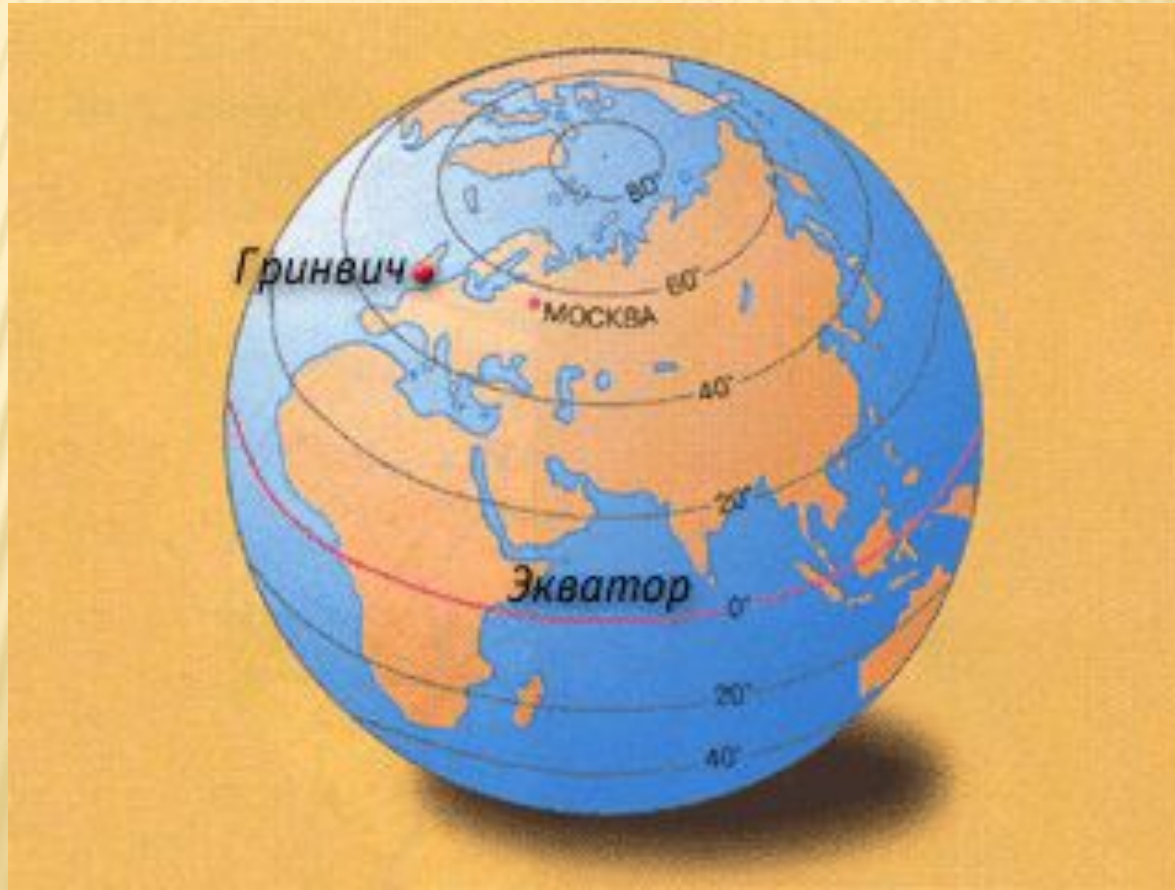
N

S

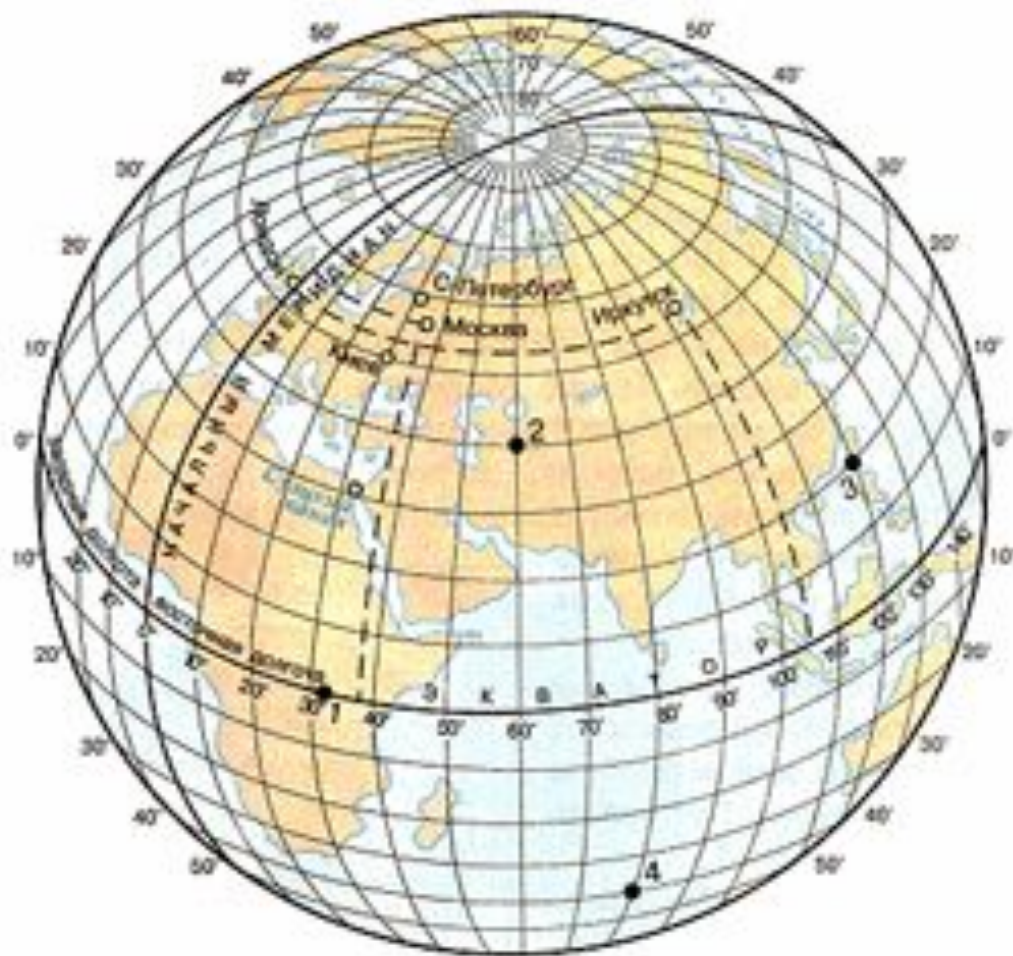


sergeydoiya.livejournal.com

1. Что представляют собой параллели по форме?
2. Какая параллель самая длинная?
3. ~~Меньше ли параллели экватора?~~
4. Определи по карте: какие материки и океаны пересекает экватор?
5. По какой параллели кругосветное путешествие будет короче: по 30-й или по 0-й?



1. Найдите на карте полушарий параллели. Где подписаны их градусы?
2. Определите в каком направлении вытянуты параллели
3. Определите: в каком направлении от озера Виктория находится река Конго?
4. В каком направлении от Берлина – Москва?



□ Мы повторяем изученное.

1. В чем различие между параллелями и меридианами?
2. Какие материки и океаны пересекает нулевой меридиан?
3. Придумайте задания на определение направлений по карте.

