

# Тренировочный тест по географии.

6 класс.

Тема: «План и карта».

Работу выполнила Владыкина Н.В. МОУ школа №10

г.Обнинск

A stylized illustration of a mountain range with jagged peaks, rendered in shades of green and grey, positioned at the bottom of the slide against a light blue and purple gradient background.

# Выберите условный знак фруктового сада



# Выберите азимут линии электропередач

- 30 градусов
- 120 градусов
- 210 градусов



# Какой масштаб крупнее?

- 1:10000
- 1:250000
- 1:300

# Ваша оценка

2



# Выберите азимут линии электропередач

- 30 градусов
- 120 градусов
- 210 градусов




# Какой масштаб крупнее?

- 1:10000
- 1:250000
- 1:300

# Этот прибор называется:

- Анемометр
- Гигрометр
- Барометр





# Ваша оценка

2




# Какой масштаб крупнее?

- 1:10000
- 1:250000
- 1:300

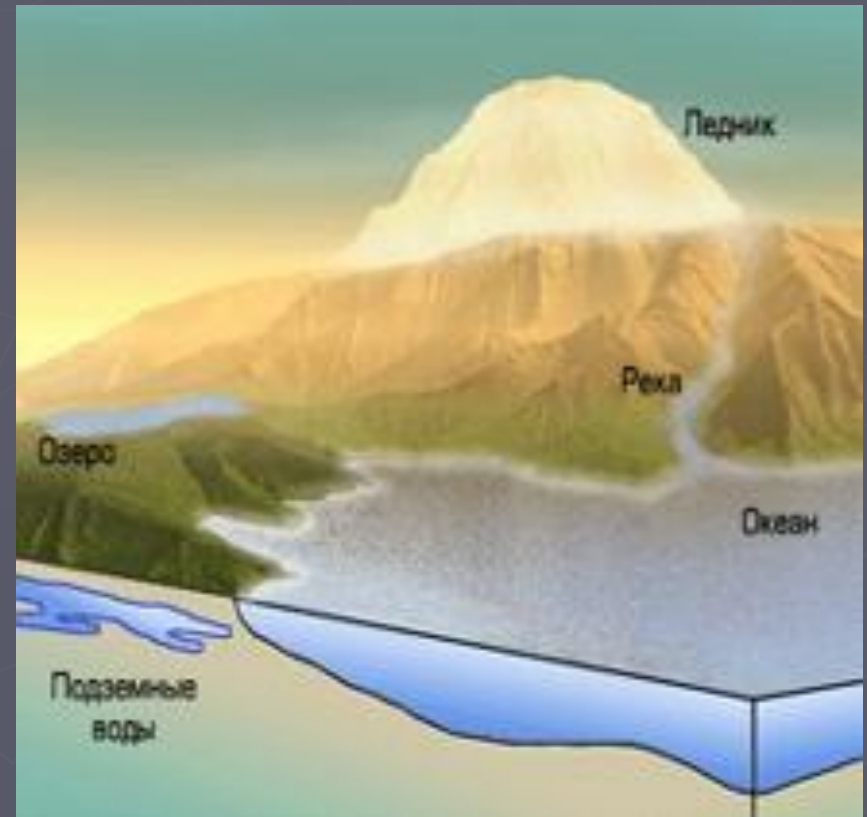
# Этот прибор называется:

- Анемометр
- Гигрометр
- Барометр



# Какие виды вод преобладают на Земле:

- ▶ Воды Мирового океана
- ▶ Пресные подземные
- ▶ Воды в ледниках




# Ваша оценка

2



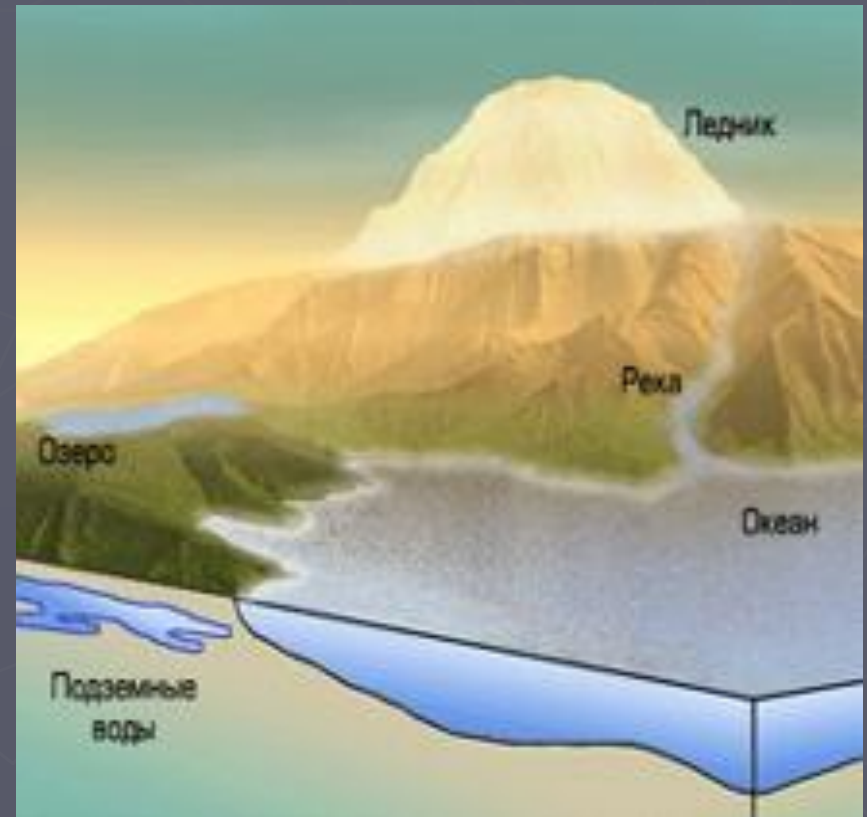
# Этот прибор называется:

- Анемометр
- Гигрометр
- Барометр



# Какие виды вод преобладают на Земле:

- ▶ Воды Мирового океана
- ▶ Пресные подземные
- ▶ Воды в ледниках



# Ваша оценка



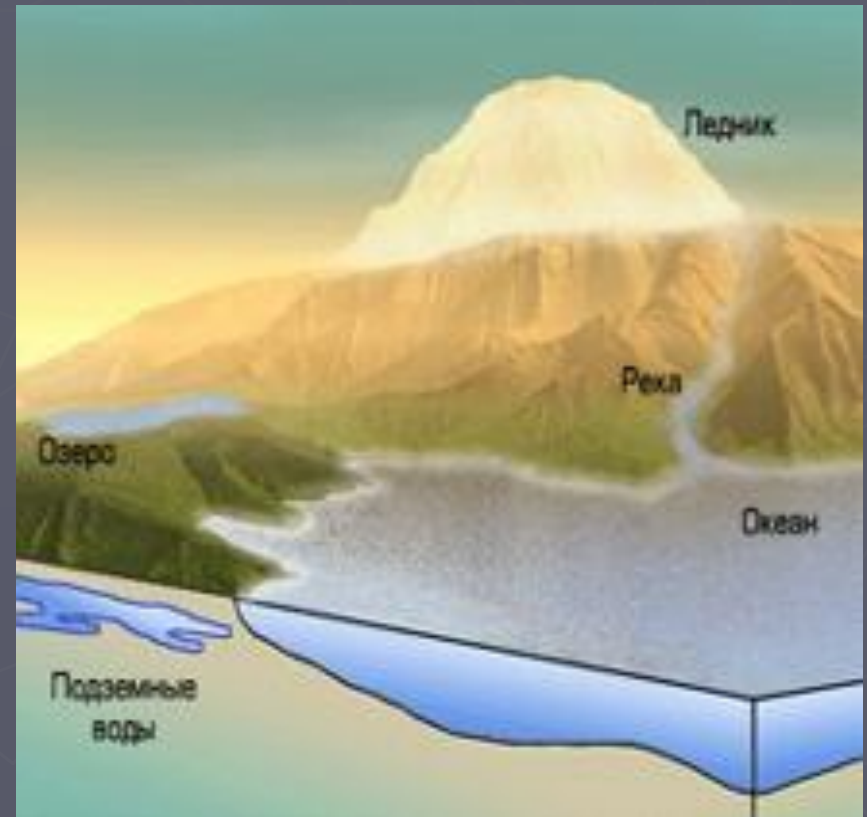
# 3





# Какие виды вод преобладают на Земле:

- ▶ Воды Мирового океана
- ▶ Пресные подземные
- ▶ Воды в ледниках





Ваша оценка

4



# Ваша оценка



5