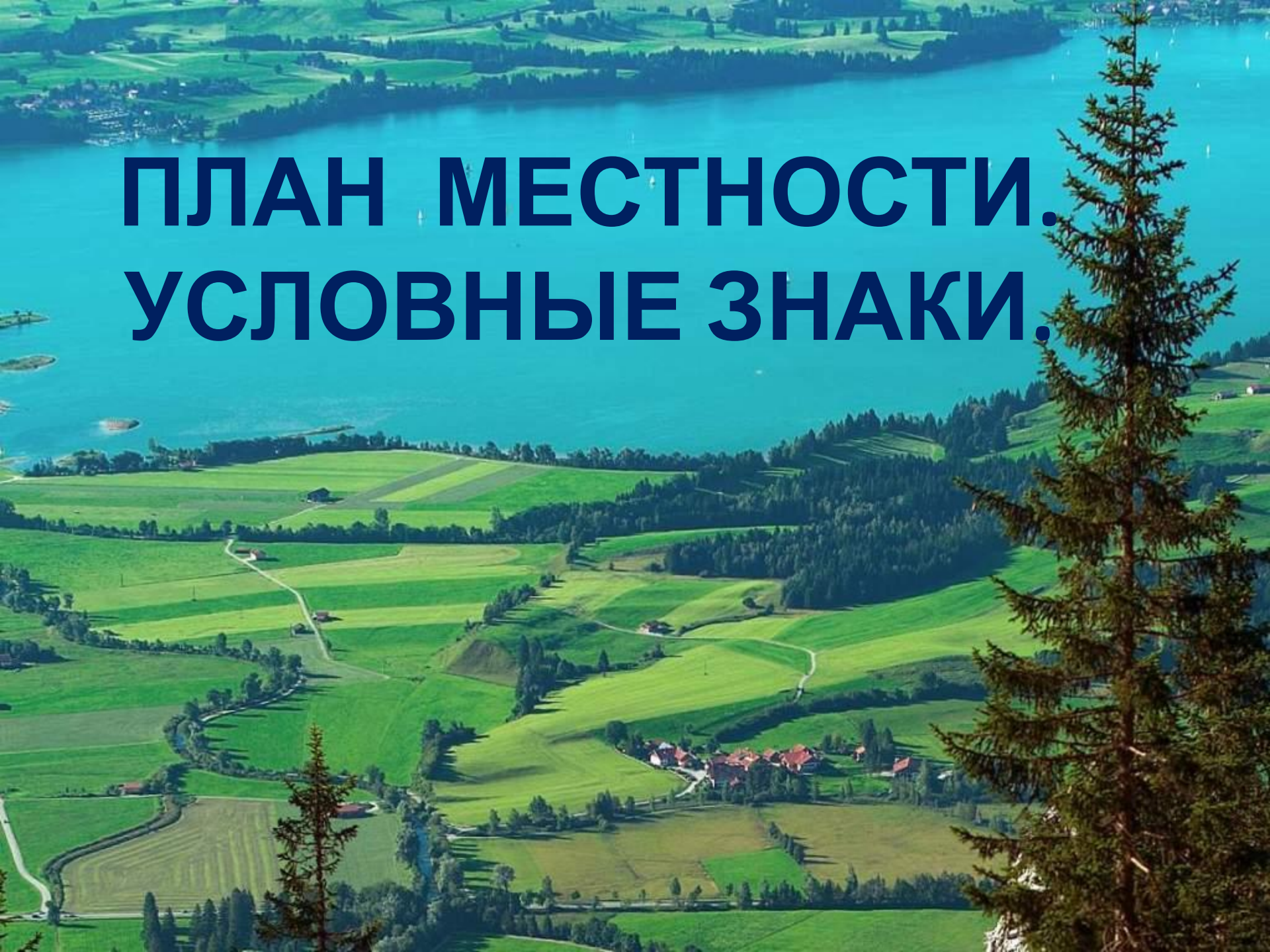


# **ПЛАН МЕСТНОСТИ. УСЛОВНЫЕ ЗНАКИ.**




# Виды изображений земной поверхности

Аэрофотоснимок

Рисунок

Снимок из  
космоса

План  
местности





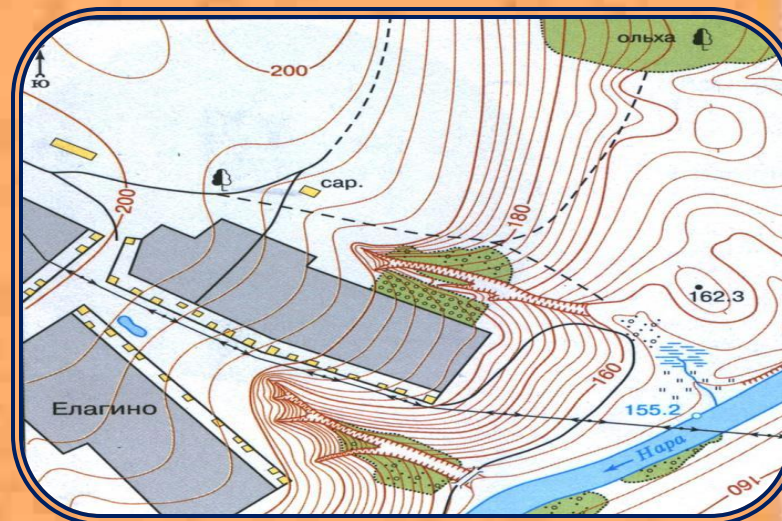
Рисунок



Аэрофотоснимок



Снимок из космоса

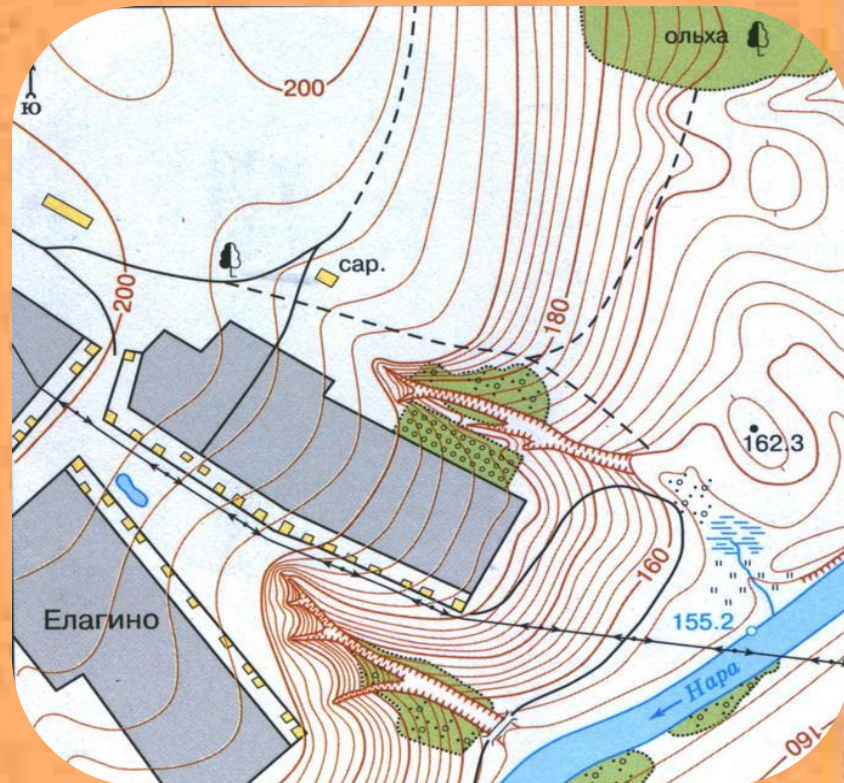


План местности

# Сравним два вида изображений



Аэрофотоснимок



План местности

# Особенности плана

1) чертёж;

## **МЕСТНОСТИ:**

2) все крупные предметы изображены сверху;

3) по плану можно получить больше информации:

- ◆ о названии населённых пунктов, улиц, рек и т. д.
- ◆ о направлении на север, юг, запад, восток
- ◆ о течении рек
- ◆ о высоте земной поверхности

4) план местности составляется с помощью










# ПЛАН ВЫСОТОСТИ

(топографический план) –  
это изображение неровности  
небольшого участка  
земной поверхности  
в уменьшенном виде  
при помощи условных знаков.



# Условные знаки

	Здания (жилые и нежилые)
	Грунтовая (проселочная) дорога
	Полевая дорога, тропа
	Река с отметкой уреза воды
	Озеро, пруд
	Кустарник
	Луг

	Горизонтали
	Отметки высот
	Овраг
	Обрыв
	Лес лиственный
	Болото
	Пашня (а), огород (б)

# Требования к условным

3 Цвет 4:

Простота

Непохожесть друг на друга

Одинаковая форма и величина

Изображенные знаки напоминают сами  
предметы



# ДОМАШНЕЕ ЗАДАНИЕ:

- 1) п. 4 (прочитать)
- 2) выучить записи в тетради

