

21 век – век АЗИИ !



Обобщающе-повторяющий урок

10 класс

Учитель – Ногаль В.И.



**«Без знания географии
человек остаётся тупым,
узким, ограниченным».**

И. Кант



1724-1804

Девиз урока:

**Люди учились всегда
для того, чтобы
совершенствовать
себя.**

Конфуций



ЦЕЛИ И ЗАДАЧИ УРОКА:

-

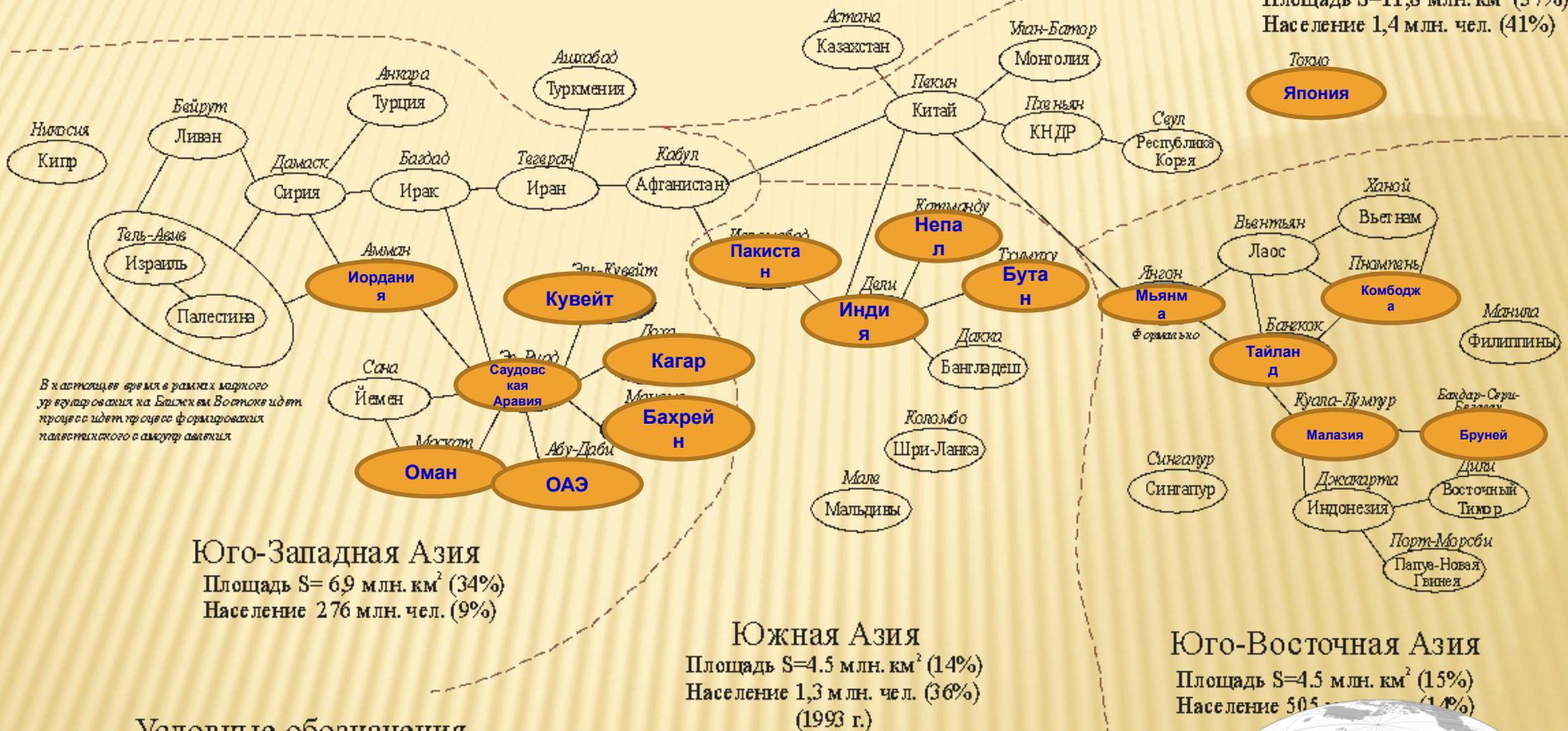


Зарубежная Азия

Азиатские страны СНГ

Восточная Азия

Площадь S=11,8 млн. км² (37%)
Население 1,4 млн. чел. (41%)



Условные обозначения

Форма правления

-  Республика
-  Монархия

- Йемен Название государства
- Сана Столица государства



ЧЕТЫРЕ ГРУППЫ

Юго- Западная Азия

Южная Азия

Юго-Восточная Азия

**Центральная и Восточная
Азия**

Актуализация опорных знаний


1. Назовите номер портрета Миклухо Маклая



1



2



3

Актуализация опорных знаний

Назовите лишнее

Токио

Осло

Пекин

Кабул

Анкара

Амстердам

Ганг

Янцзы

Хуанхэ

Амур

Волга

Лена

Актуализация опорных знаний

2. Диктант «Верно»-«Неверно» / «Да»-«Нет»

1....

2.....

3....

4...

5...

Актуализация опорных знаний

3. В пределах какой из перечисленных стран средняя плотность населения наименьшая?

- 1) Чехия
- 2) Турция
- 3) Монголия**
- 4) США

Актуализация опорных знаний

4. Какая из перечисленных стран входит в число крупнейших производителей хлопка-волокна?

1) Португалия

2) Чехия

3) Чили

4) Индия

Актуализация опорных знаний

5. С какой из перечисленных стран Россия имеет сухопутную границу?

1) Молдавия

2) Япония

3) Туркмения

4) Индия

Актуализация опорных знаний

6. В какой из перечисленных стран большинство верующих исповедуют христианство?

- 1) Китай
- 2) Вьетнам
- 3) Египет
- 4) **Сирия**

Актуализация опорных знаний

7. Установите соответствие между страной и её столицей: к каждому элементу первого столбца подберите соответствующий элемент из второго

Страна

Столица

а) Иран

б) Сирия

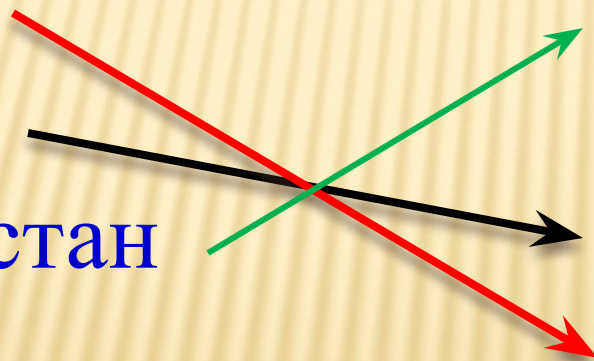
в) Афганистан

а) Кабул

б) Пекин

в) Дамаск

г) Тегеран



Актуализация опорных знаний

7. Установите соответствие между страной и её столицей: к каждому элементу первого столбца подберите соответствующий элемент из второго

Страна

- а) Иран
- б) Сирия
- в) Афганистан

Столица

- а) Кабул
- 
- в) Дамаск
- г) Тегеран

Актуализация опорных знаний

8. Строительство данных магистралей улучшит связь с Японией и Китаем, появится возможность сухопутной связи Евразии и Северной Америки.

Варианты магистралей:

Самарканд – Дудинка – Норильск – Анадырь;

Нижневартовск – Усть-Илимск – Якутск – Магадан – Анадырь;

Владивосток – Хабаровск – Комсомольск на Амуре – Магадан – Анадырь;

Анадырь – туннель под Беринговым проливом (мост) – Анкорифи (США)

Актуализация опорных знаний

9. **Расчётная задача.** Определите плотность населения в Южной Азии. Если площадь территории - 4,5 млн.кв.км и численность населения на этой территории – 1,3 млн. чел.

Дано:

$$S=4,5$$

$$N=1,3$$

Найти: R чел./кв.

км

Решение:

$$S=4,5$$

$$N=1,3$$

$$R = S/N \text{ (чел./кв.км)}$$

$$\text{ОТВЕТ: } R=3,46 \text{ чел./кв.км}$$

Проект – это пять «П»

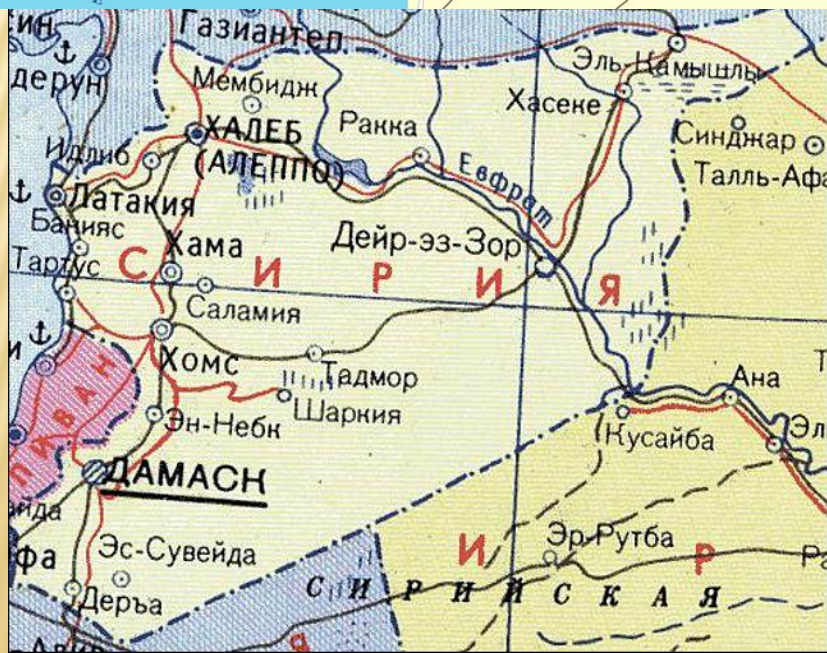
- Проблема
- План поиска
- Поиск материала
- Продукты поиска
- Презентация (или Портфолио)



Юго-Западная Азия

Турция
Объединенные
арабские эмираты (ОАЭ)
Саудовская Аравия
Израиль
Сирия
Иран
Ирак
Оман
Йемен





В АЗИИ – САМАЯ ГЛУБОКАЯ ВПАДИНА МЕРТВОГО МОРЯ (-395 М)

1. Бессточное озеро на Бл. Востоке, в Иордании и Израиле.
2. Расположено в тектонической впадине.
3. Одно из самых соленых озер мира (260-270 ‰).
4. Добыча калийных и других солей.
5. Название «Мертвое» объясняется отсутствием в воде органической жизни (кроме некоторых бактерий).





Выводы



...и душа сладостно жаждет
...и сердце сладостно жаждет
...и душа сладостно жаждет
...и сердце сладостно жаждет

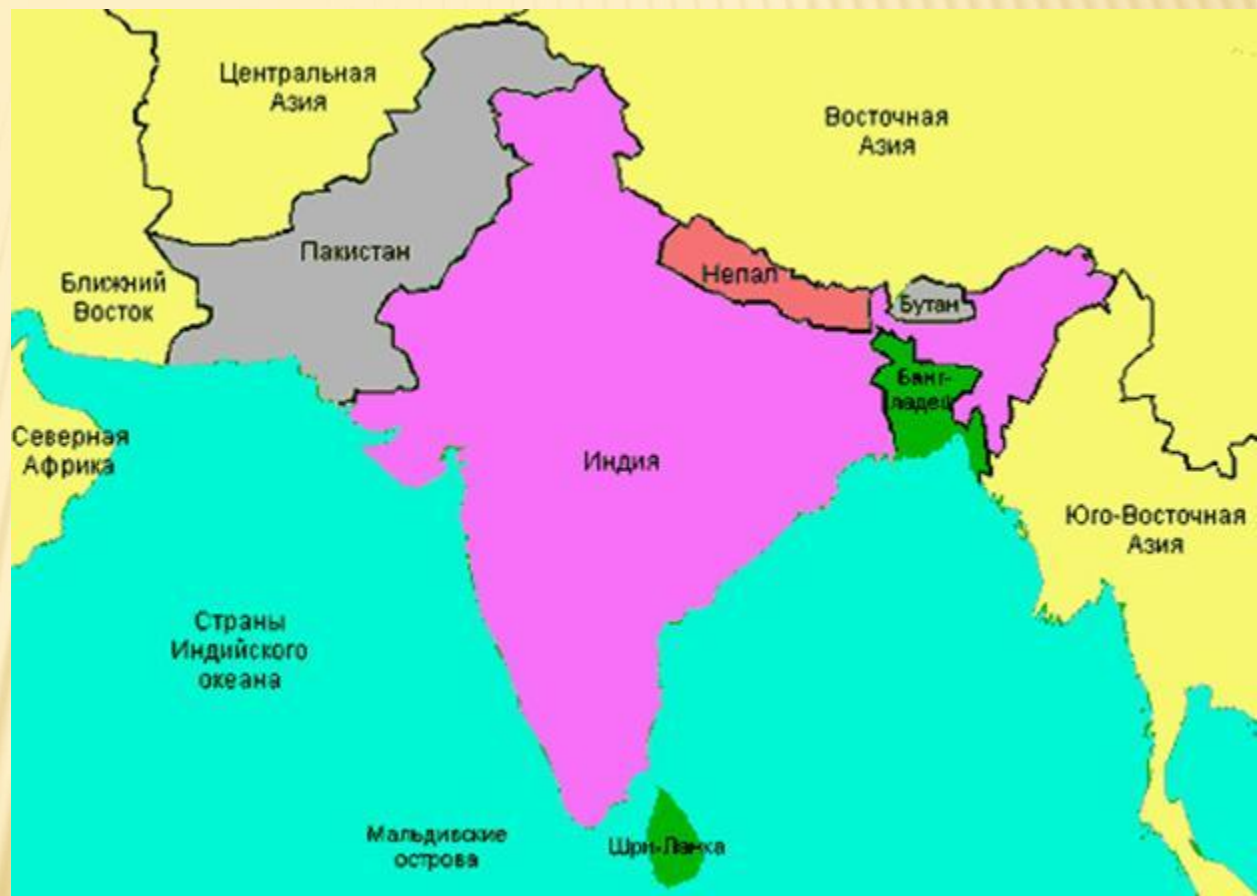
Осенняя

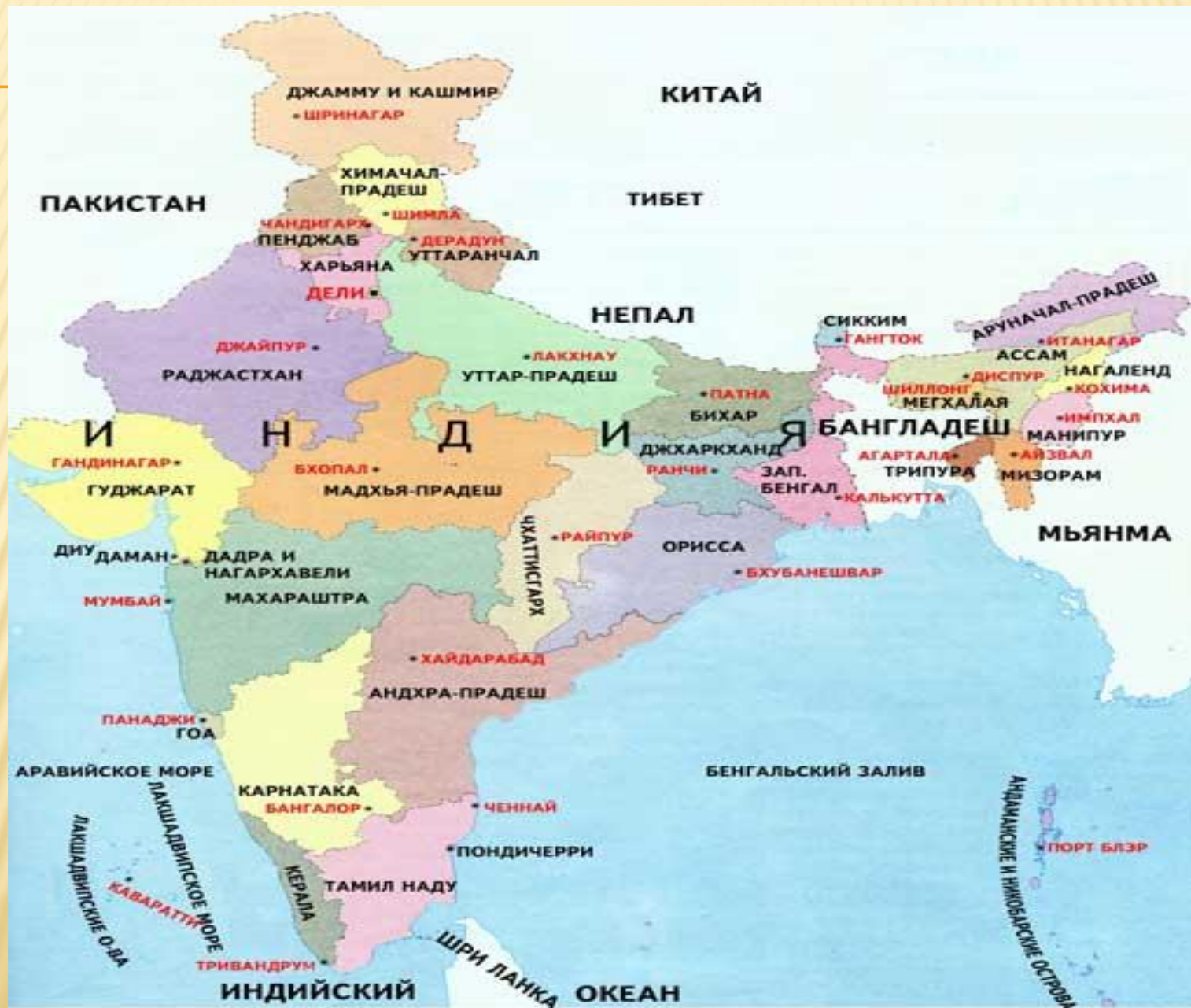


ПОЭТИЧЕСКАЯ МИНУТКА

Южная Азия

Индия
Пакистан
Тайланд
Непал
Бутан
Бангладеш
Шри-Ланка







Выводы

ИСТОРИЧЕСКАЯ МИНУТКА



Центральная Азия

Китай
Монголия
Афганистан



- Ливан
- Палестинские территории
- Израиль





Синьцзян-

Уйгурский

автономный район

Тибетский

Цинхай

автономный

район

Сычуань

Юньнань

Гуйчжоу

Гуанси-
Чжуанский
авт. район

Хайнань

Авт. район Внутренняя Монголия

Ганьсуй

Цинся-Хуэйский
авт. район

Шэньси

Шаньси

Хэбэй

Ляонин

Хэнань

Хубэй

Чунцин

Хунань

Цзянси

Сянган (Гонконг)
Аомынь (Макао)

Южно-Китайское море

Шаньдун

Аньхой

Цзянсу

Чжэцзян

Тайвань

Жёлтое море

Восточно-
Китайское море

море

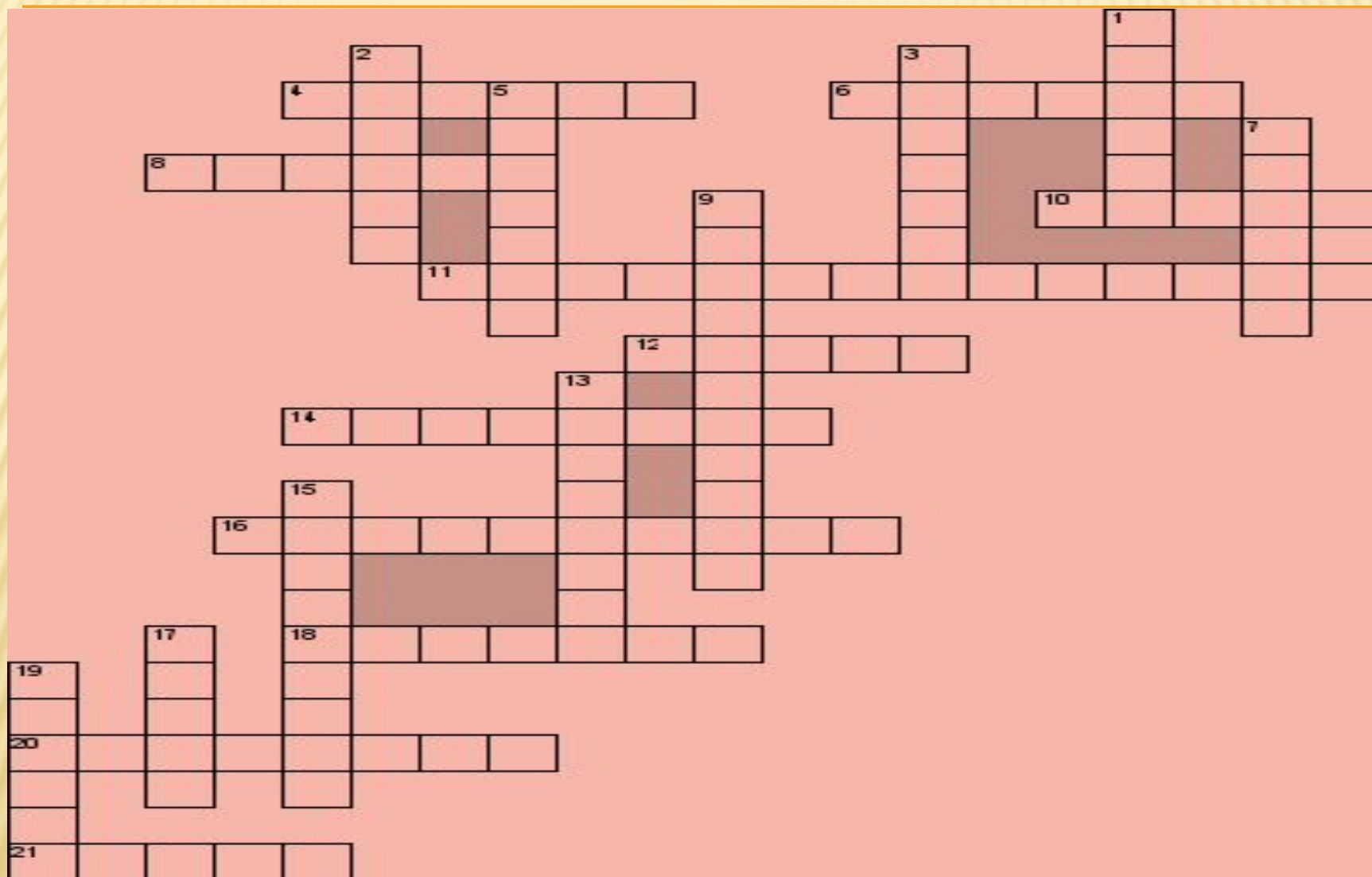
Тайвань

Южно-Китайское море

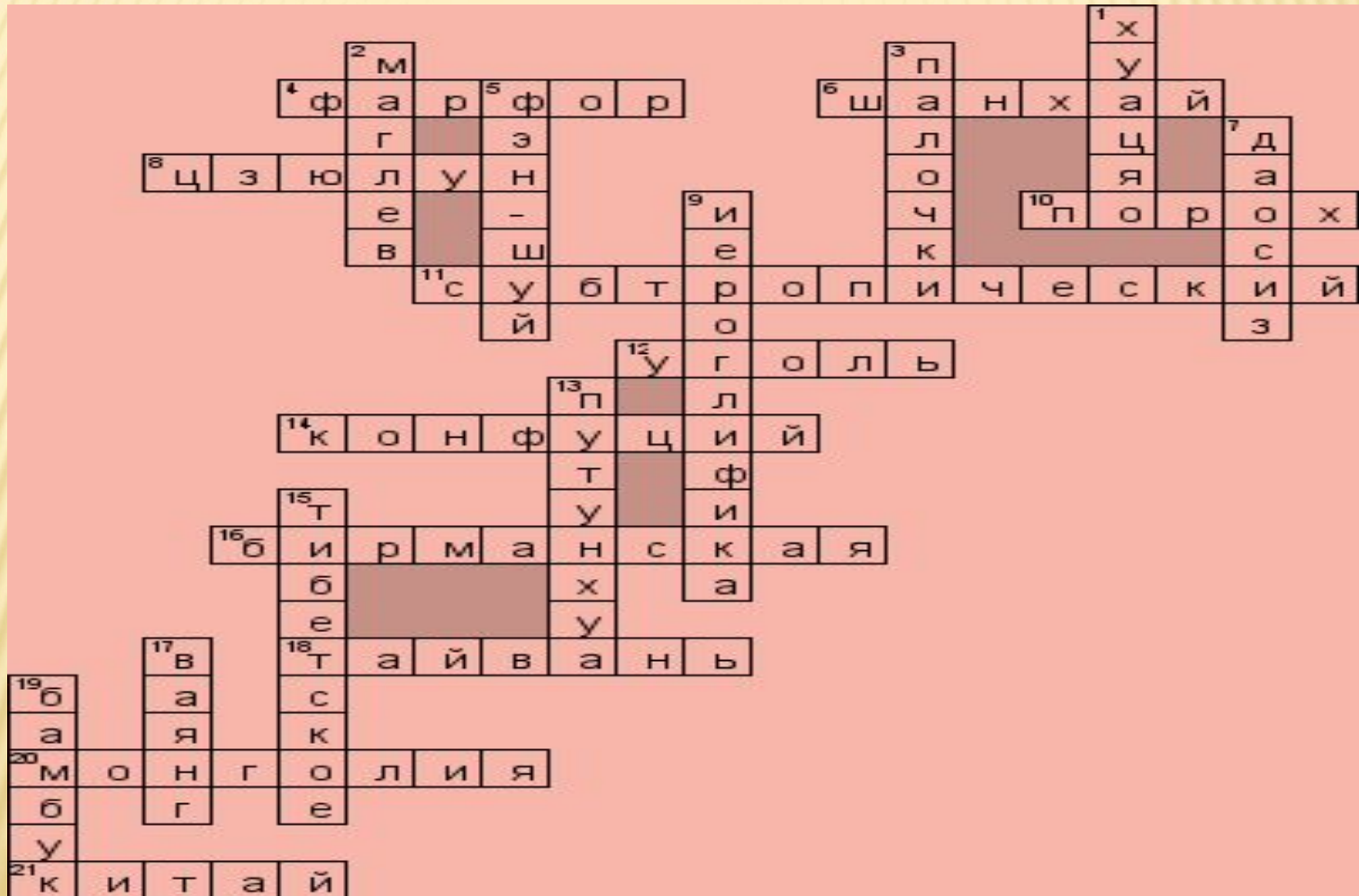
море

Тайвань

Кроссворд на тему «Китай»



Кроссворд на тему «Китай»



Литературная минутка



Выводы

Юго-восточная Азия

Япония
Индонезия
Бруней







Выводы



Японские Стихи

География

Древняя, научная

Открывает, описывает, картографирует

**Изучает природные и производственные
территориальные комплексы и их
компоненты**

Наука о земле

Азия


Духовная, жаркая

Дружит, развивается, молится


**Загадочный мир древних традиций и
восточных мудростей**

Желтый континент

Кроссворд на тему «Азия»



Проверяем кроссворд





Экономико-географическое положение

Задание: Привести примеры стран являющихся приморскими, островными, полуостровными, внутренними странами.

Вопросы:

- 1) Какие геополитические конфликты уже обозначились или намечаются в Азии?
- 2) Каковы геополитические преимущества и проблемы (угрозы) для России, обусловленные ее положением в Азиатском регионе

Климатические условия Зарубежной Азии

1. Тепловые пояса на территории Зарубежной Азии изменяются от умеренного до экваториального.
2. Особенности общей циркуляции атмосферы определяют господство муссонного климата с четко выраженной сезонностью (зимой – сухо, летом – влажно) на обширной полосе «океанического фасада» Восточной и Южной Азии.

З А Д А Н И Е: Какие преимущества могут предоставлять такие климатические особенности

Лесные ресурсы зарубежной Азии

ЛЕСОПОКРЫТАЯ ПЛОЩАДЬ		ЛЕСИСТОСТЬ ТЕРРИТОРИИ	
Страны	МЛН.ГА	Страны	%
ИНДОНЕЗИЯ	120	КАМБОДЖА	76
К И Т А Й	70	МАЛАЙЗИЯ	70
И Н Д И Я	65	МЬЯНМА	67
М Ъ Я Н М А	39	К Н Д Р	66
Задание: опираясь на показатели численности на форзаце учебника, вычислить обеспеченность лесными ресурсами на душу населения данных стран.		ЛАОС,ИНДОНЕЗИЯ	64

Внутренние воды

1. Реки – транспортные артерии, источник орошения и гидроэнергоресурсы. На Азию приходится более 40% потенциальных гидроэнергоресурсов мира, из них КНР – 540 млн.кВт, Индию – 75 млн.кВт.
2. Степень использования энергии рек очень различна: в Японии – на 70%, в Индии – на 14%, в Мьянме – на 1%.
3. Плотность населения в долине Янцзы, крупнейшей из азиатских рек, достигает 500-600 чел. На 1 кв.км, в дельте Ганга – 400 чел. На 1 кв.км.

З а д а н и е:

пользуясь картами атласа, приведите примеры стран, наиболее и наименее обеспеченных ресурсами пресной воды. Рассмотрите размещение крупных водохранилищ.

Минерально-сырьевые ресурсы Зарубежной Азии

Виды минеральных ресурсов	Страны Азии, имеющие крупные запасы	Виды минеральных ресурсов	Страны Азии, имеющие крупные запасы
1. Нефть	Саудовская Аравия, Ирак, Кувейт, ОАЭ, Иран, Китай	8. Никелевые руды	Индонезия, Филиппины
2. Природный газ	Иран, ОАЭ, Саудовская Аравия, Катар	9. Медные руды	Китай, Казахстан, Монголия
3. Каменный уголь	Китай, Индия	10. Полиметал. руды	Китай, Казахстан
4. Железные руды и марганцевые руды	Китай, Индия	11. Ртуть	Китай, Казахстан
5. Оловянные руды	Китай, Индонезия, Малайзия, Таиланд	12. Сурьмяные руды	Ирак, Япония
6. Вольфрамовые руды	Китай, КНДР, Южная Корея, Турция, Мьянма, Таиланд	13. Алмазы	Индия
7. Хромитовые руды	Турция, Индия, Филиппины	14. Золото	Китай, Киргизия, Узбекистан

Экологическая ситуация Азии

- 1. Экологическую ситуацию в Азии можно оценить как кризисную.**
- 2. По доле в мировых выбросах CO₂ Азия лидирует – 32,9%, что влияет на всю экологическую обстановку.**
- 3. 1/3 всей обрабатываемой площади находится в состоянии деградации.**
- 4. В крупных городах очищается лишь 10-15% стоков. Почти половина населения Азии не располагает элементарными санитарными условиями.**
- 5. По данным ВОЗ, из 15 самых загрязненных городов мира 13 находятся в Азии.**
- 6. Япония занимает одно из первых мест в мире по выбросам CO₂ на душу населения (9 т).**

Геополитическое положение региона

1. Два глобальных «центра силы» - Китай и Япония, третьим становится Индия. На севере сохраняется присутствие и влияние России.
2. Азия – стык цивилизаций: конфуцианской, исламской и японской. На западе они соседствуют с христианской; «контактной зоной» здесь является Турция.
3. Опасность противостояния усугубляется тем, что три страны региона обладают ядерным оружием (Китай, Индия и Пакистан), а КНДР провели ядерные испытания в 2006 году и проводят в последнее время.
4. Конфликты внутри одной и той же цивилизации: разногласия между Ираном и Ираком, напряженные отношения между КНДР и Южной Кореей и другие.

Рефлексия
