

Происхождение материки и океанов

- Одна из гипотез происхождения Земли состоит в том, что Солнечная система образовалась из единого газопылевого облака. В центре облака начались ядерные реакции, образовалось Солнце, а из сгустившихся твердых частиц – планеты и их спутники.



От газопылевого
облака



до планеты Земля



- Большая часть земной поверхности покрыта водой. Суша распределена очень неравномерно, ее отдельные массивы разобщены морскими и океаническими пространствами.
- В развитии географической оболочки ученые выделяют несколько длительных отрезков времени в миллионы и миллиарды лет.




- В результате действия природных процессов миллионы лет изменялась земная кора, накапливались осадочные породы, менялись поверхность планеты, состав атмосферы, климатические условия. На определенном этапе развития началось зарождение и бурное развитие органического мира. Зародившаяся на Земле пленка жизни развивалась, делалась все сложнее. Она прошла длинный путь — от бактерий до ЖИВОТНЫХ.

Образование
мирового
океана

Образование
простейших
органических
соединений
и
аминокислот

Зарождение
примитивной
жизни в океане

Появление
жизни
на суше

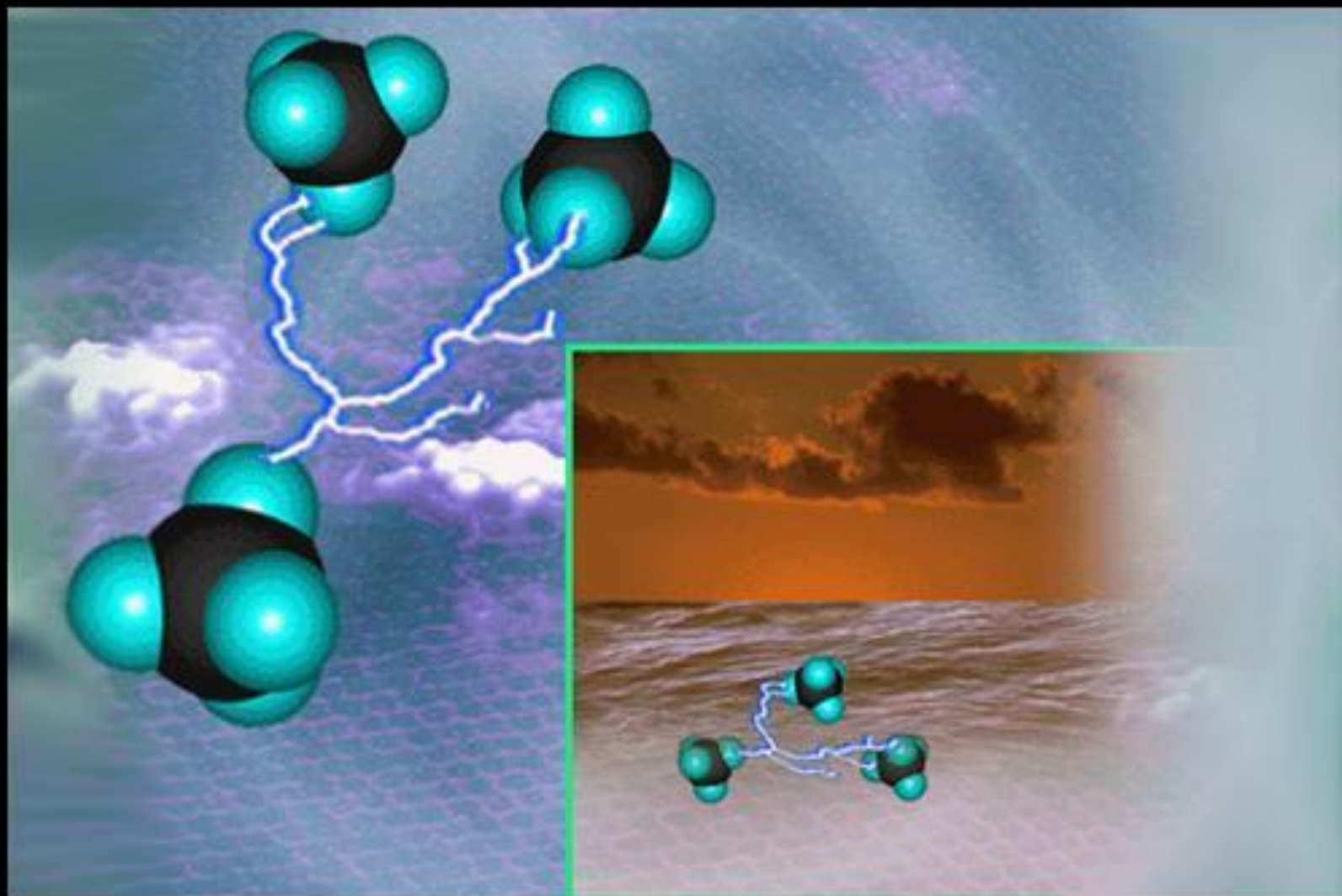


Образование
мирового
океана

Образование
простейших
органических
соединений
и
аминокислот

Зарождение
примитивной
жизни в океане

Появление
жизни
на суше



Образование
мирового
океана

Образование
простейших
органических
соединений
и
аминокислот

Зарождение
примитивной
жизни в океане

Появление
жизни
на суше



Образование
мирового
океана

Образование
простейших
органических
соединений
и
аминокислот

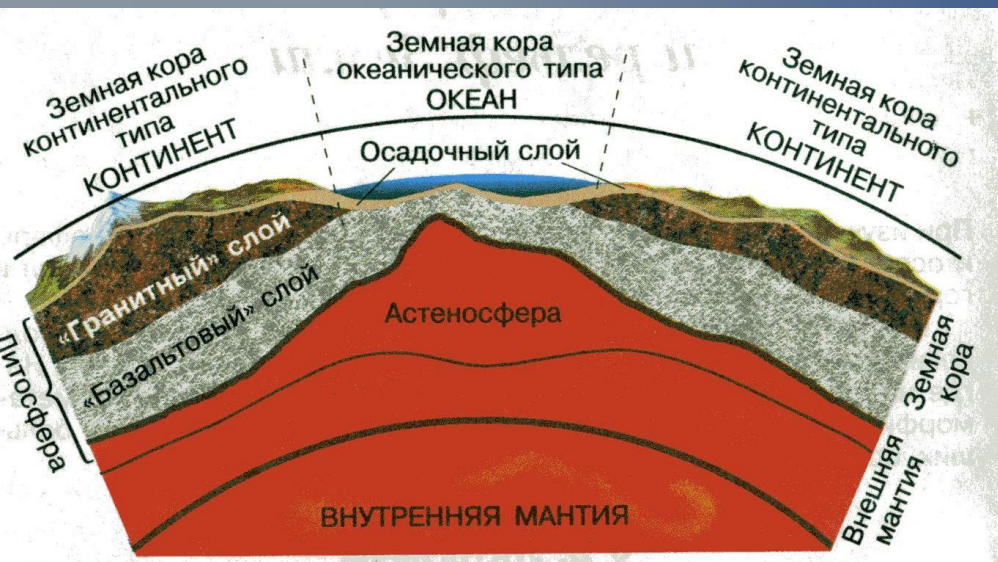
Зарождение
примитивной
жизни в океане

Появление
жизни
на суше



Вспомним!

- **Каково внутреннее строение Земли?**
(Ядро, мантия)
- **Что называют литосферой?**
(земная кора и самый верхний слой мантии образуют единую твёрдую оболочку Земли – литосферу («камень»))
- **Какие движения в ней происходят?**
(землетрясения, извержения вулканов)
- **На какие группы делятся горные породы по происхождению?**
(осадочные, магматические и метаморфические)

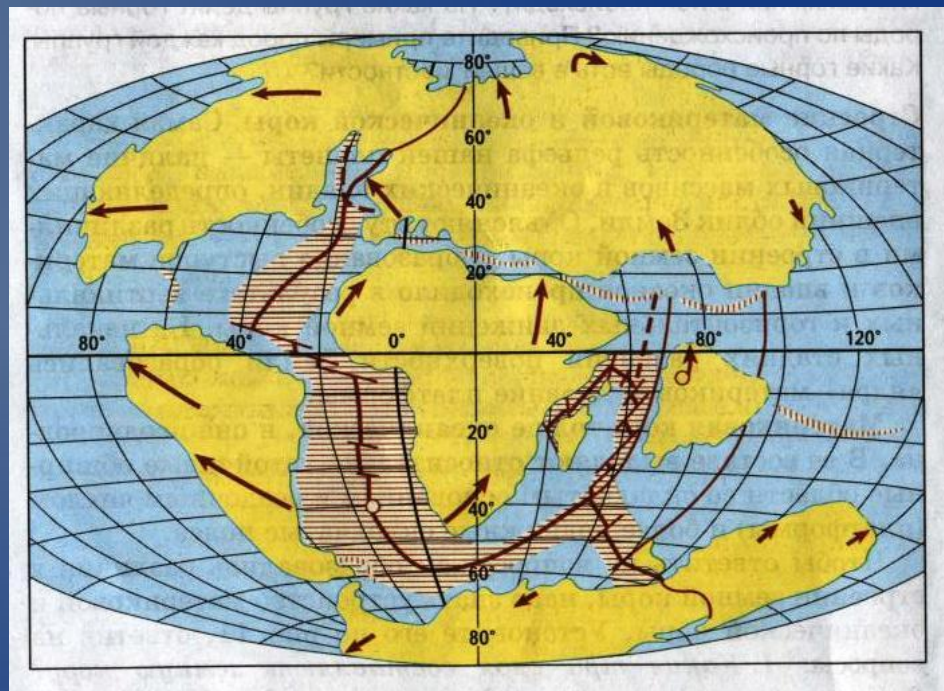


Строение земной коры

- Какие три слоя составляют земную кору?
- Какова толщина земной коры под материками? Под океанами?
- Выделите два признака, отличающие материковую кору от океанической?
- Опишите строение материковой и океанической коры?

Правдоподобная гипотеза происхождения материков и океанов связана с именем немецкого учёного А. Вегенера. Он первый заявил о движении материков (их дрейфе) и в начале 20 века опубликовал свой труд. Суть гипотезы – много миллионов лет на поверхности Земли был один материк Пангея (Лавразия и Гондвана), затем раскололся и его части стали современными материками.

Распад Пангеи



Плиты литосферы



Выполните задание!

- Найдите самые большие плиты на карте, назовите их.
- Определите, какие материки и океаны расположены на каждой плите?

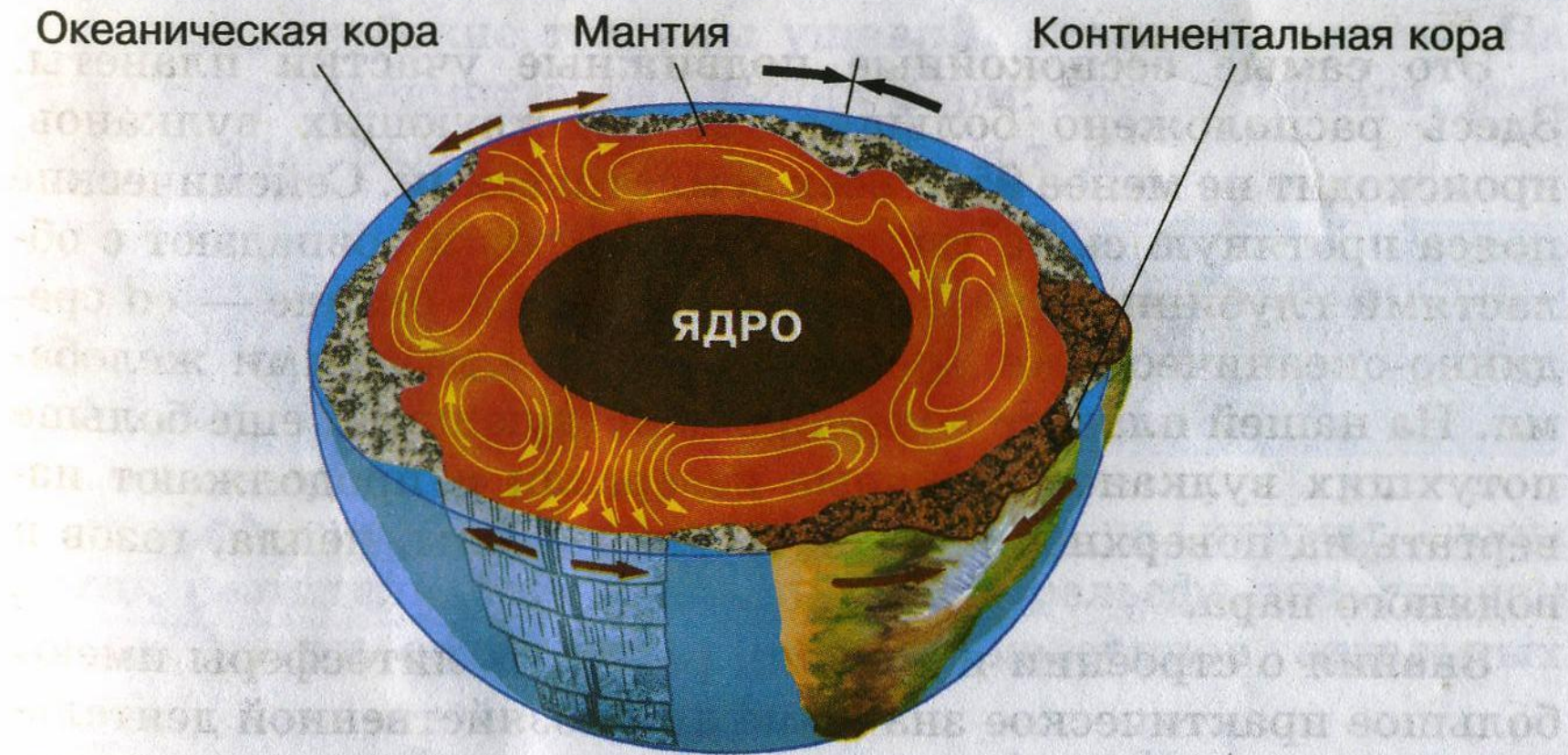



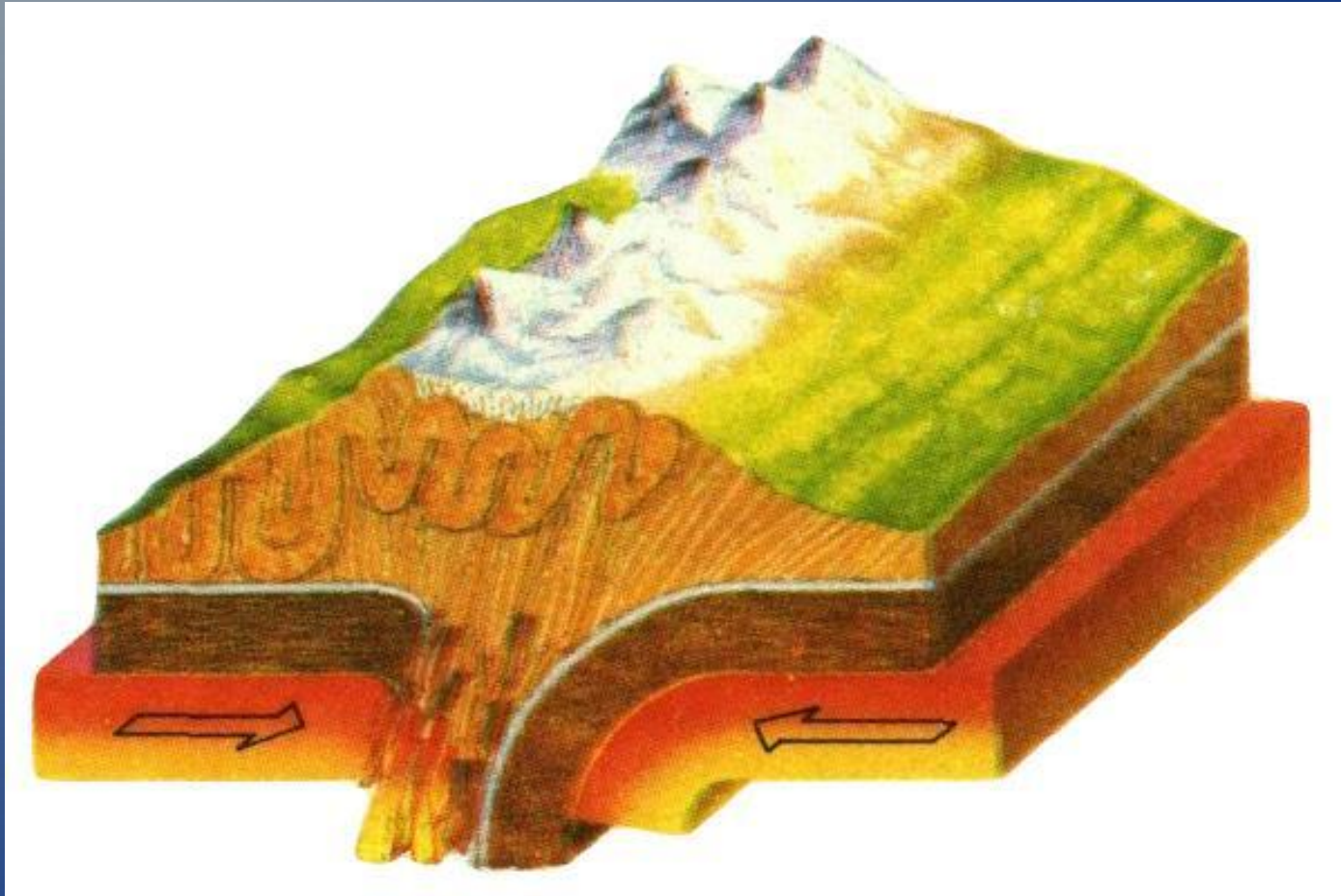
Рис. 14. Предполагаемый внутренний «механизм»,двигающий литосферные плиты. Стрелками показано направление движения литосферных плит и потоков вещества в недрах Земли

Столкновение океанической и материковой и океанической литосферных плит



Происходит образование горных хребтов на окраинах материков и глубоководных желобов (впадин) на дне океана. Эти процессы сопровождаются вулканизмом и землетрясениями.

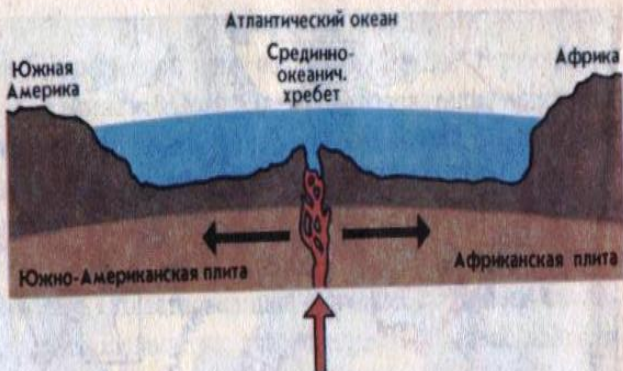
Столкновение материковых литосферных плит и образование горных хребтов



Края литосферных плит вместе с горными породами сминаются в складки.

Литосферные плиты и их движение

Рис. 6. Расхождение литосферных плит в зоне срединно-океанического хребта



- 1) Столкновение каких литосферных плит изображено на схеме?
- 2) Как они движутся относительно друг друга?
- 3) Что образуется вдоль границ плит?
- 4) Какие природные явления там происходят?



Рис. 8. Столкновение литосферных плит и образование горных хребтов

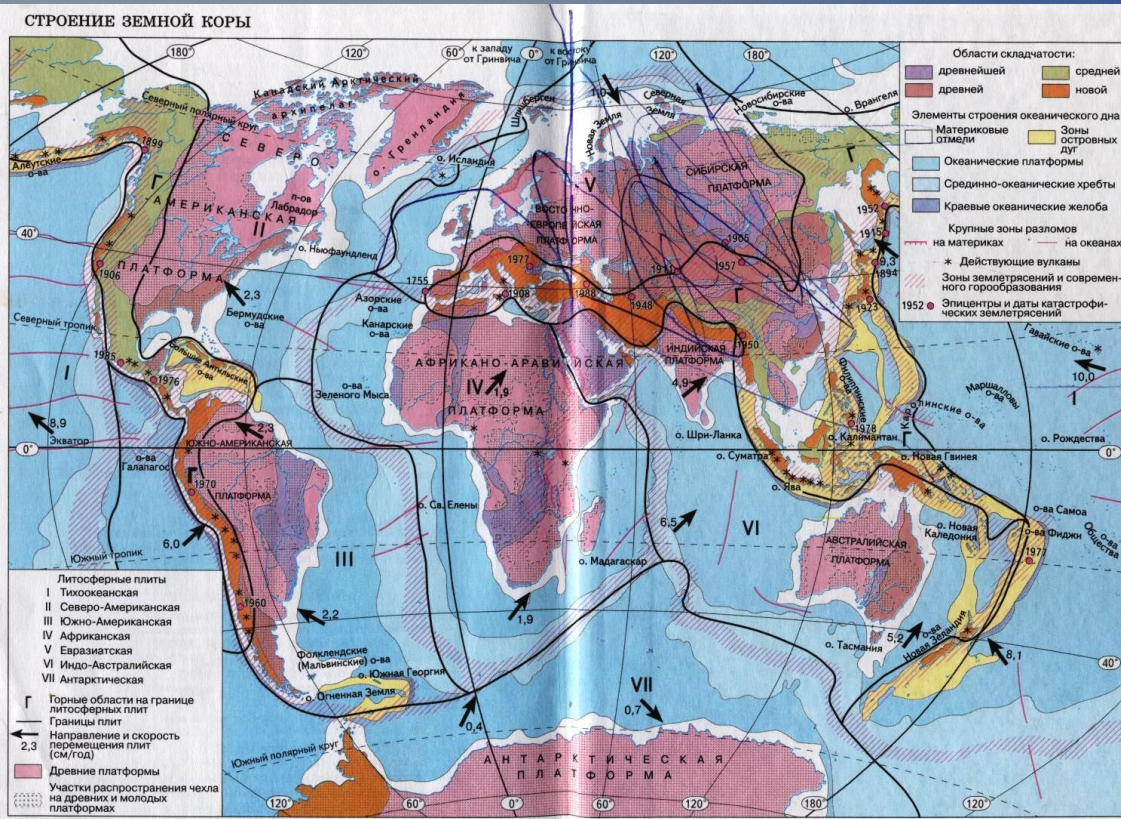


- Найдите эти же территории на физической карте мира.
- Подтвердите, что в этих районах часты землетрясения и извержения вулканов.

Платформы и сейсмические пояса

- В основании современных материков лежат древнейшие относительно устойчивые и выровненные участки земной коры – платформы, т.е. плиты, образовавшиеся в далёком геологическом прошлом.

Карта строения земной коры (тектоническая карта)



Это особая по содержанию тематическая карта, на которой показаны древние платформы, складчатые горные области, их возраст, положение срединно-океанических хребтов, зоны разломов на суше и дне океанов

Проверочные вопросы

- **Какие сведения (например об Африке) можно получить при работе с тектонической картой?**
- **Определите, где расположены самые большие платформы, самые длинные хребты на дне океана, самые большие зоны островных дуг, глубоководные желоба.**

Домашнее задание

§4, стр.22 – 27.