



Путешествие по Африке



©Шеляпина Надежда Владимировна
ГОУ СОШ № 294
2010







Удачи!!!

TABULA
AFRICAE
Aethiopiae
Lionem

Игровое поле



	1	2	3	4	5
Разминка	<u>1</u>	<u>1</u>	<u>1</u>	<u>1</u>	<u>1</u>
Географическое положение	<u>2</u>	<u>2</u>	<u>2</u>	<u>2</u>	<u>2</u>
Почемучки	<u>3</u>	<u>3</u>	<u>3</u>	<u>3</u>	<u>3</u>
Тестовое задание	<u>1</u>	<u>1</u>	<u>1</u>	<u>1</u>	<u>1</u>
Задание от крокодила Тоши	<u>2</u>	<u>2</u>	<u>2</u>	<u>2</u>	<u>2</u>
Угадайка?	<u>2</u>	<u>2</u>	<u>2</u>	<u>2</u>	<u>2</u>

Разминка



1 балл

Какой тип климата
в Сахаре?



[ОТВЕТ](#)



Тропический





Разминка

1 балл

Формы рельефа,
преобладающие в Африке.



ОТВЕТ

Равнины



Разминка



1 балл

Пролив между Африкой
и Евразией.



ОТВЕТ

Гибралтарский пролив





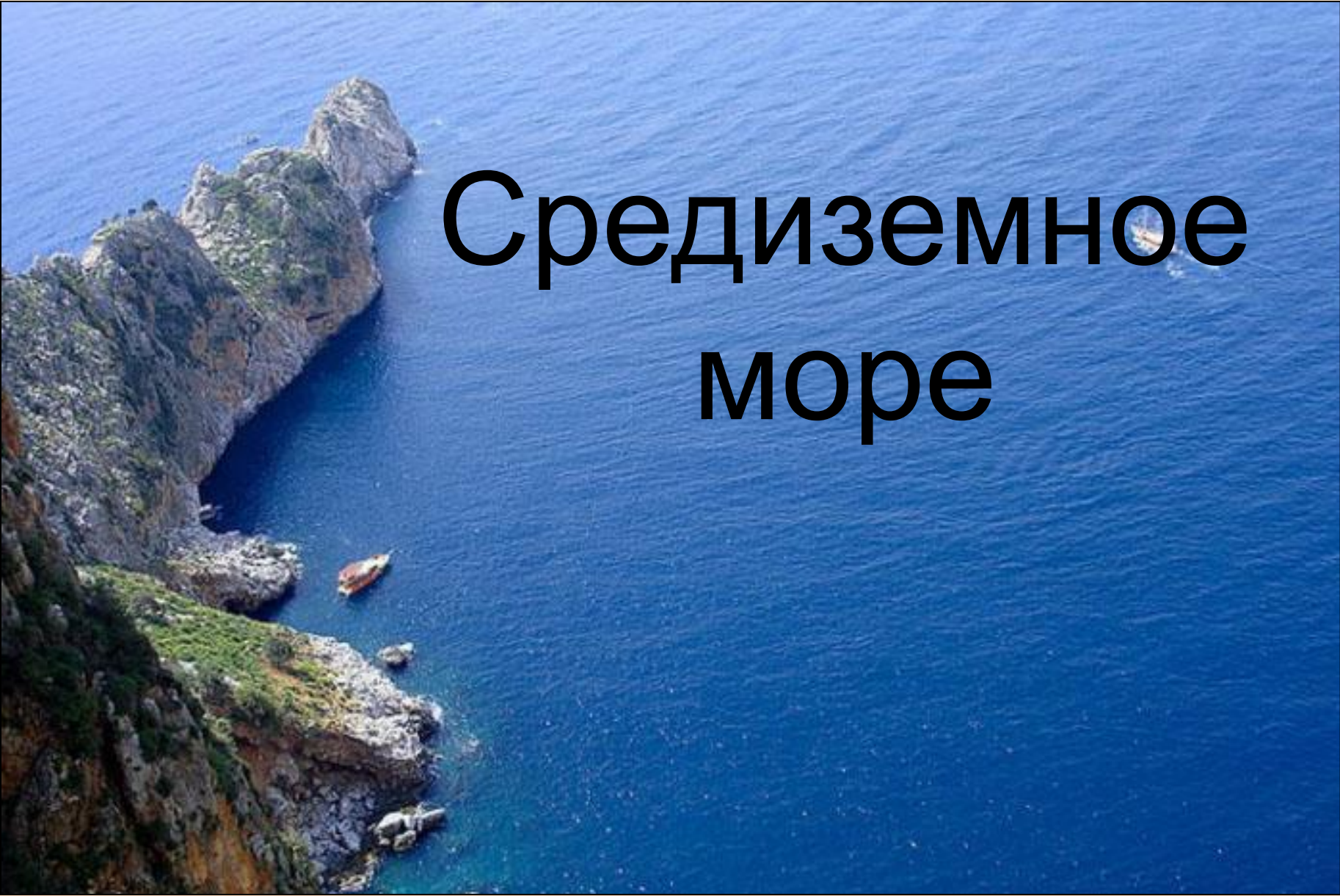
Разминка

1 балл

Море на севере Африки.



ОТВЕТ

An aerial photograph of a rugged, rocky coastline. The water is a deep, vibrant blue, contrasting with the grey and brown tones of the cliffs. A small, reddish-brown boat is visible in the lower-left quadrant of the water. The text 'Средиземное море' is overlaid in the center-right of the image.

Средиземное море



Разминка



1 балл

Как называются временные реки,
протекающие в пустыне?



ОТВЕТ



Вади



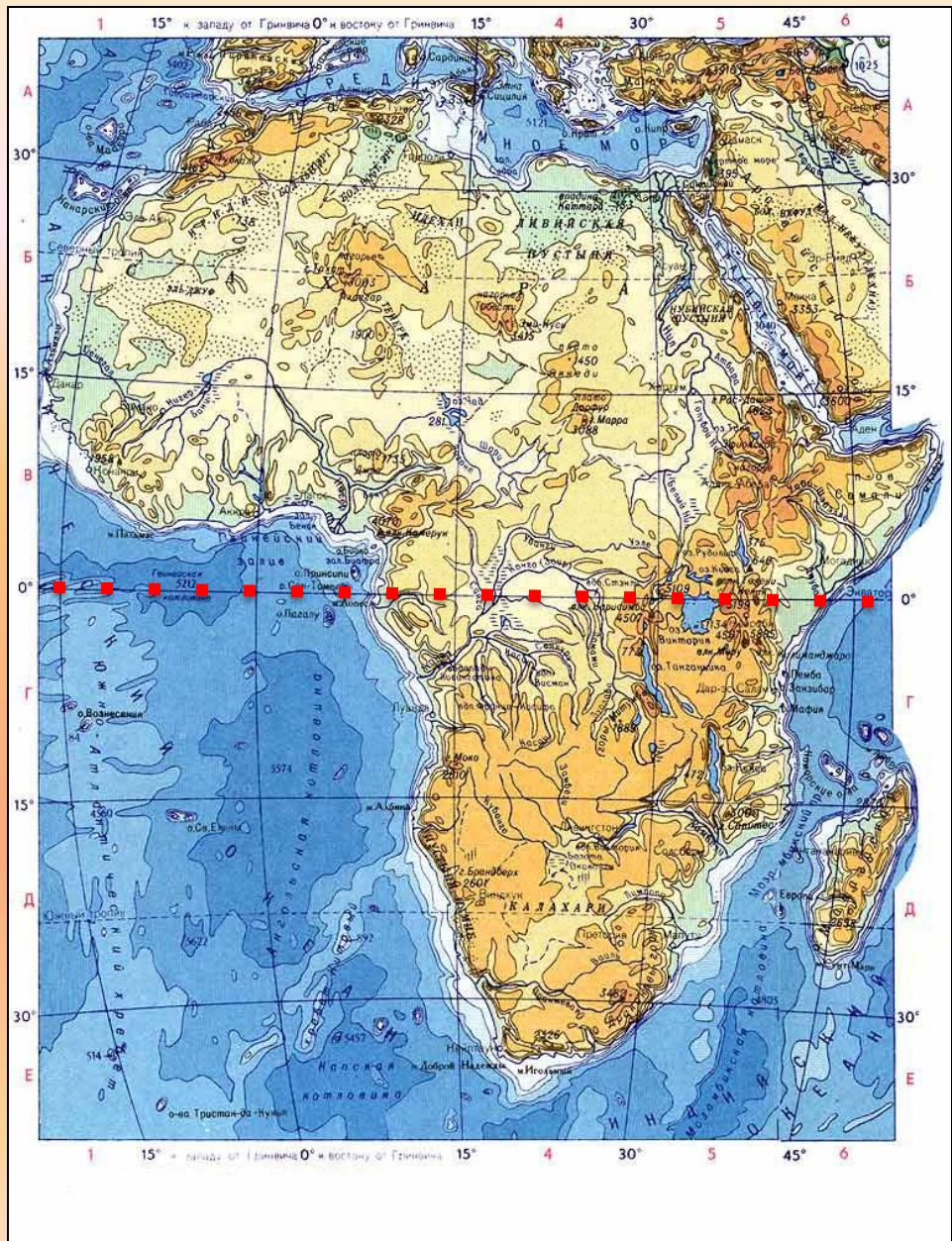
Географическое положение



2 балла

Африку почти посередине
пересекает ...и поэтому она
находится в ... полушариях.

ОТВЕТ



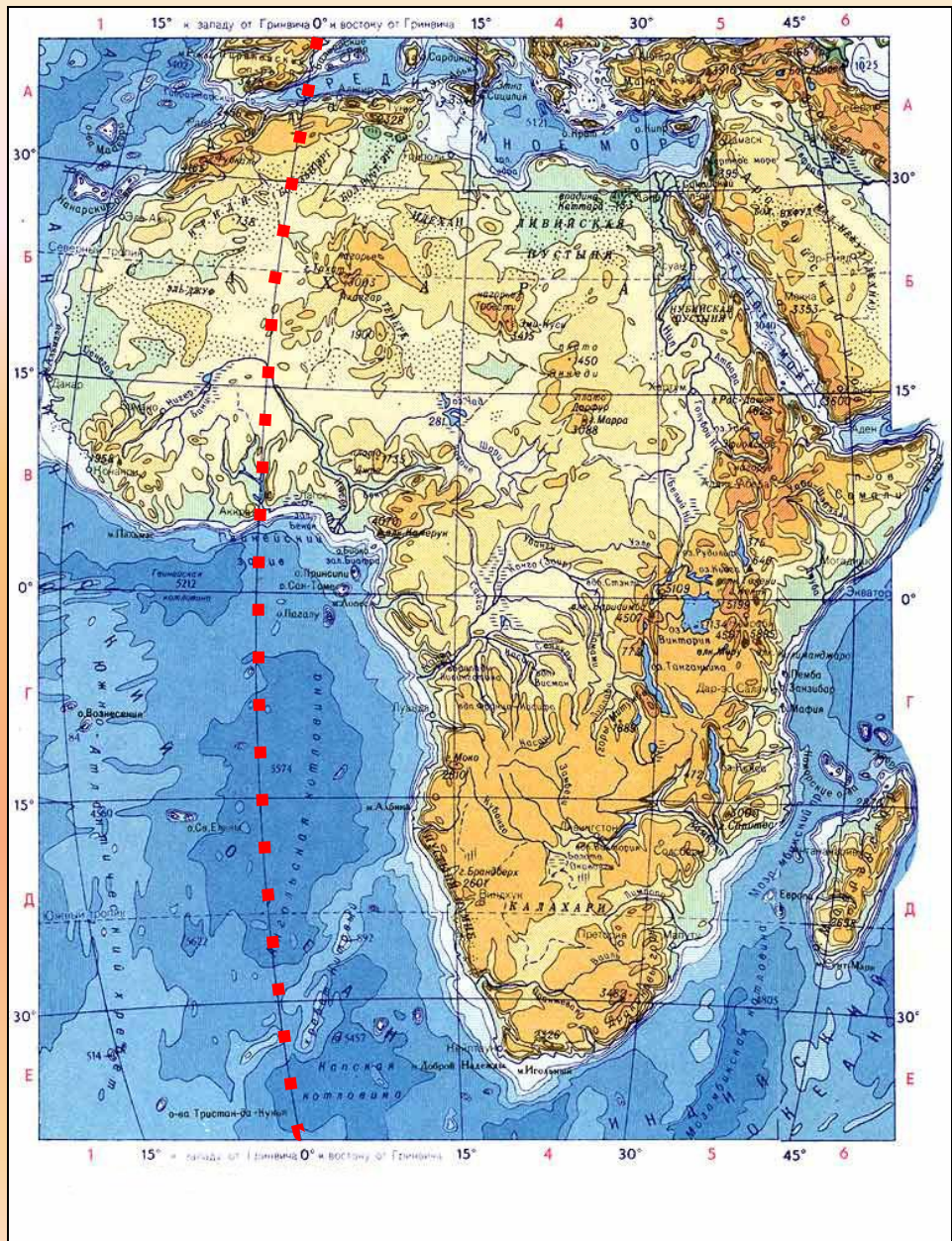
Географическое положение

2 балла



Африку нулевой меридиан
пересекает в ... части и она
расположена в ... и ... полушариях.

ОТВЕТ






Вопрос от пирата

В этом сундуке находится растение, родина которого Эфиопское нагорье, но выращивают больше эту культуру в Южной Америке.

Как называется это растение?





Географическое положение

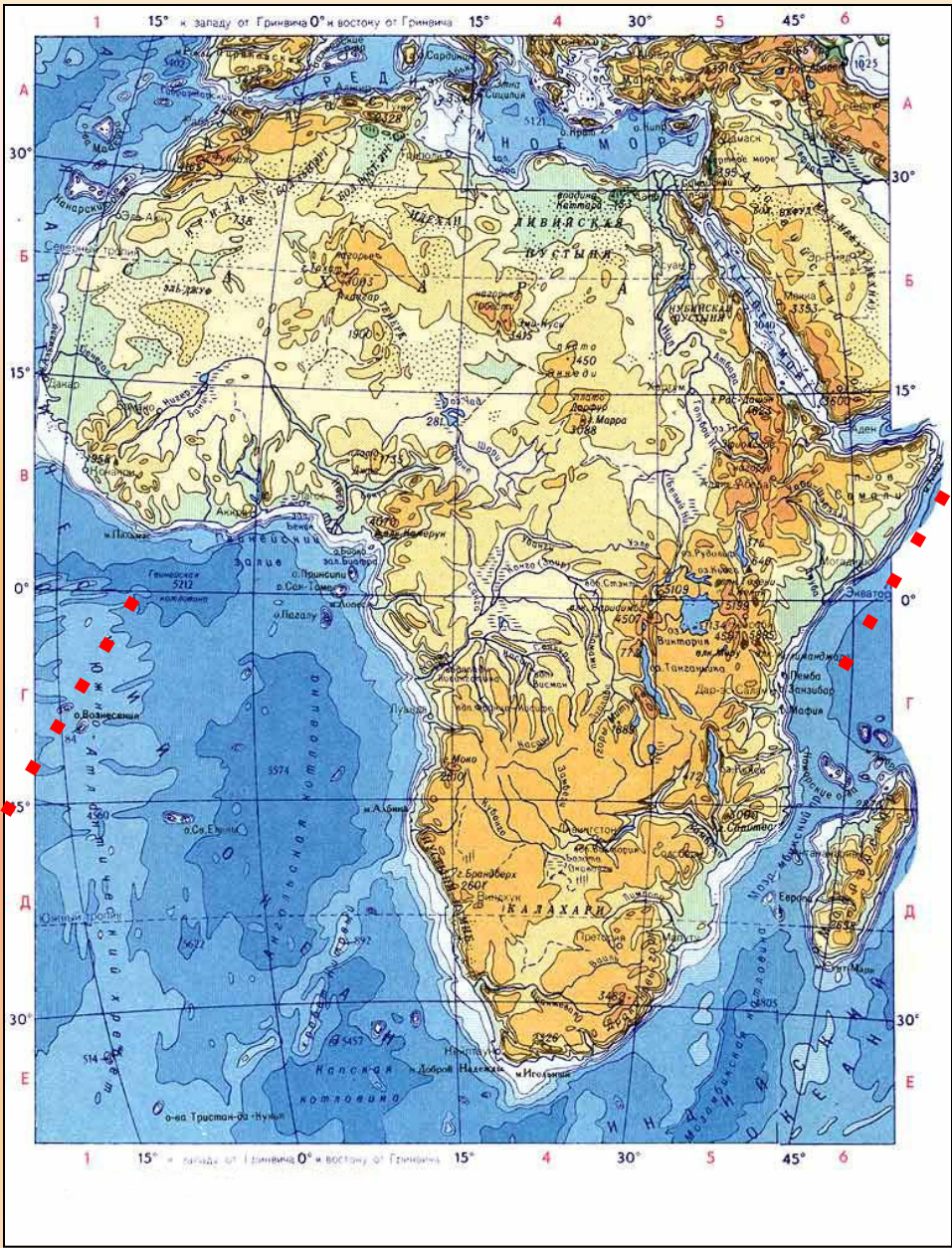
2 балла



Африку омывает ... океана.
Один ... с востока и ... с запада.

ОТВЕТ

Атлантический океан



Индийский океан



Географическое положение



2 балла

Самый большой остров близ
берегов Африки

ОТВЕТ

A scenic landscape of Madagascar, featuring a misty valley with rolling hills and lush greenery. The foreground shows several tall, thin trees with green foliage. In the background, a thick layer of white mist or fog fills the valley, partially obscuring the hills and a small cluster of buildings. The sky is a clear, bright blue. The overall atmosphere is serene and natural.

Мадагаскар



Почемучки




3 балла

Почему рельеф восточной Африки
отличается от северной?

ОТВЕТ

Восточная Африка в МЗ и КЗ
испытала грандиозные подвижки земной коры.
Образовались горсты и грабены.



Почемучки

3 балла



Почему самой полноводной
рекой в Африке считается Конго?

ОТВЕТ

Бассейн реки лежит в экваториальном и субэкваториальном климатических поясах с большим количеством осадков.



Почемучки



3 балла

Почему для рек Африки
характерно обилие
порогов и водопадов?

ОТВЕТ

Реки Африки (Конго, Замбези) стекая со ступенчатых плато, образуют много порогов и водопадов.



Почемучки

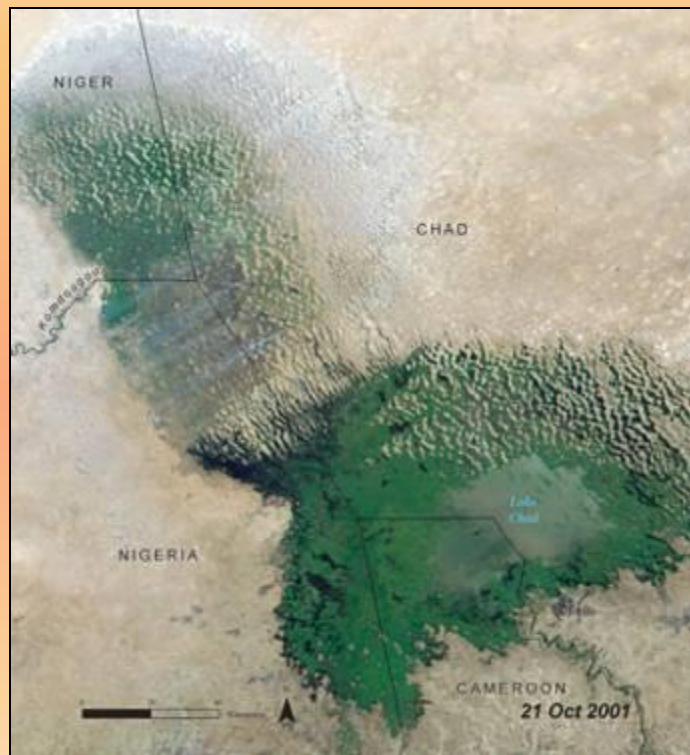
3 балла



Почему берега озера Чад
обозначены на карте
прерывистой линией?

ОТВЕТ

Для озера Чад характерны сезонные колебания уровня воды



Почемучки




3 балла

Почему озеро Танганьика
отличается большими глубинами
и крутыми склонами?

ОТВЕТ

Озеро Танганьика
занимает разлом земной коры,
называемый грабеном.



Тестовое задание

1 балл

В основании большей части материка находится:

- платформа;
- складчатые области.



ОТВЕТ

Платформа



Тестовое задание



1 балл

Полезные ископаемые осадочного происхождения в основном расположены:

- на севере материка;
- в южной части.

ОТВЕТ

Месторождения нефти в Алжире



Тестовое задание



1 балл

На территории Африки максимальное количество осадков выпадает:

- на экваторе;
- вдоль океанских побережий.

ОТВЕТ

На экваторе



Тестовое задание

1 балл

Если в африканской пустыне в июле холоднее, чем в январе, то это:

- пустыня Сахара;
- пустыня Калахари.



ОТВЕТ

Пустыня Калахари



Тестовое задание



1 балл

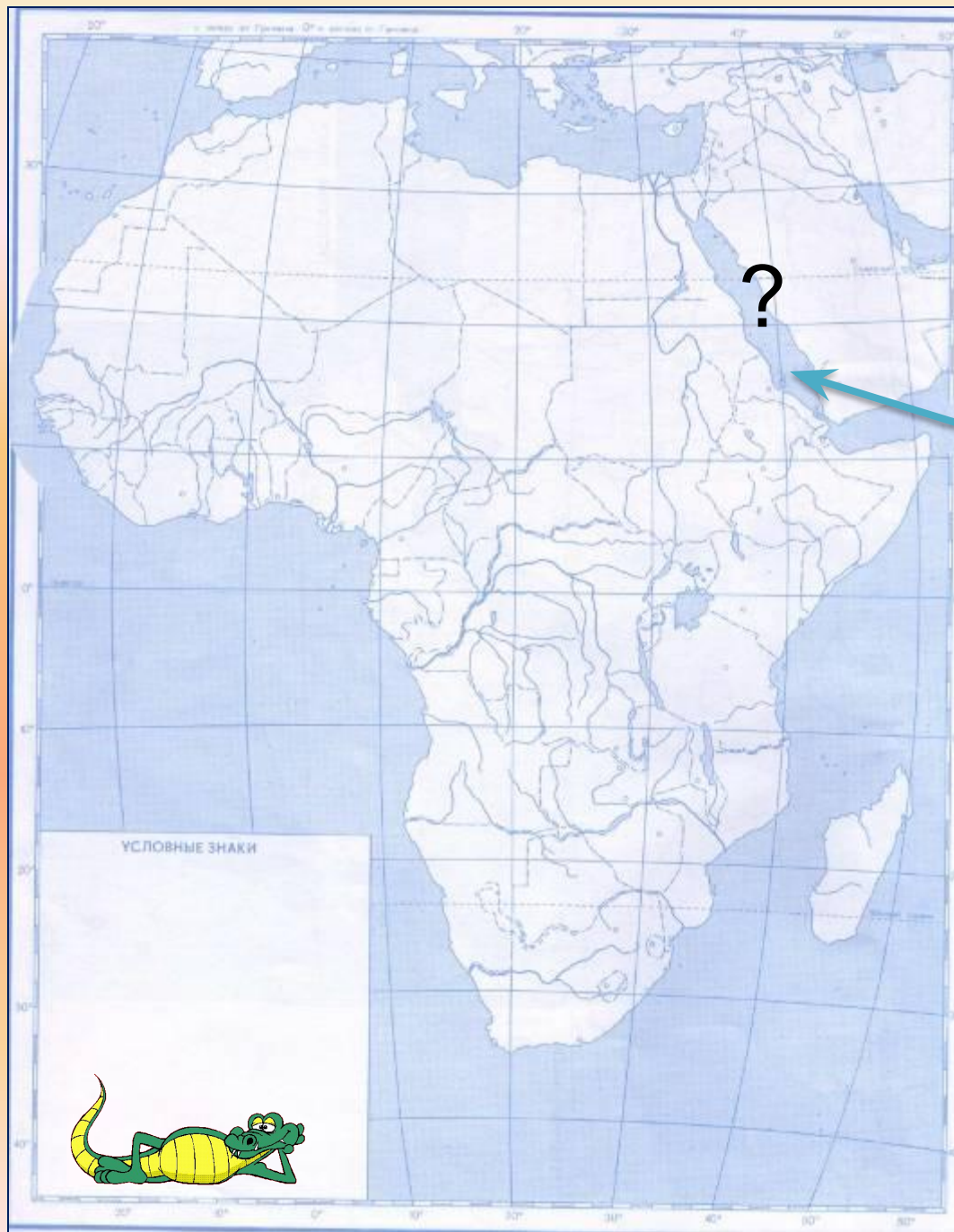
Антилопы, львы, гепарды, бегемоты
водятся в зоне:

- экваториальных лесов;
- саванн.

ОТВЕТ

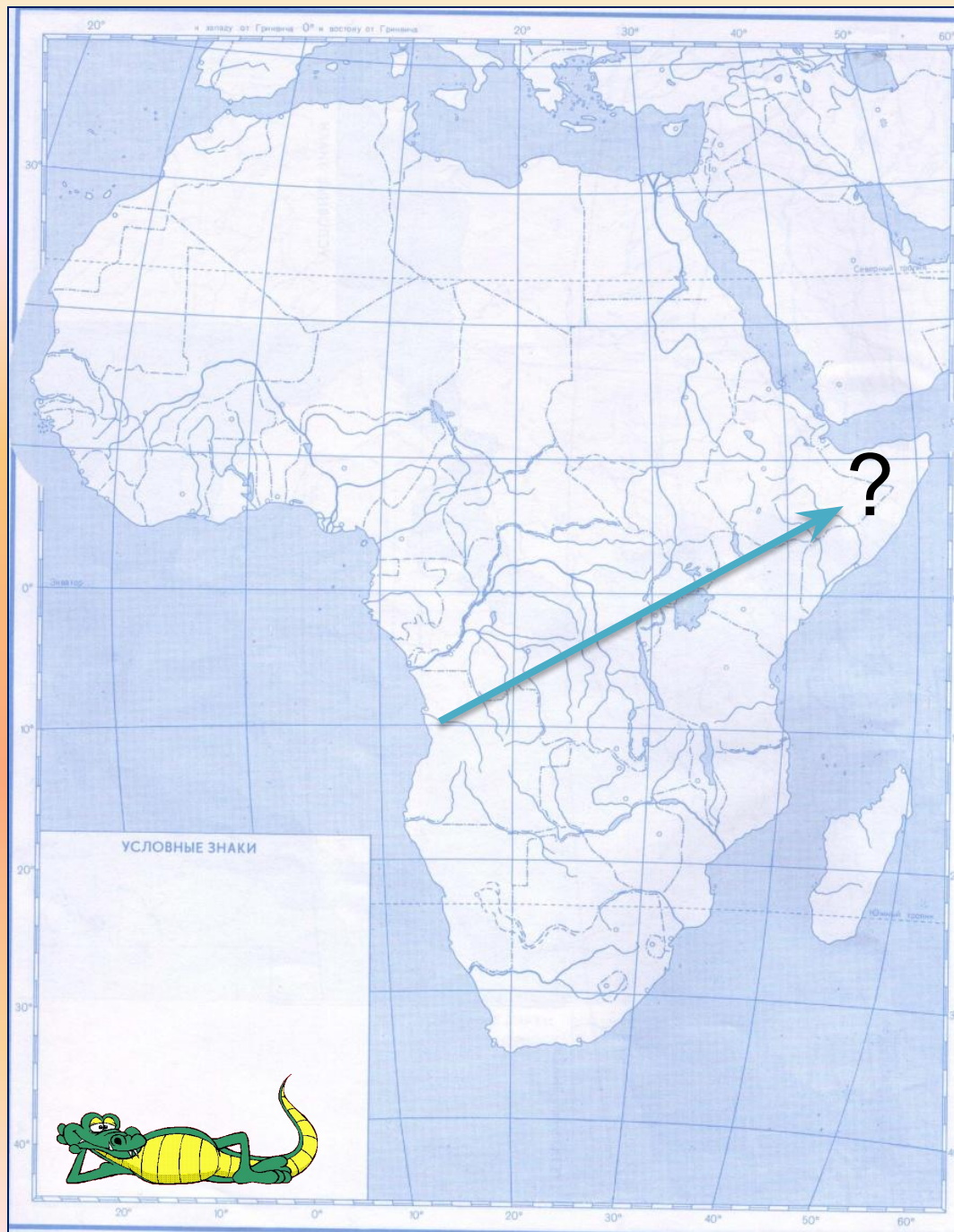
Зона саванн






Красное море






Полуостров Сомали





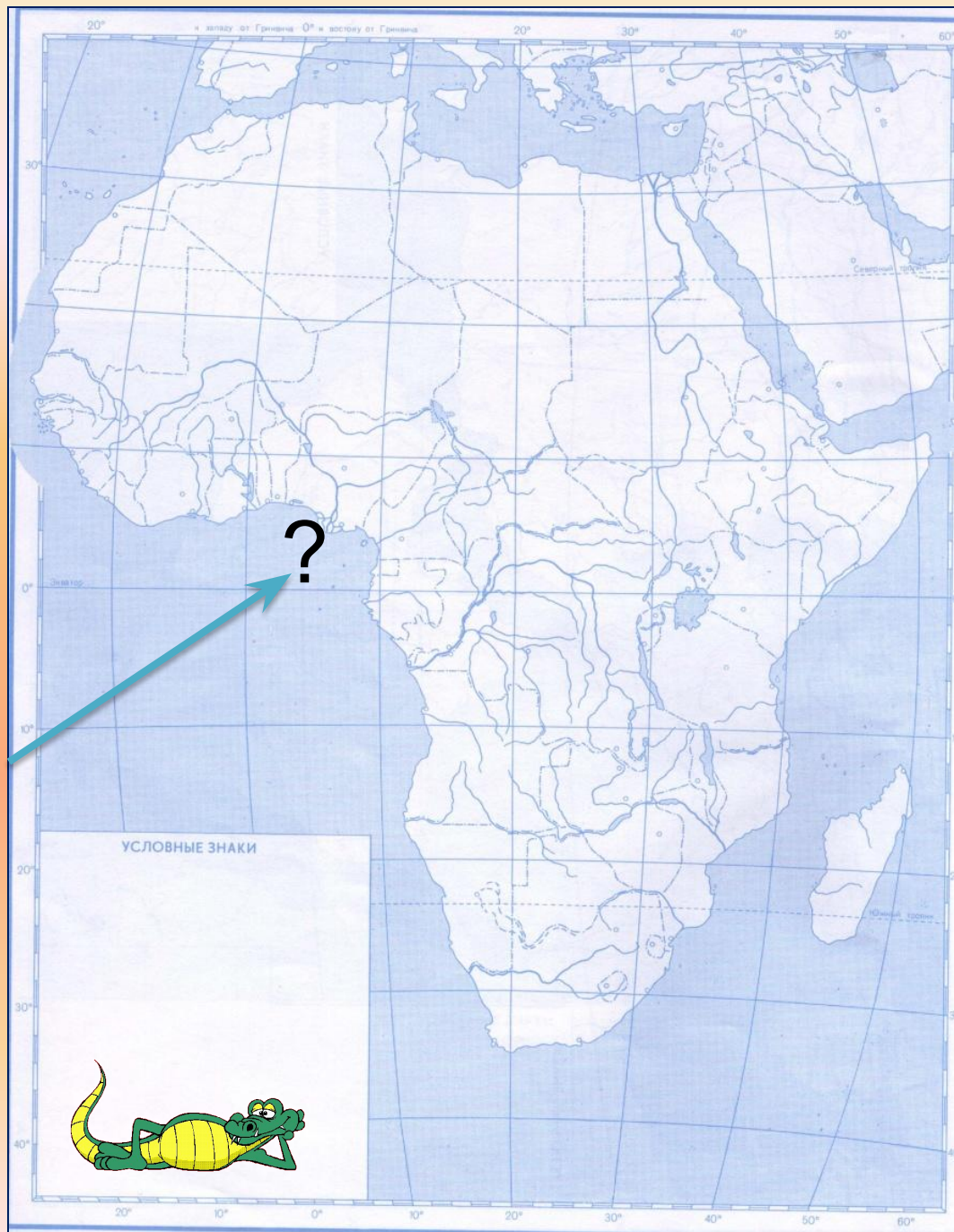
Озеро Виктория





Река Нил





Гвинейский залив



Что это?

2 балла

- Конго
- Финик
- Алжир
- Калахари



[ОТВЕТ](#)





Что это?

2 балла

- Нигер
- Туареги
- Виктория
- Вельвичия



[ОТВЕТ](#)



Что это?

2 балла



- Окапи
- Баобаб
- Пигмеи
- Замбези

[ОТВЕТ](#)



Что это?

2 балла

- Чад
- Атлас
- Саванна
- Килиманджаро



[ОТВЕТ](#)



Что это?

2 балла



- Цеце
- Оазис
- Сомали
- Папирус

[ОТВЕТ](#)



МОЛОДЦЫ!!!

