

Расовый и половозрастной состав населения мира.

Урок географии в 10 классе

Козлова Е.А.

Яманская средняя школа


Расовый состав населения

- **Расы** –

большие группы людей, объединенные общностью происхождения и рядом внешних признаков (цвет кожи, форма черепа, черты лица, рост, характер волосяного покрова ...), возникших из-за окружающих условий

4 основные расы составляют 70% населения Земли.

Назовите эти расы.



Расовый состав населения.

Основные расы

- 1. Человечество принято делить на три основные расы:
- европеоидную (страны Европы, Америки, Юго-Западной Азии, Северной Африки);
- Азиатско-американскую - монголоидную (страны Центральной и Восточной Азии, Америки);
- экваториальную - негроидную (большинство стран Африки).
- Выделяют также австралоидную расу, представители которой расселены на юго-востоке Азии, в Океании и Австралии.

Изучите размещение рас по картам

Расовый состав населения.

Переходные и смешанные расы

- Переходные расы. 30% населения мира относится к промежуточным расовым группам (эфиопы, малагасийцы, полинезийцы и др.).
- Смешанные расы. Смешение рас привело к образованию особых групп метисов, мулатов и самбо в Америке.

Половой состав населения мира

- Работая с текстом учебника, заполните пропуски.
- Половой состав населения мира характеризуется преобладанием
- Женщины преобладают в
странах, например,
- Мужчины преобладают в
....., например,
.....
- Примерно равное соотношение мужчин и женщин в странах.....,
например.....

- Половой состав населения мира характеризуется преобладанием **мужчин**.
- Женщины преобладают в **большинстве развитых** стран, например, в **США, Германии, Японии**.
- Мужчины преобладают в **развивающихся странах Азии**, например, в **Саудовской Аравии, Индии, Китае**.
- Примерно равное соотношение мужчин и женщин в странах **Африки и Латинской Америки**, например **Бразилии, Марокко, Эфиопии**.

Возрастной состав

При анализе возрастного состава населения принято выделять три основные возрастные группы:

- дети (0-14 лет);
- взрослые (15-64 года);
- пожилые (65 лет и старше).

Возрастной состав зависит от типа воспроизводства.

Домашнее задание

На основе данных таблицы постройте столбиковые диаграммы «Возрастной состав населения мира и отдельных регионов»

	Весь мир	Зарубежная Европа	Зарубежная Азия	Африка
Доля пожилых (старше 60)	8	20	9	5
Доля взрослых	58	63	61	52
Доля детей (до 14)	34	17	30	43

Возрастной состав населения

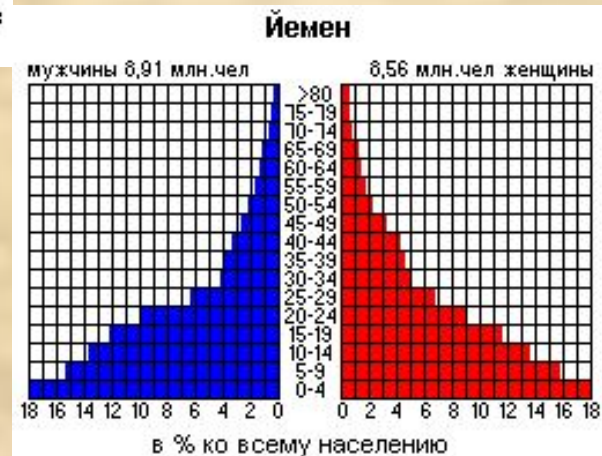
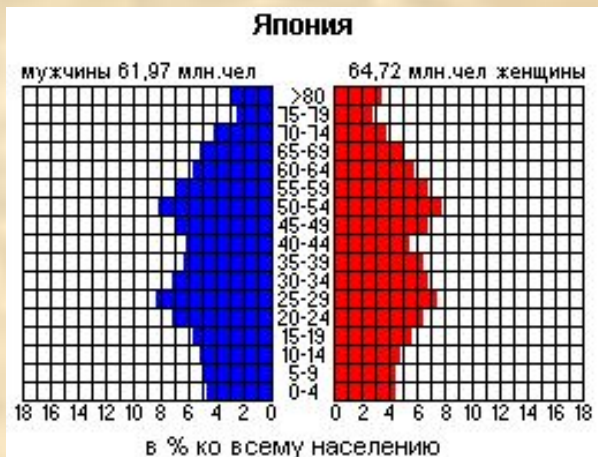


- Сформулируйте вопросы к диаграммам.
- Дайте ответы на эти вопросы.

Половозрастные пирамиды

- Для каждой страны пирамида имеет свои особенности.
- В целом для пирамиды стран с первым типом воспроизводства населения характерно неширокое основание (низкая доля детей) и достаточно широкая вершина (высокая доля пожилых).
- Для пирамиды развивающихся стран (второй тип воспроизводства, напротив, характерно очень широкое основание и узкий верх.

Определите этап демографического перехода и тип воспроизводства стран



Трудовые ресурсы

- Вспомните, что такое трудовые ресурсы, экономически активное население.
- От чего зависят трудовые ресурсы страны?
- В мире к экономически активному относится около 45% всего населения, причем в странах Зарубежной Европы, Северной Америки, России этот показатель составляет 48- 50%, а в странах Азии, Африки, Латинской Америки - 35-40%.
- Как вы думаете, чем объясняются эти различия?

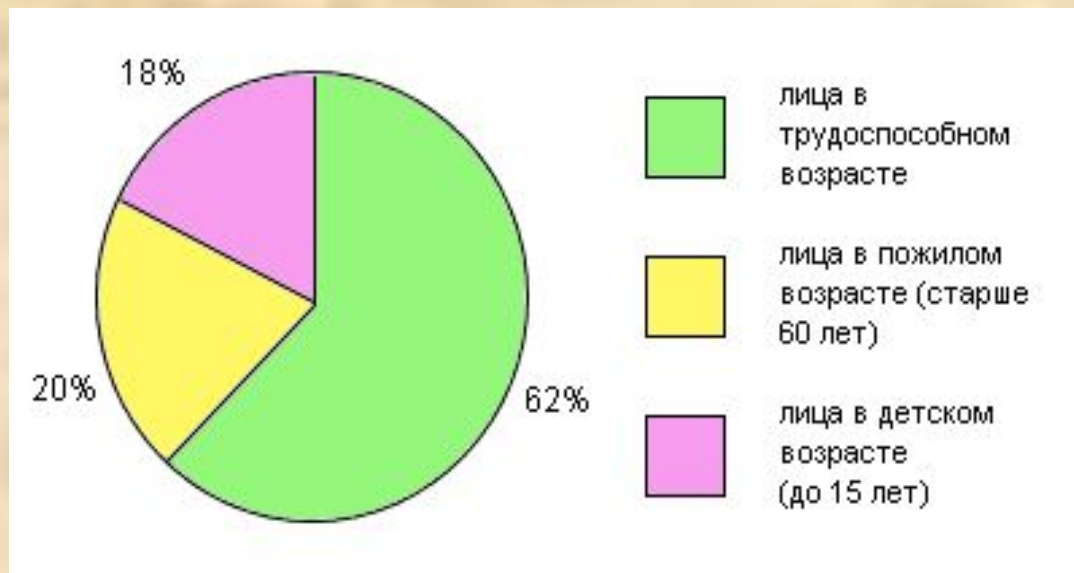
тесты для самоконтроля по теме

1. Выберите страну, в которой доля детей составляет около 40% населения, а доля пожилых возрастов - около 6%:

- Япония
- Канада
- Мексика
- Португалия
- Австралия
- ФРГ

2. Страна, возрастной состав населения которой изображен на диаграмме:

- Алжир
- Афганистан
- Парагвай
- Дания



3. Страна, где доля лиц в
пожилом возрасте примерно
равна доле лиц в детском
возрасте:

- Нигерия
- Мексика
- Непал
- Венгрия

4. Мужское население преобладает в странах:

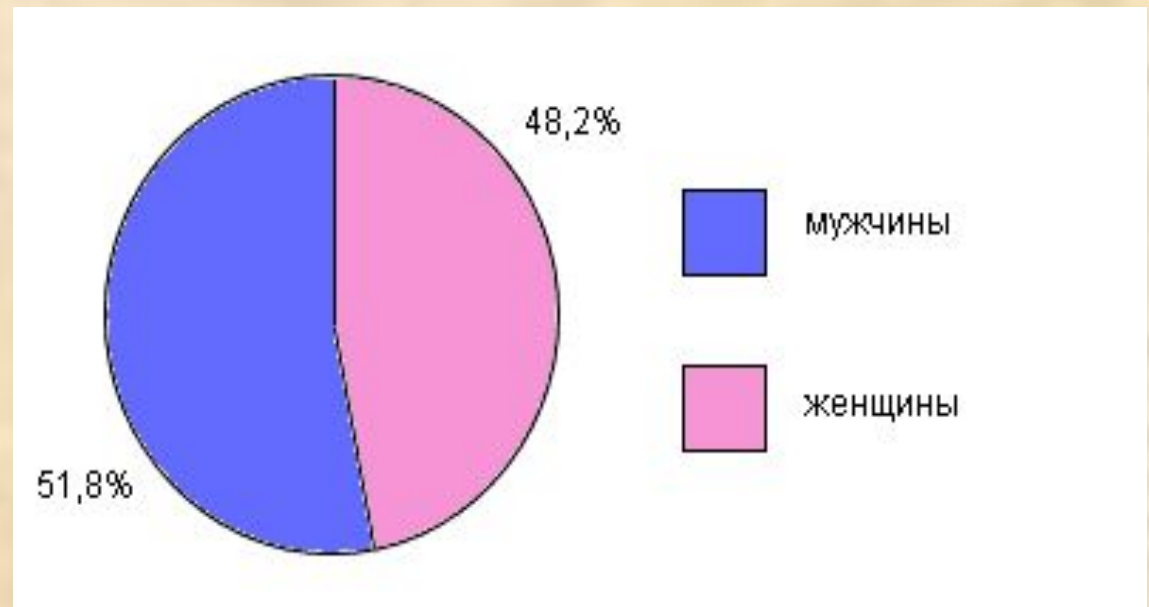
- России и Иране
- Китае и Саудовской Аравии
- Германии и Франции
- ни в одной из перечисленных выше

5. Регион мира с преобладанием мужчин над женщинами:

- Восточная Европа
- Юго-Западная Азия
- Северная Америка
- Австралия и Океания

6. Страна, половой состав населения которой изображен на диаграмме:

- Норвегия
- Япония
- Индия
- Латвия



Проверьте ваши ответы

- 1) Мексика
- 2) Дания
- 3) Венгрия
- 4) Китай и Саудовская Аравия
- 5) Юго-Западная Азия
- 6) Индия