


# Рельеф Евразии

география 7 класс



учитель географии МОУ «Приваленская СОШ» Омской области Безногова Ольга Николаевна



**Задание:**  
Рассмотрите физическую карту Евразии.  
Расскажите о рельефе Евразии.

# Рельеф Евразии

Равнины

Какие вы  
знаете?

1. *Западно-Сибирская*
2. *Аравийское*
3. *Среднесибирское*

Самое низкое место?

[Мертвое море -410 м](#)

Горы

Какие вы  
знаете?

Уральские  
Скандинавские  
Кавказские  
Гималаи

Самая высокая вершина

[Джомолунгма 8848 \(8850\)м](#)




Мертвым морем называют, фактически, большое озеро, которое имеет 76 километров в длину, до 18 километров в ширину и максимальную глубину 400-410 метров.





***Джомолунгма — в переводе с тибетского означает «Божественная».***






**Окружение самой высокой вершины мира**

Каким участкам земной коры соответствуют равнины?

Каким участкам земной коры соответствуют горы?



**Зависимость  
рельфа от строения  
земной коры**

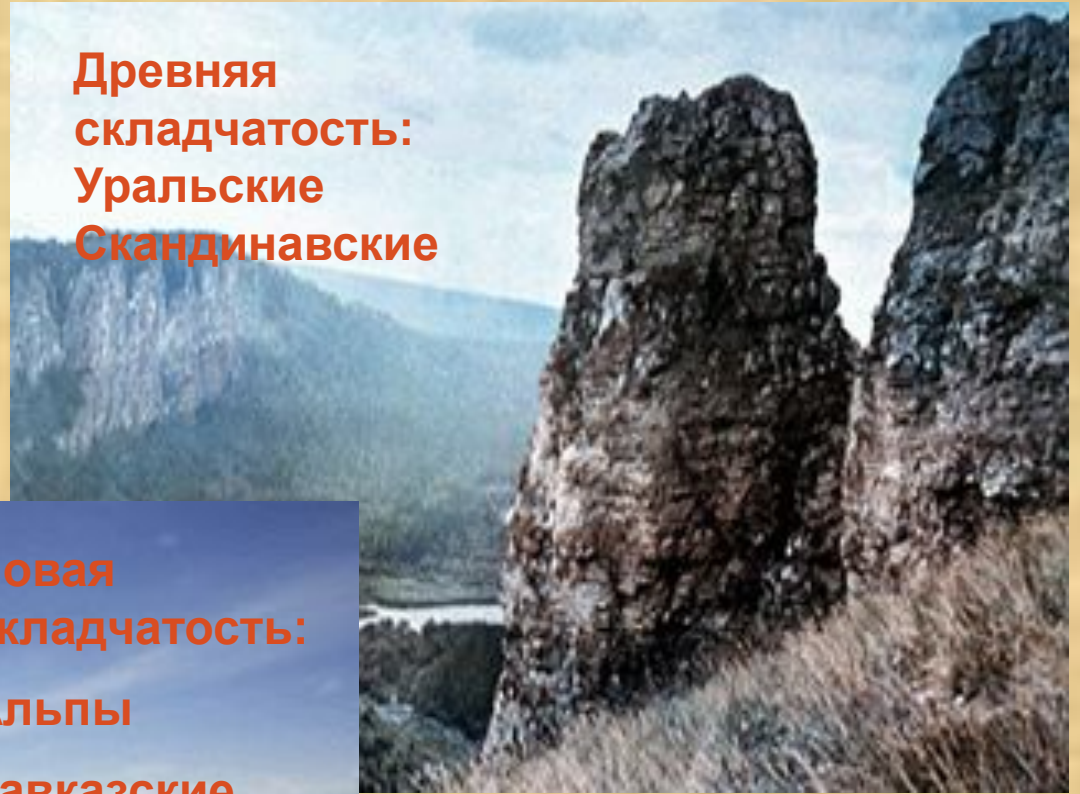




Назовите отличие гор.

Предположите, какие это могут быть горы Евразии?

**Древняя  
складчатость:  
Уральские  
Скандинавские**



**Новая  
складчатость:  
Альпы  
Кавказские  
Гималаи**



Какие явления природы вы видите на фотографиях?

Где в Евразии можно наблюдать эти явления?

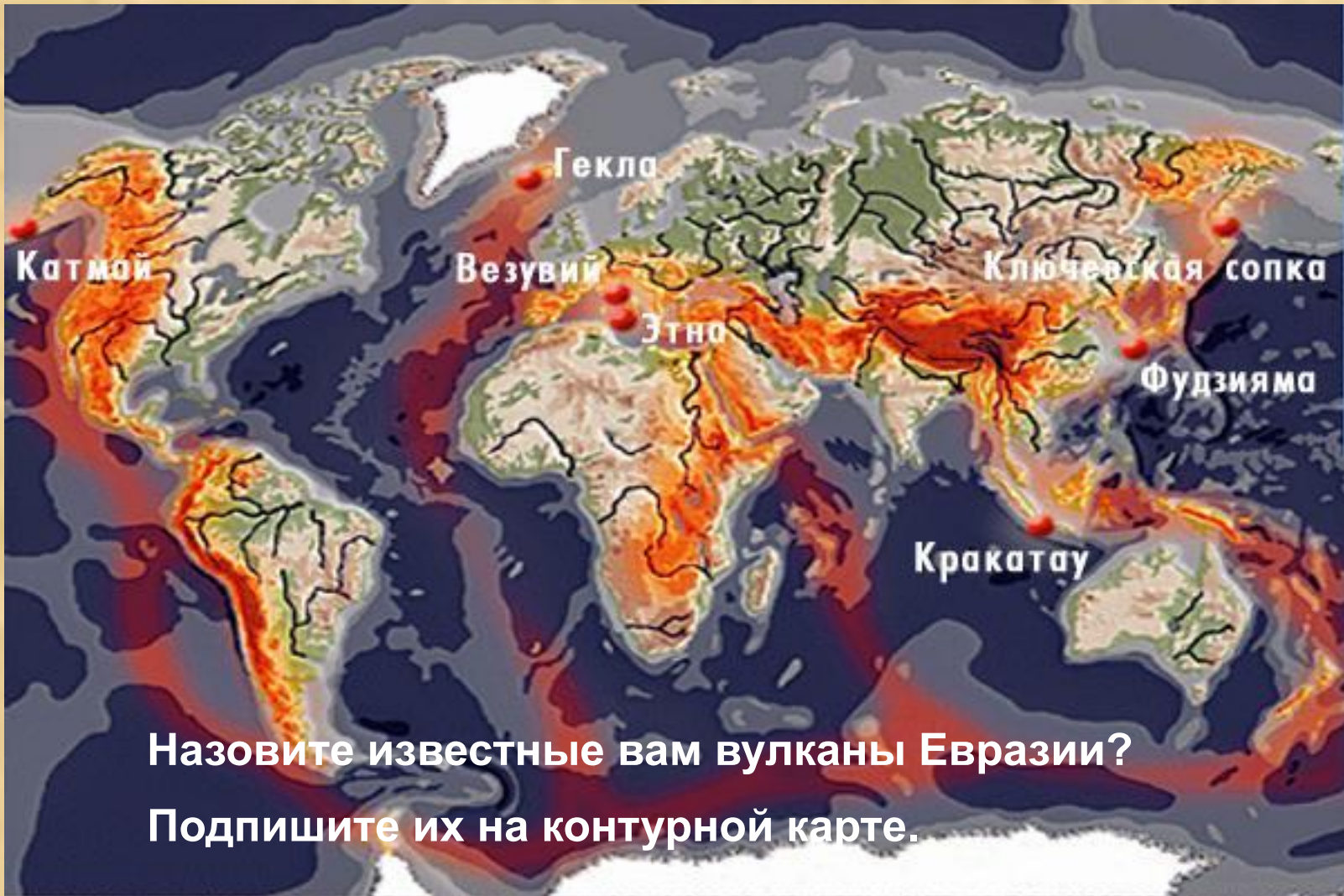


# Сейсмические пояса Евразии

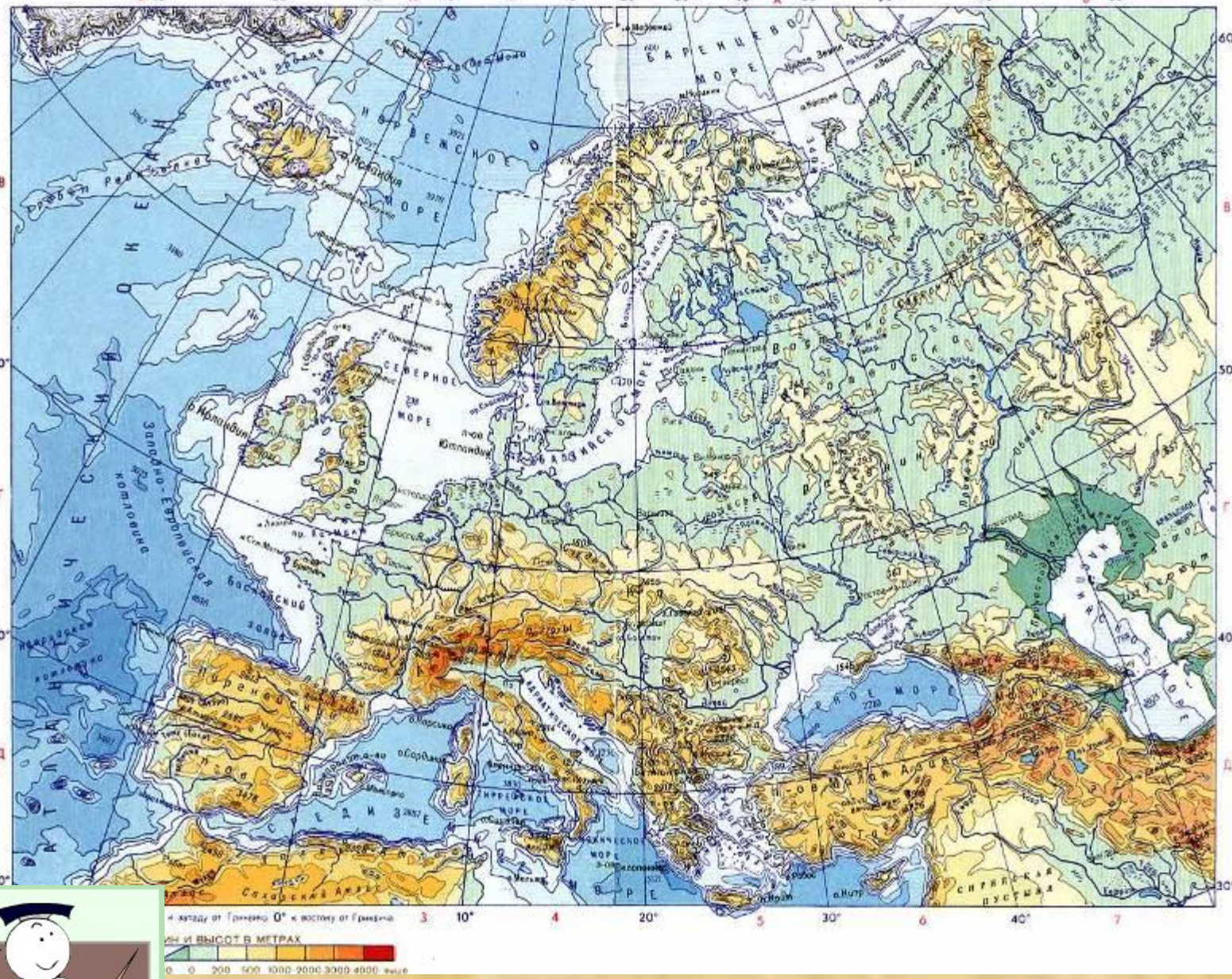


1  
Средиземноморский

2  
Тихоокеанский

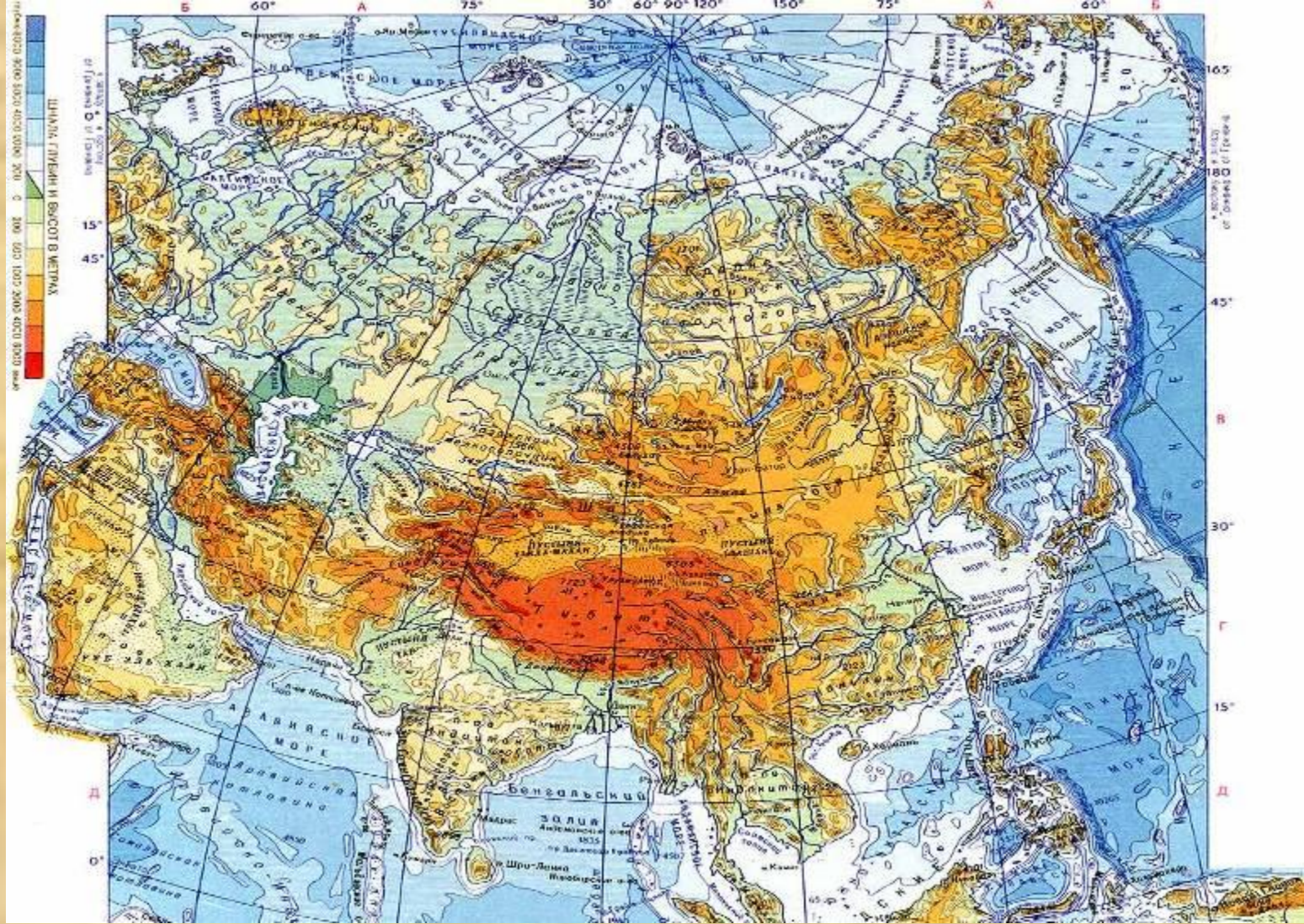


1. Альпы ↓ 1
2. Судеты ↓ 2
3. Апеннины ↓ 3
4. Пеннинские ↓ 4
5. Пиренеи ↓ 5
6. Кавказ ↓ 6
7. Уральские ↓ 7
8. Скандинавские ↓ 8
9. Старая-Планина ↓ 9
10. Карпаты ↓ 10

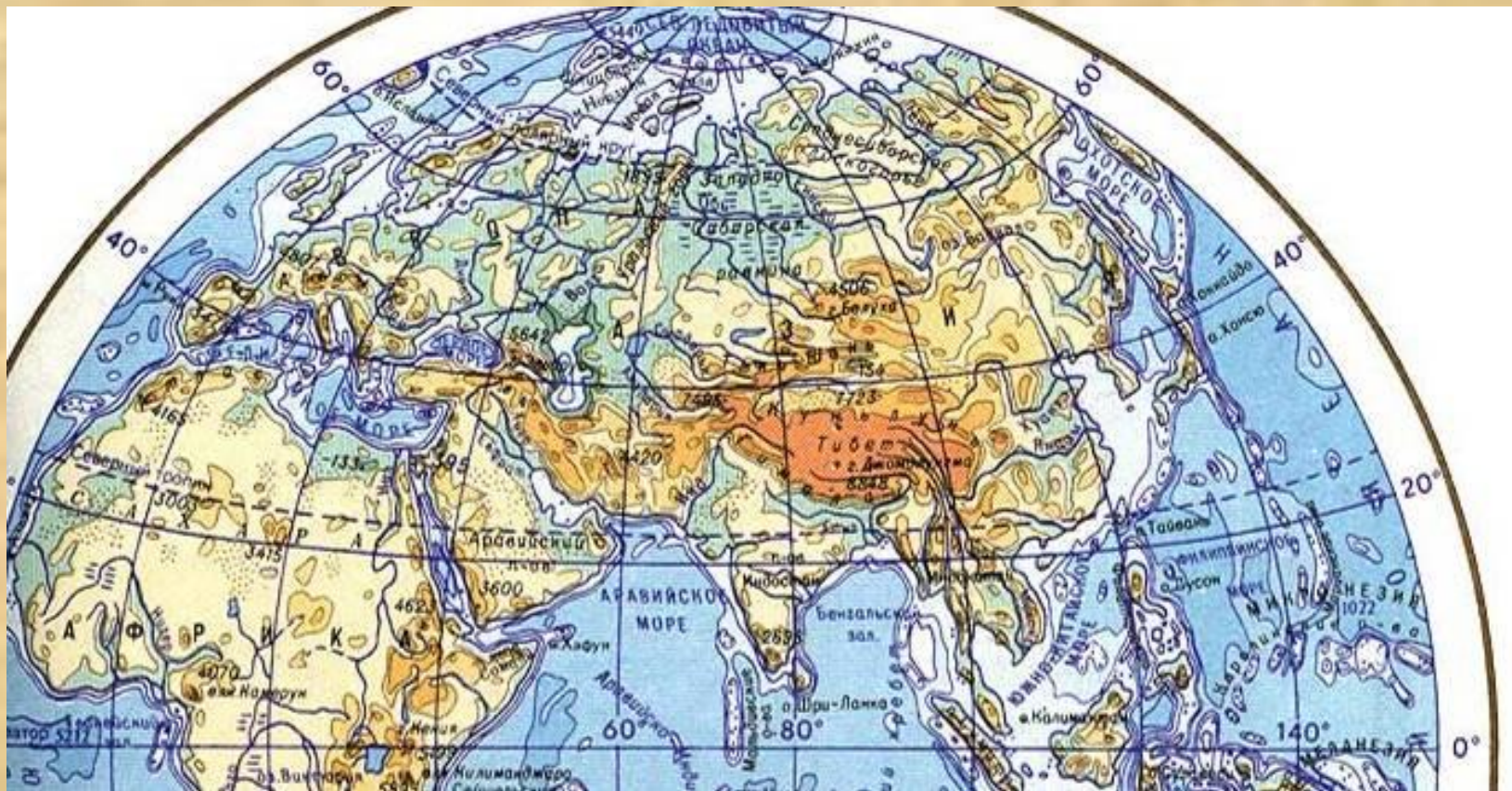


**Назовите и подпишите горы Европы**

1. Гималаи ↑<sup>1</sup>
2. Алтай ↑<sup>2</sup>
3. Саяны ↑<sup>3</sup>
4. Памир ↑<sup>4</sup>
5. Тибет ↑<sup>5</sup>
6. Иранское нагорье ↑<sup>6</sup>
7. Тянь-Шань ↑<sup>7</sup>



**Назовите и подпишите на контурной карте горы и нагорья Азии**



Назовите и подпишите равнины Евразии

1. Западно-Сибирская ↓ 1
2. Аравийское ↓ 2
3. Среднесибирское ↓ 3
4. Индо-Ганская ↓ 4
5. Великая Китайская ↓ 5
6. Декан ↓ 6

Заполните таблицу по образцу, сделайте выводы на основе сведений

Приведите по 2-3 примера

Участки земной коры (карта строения земной коры)	Формы рельефа (физическая карта)
1. Древняя платформа	Равнины: 1. Восточно-Европейская
1. Области новой складчатости	Горы: 1. Гималаи

## Интернет ресурсы:

1. <http://ru.wikipedia.org/wiki/%D0%AD%D0%B2%D0%B5%D1%80%D0%B5%D1%81%D1%82>
2. [http://ru.wikipedia.org/wiki/%D0%9C%D0%B5%D1%80%D1%82%D0%B2%D0%BE%D0%B5\\_%D0%BC%D0%BE%D1%80%D0%B5](http://ru.wikipedia.org/wiki/%D0%9C%D0%B5%D1%80%D1%82%D0%B2%D0%BE%D0%B5_%D0%BC%D0%BE%D1%80%D0%B5)