

*"Познания и странствия  
неотделимы друг от друга.  
Это неперемнное качество  
всех путешествий -  
обогащать человека  
огромностью и  
разнообразием знаний".*

*К. Паустовский*

*Карпаты*

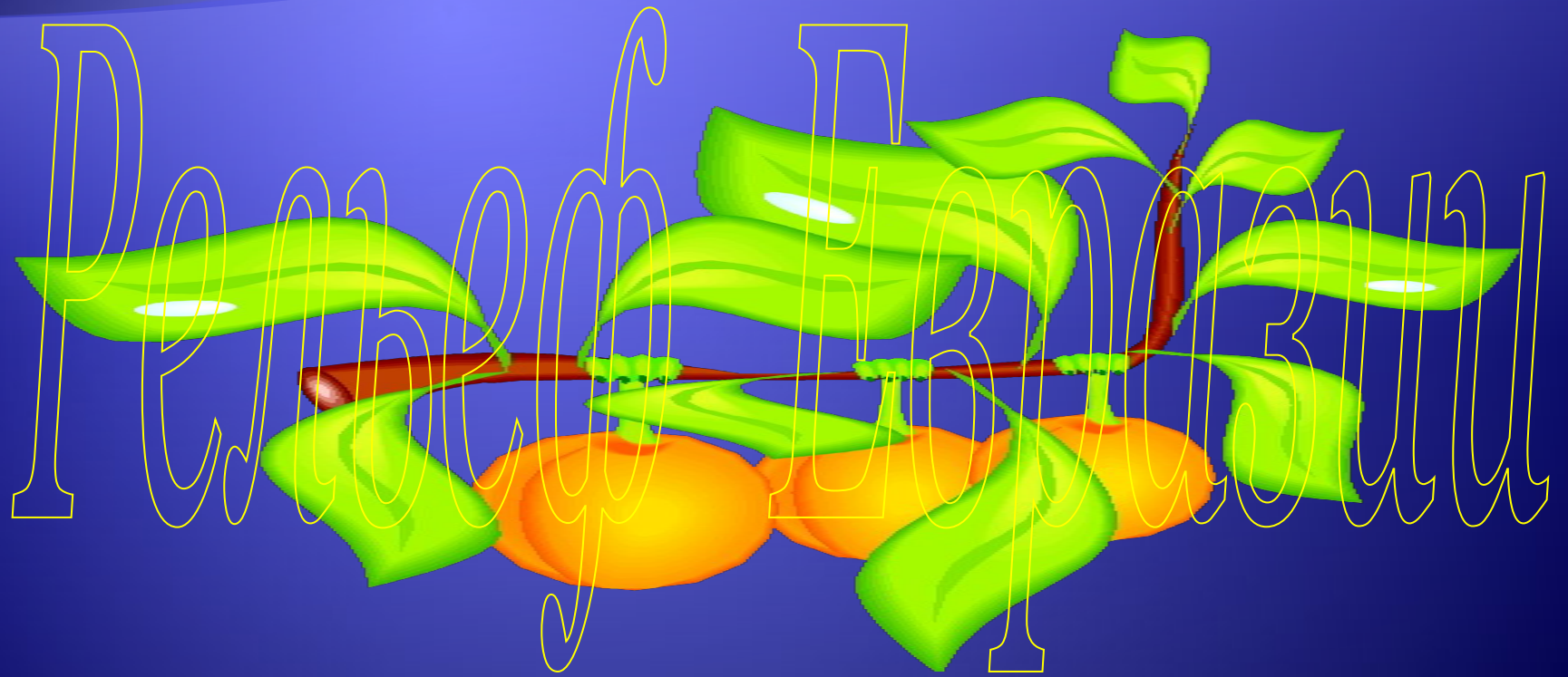


*Великая Китайская равнина*



*Гималаи*





# Маршрутный лист

Станция 1



В прошлое

Станция 3



Восхождение

Станция 2



Равнины

Станция 4



Взрыв


Станция 5



Волшебная кладовая

# Brilliance





# Рельеф Евразии

<b>Строение земной коры</b>		<b>Соответствующие формы рельефа</b>
<b>Древние платформы</b> <u>группа</u>	Восточно – Европейская	Восточно –Европейская (Русская) равнина
	Сибирская	Среднесибирское плоскогорье
	Индийская	Декан плоскогорье
	Китайско – Корейская	Великая китайская равнина
<b>Области складчатости</b>	<u>Древняя группа</u>	Уральские, Алтай, Саяны, Тянь-Шань, Западно-Сибирская равнина Гоби, Скандинавские
	<u>Средняя группа</u>	Верхоянский хр., хр. Черского, хр. Сихоте –Алинь, Чукотское нагорье, Колымское нагорье, Кунь-Лунь.
	<u>Новая вместе</u>	Памир. Кавказ. Срединный хр..

# РАБАНУЛЫ







# Восхождение



*Я знаю - где-то есть заветная  
гора.*

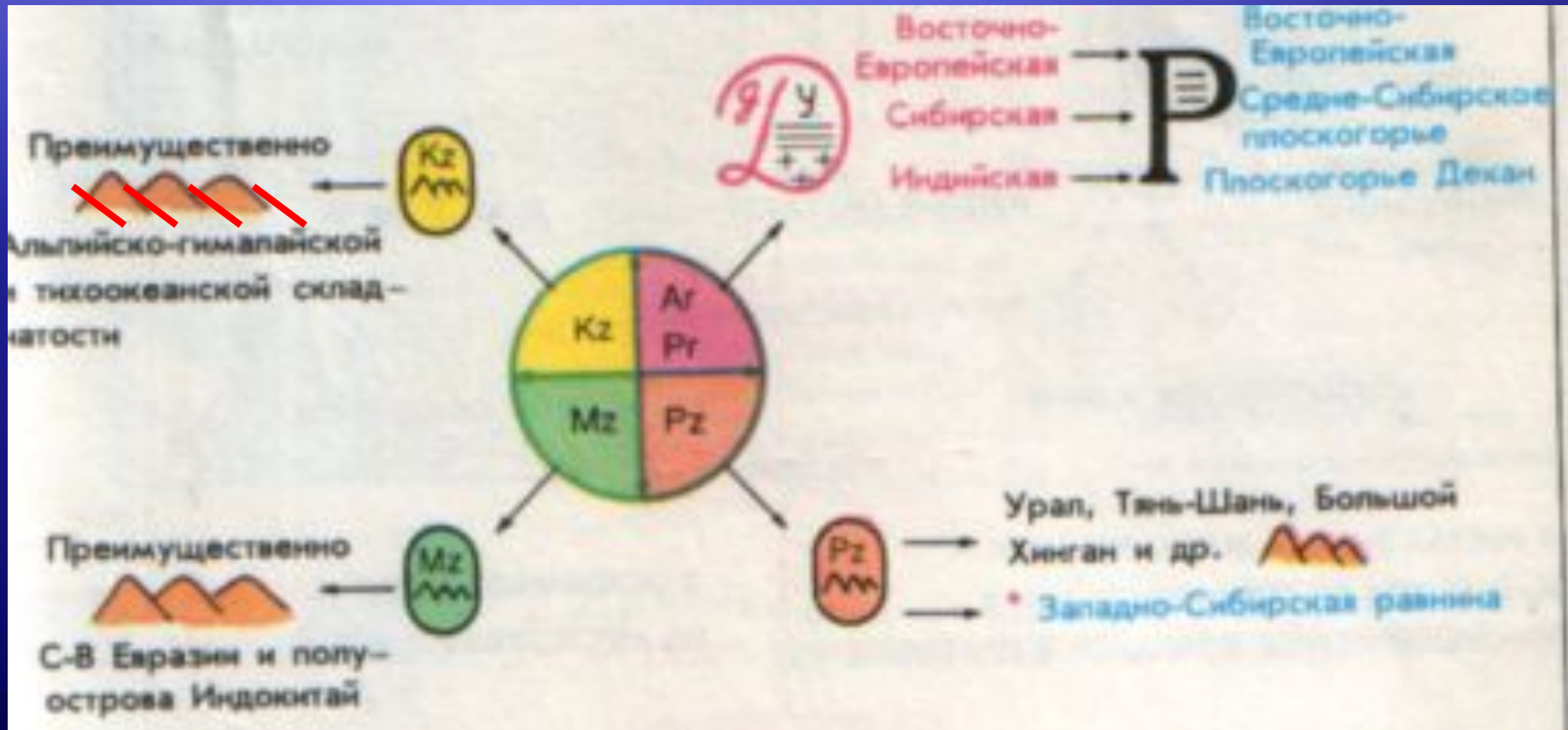
*Я верю, что придет прекрасная  
пора.*



*И, может быть, не раз  
придется отступить -  
Я должен там когда-то  
побывать.*





# Геологические часы





# Играбан



# CHEESE!!!





1. Везувий

2. Этна

3. Кракатау

4. Ключевская  
сопка

5. Фудзияма

А. Полуостров  
Камчатка

Б. Зондские  
острова

В. Остров Сицилия

Г. Японские острова

Д. Аппенинский  
полуостров





CHEESE!!!



- КАМЕННЫЙ УГОЛЬ
- ▲ НЕФТЬ
- △ ПРИРОДНЫЙ ГАЗ
- ▲ ЖЕЛЕЗНАЯ РУДА
- ◻ АЛЮМИНИЕВЫЕ РУДЫ
- ▬ МЕДНЫЕ РУДЫ
- ЗОЛОТО

# Тестовый контроль

**1. Территорию Евразии в отличие от других материков формирует:**

1. одна крупная древняя платформа,
2. несколько относительно мелких древних платформ.

**2. К древним платформам на территории Евразии относятся:**

1. Южно-Американская и Сибирская
2. Сибирская и Восточно-Европейская
3. Восточно-Европейская и Австралийская

**3. Установите соответствие:**

**Платформа**

1. Сибирская
2. Индостанская
3. Китайско – Корейская

**Равнина**

- А) Западно- Сибирская
- Б) Великая Китайская
- В) Декан (плато)
- Г) Среднесибирское плоскогорье

**4. Установите соответствие:**

**Горы**

1. Карпаты
2. Скандинавские
3. Верхоянский хребет

**Возраст складчатости**

- А) Древний (Pz)
- Б) Средний (Mz)
- В) Новый (Kz)





eurasia photo



# Домашнее задание

## §60, §61

Отметить на контурных картах изученные географические объекты;

«3» - 60,61 К/К – подписать основные формы рельефа, уметь показывать на настенной карте.

«4»- Чем рельеф Евразии отличается от рельефа других ранее изученных материков?

С каким материком Евразия имеет большое сходство в рельефе?

«5»- Высочайшие горы Евразии Гималаи и другие крупные горные системы располагаются в глубине материка, на некотором удалении от океанов, в то время как на других материках горы находятся на побережьях океанов. Чем это объяснить? Почему Гималаи – наиболее высокие горы на Земле?

A vibrant field of cosmos flowers in various shades of pink, red, and white, set against a clear, bright blue sky. The flowers are in full bloom, with some showing yellow centers. The perspective is from a low angle, looking up at the flowers and the sky.

*Спасибо  
за внимание!*