

Рельеф Евразии

география 7 класс



учитель географии МОУ «Приваленская СОШ» Омской области Безногова Ольга Николаевна



Задание:
Рассмотрите физическую карту Евразии.
Расскажите о рельефе Евразии.

Рельеф Евразии

Равнины

Какие вы
знаете?

1. *Западно-Сибирская*
2. *Аравийское*
3. *Среднесибирское*

Самое низкое место?

[Мертвое море -410 м](#)

Горы

Какие вы
знаете?

Уральские
Скандинавские
Кавказские
Гималаи

Самая высокая вершина

[Джомолунгма 8848 \(8850\)м](#)




Мертвым морем называют, фактически, большое озеро, которое имеет 76 километров в длину, до 18 километров в ширину и максимальную глубину 400-410 метров.





Джомолунгма — в переводе с тибетского означает «Божественная».



Окружение самой высокой вершины мира

Каким участкам земной коры соответствуют равнины?

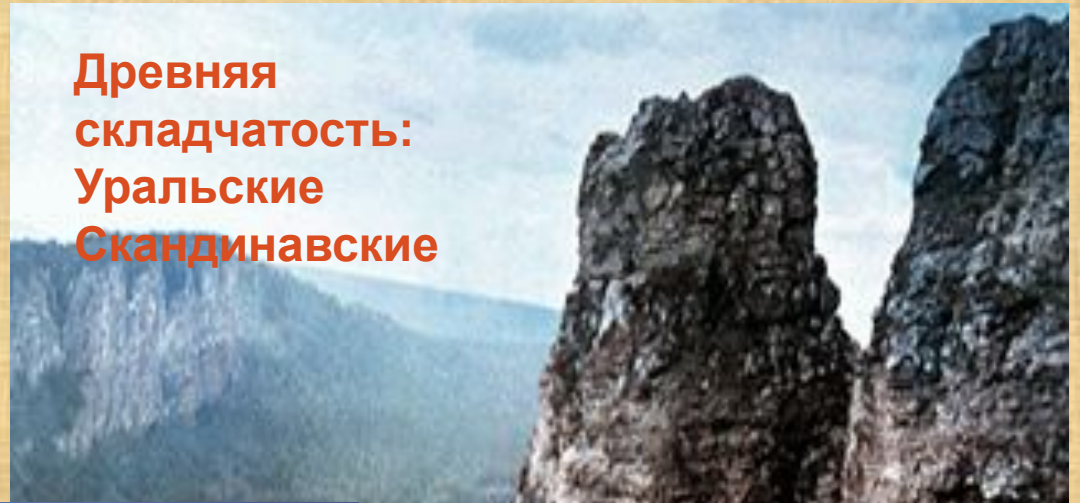
Каким участкам земной коры соответствуют горы?



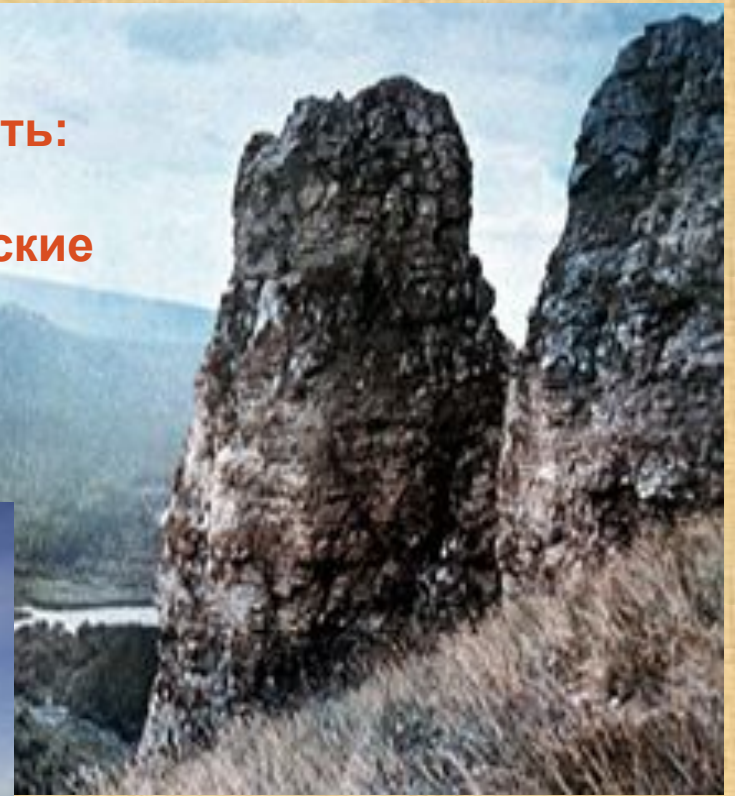
Назовите отличие гор.

Предположите, какие это могут быть горы Евразии?

**Древняя
складчатость:
Уральские
Скандинавские**



**Новая
складчатость:
Альпы
Кавказские
Гималаи**



Какие явления природы вы видите на фотографиях?

Где в Евразии можно наблюдать эти явления?












Сейсмические пояса Евразии

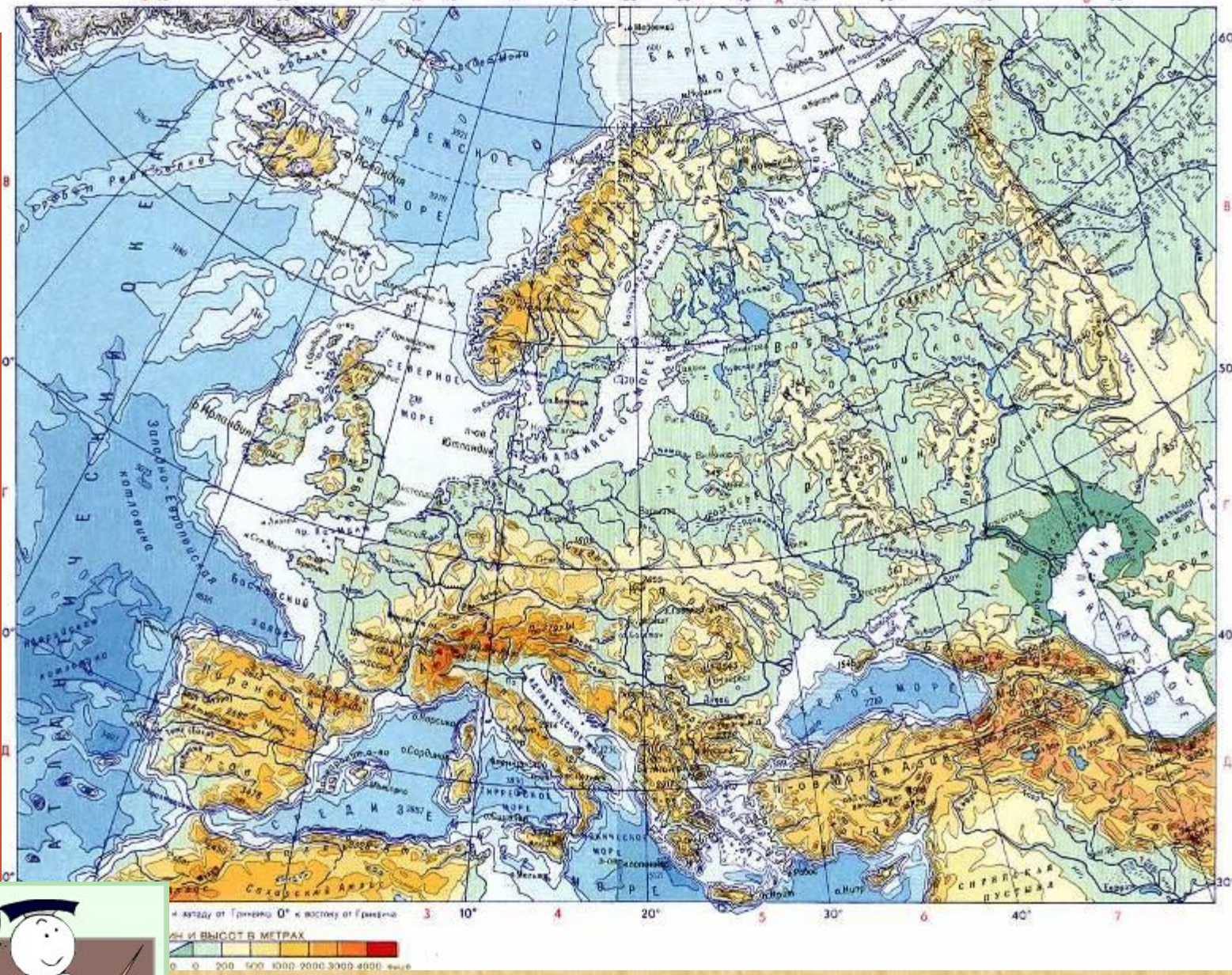


1
Средиземноморский

2
Тихоокеанский

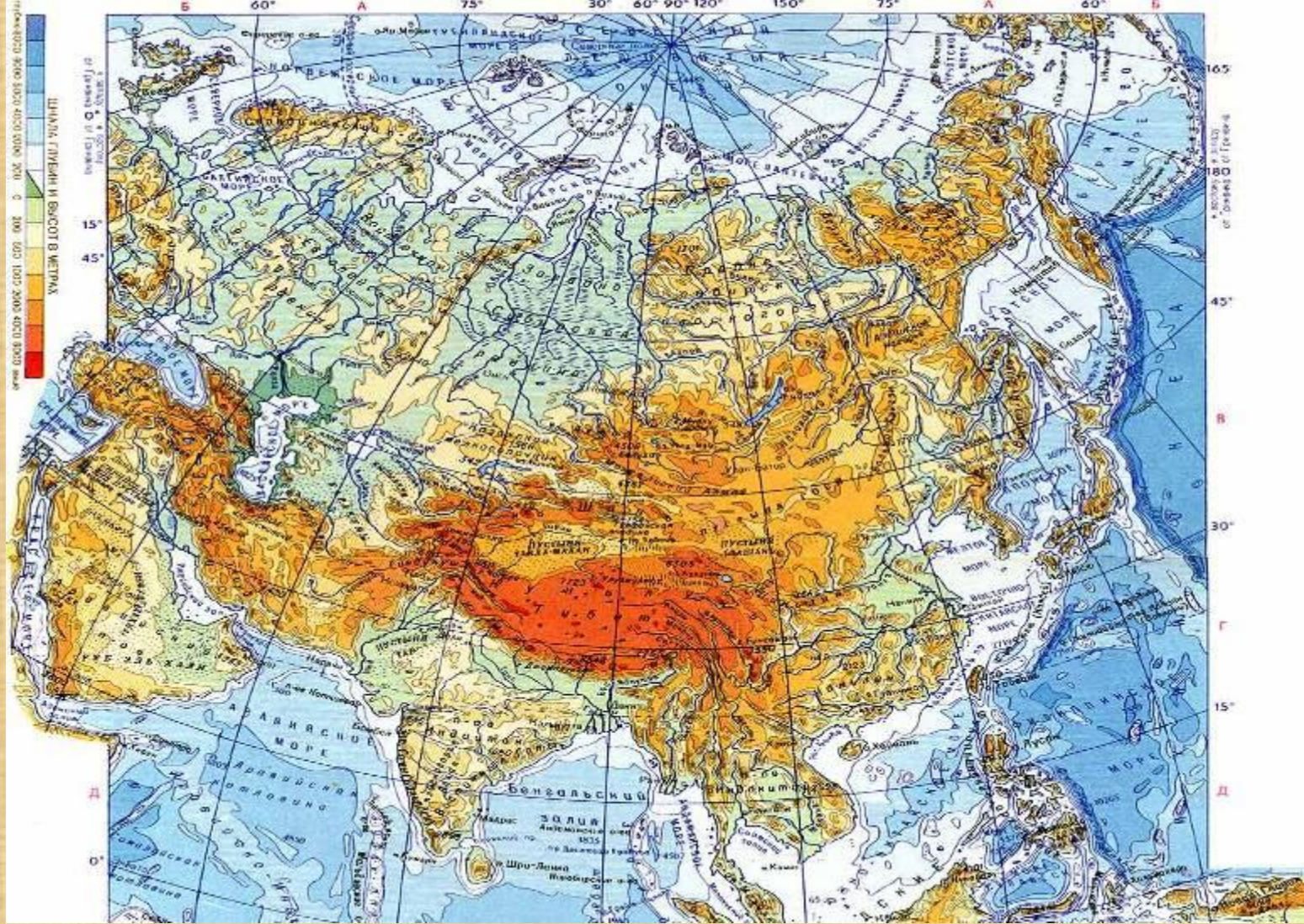


1. Альпы 
2. Судеты 
3. Апеннины 
4. Пеннинские 
5. Пиренеи 
6. Кавказ 
7. Уральские 
8. Скандинавские 
9. Старая-Планина 
10. Карпаты 

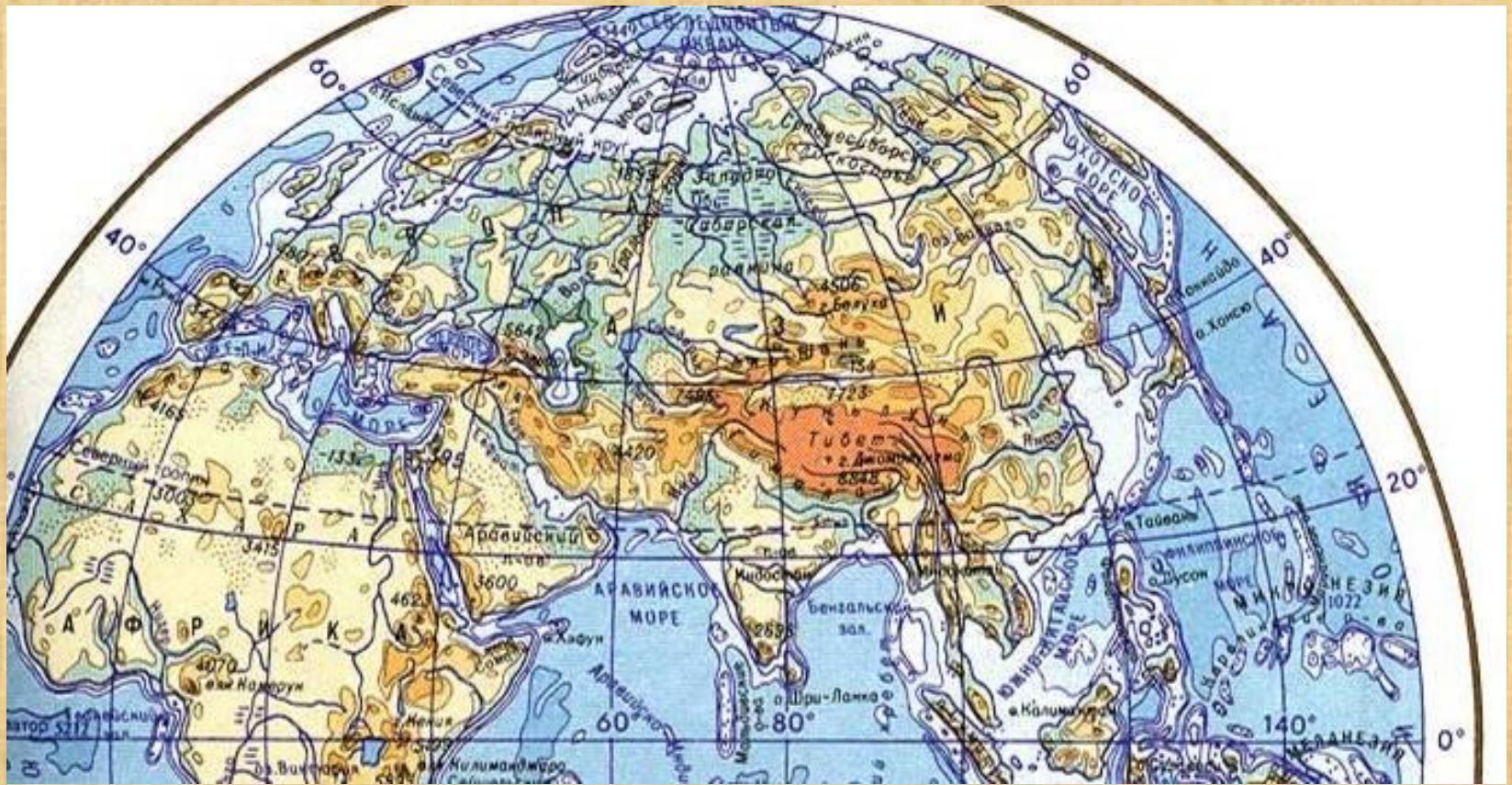


Назовите и подпишите горы Европы

1. Гималаи ↑¹
2. Алтай ↑²
3. Саяны ↑³
4. Памир ↑⁴
5. Тибет ↑⁵
6. Иранское нагорье ↑⁶
7. Тянь-Шань ↑⁷



Назовите и подпишите на контурной карте горы и нагорья Азии



Назовите и подпишите равнины Евразии

- | | | | |
|----------------------|-----|----------------------|-----|
| 1. Западно-Сибирская | ↓ 1 | 4. Индо-Ганская | ↓ 4 |
| 2. Аравийское | ↓ 2 | 5. Великая Китайская | ↓ 5 |
| 3. Среднесибирское | ↓ 3 | 6. Декан | ↓ 6 |

Заполните таблицу по образцу, сделайте выводы на основе сведений

Приведите по 2-3 примера

Участки земной коры (карта строения земной коры)	Формы рельефа (физическая карта)
1. Древняя платформа	Равнины: 1. Восточно-Европейская
1. Области новой складчатости	Горы: 1. Гималаи

Интернет ресурсы:

1. <http://ru.wikipedia.org/wiki/%D0%AD%D0%B2%D0%B5%D1%80%D0%B5%D1%81%D1%82>
2. http://ru.wikipedia.org/wiki/%D0%9C%D0%B5%D1%80%D1%82%D0%B2%D0%BE%D0%B5_%D0%BC%D0%BE%D1%80%D0%B5