

Конкурс интерактивных презентаций "Интерактивная мозаика"

<http://pedsovet.su/>

-Автор: Бекмагамбетова Жанаргуль Танатаровна

-Казахстан, Актюбинская область, с. Мартук, Мартукская -средняя школа №1.

-Учитель географии

-Первая квалификационная категория



Интерактивный тренажер
по географии

Рельеф Казахстана



Юные друзья!



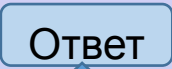






Природа щедро одарила Казахстан. На территории нашей Родины находятся высокие горы, устремленные своими вершинами в облака, и низменности, расположенные ниже уровня моря, многочисленные реки и озера, бесконечные степи и знойные пустыни, луга и густые леса на склонах гор.

Чтобы любить, ценить и бережно охранять родную землю, надо, прежде всего, знать закономерности развития природной среды, это позволит вам прогнозировать свое будущее.

Предлагаю вам изучить рельеф нашей Республики.



Инструкция

Учебный тренажер содержит тему по разделу «Рельеф». Вы сможете получить теоретические знания по данной теме, кликнув мышкой  знак , затем вы сможете выполнить тест и ответить на вопросы по пройденной теме. Если вы затрудняетесь ответить на вопросы или хотите проверить себя, вам представится  щь, для этого сделайте щелчок на . Выполняя тесты при верном ответе на слайде появляется знак , если ответ неверный появляется знак . Кликнув мышкой на фигуру  на экране появится карта с необходимой  информацией. Если вы решили завершить работу переходите в , а далее **выход**.



МЕНЮ

ГЛАВНЫЕ
ЧЕРТЫ
РЕЛЬЕФА
КАЗАХСТАНА

ВЫХО



Главные черты рельефа Казахстана

- Рельеф территории Казахстана разнообразный и сложный. Он формировался в процессе геологического развития и непрерывно изменялся. Главные особенности рельефа – все высотные уровни от низменностей до высоких гор – можно увидеть на физической карте Казахстана.



Главные особенности рельефа Казахстана:

- Преобладают равнинно – низкогорные области. Они расположены на западе, севере и центральной части Казахстана.
- Высокогорные области занимают небольшую территорию и расположены на востоке и юго-востоке республики.
- Вся поверхность нашей страны имеет общий наклон с юга на север и с востока на запад.
- Высокие и низкие горы чередуются между горными долинами и равнинами.



Эти особенности рельефа оказывают большое влияние на формирование климата и природных ландшафтов на отдельных территориях. На равнинах и в низкогорьях природные зоны расположены в широтном направлении, а высокогорье характерны высотные пояса. Рельеф имеет большое значение в жизнедеятельности человека. Равнины и межгорные долины удобны для хозяйственной деятельности, для развития сельского хозяйства. Склоны гор, покрытые лугами, используются в основном под пастбища. На западе республики, на полуострове Мангыстау, расположена самая низкая точка - впадина Карагие(-132м). Самая высокая точка находится на юго-востоке –пик Хан-Тенгри.



Тесты

Вопросы

МЕНЮ



РОССИЯ

УЗБЕКИСТАН

ТАДЖИКИСТАН

КИРГИЗИЯ

КИТАЙ

АЗЕРБАЙДЖАН

ТУРКМЕНИСТАН

ПРИКАСПИЙСКАЯ НИЗМЕННОСТЬ

ТУРАНСКАЯ НИЗМЕННОСТЬ

КЫЗЫЛКУМ

КАЗАХСКИЙ МЕЛКОСОПОЧНИК

БЕПТАК-ДАЛА

ТУРГАЙСКОЕ ПЛАТО

АКТЮБИНСК

АСТАНА

Караганда

Алма-Ата

пик Хан-Тенгри (6995 м)

0 100

©RMCN



РОССИЯ

КИТАЙ


УЗБЕКИСТАН

КИРГИЗИЯ

ТУРКМЕНИСТАН

ТАДЖИКИСТАН

АЗЕРБАЙДЖАН







РОССИЯ

Петропавловск

Костанай

Урицкий

Кокшетау

Качиры

Павлодар

Жетикара

Рудный

Кушмурун

Есиль

Атбас

Аксу

Бестобе

Экибастуз

Майкаин

Уральск

Актюбинск

Хромтау

Тургай

Аркалык

Баршино

Сарань

Шахтинск

Темиртау

Семипалатинск

Лениногорск

Усть-Каменогорск

Зыряновск

Чапаев

Каратобе

Кандыгаш

Эмба

Берчогур

Иргиз

Жезди

Байконур

Жезказга

Жамбыл

Милыбулак

Чарск

Аягуз

Зайсан

ПРИКАСПИЙСКАЯ НИЗМЕННОСТЬ

Аральское море

БЕПТАК-ДАЛА

КАЗАХСКИЙ МЕЛКОСОПОЧНИК

оз. Зайсан

Забурунье

Атырау

Макат

Челкар

Актумсык

Аральск

Новоказалинск

Казалинск

Джусалы

Сарышаган

Балхаш

Саяк

Актогай

Урджар

Маканчи

Форт-Шевченко

Актау

Жанаозен

Бейнеу

Кзылорда

Казалинск

Джусалы

Кзылорда

Байгекум

Чили

Мынарал

Чиганак

Уштобе

Талдыкорган

Достык

Фетисово

Актау

Жанаозен

Бейнеу

Кзылорда

Казалинск

Джусалы

Кзылорда

Байгекум

Чили

Мынарал

Чиганак

Уштобе

Талдыкорган

Достык

УЗБЕКИСТАН

КЫЗЫЛКУМ

КИРГИЗИЯ

КИТАЙ

АЗЕРБАЙДЖАН


ТУРКМЕНИСТАН

ТАДЖИКИСТАН

Алма-Ата

пик Хан-Тенгри (6995 м)

0 100







РОССИЯ

УЗБЕКИСТАН

ТАДЖИКИСТАН

КИРГИЗИЯ

КИТАЙ

0 100

©RMCN



РОССИЯ

УЗБЕКИСТАН

ТАДЖИКИСТАН

КИТАЙ

Алма-Ата
пик Хан-Тенгри
(6995 м)

0 100


©RMCN

№1

№3

№2


№4



Найдите на карте самую высокую и самую низкую точки на территории Казахстана и рассчитайте расстояние между ними.

2352 км.


Ответ



На территории Казахстана
расположена только юго-восточная
часть этой равнины

**Восточно-
Европейская
равнина**


Ответ



Эта равнина расположена в северной и северо-восточной части Казахстана.

**Западно-
Сибирская
равнина**


Ответ



Какую часть Казахстана
занимают высокие горы?

Ответ


**Высокогорные
области
расположены на
востоке и юго-
востоке
республики.**



Крупная горная система на востоке Казахстана


1

Алтай.




2

Тянь-Шань.





3

Саур.



4


Тарбагатай.



Какой процент территории
Казахстана занимают горы?


1

25%




2

9 %




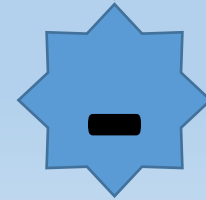
3

10 %



4


15%



Платформа - это ...


1

Устойчивые участки земной коры.




2

Складчатые горные области.





3

Приподнятые выровненные участки.



4

Котловина, заполненная водой.



Форма рельефа,
расположенная на севере и
северо-востоке

1

республики:
Тургайское плато

2






Сарыарка.

3

Восточно-Европейская равнина.

4


Западно-Сибирская равнина.



Основные территории Западно–Сибирской равнины благоприятны для:


1

животноводства




2

земледелия и животноводства




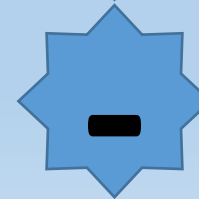
3

земледелия



4


рыболовства



Какая часть Восточно-Европейской равнины находится в Казахстане?


1

Юго-восточная




2

Северо-западная





3

Юго-западная



4

Северо-восточная





До новых встреч

Ресурсы:

- www.google.kz/
- <http://moxnprn.ru/kazakhstan/77-ural.html>
- iubavyshka.ru/photo/4-0-9110
- <http://paleokazakhstan.com/paleozoy.php>
- www.ipdn.ru
- kz.ambuba.com

Литература:

- Физическая география Казахстана, Атамура, 2004. Бейсенова А., Карпеков К.
- Физическая география Казахстана, Алматы, 2004. Есназарова У.А.