



Россия на карте часовых ПОЯСОВ

Авт. Дудаева Л.В.

**Авт. Дудаева Л.
В.**



Термины и понятия



- Местное время

- Поясное время

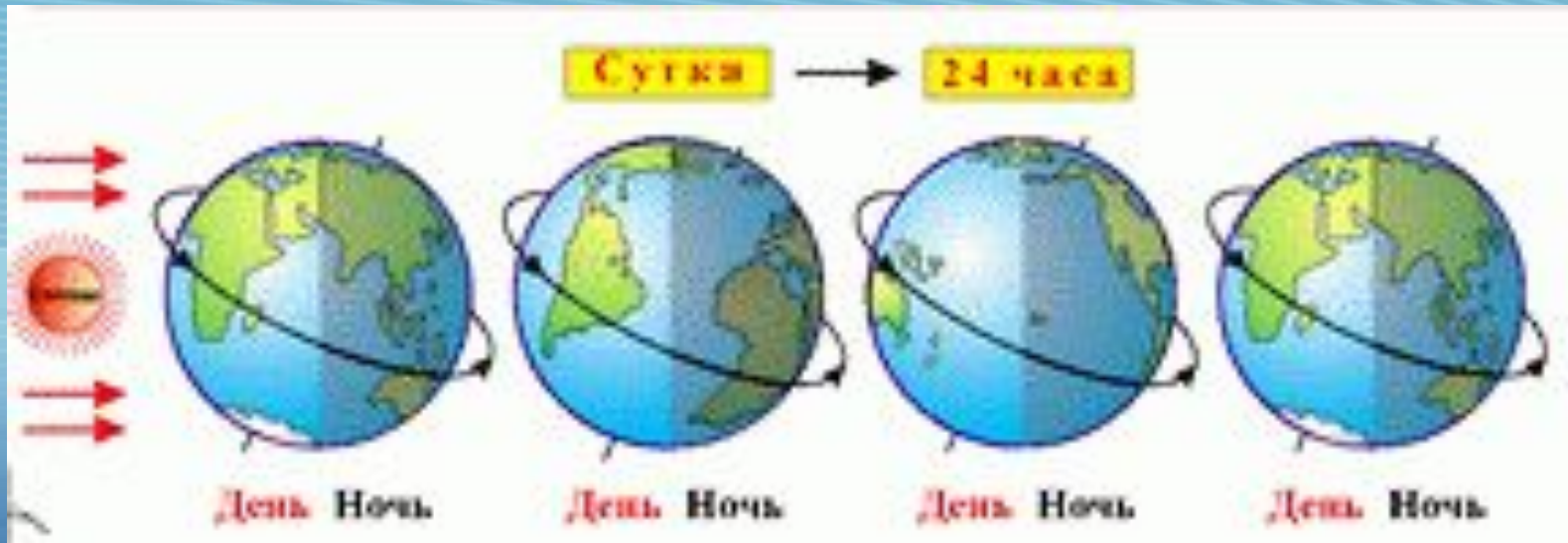
- Декретное время

- Летнее время

- Часовые пояса

- Линия перемены дат

Полный оборот Земли = 360°



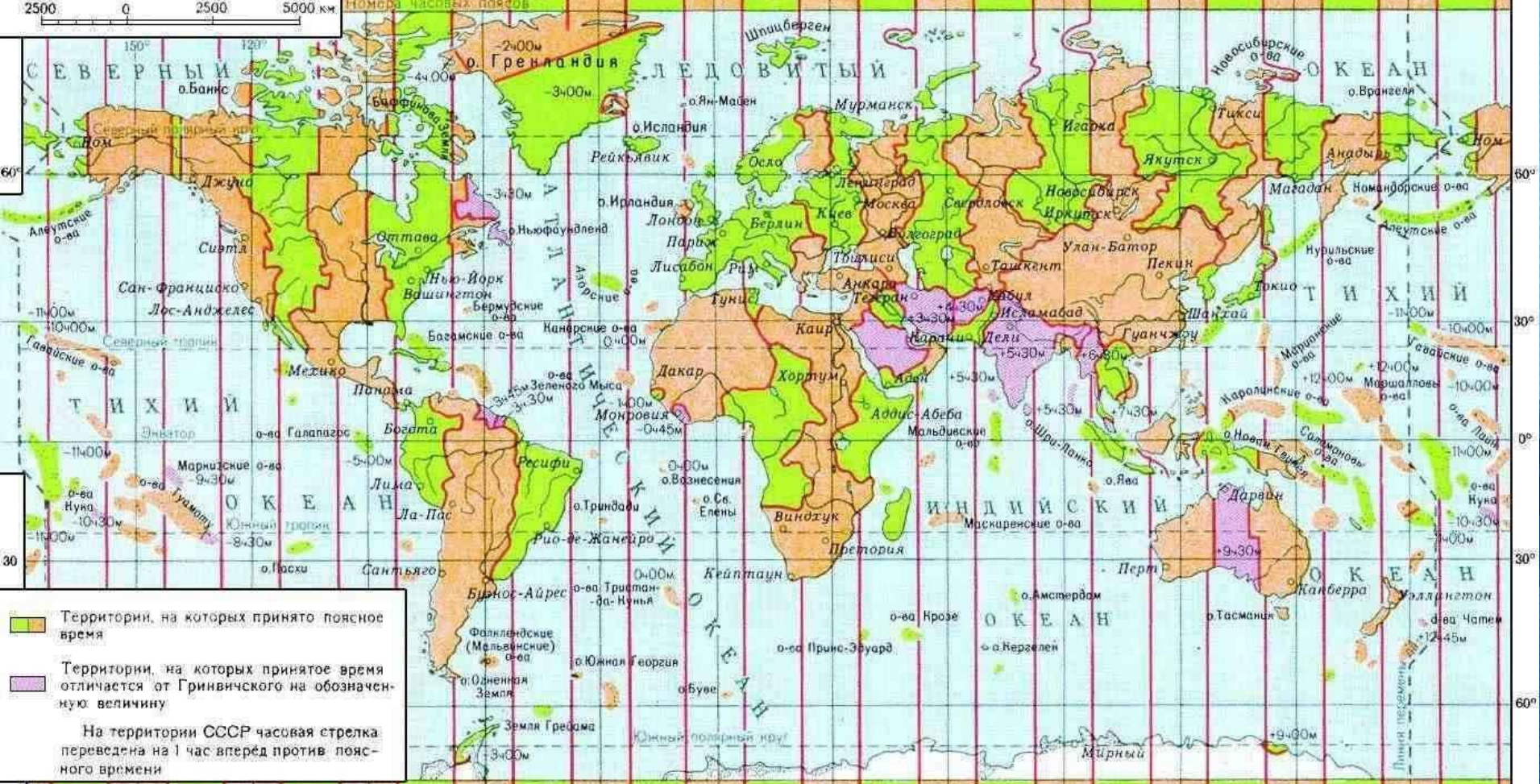
$$360^{\circ} : 24 \text{ ч.} = 15^{\circ} \text{ в ч.}$$

ЧАСОВЫЕ ПОЯСА МИРА

2500 0 2500 5000 км

и западу от Гринвича 0° к востоку от Гринвича

18 19 20 21 22 23 0 1 2 3 4 5 6 7 8 9 10 11 12 13

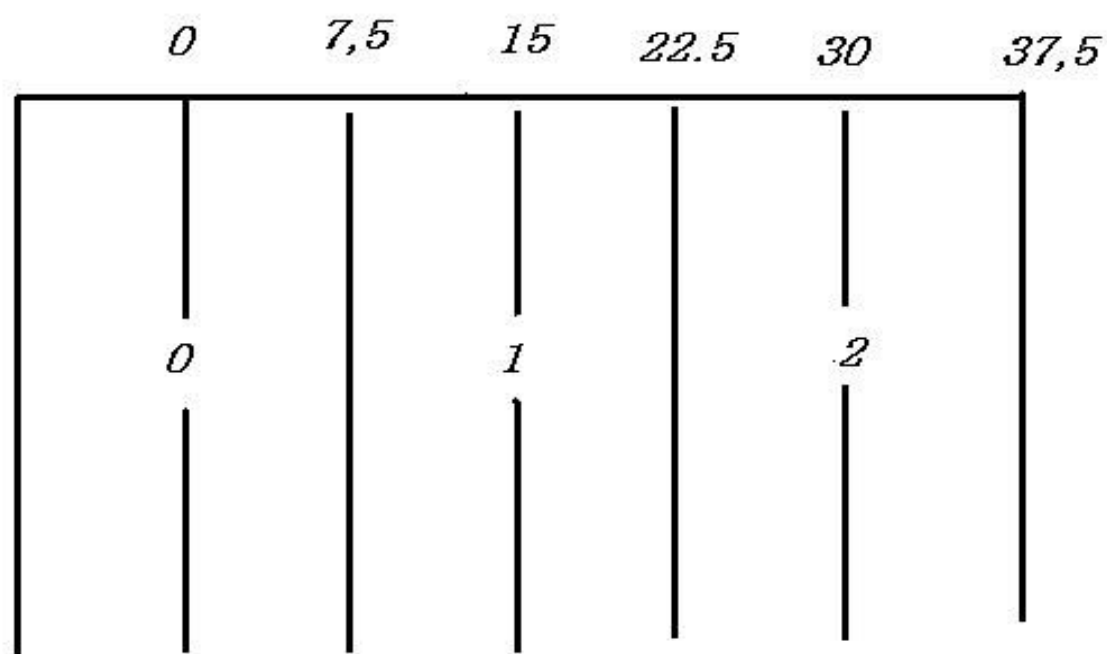


Территории, на которых принято поясное время
 Территории, на которых принятое время отличается от Гринвичского на обозначенную величину
 На территории СССР часовая стрелка переведена на 1 час вперед против поясного времени

XII XIII XIV XV XVI XVII XVIII XIX XX XXI XXII XXIII XXIV I II III IV V VI VII VIII IX X XI XII XIII

Поясное время, всегда в Гринвиче, полдень

В пределах пояса условились считать время по тому меридиану, который проходит посередине



Поясное время

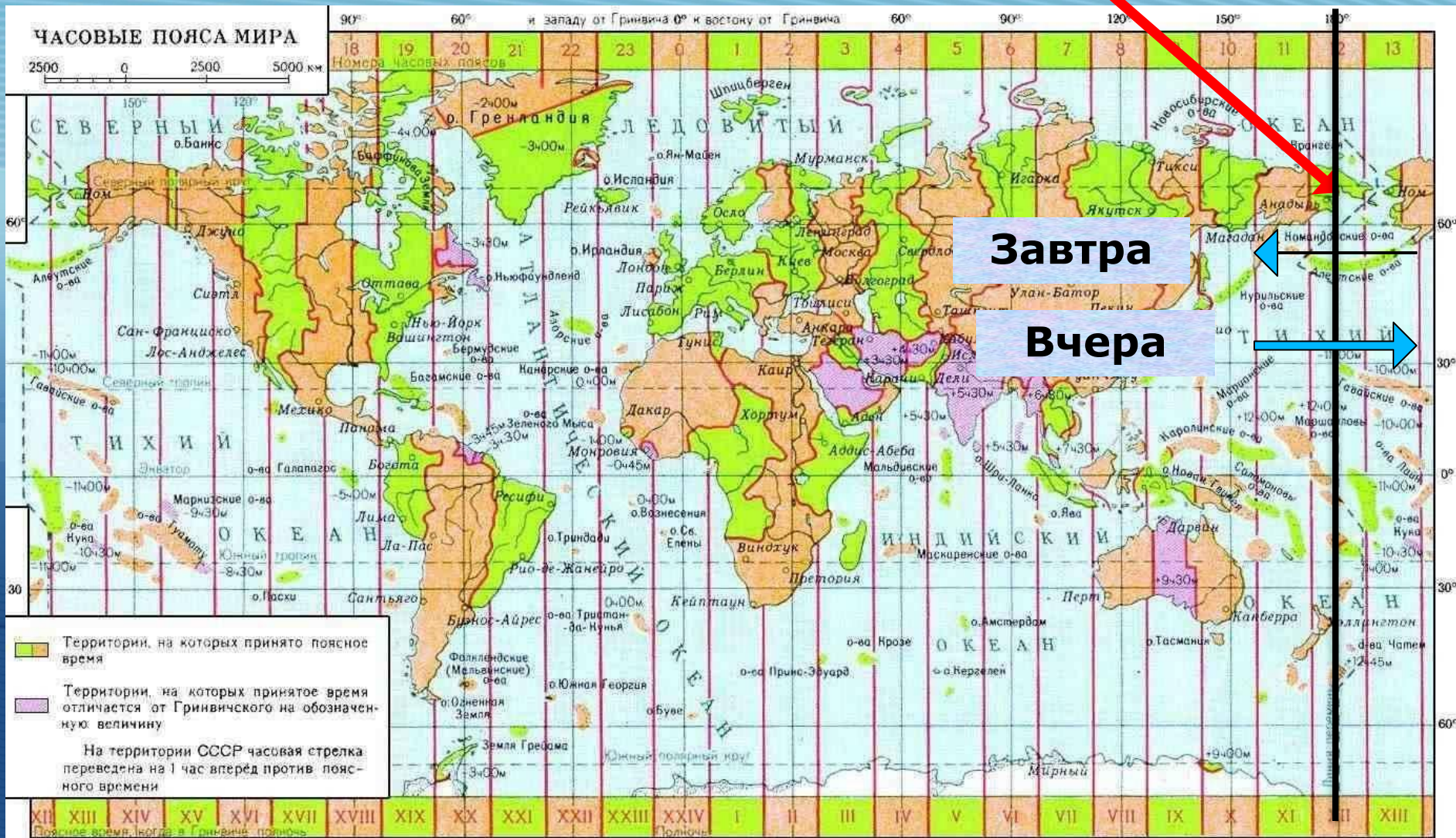


Международное поясное время

Сплошные линии означают центральные меридианы, а пунктирные - границы поясов.

Все пояса в момент гринвичского полдня считают время, указанное на рисунке соответственно своему центральному меридиану.

Линия перемены дат - 180°



Во скольких поясах расположена Россия?



Декретное время (поясное + 1 час) с 1930 г.



С 1.04.1981 года в нашей стране
введено **летнее время** (конец марта
по октябрь)



Почему были объединены 11-й и 12-й часовые пояса в России?



Сколько раз в одном году можно встретить Новый год в России?



Определите время в Якутске, если в Москве – 12 часов.



Определите время в Москве, если в Екатеринбурге – 24 часа.



Почему границы часовых поясов проведены не точно по меридианам?



Домашнее задание



- § 9
- Составить задачу на определение поясного времени

