

Гимназия № 1517

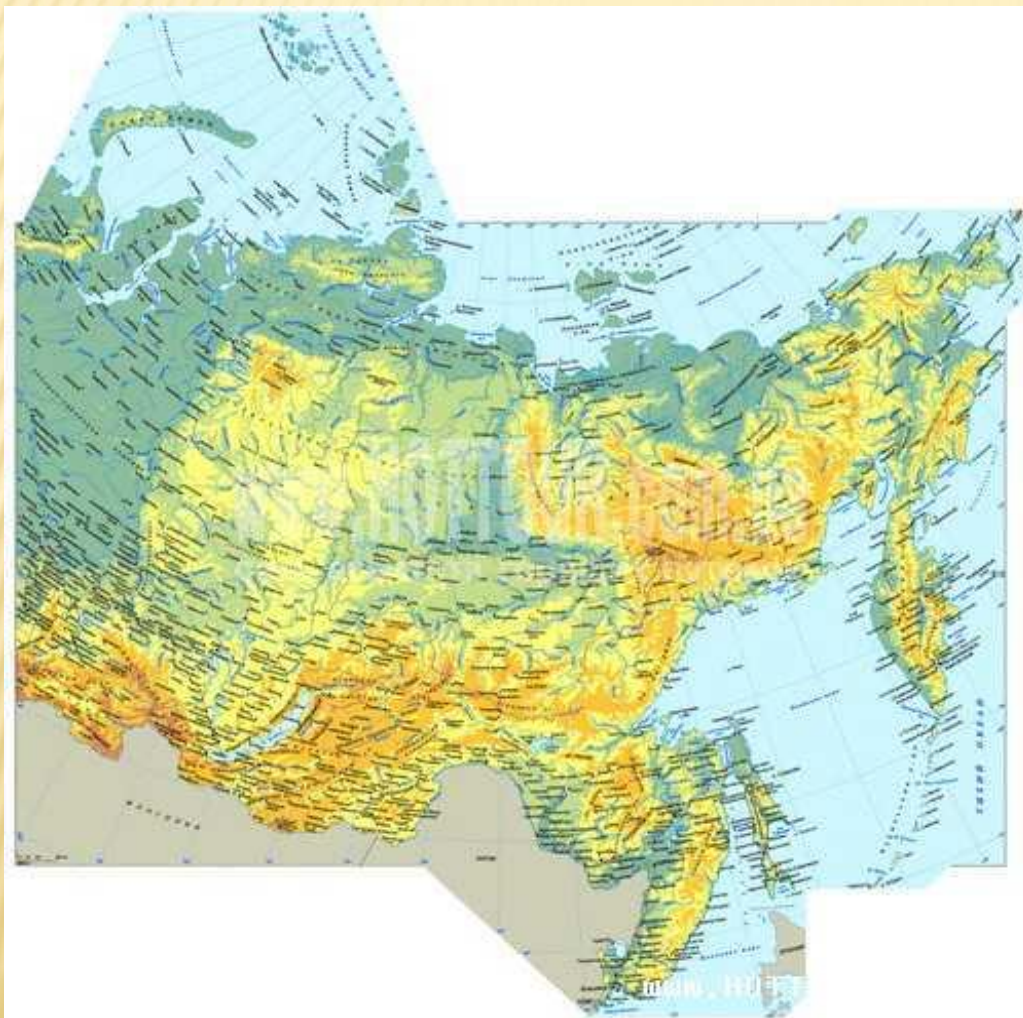
УРОК ГЕОГРАФИИ В 9 КЛАССЕ

ПО ТЕМЕ «СЕВЕР ВОСТОЧНОЙ СИБИРИ»

УЧИТЕЛЬ ГЕОГРАФИИ: ПЕГОВА ЛЮДМИЛА ВИКТОРОВНА

Г.МОСКВА

СЕВЕР ВОСТОЧНОЙ СИБИРИ. ФАКТОРЫ ФОРМИРОВАНИЯ РАЙОНА



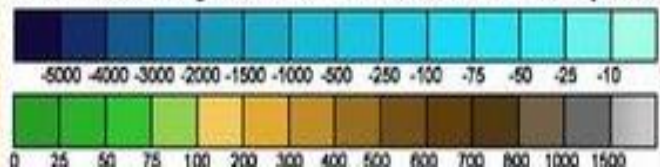
- ▣ **Состав района:**
- ▣ Красноярский край, Республика Саха(Якутия).
- ▣ Площадь 4,5 млн.кв.км.
- ▣ Проживает 1,5 млн. человек.

- ▣ **Вопрос:**
- ▣ Какова плотность населения?

МОРЯ СИБИРСКОГО СЕВЕРА



Шкала глубин и высот в метрах




ГЕОГРАФИЧЕСКОЕ ПОЛОЖЕНИЕ РАЙОНА



Река Енисей, Россия

РУБЕЖ, НА КОТОРОМ СМЕНЯЕТСЯ РЕЛЬЕФ, НЕДРА, КЛИМАТ
, ВОДНЫЙ РЕЖИМ И ЖИВАЯ ПРИРОДА



Заповедник «Столбы»
Красноярский край





Озеро Виви

КРАСНОЯРСКИЙ КРАЙ

ЦЕНТР
РОССИИ



Якутия

НЕТ ШИРОТНЫХ АВТОМОБИЛЬНЫХ КАЧЕСТВЕННЫХ МАГИСТРАЛЕЙ

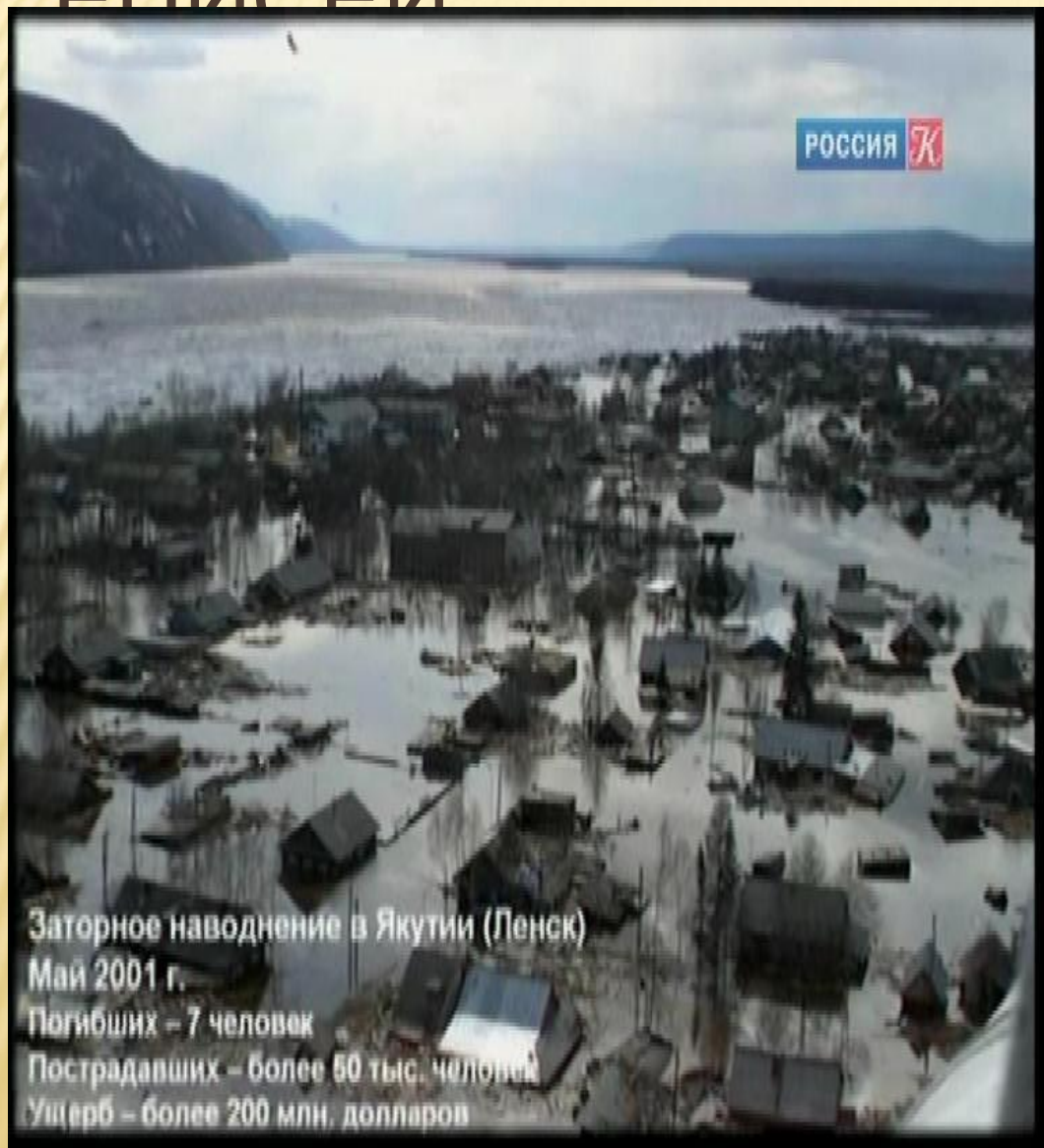


ТРАССЫ ПО ЗАМЕРШИМ РЕКАМ ЯВЛЯЮТСЯ СОВРЕМЕННЫМ ТРАНСПОРТНЫМ ПУТЁМ.

Зимники



ПОЛОВОДЬЕ НА РЕКАХ ЛЕНА И ЕНИСЕЙ

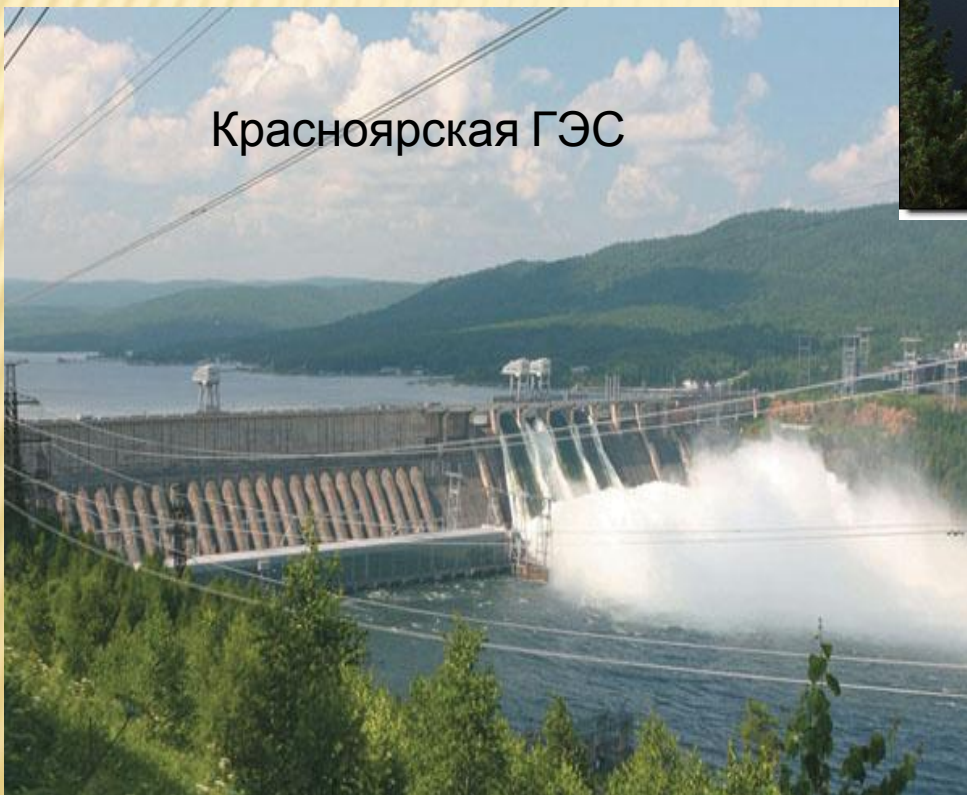


ЗНАЧЕНИЕ РЕК

Саяно-Шушенская ГЭС



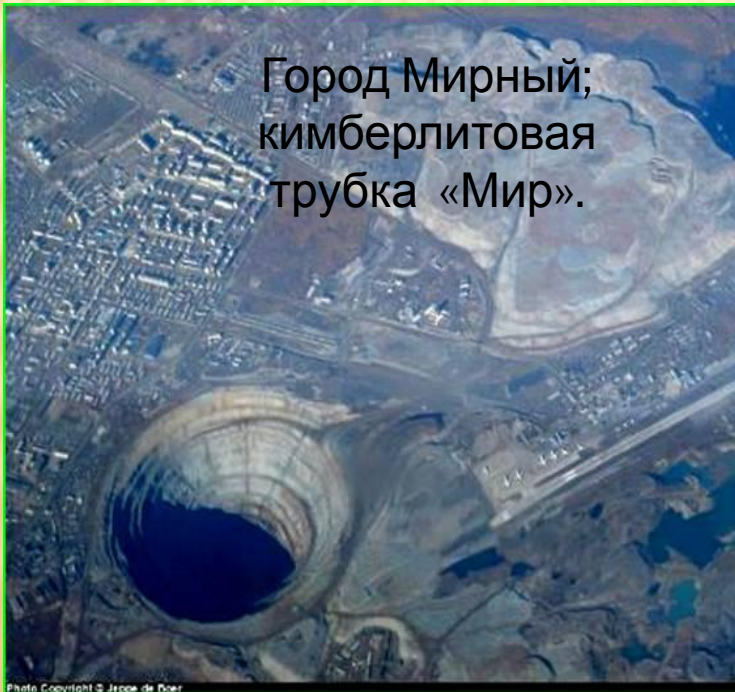
Красноярская ГЭС



Город Норильск



Город Мирный;
кимберлитовая
трубка «Мир».



ГЕОПОЛИТИЧЕСКОЕ ПОЛОЖЕНИЕ РАЙОНА

1. Прочитать стр. 216 и заполнить таблицу

Знал	Новая информация	Думал иначе

2. **Вопрос:** *Какие факторы повлияли на формирование района Север Восточной Сибири?*

3. Составить синквейн.

ДОМАШНЕЕ ЗАДАНИЕ

- 1.Изучить п.51.
- 2.На контурной карте отметить состав района и подписать моря, омывающие район.