


Северная Америка



В экономической и социальной географии к Северной Америке относят США и Канаду.


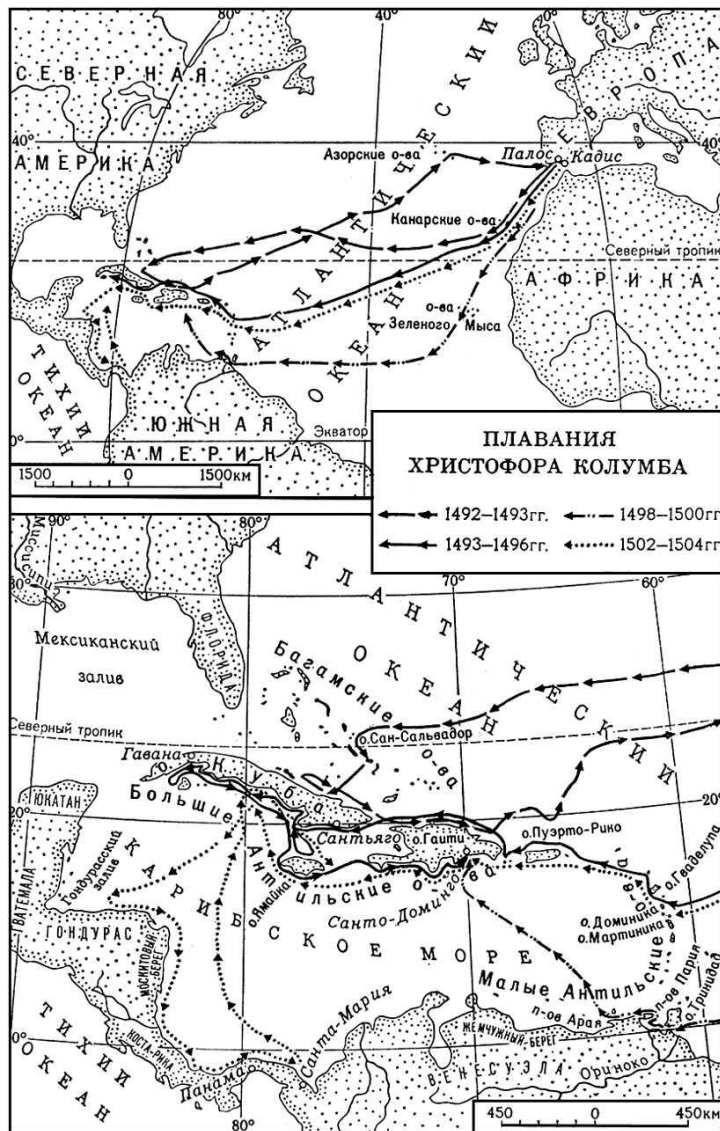
$S=19,6$ млн. км²

Население = 331 млн. человек (2005)

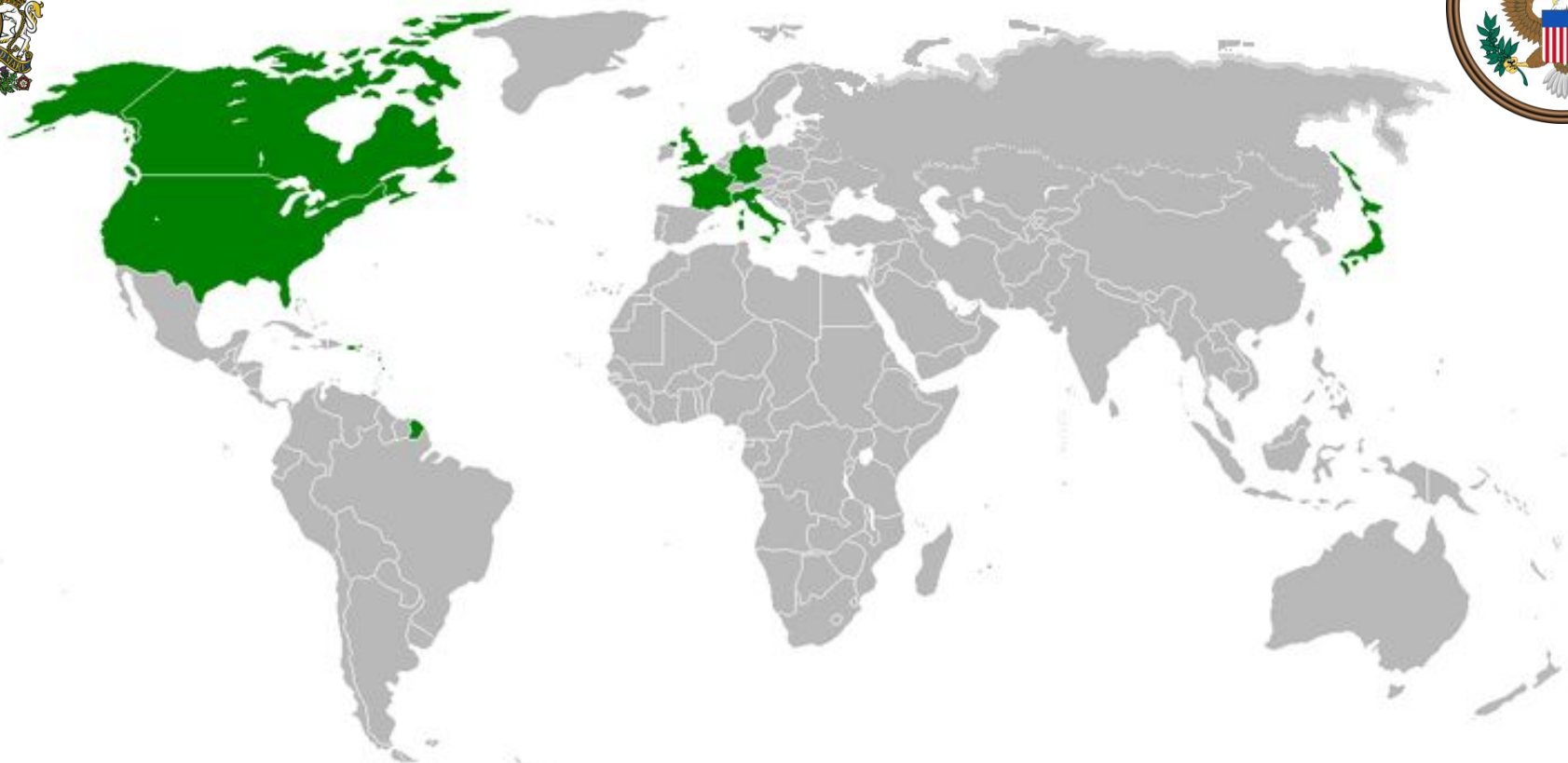


Презентация к уроку географии
Автор: учитель географии
ГБОУ СОШ № 733 г.Москвы
Кисина Валентина Сергеевна

В 1992 г. торжественно отмечалось 500 – ление со времени открытия Америки Христофором Колумбом.

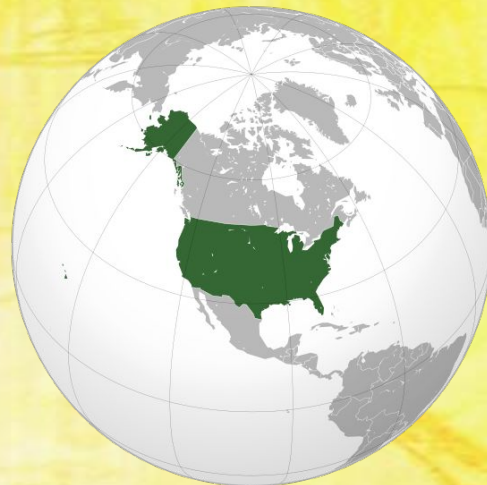


“Большая семёрка” стран Запада.





Социально-экономическая характеристика США

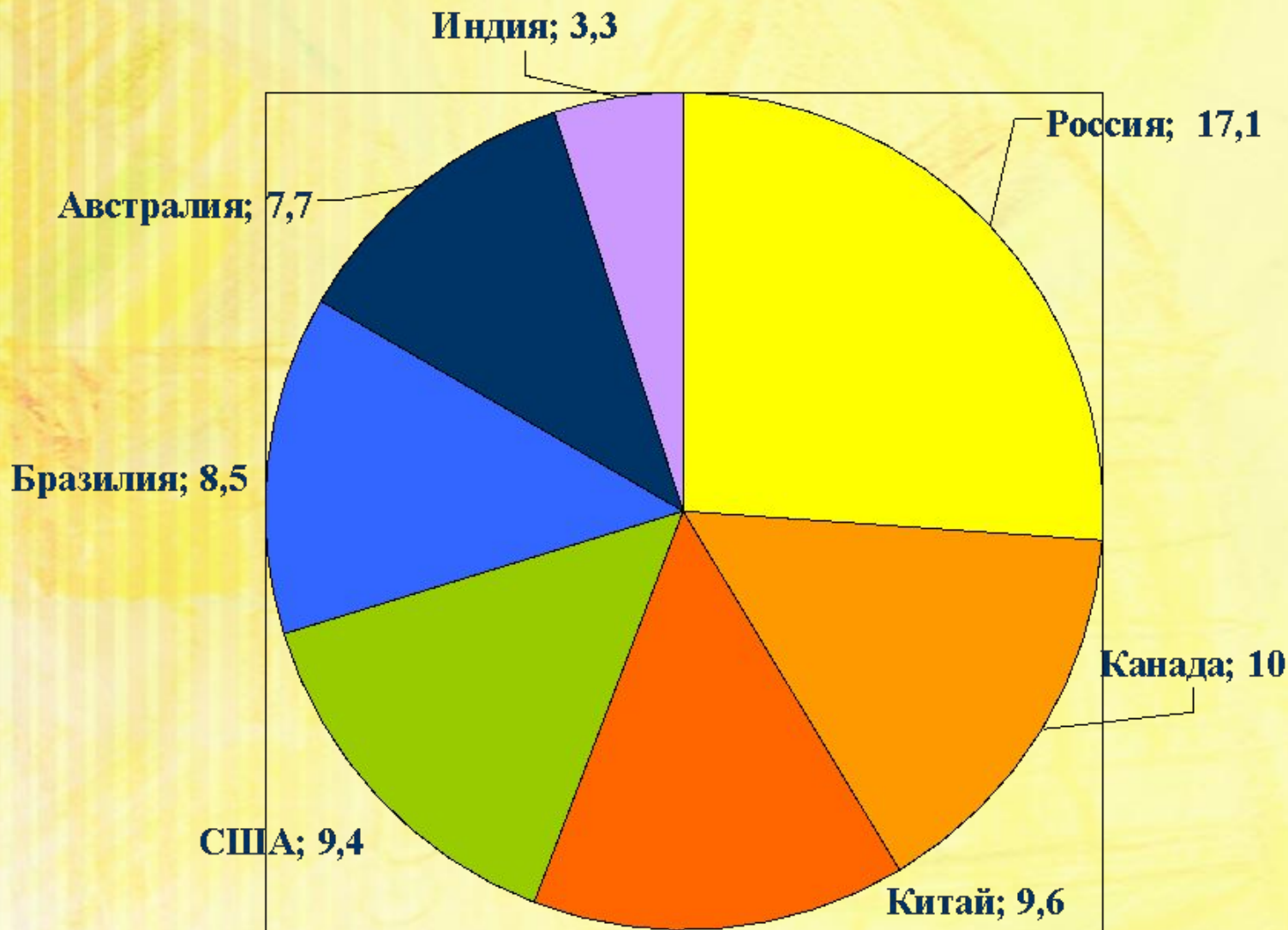


Цель Урока

познакомиться с природно-ресурсным потенциалом, населением и особенностями развития хозяйства в США.

Площадь

Крупнейшие страны мира по площади, млн. км²

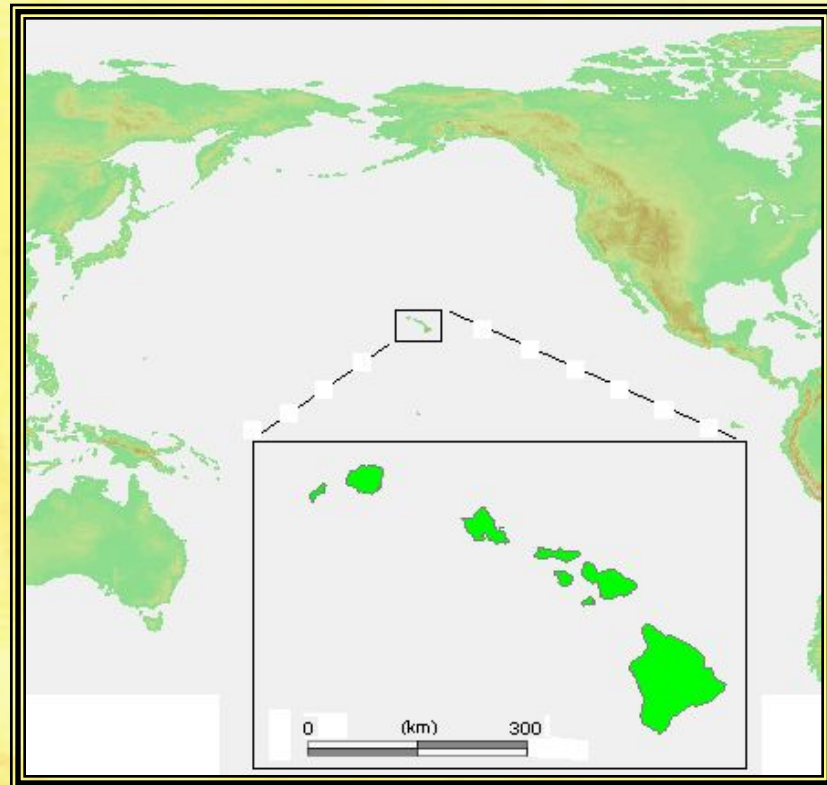



С помощью данных диаграммы ответьте, какое место занимает США по площади среди крупнейших стран мира?

Территория

Состав США:

1. Основная территория (или собственно США);
2. Аляска;
3. Гавайские острова в Тихом океане.



Гавайские острова

Оценка ЭГП

Выгодное экономико-географическое положение США определяется:

- выходом к Атлантическому и Тихому океанам, определяющим возможность межконтинентальных связей;
- соседское положение с Канадой и Мексикой, границы с которыми проходят по условным линиям, рекам и озёрам, способствуя развитию торгово-экономических отношений;



□ отдалённость от очагов международной напряжённости в Европе и Азии.



Государственный строй

Формы правления

?

Формы территориального устройства

?

(2-ой форзац учебника) “визитная карточка стран мира”

Дополните. (учебник, стр. 295)

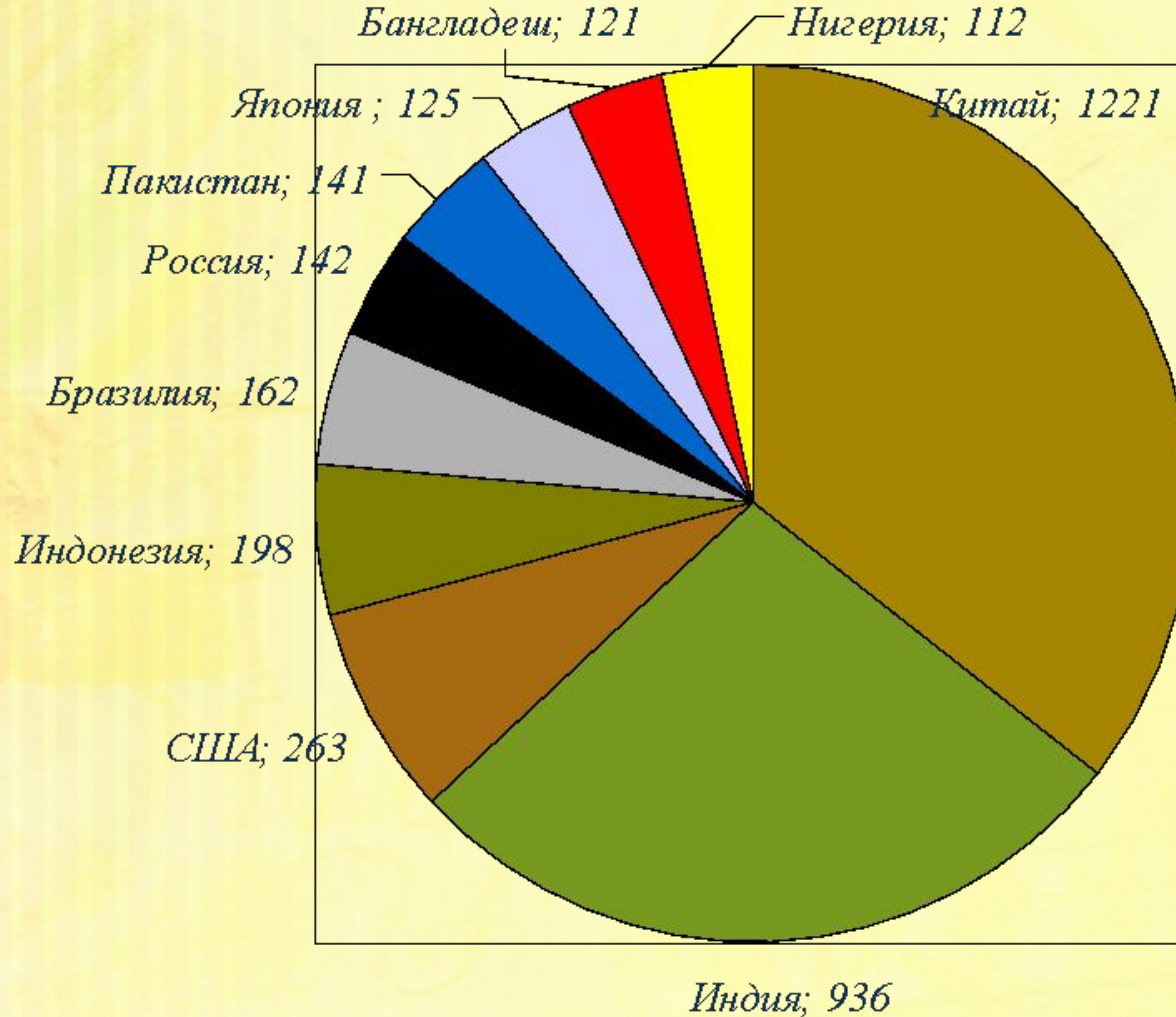
США состоит из ... штатов.

Каждый штат имеет свою конституцию, свои законодательные и исполнительные органы власти, выборного губернатора, а также символику. Отдельно выделяется Федеральный округ Колумбия, на территории которого расположена столица страны – Вашингтон.



Население

Десятка крупнейших по численности государств мира, млн. чел.



С помощью данных диаграммы ответьте, какое место занимает США среди десятки крупнейших стран мира по численности населения?

Население

Времена, когда США как молодая нация занимала одно из первых мест в мире по естественному приросту населения, давно прошли. В конце XX в. естественный прирост населения заметно снизился, что нашло отражение на возрастно-половой пирамиде (откройте учебник на стр. 298, проанализируйте рис. 79 “Возрастно-половая пирамида США”).



Население

Иммиграция:

- способствовала естественному приросту населения (*прочитаем вслух пример отмеченный в учебнике на странице 296*);

- сыграла решающую роль в формировании национального состава населения США (*прочитаем вслух отмеченный в учебнике дополнительный текст на странице 296*).




Население

Этнический состав населения сложен, что также связано с большим притоком иммигрантов. В настоящее время в США насчитывают более 100 этносов, сложившихся в американскую нацию. В ней выделяют:

□ *Американцев США, потомков первых переселенцев;*

□ *переходные иммигрантские группы, состоящие из иммигрантов современного периода;*

□ *Аборигенов (индейцев, эскимосов, алеутов, гавайцев).*



индейцы



алеуты



гавайцы

Население

Жители США


Латиноамериканцы



Афроамериканцы



Певица Тина Тёрнер



Баскетболист Майкл Джордан



66-я Госсекретарь США Кондолиза Райс



Барак Обама, президент США

Раньше основная часть афроамериканцев проживала на Юге, в так называемом “чёрном поясе”, где до отмены рабства в XIX в. господствовало плантационное хозяйство.

Откройте учебнике на странице 298 и с помощью рисунка 80 “Расселение афроамериканцев в США” ответьте на следующие вопросы:

- 1) В каких частях США проживет наибольшее и значительное число афроамериканцев?
- 2) Назовите основные направления внутренних миграций афроамериканского населения.

Прочитаем вслух дополнительный текст отмеченный на странице 297.

Плотность населения

Среди 20 наиболее населённых стран мира США занимает 18-е место (31 человек на 1 км²). Для размещения населения в пределах страны характерны очень большие различия.

Прочитаем вслух пример напечатанный на странице 297.

Внутренние миграции

В последнее время заметно возросли. Пенсионеры переезжают из штатов Севера в штаты Юга. В целом быстрее всего растёт население Техаса, Флориды и особенно Калифорнии.



Население

США – один из наиболее урбанизированных стран, и размещение населения во многом определяется географией городов. Доля городского населения составляет 75%, а число городов достигло почти 9 тысяч.

Откройте учебник на странице 299, с помощью рисунка 83 назовите крупнейшие городские агломерации США (численность населения в которых составляет свыше 10 млн. чел.).

С помощью рисунка 84 назовите штаты Нью-Йорка.

Специфические особенности урбанизации в США:

Потенциальная “молодость” городов, что определяет их специфический облик;

□ формирование и развитие агломераций и мегаполисов;

❖ **Откройте учебники на странице 299, с помощью рисунка 85 назовите:**

1) мегаполисы сформировавшиеся на территории США;

2) крупнейший мегаполис США по площади, численности и плотности населения, и по количеству агломераций.

❖ **С помощью рисунка 86 назовите крупные городские агломерации Северо-Восточного мегаполиса США.**

□ невысокие темпы урбанизации;

□ активное развитие процесса субурбанизации.



Население

Формы сельского расселения

рассеянная

отдельно расположенные фермы

групповая

компактные поселения

Условия быта сельских жителей не очень сильно отличаются от городских. Следовательно, городской образ жизни по существу безраздельно господствует по всей стране.




Ведущее место США в мировой экономике




по выпуску высокотехнологичной наукоёмкой продукции



по объёму промышленного производства



по уровню научно-техническому потенциалу



по развитию непродовольственной сферы



по финансовой мощи


С помощью учебника объясните (стр. 301), что называют “второй экономикой” США?

Наличие в США “второй экономики” привело к необходимости различать в этой стране показатели ВВП и валового национального продукта .

Что называют валовым национальным продуктом (ВНП) (учебник, стр. 301)?

Перепишите определение в тетрадь.

Общая характеристика хозяйства



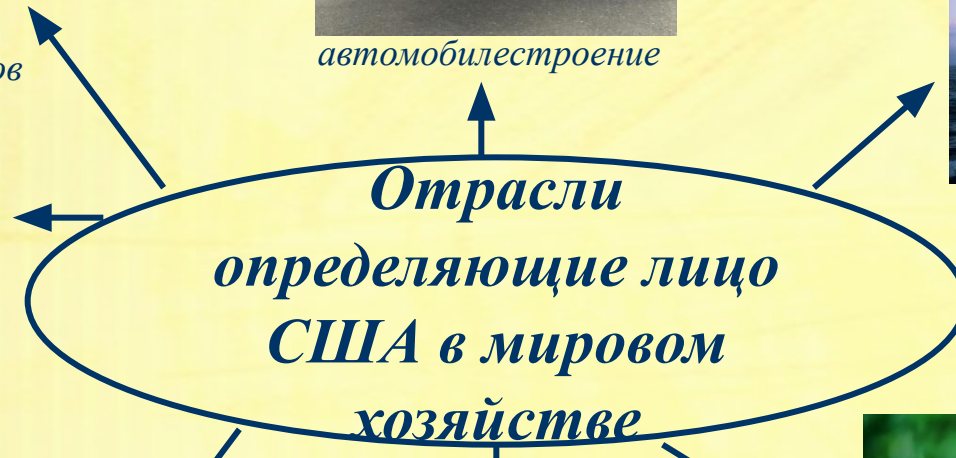
разработка микропроцессоров



автомобилестроение



нефтяная промышленность



электроника



биотехнология и биоиндустрия



авиаракетно-космическая промышленность



в разработке средств охраны окружающей среды

Общая характеристика хозяйства

По уровню с/х производства США значительно превосходят другие страны мира. Они первыми перешли к агробизнесу.

Вспомните что называют агробизнесом? (учебник, стр. 140)

Основной тип с/х предприятия в США – ферма, производящая главную часть продукции на продажу. В условиях агробизнеса получила большое развитие **постадийная специализация**, когда происходит расчленение единого производственного процесса на отдельные звенья.

Прочитаем вслух пример, стр. 304 учебника.

Постадийная специализация

+

позволяет:

- максимально эффективно использовать особенности природных условий;

- позволяет достигать высокого качества и удешевления продукции.

-

- делает фермеров очень зависимыми от рынков сбыта и колебаний цен

Общая характеристика хозяйства

Североамериканский тип транспортной системы США характеризуется:

- развитием всех видов транспорта;
- большими размерами перевозок грузов и пассажиров;
- большой дальностью перевозок;
- важностью автомобильного транспорта.

Сфера нематериального производства

Откройте учебник на стр. 390, проанализируйте данные представленные в таблице 18 по США. Следовательно данным таблицы ответьте, в какую стадию развития вступила США?



Природные ресурсы

Минеральные ресурсы

Среди экономически развитых стран Запада США принадлежит первое место по разведанным запасам



- угля



- урана



- молибденовой руды



- природный газ



- серы



- нефти



- фосфоритов

Промышленность

Ведущие отрасли США получили своё развитие во многих штатах, однако, как правило, выделяются “главные” штаты и центры.




топливная



текстильная



машиностроение



химическая



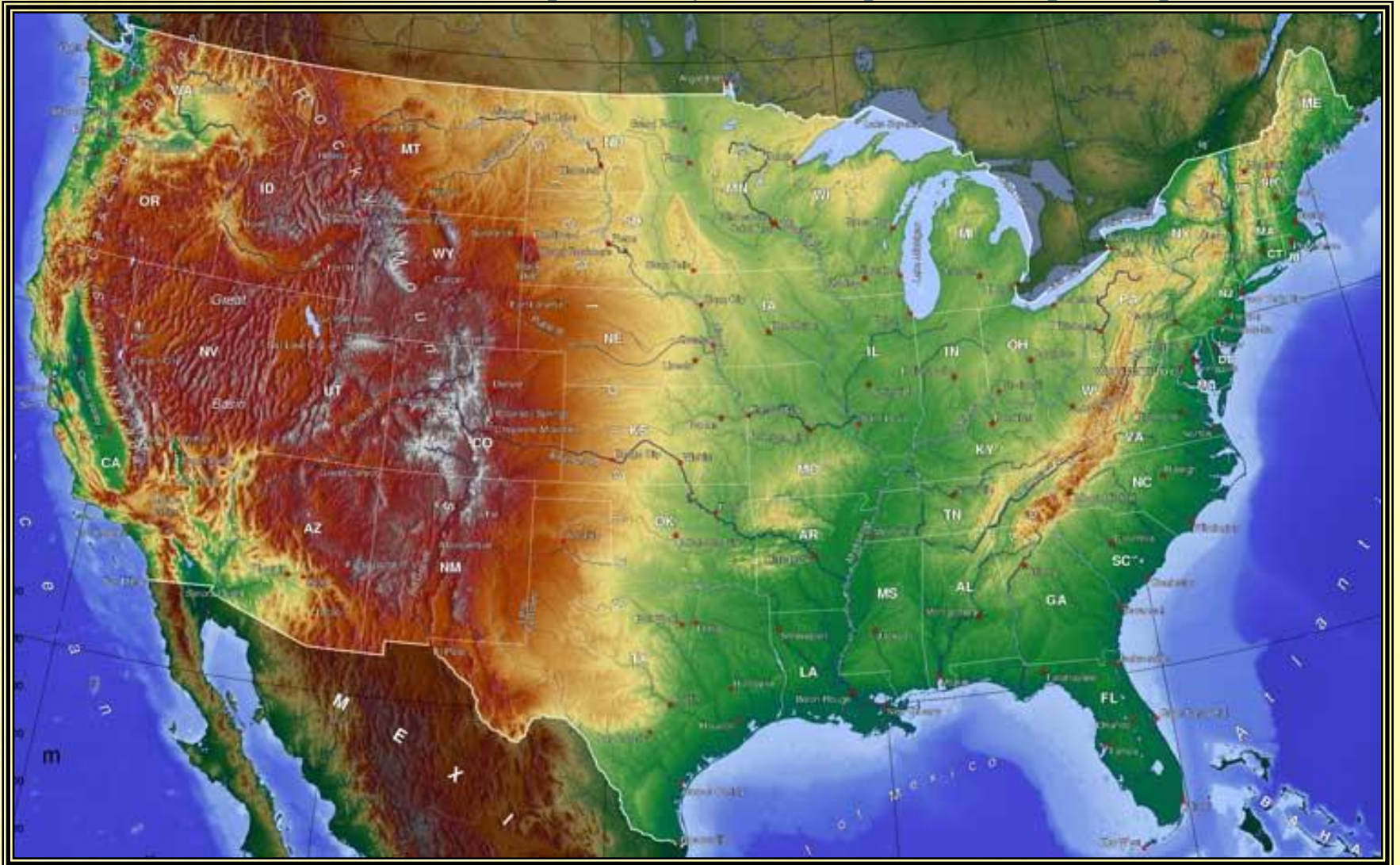
чёрная металлургия



Откройте учебнике на странице 302, с помощью рис. 89 назовите, сколько и какие промышленные районы выделяют на территории США?

Природные ресурсы

США обладает большими земельными ресурсами. Наиболее плодородные почвы – на Центральных равнинах. Малоиспользуемые земли занимают небольшие площади на Аляске и в высокогорных и пустынных районах Кордильер.



Природные ресурсы

Значительны агроклиматические ресурсы. Вы сможете лучше представить себе это, сравнив географическое положение США с положением Европы (учебник, стр303, рис. 91)

В каких климатических поясах США выращивают с/х культуру? (атлас, стр. 36)

Благоприятно в целом сочетание тепла и влаги, только на западе необходимо применение искусственного орошения.


Богаты и водные ресурсы США. Среди внутренних вод выделяются:



река Миссисипи




Великие Американские озёра



река Арканзас



река Колорадо



река Колумбия



река Миссури

Сельское - хозяйство

Размещение сельского хозяйства характеризуется сформированностью узкоспециализированных сельскохозяйственных районов, так называемых “поясов”:



Великие равнины



Центральные равнины



Нижнее течение р. Миссисипи



Приозёрье и северо-восточные штаты

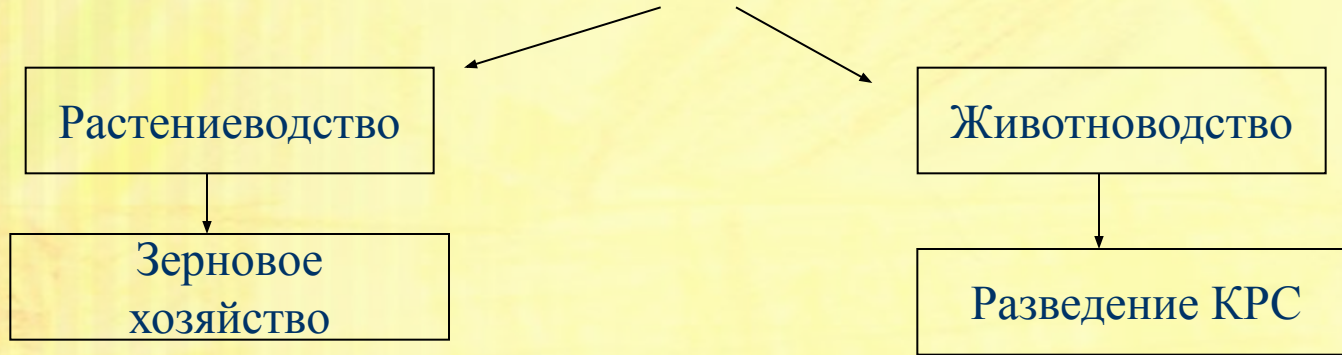


Южная часть Великих равнин и горные штаты

Сельское - хозяйство

В южных штатов сформировались также районы выращивания риса, арахиса, фруктов и овощей.

Сельское хозяйство США




Транспорт

Транспортная система США отличается высоким уровнем развития. Транспортная сеть строится на каркасе трансконтинентальных магистралей, протягивающихся от Атлантического до Тихого океана и от канадской до мексиканской границы. В структуре перевозок преобладает автомобильный транспорт.

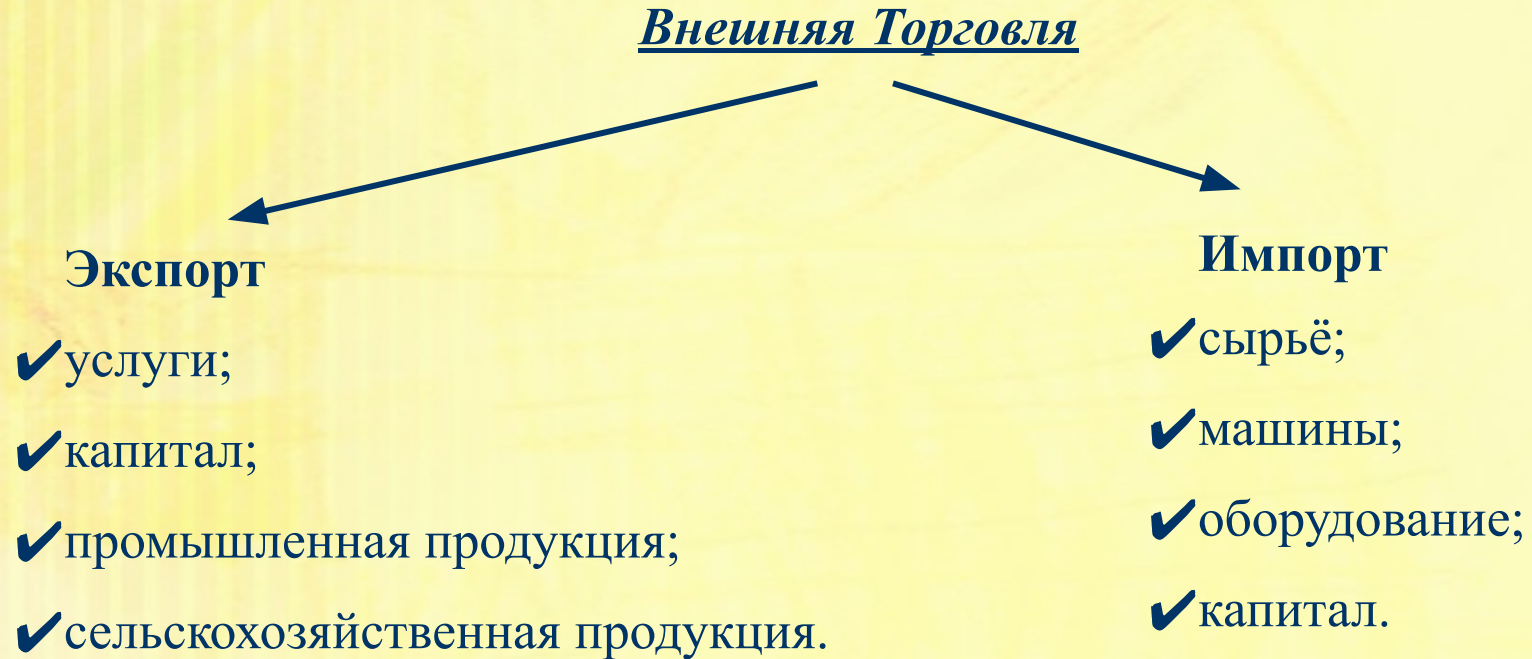
В местах пересечения сухопутных, водных и воздушных транспортных путей сложились транспортные узлы, например, в морских портах: Нью-Йорк, Филадельфия, Балтимор, Сан-Франциско и др. Крупнейший транспортный узел – Чикаго.

Морской транспорт не потерял своего значения и в настоящее время.



Внешняя торговля

По размерам внешнеторгового оборота США занимают первое место в мире.



Почему говорят, что в США сформировалась “улица с двухсторонним движением”? (учебник, стр. 309-310)

Рекреационные районы и туризм

По развитию международного туризма США значительно уступают Европе, но тем не менее ежегодно страну посещают примерно 40 млн. человек.

Виды туризма:

- Приморский туризм (Флорида, Калифорния, Гавайи);
- Горный туризм (штаты Запада, особенно в пределах скалистых гор)
- Приозёрный туризм (штаты Приозерья)

В США 50 национальных парков. Наиболее известные из них – Йеллоустонский, Йосемитский, Секвойя, Глешер, Большой Каньон Колорадо на Западе и Грейт- Смоуки – Маунтинс в Аппалачах.

Список используемой литературы

- ❖ География. Экономическая и социальная география мира 10 кл. : учеб. для общеобразоват. учреждений / В.П. Максаковский. – М. : Просвещение, 2009.
- ❖ Экзаменационные вопросы и ответы. География. 10 – 11 выпускные классы. Учебное пособие. – М.: АСТ-ПРЕСС, 2000.
- ❖ Иллюстрации – Яндекс. ру