


**Табиғат зоналары  
тарауы бойынша  
қайталау  
сұрақтары**




## **Сұрақтар:**

- 1. Табиғат зонасы дегеніміз не?**
- 2. Табиғат зоналарын қалыптастыратын негізгі сыртқы факторлар.**
- 3. Қазақстандағы табиғат зоналарын ата.**
- 4. Еліміздің ең көп бөлігін алып жатқан зона.**
- 5. Жалпы көлемі 1 млн га болатын Қазақстан аумағының 0,4%-ын алып жатқан зона.**
- 6. Жайық, Жем, Сырдария, Сарысу, Шу, Талас, Іле, Қаратал өзендері қай зона арқылы ағып өтеді?**
- 7. Дала зонасының территориясына енетін аудандарды атап, картадан көрсет.**
- 8. Жайықтың жағасынан Алтай тауларына дейін 2900 км-ге созылып жатқан зона.**
- 9. Республикамыздағы құмды шөлдерді ата.**
- 10. Қазақстандағы ең жақсы игерілген табиғат зонасы.**
- 11. Жауын-шашын ең көп түсетін зона.**
- 12. Қазақстанда ғана өсетін және одан сантонин дәрісін жасайтын өсімдік.**
- 13. Барсакелмес және Үстірт мемлекеттік қорықтары қай зонада ұйымдастырылған?**
- 14. Қазақстанда шөлдің қандай түрлері бар?**
- 15. Дала мен шөл зоналарының аралығындағы жерлер қай зонаға тиесілі жерлер?**

**23. 02. 2012 ж.**



**Қазақстан  
аумағын  
физикалық-  
географиялық  
аудандастыру**





**ауа**



**өсімдік**



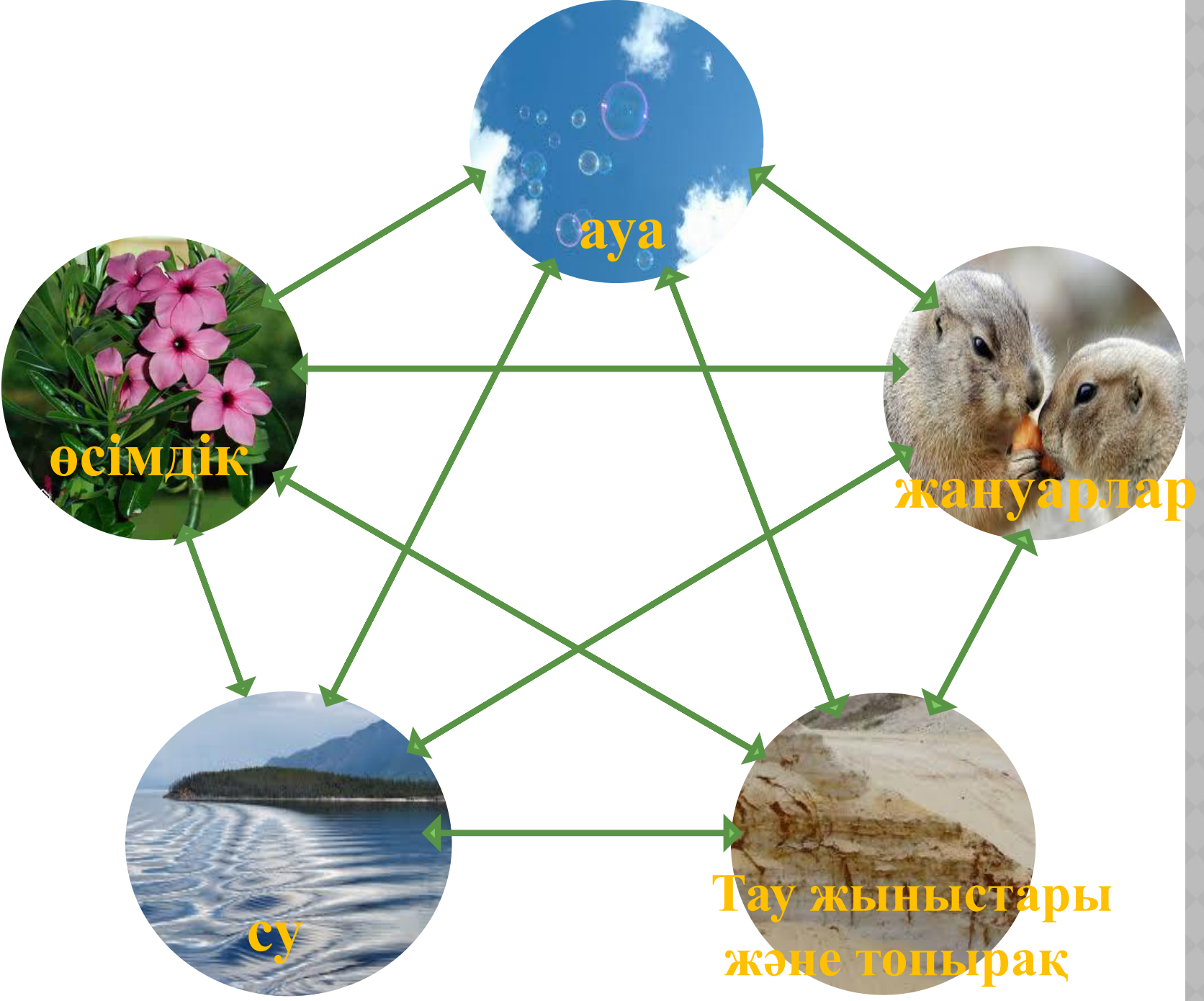
**жануарлар**



**су**



**Тау жыныстары  
және топырақ**





# Қазақстан аумағы екі дүние бөлігін (Еуропа мен Азия) біріктіріп жатыр



# Қазақстанда 9 физикалық-географиялық аудан бар:

1. Шығыс Еуропа жазығы
2. Солтүстік Қазақ жазығы
3. Тұран жазығы
4. Орал
5. Сарыарқа
6. Алтай
7. Жетісу Алатауы
8. Сауыр-Тарбағатай
9. Тянь-Шань

# Шығыс Еуропа жазығы





# Солтүстік Қазақ жазығы



# Тұран жазығы





# Орал



# Сарыарқа





# Алтай





# Жетісу Алатауы



# Сауыр-Тарбағатай






# Тянь-Шань



# Жаңа тақырыпты бекіту



**Қазақстанның 9 ірі  
табиғи  
аудандарын кескін  
картаға түсір.**





# Қалалардың қай табиғат зонасына жататындығын анықта:

Орманды дала	Дала	Шөлейт	Шөл

- 1) Шымкент
- 2) Қызылорда
- 3) Тараз
- 4) Қарағанды
- 5) Ақтөбе
- 6) Атырау
- 7) Көкшетау

- 8) Петропавл
- 9) Павлодар
- 10) Алматы
- 11) Қостанай
- 12) Талдықорған
- 13) Орал
- 14) Өскемен

# Үйге тапсырма:

- ❖ Қазақстан аумағын физикалық-географиялық аудандастыру (оқу)
- ❖ Шығыс Еуропа, Солтүстік Қазақ, Тұран жазықтары туралы қосымша мәліметтер жинақтап келу