

Территориальная структура хозяйства стран мира

1. Основная часть населения и экономического потенциала сосредоточена в северной части:

1) Австралии и Бразилии

2) Венесуэлы и Алжира

3) Канады и Японии

4) Индии и Нигерии

2. Основная часть населения и экономического потенциала сосредоточена в южной части:

1. Южной Кореи и Чили

2. Монголии и Саудовской Аравии

3. Аргентины и Пакистана

4. Финляндии и Канады

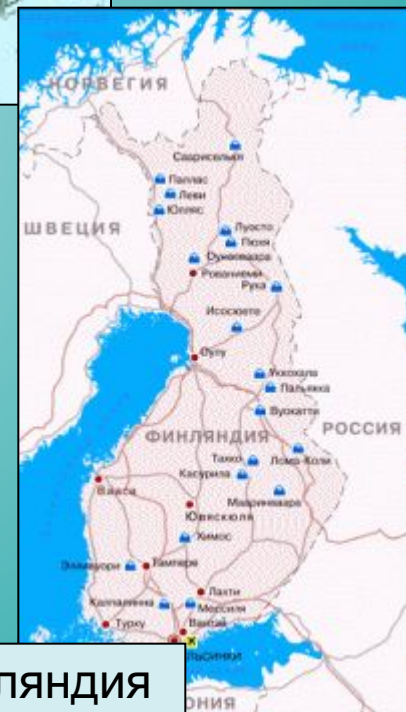
Подумай!







Канада



Финляндия

3. Приморские районы являются наиболее экономически развитыми в:

1) ЮАР и Румынии

2) России и Пакистане

3) Турции и Австралии

4) Польше и Колумбии

4. Глубинные районы являются наиболее экономически развитыми в:

1) Польше и ЮАР

2) Австралии и Китае

3) Турции и Венесуэле

4) Бразилии и Южной Корее





Польша



Южно-Африканская республика



5. Столица является крупнейшим экономическим центром в:

1) Турции и Пакистане

2) Бразилии и Южной Корее

3) Венгрии и Аргентине

4) Индии и Узбекистане

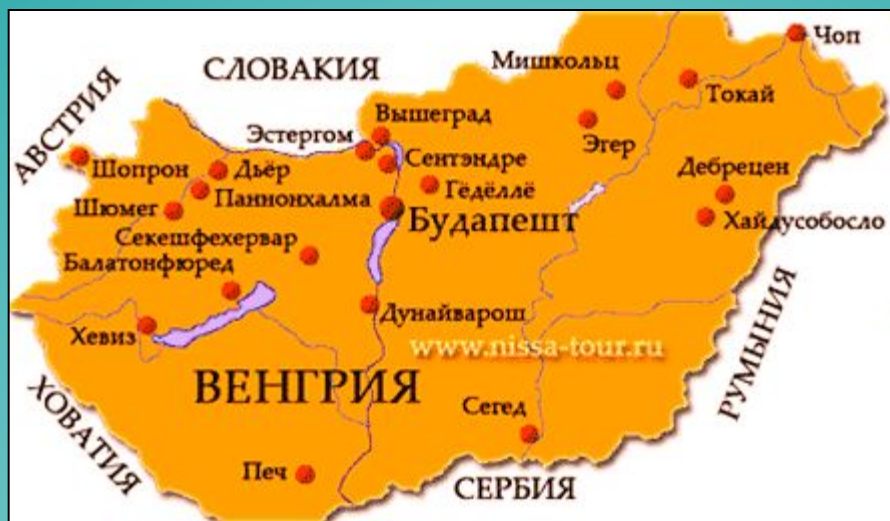
6. Столица не является крупнейшим экономическим центром в:

1) Марокко и Франции

2) Великобритании и Таиланде

3) Перу и Индонезии

4) Италии и Вьетнаме



Венгрия



Аргентина





Италия



Вьетнам

7. Столица является крупнейшим морским портом в:

1) Франции и Пакистане

2) Аргентине и Таиланде

3) Канаде и Нидерландах

4) Бразилии и Индии

8. Крупнейший экономический центр одновременно является и крупнейшим морским портом в:

1) Колумбии и Италии

2) Турции и Пакистане

3) Польше и Мексике

4) ЮАР и Франции



Аргентина



Таиланд





Турция



Пакистан

9. Моноцентрическая территориальная структура хозяйства характерна для:

1) Индии и Нидерландов

2) Мексики и Аргентины

3) Германии и Венгрии

4) Таиланда и Китая

10. Полицентрическая территориальная структура хозяйства характерна для:

1) Латвии и Венгрии

2) Индии и Германии

3) Уругвая и Таиланда

4) Австрии и Перу



Аргентина



Мексика





Индия



Германия

11. Крупные угольно-металлургические районы сформировались в:

1) Германии и Южной Кореи

2) Колумбии и Индонезии

3) Чехии и Швеции

4) Украине и Индии

12. Сходный рисунок территориальной структуры хозяйства имеют:

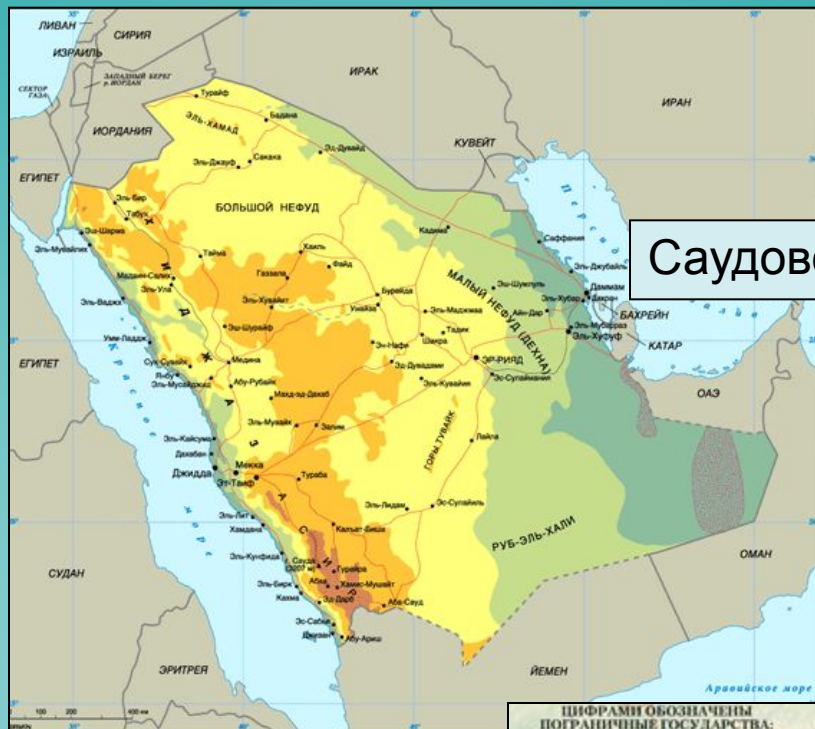
1) Швеции и Италии

2) Саудовская Аравия и Китай

3) Алжир и Германия

4) Венесуэла и Канада





Саудовская Аравия



Китай



13. Прямо противоположный рисунок территориальной структуры хозяйства имеют:

1) Канада и Италия

2) Бразилия и Австралия

3) Швеция и Нигерия

4) Алжир и Венесуэла

14. Наименьшие диспропорции в уровнях экономического развития отдельных частей страны характерны для:

1) Индонезии и Египта

2) Нидерландов и Дании

3) Аргентины и Белоруссии

4) России и Австралии



Италия



Канада





Нидерланды



Дания

15. Наиболее острые диспропорции в уровнях экономического развития отдельных частей страны характерны для:

1) Италии и Бразилии

2) Германии и Чехии

3) Нидерландов и Дании

4) Индии и Польши

16. Крупномасштабные программы экономического развития районов нового освоения осуществляются в:

1) Испании и Бразилии

2) Германии и Японии

3) Индии и Бельгии

4) Венесуэле и Канаде



Италия



Бразилия



Венесуэла



Канада

17. Назовите два фактора размещения производства, значение которых выросло в эпоху НТР:

1) Сырьевой и ресурсный

2) Научоемкости и энергоемкости

3) Транспортный и фактор ЭГП

4) Экологический и трудовых ресурсов

18. На размещение промышленных предприятий в Восточной и Юго-Восточной Азии главным образом повлиял фактор:

1) Экологический

2) Ресурсный

3) Трудовых ресурсов

4) Транспортный

19. В какой отрасли наблюдается высокий уровень концентрации производства?

1) В электроэнергетике

2) В металлургии

3) В химической промышленности

4) В легкой промышленности

20. Определите, о каких странах идет речь. «Эти страны имеют, как правило, небольшую территорию; характеризуются высокими показателями ВВП на душу населения; в них высока доля непроемственной сферы; в структуре хозяйства преобладают обрабатывающие отрасли».

1) Страны-экспортеры нефти

2) Страны «большой семерки»

3) Небольшие высокоразвитые страны Европы

4) Развивающиеся страны

21. Фактор водных ресурсов является важнейшим для размещения предприятий:

1) По добыче нефти

2) Электроники

3) Химической промышленности

4) Машиностроения

22. Современные нефтеперерабатывающие заводы расположены преимущественно в морских портах потому, что:

1) Идет сокращение нефтедобычи

2) Здесь достаточное количество трудовых ресурсов

3) Сухопутная транспортировка стоит дорого

4) Они ориентируются на привозное сырье

Молодцы!!!

