


# **Города России. Тест.**

- **1. Какой из перечисленных городов Поволжья является наиболее крупным по численности населения?**

**1) Самара**



**2) Волгоград**

**3) Тольятти**

**4) Астрахань**


• **2.Какой из перечисленных городов Урала является наиболее крупным по численности населения?**

• **1) Ижевск**


• **2) Оренбург**

• **3) Магнитогорск**


• **4) Уфа**



- **3. Какой из названных в задании городов Урала имеет наибольшую численность населения?**
- **1) Нижний Новгород**
- **2) Нижний Тагил**
- **3) Оренбург**
- **4) Пермь**




- **4. Укажите самый южный город-миллионер.**
- **1) Волгоград**
- 
- **2) Ростов-на-Дону**
- **3) Омск**
- **4) Новосибирск**



• **5. Укажите город-миллионер,  
расположенный на Волге.**

• **1) Самара**



• **2) Чебоксары**

• **3) Уфа**

• **4) Пермь**

- **6. Укажите самый крупный по численности город Восточной Сибири.**


- **1) Иркутск**

- **2) Чита**

- **3) Красноярск**

- 

- **4) Владивосток**



• **7. Крупнейшим городом на реке Волге является?**


• **1) Ульяновск**

•

• **2) Ярославль**

• **3) Екатеринбург**


• **4) Казань**






- **8. Крупнейшим городом на реке Волге является?**
- **1) Рязань**
- **2) Кострома**
- **3) Санкт-Петербург**
- **4) Самара**



- **9. Укажите город России, находящийся в главной полосе расселения:**
- **1) Мурманск**
- **2) Липецк** 
- **3) Норильск**
- **4) Магадан**

• **10. Укажите город России, находящийся в главной полосе расселения:**

• **1) Рязань**




• **2) Магадан**

• **3) Салехард**

• **4) Якутск**


- **11. Укажите город России, находящийся в главной полосе расселения:**
- **1) Петропавловск-Камчатский**
- **2) Архангельск**
- **3) Кемерово**
- **4) Норильск**



• **12. Укажите город России, не находящийся в главной полосе расселения:**

• **1) Саратов**

• **2) Архангельск**




• **3) Новосибирск**

•

• **4) Курск**

- **13. Укажите самый восточный город-миллионер.**
- **1) Волгоград**
- **2) Ростов-на-Дону**
- **3) Омск**
- **4) Новосибирск**



- **14. Укажите самый северный город-миллионер.**
- **1) Екатеринбург**
- **2) Санкт-Петербург**
- **3) Мурманск**
- **4) Пермь**

