

Повторение по теме: «Центральная Россия».



*Презентацию
выполнила учитель
географии
МОУ «СОШ №34»
города Златоуста
Сазонова Г.И.*

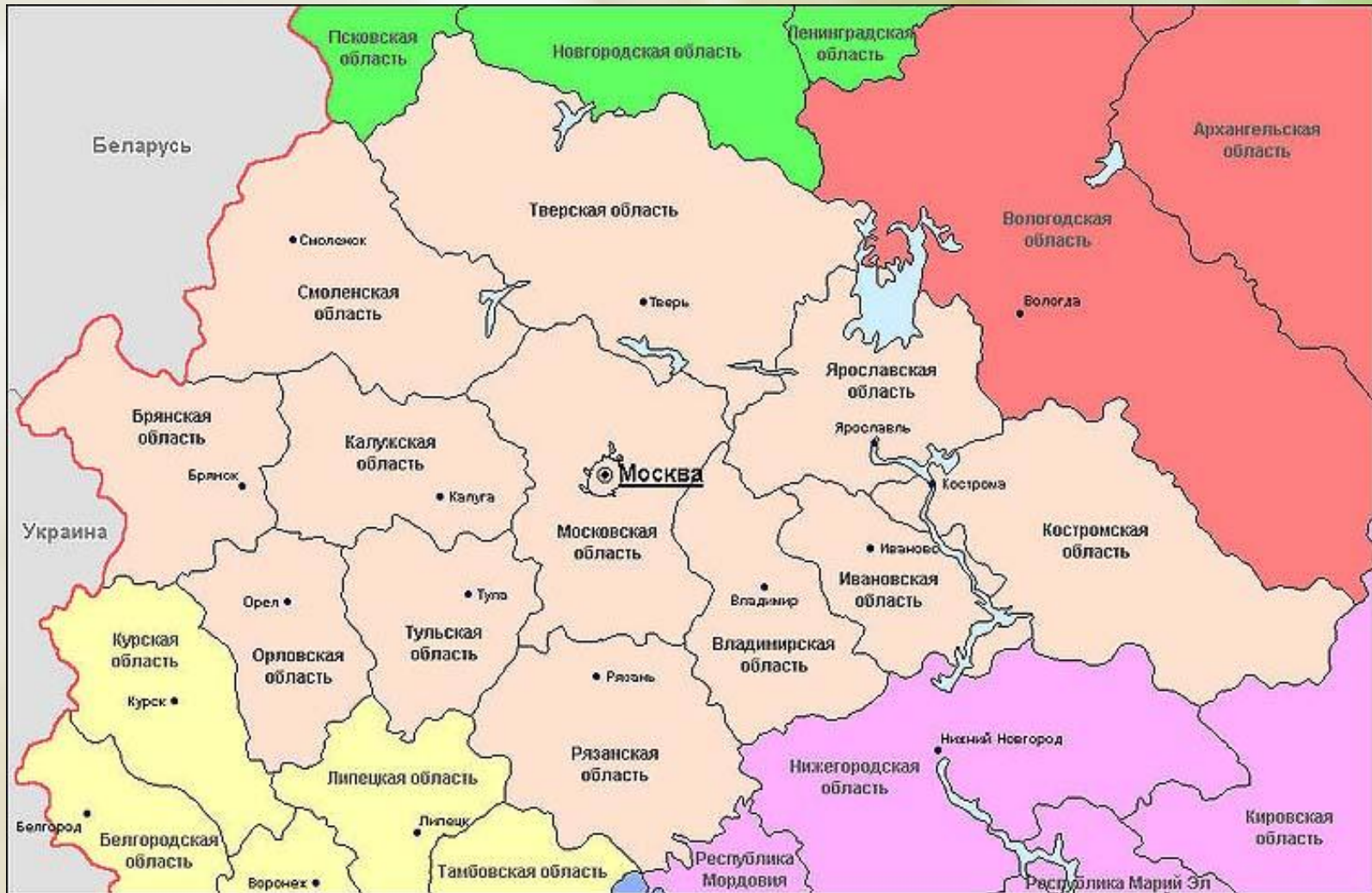
Центральная Россия.



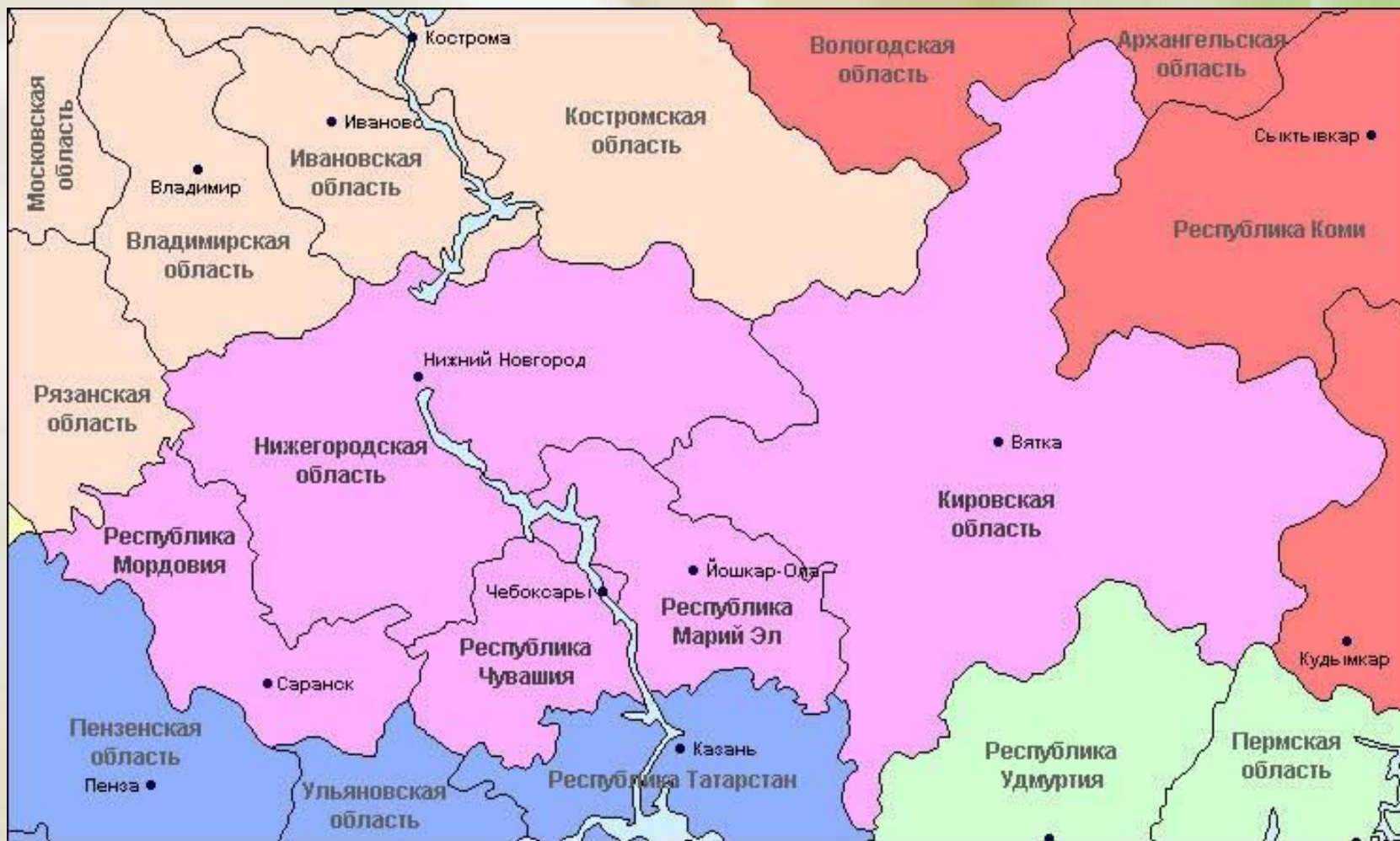
Цели:

- знать географическое положение Центральной России и её районов;
- знать особенности хозяйства Центральной России, крупные центры промышленности.

Определите экономический район .



Определите экономический район .



Определите экономический район .



Соотнесите субъект и экономический район.

- А) Центральный
- Б) Волго – Вятский
- В) Центрально – Чернозёмный



1



2



3

**Расставьте города от
самого северного к южному:**

- а) Тула**
- б) Москва**
- в) Воронеж**
- г) Ярославль**

**Установите
соответствие между
субъектами и столицами:**

- 1) Республика Мордовия
- 2) Республика Марий – Эл
- 3) Республика Чувашия

- А) Чебоксары
- Б) Саранск
- В) Йошкар - Ола


Что объединяет объекты:

- а) Калининская, Курская, Смоленская
- б) Саранск, Чебоксары, Йошкар – Ола
- в) Липецк, Тула, Старый Оскол

**Определите крупные
металлургические
заводы:**

- а) Старый Оскол, Липецк**
- б) Ярославль, Кострома**
- в) Липецк, Воронеж**

Определите крупные центры по производству



1. Коломна 2. Тольятти 3. Рязань 4. Ярославль 5. Самара

Какая из перечисленных
АЭС находится в
Центральном
экономическом районе:

- а) Смоленская**
- б) Курская**
- в) Кировская**
- г) Белоярская**

Определите по описанию экономический район.

Машиностроение — основная отрасль промышленности района. В свое время здесь получили развитие автомобилестроение, станкостроение, приборостроение, электротехника, электроника, авиастроение. Черная металлургия представлена предприятием полного цикла в Туле. Один из крупных речных портов может принимать грузы, идущие через систему каналов из 5 морей.

Определите по описанию экономический район.

Район хорошо обеспечен водными ресурсами, но беден полезными ископаемыми. Можно выделить только ресурсы фосфоритов, а также залежи торфа на севере.

Выделяются три ведущие отрасли: транспортное машиностроение (судостроение и автостроение), электротехника и приборостроение.

Определите по описанию экономический район.

*В районе находится крупнейший
железорудный бассейн в стране.*

*В районе возделывают сахарную свеклу
(1-е место в стране), подсолнечник (3-е
место), зерновые, картофель, овощи,
плодовые и ягодные культуры.*



О каком крупном городе идёт речь:

Это один из древнейших городов Центральной России, крупный железнодорожный узел, центр машиностроения и химической промышленности. Известен крупным танковым сражением Второй Мировой войны.



О каком крупном городе идёт речь:

Один из крупных центров машиностроения, в том числе оборонного. Город известен автомобильной промышленностью, заводами по производству самолётов, дизелей, телевизоров. Главная судостроительная база – завод «Красное Сормово».