




Центральная Россия.




Цель урока:



- **Формирование представлений и знаний об экономических районах России.**
- **Рассказать о составе, размерах территории и ЭГП Центральной России, особенностями и характерными чертами населения и трудовых ресурсов района.**
- **Разобрать природные условия и природные ресурсы региона.**




План урока:



1. Состав Центральной России.
2. Экономико-географическое положение (ЭГП).
3. Природные условия и ресурсы.
4. Население.
5. Экономика Ц.России

Центральная Россия.



Состав:

район	Площадь тыс.км.	Население млн.чел.	Доля городского населения %	Плотность населения чел./км ²
Центральный	485,1	29,2	83,1	50
Волго-Вятский	263,0	8,5	70,5	31
Центрально- Черноземный	168,0	7,8	62,4	46

План – характеристика - ЭГП: экономико-географическое положение.




1. Положение района на территории государства (окраинное, пограничное, центральное).
2. Соседние районы, государства.
3. Положение относительно топливно-энергетических и сырьевых баз страны.
4. Положение относительно транспортных магистралей.
5. Вывод о влиянии ЭГП на развитие экономики региона.

Экономико-географическое положение.



1. Находится на западе европейской части России. Центральное положение (столичное – Москва).

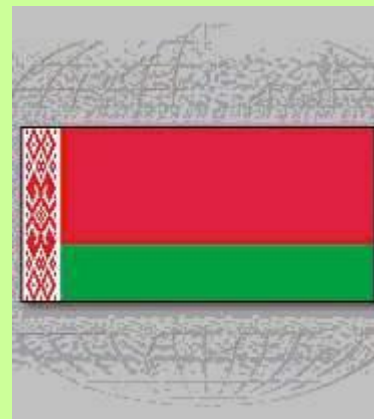






После распада СССР район оказался пограничным.

1. Задание: найдите приграничные государства-соседи Центральной России:

Белоруссия, Украина – это славянские государства, бывшие республики СССР, давние и тесные связи, русский язык.






2. Задание: найдите соседние экономические районы.

2. Северо-Западный район, Европейский Север, Уральский район, Поволжье, Европейский Юг.
3. Находится вблизи топливно-энергетических баз (Тимано-Печорский угольный и нефтегазоносный бассейн, Урал – металлургическая база страны).
4. Имеет очень выгодное транспортное положение. Проходят транзитные нефте- и газопроводы из Западной Сибири; От Москвы отходят авто- и железные дороги, речной путь – Волга, каналы – что дает выход к морям.

5. Вывод: очень выгодное ЭГП для экономики региона.

Природные условия.




3. Вопрос: благоприятны ли для развития экономики рельеф, климат?



Равнинная поверхность, умеренно-континентальный климат – очень благоприятны для ведения жизни и хозяйственной деятельности (в том числе и сельскохозяйственной) людей.



Природные ресурсы:




4. **Используя текст учебника и карты атласа, назовите природные ресурсы Центральной России и сделайте вывод.**

1. Железные руды – КМА;
2. Бурый уголь –
Подмосковный бассейн;
3. Торф;
4. Стройматериалы;
5. Фосфориты;



5. Назовите другие ресурсы:

- Лесные (северо-восток)
- Водные (невелики)
- Почвенные (юг)
- Рекреационные.



Население.



район	Площадь тыс.км.	Население млн.чел.	Доля городского населения %	Плотность населения чел./км ²
Центральный	485,1	29,2	83,1	50
Волго- Вятский	263,0	8,5	70,5	31
Центрально- Черноземный	168,0	7,8	62,4	46

Выводы:

- Большая численность и высокая плотность населения;
- Высокая доля городского населения;
- Много городов.
- Русские (марийцы, мордва, чуваш).
- Исторические центры.



Географический диктант.



1. Какой район не входит в состав Центральной России:

А) Центральный район

Б) Волго-Вятский

В) Центрально-Черноземный

Г) Северный.

2. Центральная Россия имеет ...положение:

- А. Периферийное;
- В. Столичное;
- С. Приграничное;



3. Соседними странами, имеющими границу с Центральной Россией имеют:

- А. Украина; Б) Белоруссия.
- В. Молдавия. Г. Литва.

4. Транспортная сеть в Ц.России представлена:

- A. Автомобильными дорогами.
- B. Трубопроводами.
- C. Железными дорогами.
- D. Всеми видами транспорта.



5. Центральная Россия ...

- A. богата природными ресурсами.
- Б. не богата природными ресурсами.

6. В Ц.России есть крупное месторождение:

- A. Бурого угля.**
- B. Фосфоритов.**
- C. Торфа.**
- D. Железной руды.**



7. Развитию экономики Ц.России благоприятствуют:

- A. природные условия.**
- B. природные ресурсы.**
- B. ЭГП.**

8. В Ц.России преобладает:

А. городское.

Б. сельское.



9. Какой народ преобладает в Ц.России:

А. чувашаи. Б. мордва. В. Марийцы

Г. русские

10. На территории Ц.России находятся города-миллионеры:

А. Новгород.

Б. Воронеж

В. Москва.

Г. Нижний Новгород.

Домашнее задание

§ 41, 42

