

Д/З

**ПАРАГРАФЫ 37-40,
ГОТОВИТЬСЯ ПО КОНСПЕКТУ, УЧИТЬ
ПЛАН ХАРАКТЕРИСТИКИ РАЙОНА**

Центральный экономический район - ядро страны













ПЛАН ХАРАКТЕРИСТИКИ ЭКОНОМИЧЕСКОГО РАЙОНА

- 1. ТЕРРИТОРИЯ РАЙОНА. СОСТАВ РАЙОНА.**
- 2. ЭКОНОМИКО-ГЕОГРАФИЧЕСКОЕ ПОЛОЖЕНИЕ РАЙОНА (ЭГП).**
- 3. НАСЕЛЕНИЕ И ТРУДОВЫЕ РЕСУРСЫ.**
- 4. ПРИРОДНО-РЕСУРСНЫЕ ФАКТОРЫ РАЗВИТИЯ.**
- 5. ХОЗЯЙСТВО РАЙОНА (ПРОМЫШЛЕННОСТЬ, С/Х, ИНФРАСТРУКТУРА).**
- 6. СОСТОЯНИЕ ОКРУЖАЮЩЕЙ СРЕДЫ.**
- 7. ПРОБЛЕМЫ РАЙОНА.**
- 8. ПЕРСПЕКТИВЫ РАЗВИТИЯ.**

СОСТАВ ЦЕНТРАЛЬНОГО РАЙОНА



1. Найдите территорию Московской области
2. Назовите соседей первого порядка
3. Определите соседей второго порядка

СОСТАВ ЦЕНТРАЛЬНОГО РАЙОНА

1. Какие субъекты РФ входят в состав Центрального района?

Ответ: области и город федерального значения.

2. Какие области входят в состав Центрального района?

Ответ: Брянская, Владимирская, Ивановская, Калужская, Костромская, Московская, Орловская, Рязанская, Смоленская, Тверская, Тульская, Ярославская – 12 областей.

3. Город федерального значения, входящий в состав Центрального района?

Ответ: город Москва

Экономико-географическое положение(ЭГП)-это
положение объекта по отношению к объектам, лежащим за его пределами, имеющим экономическое значение для рассматриваемого района.

Н.Н. Баранский

ЭЛЕМЕНТЫ ЭГП

- 1. Положение района (окраинное, центральное, пограничное).**
- 2. Соседское положение (соседние районы, страны и их уровень экономического развития).**
- 3. Ресурсное положение.**
- 4. Транспортное положение.**
- 5. Изменение ЭГП во времени.**
- 6. Вывод о влиянии ЭГП на развитие хозяйства района: выгодно или не выгодно.**

ЭГП ЦЕНТРАЛЬНОГО РАЙОНА

1. ПОЛОЖЕНИЕ РАЙОНА НА ТЕРРИТОРИИ СТРАНЫ

1. Окраинное ?
2. Пограничное ?
3. Центральное ?

2. СОСЕДСКОЕ ПОЛОЖЕНИЕ

1. Границы с развитыми районами
2. Соседство с сырьевыми районами
3. Соседство с дружественными государствами

3. РЕСУРСНОЕ

ПОЛОЖЕНИЕ удалённость от основных источников сырья и топлива

4. Транспортное положение

1. Развита все виды транспорта
2. Выход к морям через реки и каналы
3. Густая транспортная сеть (12 лучей ж\д)
4. Москва – порт 5 морей

5. ИЗМЕНЕНИЕ ЭГП ВО ВРЕМЕНИ

Выход к государственной границе в связи с распадом СССР



Вывод: ЭГП ЦЕНТРАЛЬНОГО РАЙОНА ВЫГОДНО, СПОСОБСТВУЕТ ЭКОНОМИЧЕСКОМУ РАЗВИТИЮ БЛАГОДАРЯ УДОБСТВУ СОСЕДСКОГО, ТРАНСПОРТНОГО ПОЛОЖЕНИЯ, НАЛИЧИЮ СТОЛИЦЫ.

Природные ресурсы


- Полезные ископаемые: бурый уголь Подмосковного бассейна, фосфориты.
- Рекреационные ресурсы: города «Золотого кольца»



Ростов Великий

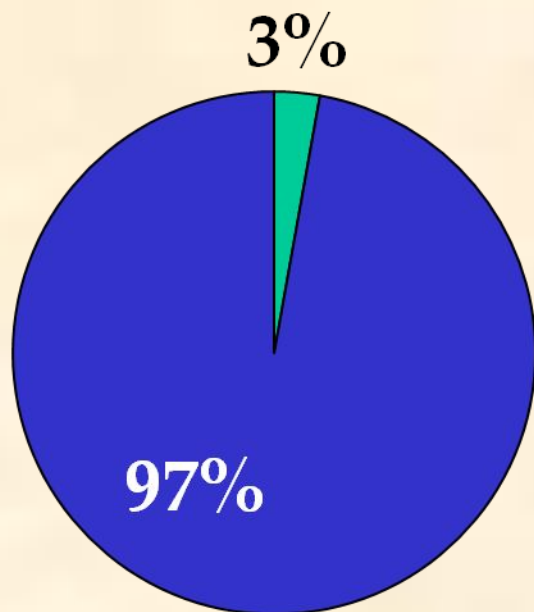


Ярославль

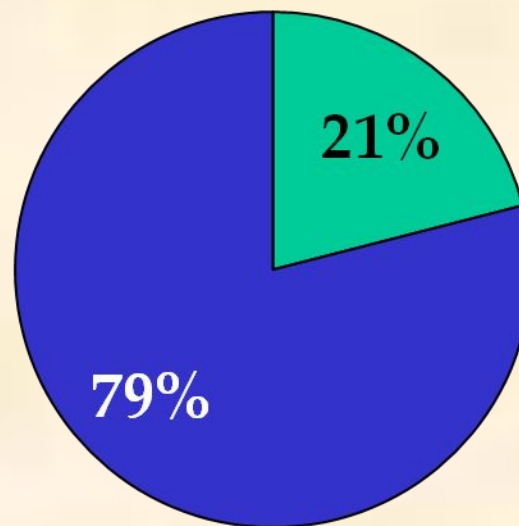


Центральный район. Доля в России

Территория



Население



- Проживает 30 млн. человек, в основном – русские.
- Высоковалифицированные кадры.
- Город - миллионер Москва – (12 млн. чел.)

ОПРОС

1. План характеристики экономического района.
2. Состав ЦЭР - по карте. ЭГП ЦЭР.
3. Природные ресурсы и население ЦЭР.

ОТРАСЛИ ПРОМЫШЛЕННОСТИ

1. МАШИНОСТРОЕНИЕ:

Ликино-Дулево (автобусы)

Коломна (магистральные тепловозы)

Рязань (картофелеуборочные комбайны)

Бежецк (льноуборочные комбайны)

Владимир (трактора)

Калуга (приборостроение, радиоэлектроника)

Подмосковье (ракетно-космическая техника)

2. ХИМИЧЕСКАЯ ПРОМЫШЛЕННОСТЬ

Ярославль (пр-во шин, лаков, красок)

Подмосковье (пр-во сложных удобрений)

3. ВПК – Тульский оружейный завод

4. ТЕКСТИЛЬНАЯ ПРОМЫШЛЕННОСТЬ

Иваново (местный лён и привозной хлопок)

5. Полиграфическая промышленность

Ликино - Дулёво – автобусная столица страны (автобусы ЛиАЗ)



Коломна – магистральные (поездные) ТЕПЛОВОЗЫ



Тульский оружейный завод – российская кузница оружия



Тульский
оружейный
завод



ИВАНОВО – текстильный центр страны



Народные (кустарные) промыслы -

Кто занимался?

Что такое отхожие промыслы?



- **Кустарные (народные, художественные) промыслы** – мелкое производство изделий с применением ручного труда. Им занимались на местах, в основном женщины.
- **Отхожие промыслы** – уход мужчин на заработки в другие города, посёлки.



**«Не печалься древняя земля,
Ты богата сказами да былью,
Русские исконные края,
Палеха несломленные крылья!»**




Жёстовские подносы



Не оскудеет земля Русская мастерами да
умельцами

**ГОРОДЕЦКАЯ
РОСПИСЬ**
(Нижегородская обл.)



Золотая хохлома

(Нижегородская обл.)

*«Кисть хохломская!
Большое спасибо!
Сказывай сказку для радости жизни!
Ты, как душа у народа красива!
Ты, как и люди, служишь Отчизне!»*



Откуда к нам пришла ты, русская матрешка?




Города - технополисы

Это города, объединяющие научные учреждения с наукоёмкими предприятиями промышленности

- Обнинск**
- Дубна**
- Жуковский**

С/Х

- **Лён, картофель, рожь (на севере района), пшеница, гречиха (на юге)**
- **Мясо-молочное животноводство, свиноводство, птицеводство**



ПРОБЛЕМЫ

- **Маятниковая миграция**
- **Дорожные «пробки»**
- **Экологические проблемы: загрязнение воды и воздуха.**

Основные черты Центрального района

1. ЦЭР - политическое, экономическое, историческое ядро страны.
2. Центр - это район древне- и старорусского заселения, ядро формирования Русского государства.
3. В ЦЭР сконцентрирован самый мощный научно-технический потенциал страны, а также высококвалифицированные кадры.




ПЕРСПЕКТИВЫ

Прочитайте на странице 187

Д/З

**ПАРАГРАФ 40, подготовиться
к проверочной работе по ЦЭР**



Задание на контурной карте

1. Проведите границы Центрального района.
2. Обозначьте соседние районы.
3. Подпишите областные центры ЦЭР.
4. Обозначьте основные транспортные пути.
5. Покажите положение района по отношению к источникам сырья.
6. Сделайте вывод об ЭГП ЦЭР.

ЧАСТЬ С ВАРИАНТ 1

**Каким образом Москва стала портом 5 морей.
Перечислите эти моря.**

ЧАСТЬ С ВАРИАНТ 2

Почему промышленность Центрального района ориентирована исключительно на обрабатывающие отрасли? Назовите главные причины.

Используя текст параграфа 41 и карты атласа, составьте характеристику экономического района. Состав района возьмите из карты на странице 160 в учебнике.

Пункт плана	ВОЛГО-ВЯТСКИЙ	ЦЕНТРАЛЬНО- ЧЕРНОЗЁМНЫЙ
1		
2		
3		
4		
5		
6		
7		
8		