



Урок-игра «План и карта»

Эпиграф урока

**«Есть карты мира,
звезд, планет.
Познание идет путем
побед»**

Джордж Байрон

Задачи урока:

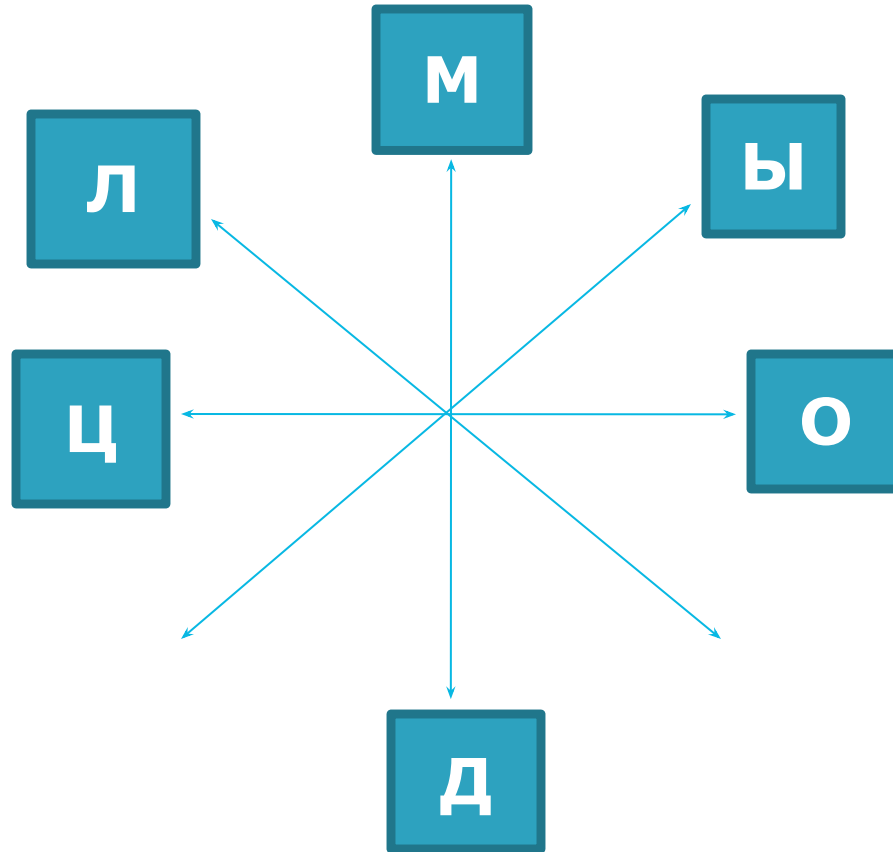
- ❖ Обобщить и систематизировать знания по теме: «План и карта». Закрепить умения работать с планом местности и географической картой
- ❖ Развивать способности применять знания и умения в решении проблемных ситуаций
- ❖ Развивать умения работать в группе, активизировать познавательный интерес к географии.

«Давайте познакомимся»

- 1 команда - «**Экватор**»
- 2 команда – «**Масштаб**»
- 3 команда – «**Компас**»

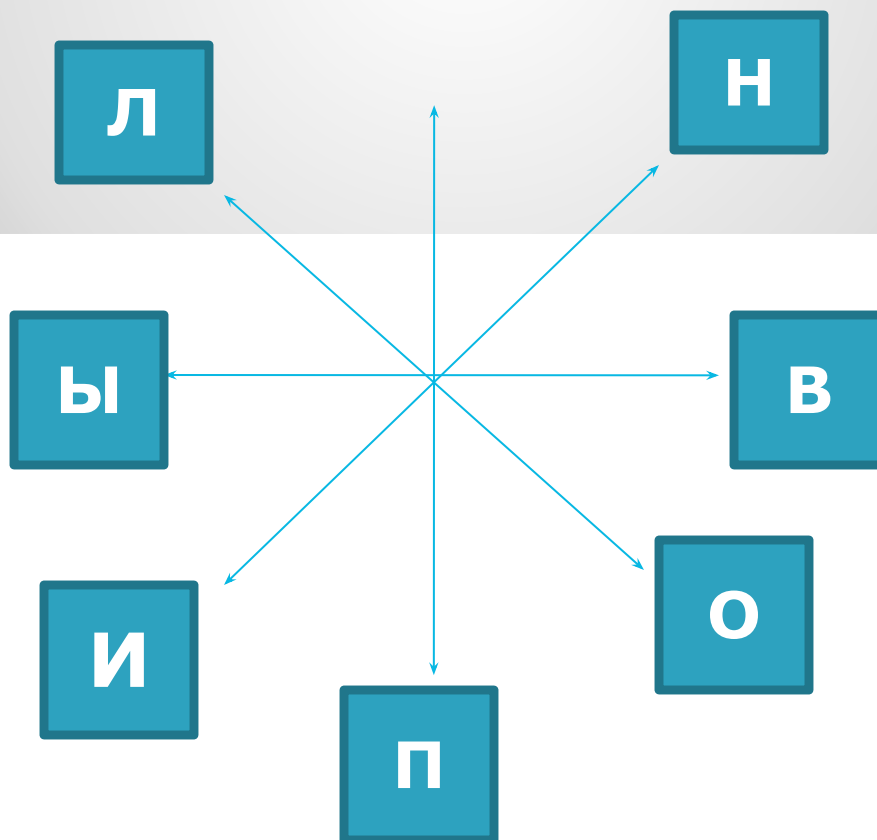
«Загадочное письмо»

0, 90, 315, 90, 180, 270, 45



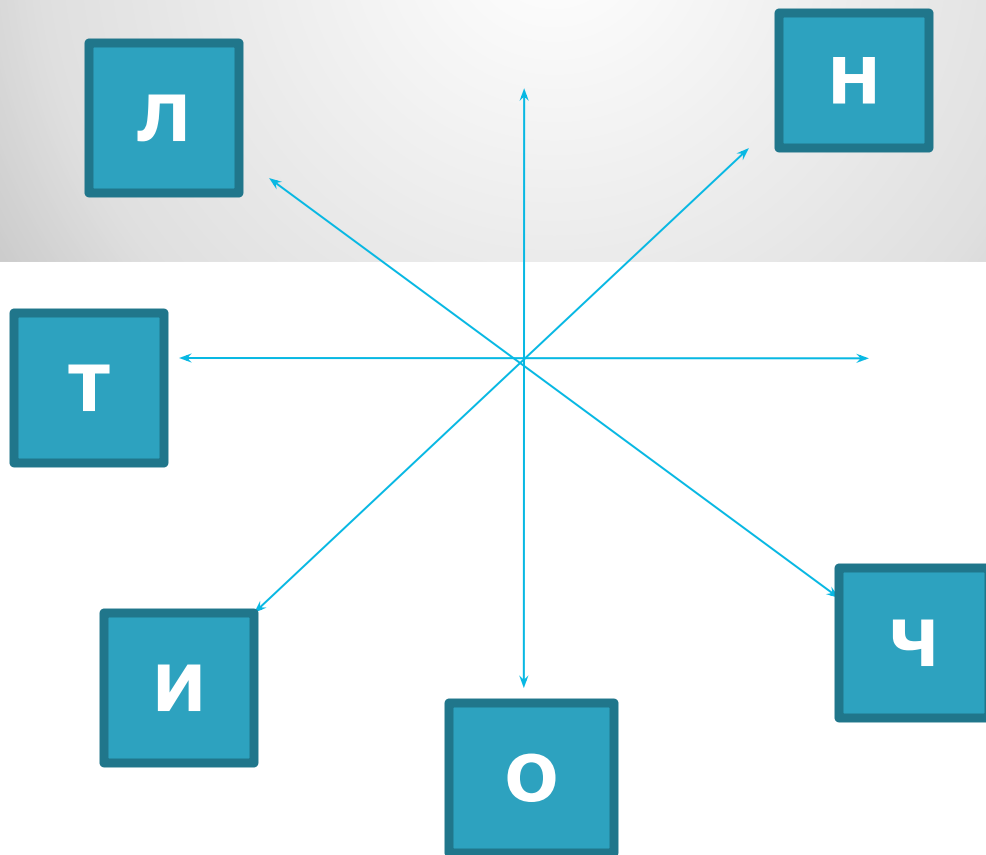
«Загадочное письмо»

90,270,180,135,315,45,225,315,225



«Загадочное письмо»

180,270,315,225,135,45,180



ЛЕГЕНДА



Р. Катунь




Р. Бия




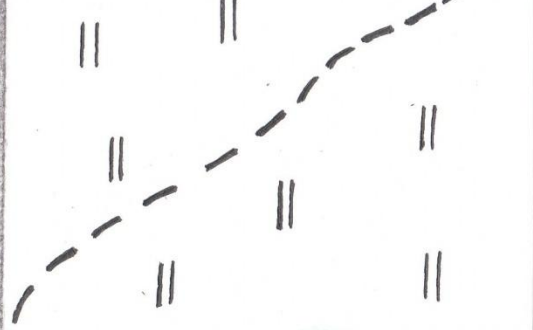

TURISTKA.RU

**Слияние
Бии с
Катуњю**



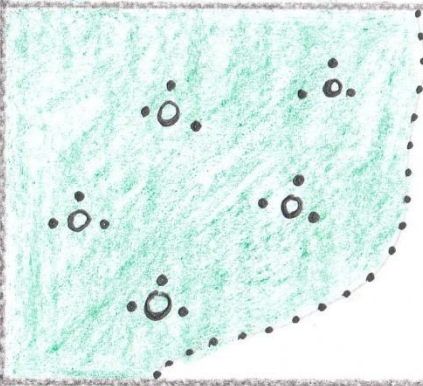








РОД.




ОЗ.



К



ПЕС.



Р. ОБЬ

Команда «Экватор»

1) В 1 см – 10 км

(1:1000000)

2) 1:500

(в 1 см – 5 м)

3) Расстояние от мельницы до родника

370 м

4) А) 1:200000

Б) 1:43000

В) 1:700000

(В, А, Б)

Команда «Компас»

1) В 1 см – 2000 м
(1:200000)

2) 1:1000
(в 1 см – 10 м)

3) От мельницы до домика лесника
630 м

4) А) 1:200
Б) 1:700
В) 1:55
(В, А, Б)

Команда «Масштаб»

1) В 1 см – 100 м
(1:10000)

2) 1:20000
(в 1 см – 200 м)

3) От поселка Ладогино расстояние до родника
200 м

4)

А) 1: 7500000

Б) 1: 250000

В) 1: 660000

(А, В, Б)

Задания по координатам

- ✓ В 1896 году английский ученый Д. Левингстон совершил замечательное открытие в точке 18 гр. ю.ш., 26 гр. в.д. Что это?

Водопад Виктория

- ✓ Найдите координаты истока реки Оби.

53 с.ш., 85 в.д



Задания по координатам

- 1) Шхуна «Пилигрим» находилась под 44 ю.ш., 165 з.д.

В каком океане и вблизи каких островов находились герои романа «Пятнадцатилетний капитан»?

Тихий океан, вблизи архипелага Новая Зеландия.

- 2) Определить координаты высшей точки Уральских гор

65 с.ш., 61 в.д.



Задания по координатам

- 1) Африканцы называют эту гору – «Горой божества холода», определите ее по координатам 3 ю.ш., 38 в.д.

Килиманджаро

- 2) Определите координаты высшей точки Кавказа

44 с.ш., 43 в.д.



Домашнее задание

- ❖ **Сочинение на тему: «Как поспорили план и карта, кто из них важнее и нужнее»**
- ❖ **Загадки, пословицы, поговорки, стихотворения**

ХОРОШЕГО НАСТРОЕНИЯ
НА ВСЬ ДЕНЬ!

