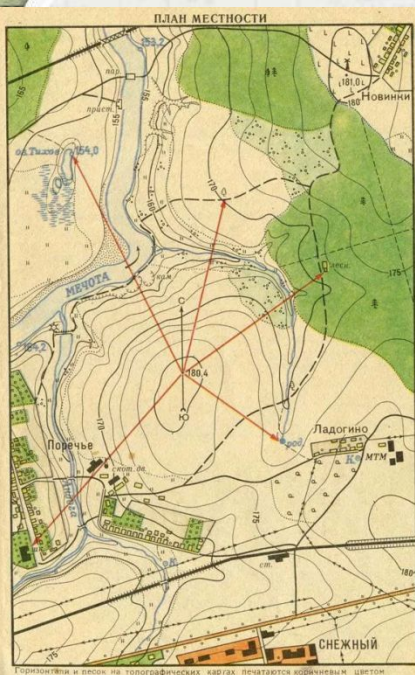
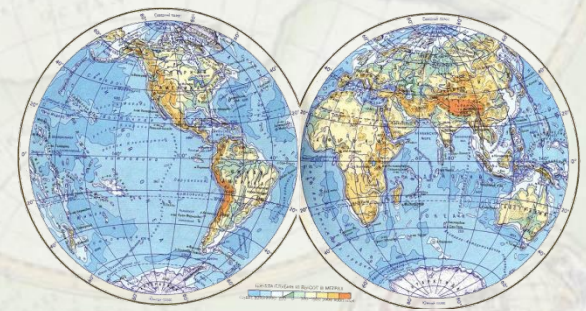


ПЛАН И КАРТА

Дорога есть- ехать нельзя,
Земля есть – пахать нельзя
Лука есть – косить нельзя
В реках, морях воды нет.

Ее берет с собой геолог,
Турист, водитель, археолог.



Восстановите рассказ:

1. Модель Земли называют _____
2. Условное изображение поверхности Земли на плоскости называют _____
3. Существует много видов географических карт. Это _____
4. На физической карте синим цветом обозначены _____, коричневым, желтым, зелены - _____, белым — _____.
5. Каждая карта имеет свой _____.
6. Если работаешь у настенной карты, стой _____, когда держишь указку в правой руке, и _____, когда указка в левой.

Запутанный лабиринт.

В чем преимущества
плана перед
географической
картой?

Более
подробное
изображение
местности

Выбери
правильный
ответ

Дает более четкое и
правильное
представления о
географических
объектах и их
расположении
больших площадей
Земли.

Опс! Перезагрузка.

Вы наверное устали?
Встали,
Глазками поморгали,
Потянулись,
Улыбнулись,
И к заданиям вернулись.





Ура! Верно.+ 1 балл.

В чем главный недостаток плана?

нельзя рассмотреть более наглядно Землю, как планету, проследить смену климата, времен года.

Площадь изображения небольшая.



Ура! Верно.+ 1 балл.

Где на земном шаре
можно построить дом, все
окна которого смотрят на
юг?

На экваторе

На северном
полюсе



Ура! Верно.+ 1 балл.

К берегам, какого моря мы
выйдем, если от нашего села все
время будем двигаться на
восток?

Охотского

Черного



Ура! Верно.+ 1 балл.

Показывает направление север-
юг

Меридиан

Параллель



Ура! Верно.+ 1 балл.

При движении к полюсам их
протяженность уменьшается

Меридиан

Параллель



Ура! Верно.+ 1 балл.

Главный, из них делит Землю на западное и восточное полушария

Меридиан

Параллель



Ура! Верно.+ 1 балл.

В поход учащиеся шли по азимуту 90° . В каком направлении они будут возвращаться обратно?

На запад. По азимуту 270°

На восток. По азимуту 180°



Ура! Верно.+ 1 балл.

Определите, на запад или восток двигались туристы, если известно, что с правой стороны дороги на обочине снег уже начал таять, а с левой он пока лежал.

На запад

На восток



Ура! Верно.+ 1 балл.

Чему равна площадь квадрата,
построенного в масштабе
1:300000?

9 кв. км

3 кв. км



Ура! Верно.+ 1 балл.

С помощью масштаба и полоски бумаги или нитки определите расстояние в километрах: от Северного до Южного полюса

12714 км

20004 км



Ура! Верно.+ 1 балл.

Расстояние от Москвы до
Хабаровска

6140 км

8 036 км



Ура! Верно.+ 1 балл.

По глобусу определите, какие города имеют географические координаты:
39° с.ш. 116° в.д.

Сидней

Пекин



Ура! Верно.+ 1 балл.

По глобусу определите, какие города имеют географические координаты:
 19° с.ш. 99° з.д.

Мехико

Каир



Ура! Верно.+ 1 балл.

По карте определите, какие
города имеют географические
координаты:
 30° с.ш. 31° в.д. —

Париж

Каир

Ура! Верно.+ 1 балл.

Последний этап лабиринта. Пройти задания тренажера. 9 баллов

<http://fcior.edu.ru/card/11958/kontrol-plan-i-karta-uproshchennyy-variant.html>

Не справился,
повтори!

Справился!
Подсчитай баллы.



Подведем итоги!

- 20- 24 баллов – «5»
- 14-19 баллов – «4»
- 8-13 баллов – «3»
- До 8 баллов – «Повторить»

The background features a collage of vintage-style maps and a green compass with a white face and black markings, positioned in the upper left corner. The maps are faded and show various geographical details like coastlines and latitude/longitude lines.

Рефлексия.

У меня все
получилось!


Надо еще
немного
повторить!

Ну кто придумал эту
географию!



Ссылки использованный ресурсов.

- <http://fcior.edu.ru/card/11958/kontrol-plan-i-karta-uproshchenny-variant.html>
- https://static5.depositphotos.com/1007989/413/i/950/depositphotos_4133121-stock-photo-jumping-jacks.jpg
- <http://3.bp.blogspot.com/-T2mlNg5Tbb4/US86xDBUWDI/AAAAAAAAAKc/dpT3VYFtH24/w1200-h630-p-k-no-nu/map00.jpg>
- https://pandia.ru/text/78/470/images/image006_24.jpg
- <https://lecta.rosuchebnik.ru/product/3105>



- Автор: Лапина Оксана Викторовна, учитель географии, МБОУ СОШ с. Елабуга.