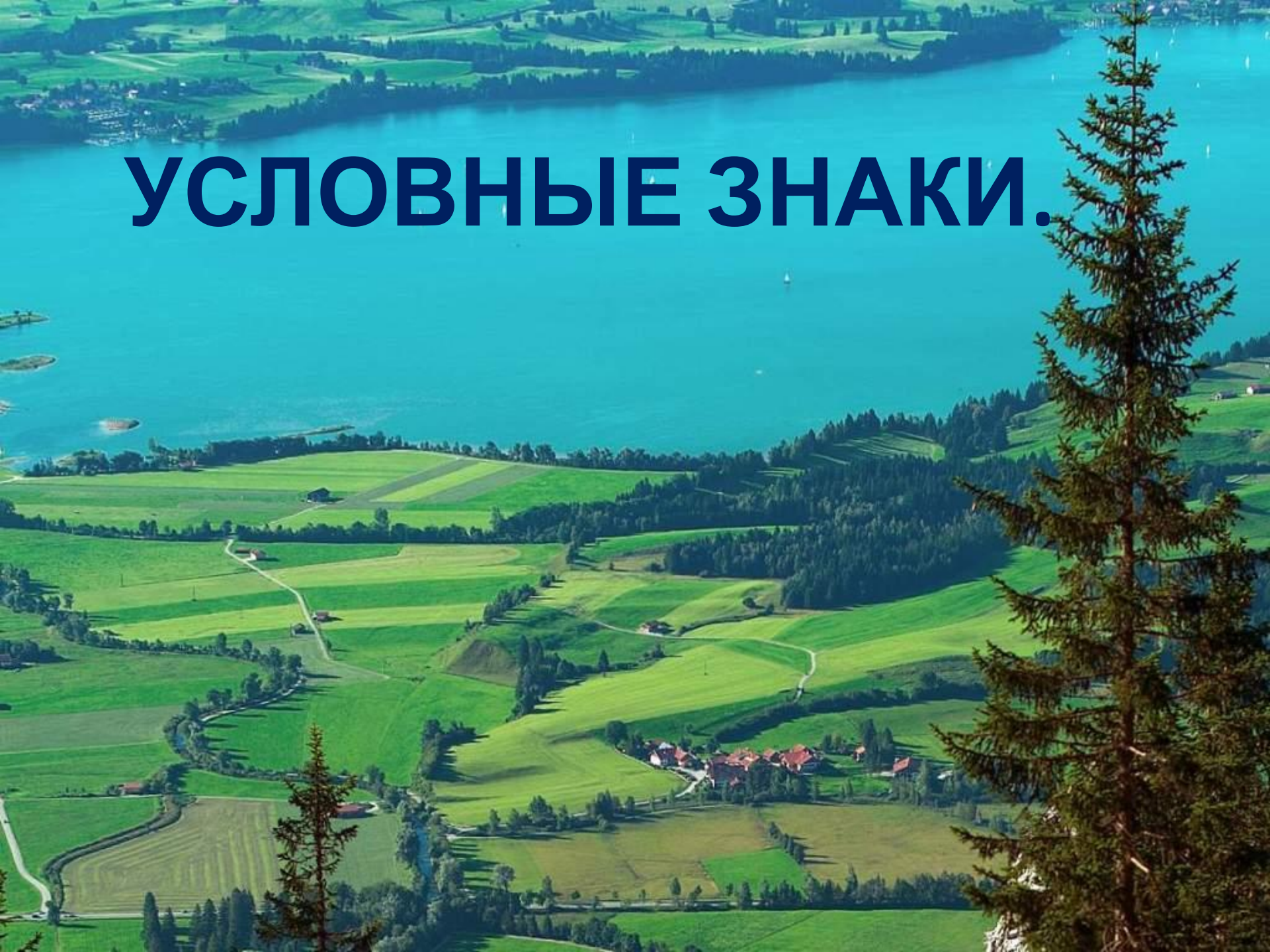


Чертёж окрестностей Боровска, выполненный в 17 веке



УСЛОВНЫЕ ЗНАКИ.



Требования к условным

3 Цвет 4:

Простота

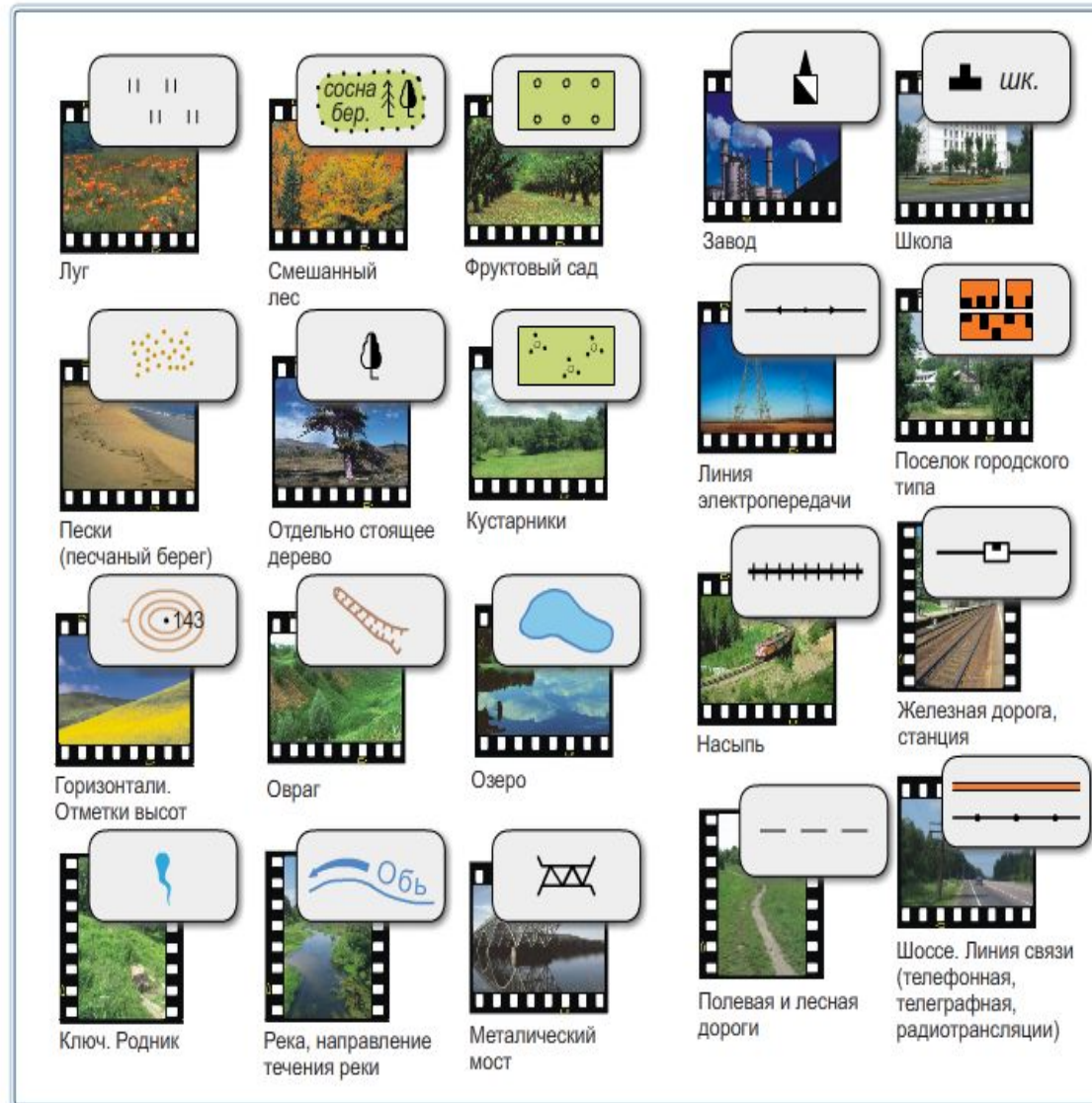
Непохожесть друг на друга

Одинаковая форма и величина

Изображенные знаки напоминают сами
предметы

Условные знаки

Условные знаки плана местности



Условные знаки — это графические символы, обозначающие различные географические объекты.

Используя текст учебника заполните схему.
Отразите краткую характеристику каждого
вида и приведите пример:



Используя текст учебника заполните схему.
Отразите краткую характеристику каждого
вида и приведите пример:

Виды условных знаков

```
graph TD; A[Виды условных знаков] --> B[Линейные]; A --> C[Точечные]; A --> D[Площадные]; B --- B1(Увеличивают ширину объекта, но точно отображают длину (дороги, трубопроводы...)); C --- C1(Служат для изображения маленьких объектов (колодец, башня, населенный пункт)); D --- D1(Изображают объекты площадь которых можно выразить в масштабе (озеро, лес, сад))
```

Линейные

Увеличивают ширину объекта, но точно отображают длину (дороги, трубопроводы...)

Точечные

Служат для изображения маленьких объектов (колодец, башня, населенный пункт)

Площадные

Изображают объекты площадь которых можно выразить в масштабе (озеро, лес, сад)

Используя текст учебника заполните схему.
Отразите краткую характеристику каждого
вида и приведите пример:

Виды условных знаков

```
graph TD; A[Виды условных знаков] --> B[Линейные]; A --> C[Точечные]; B --> D[Площадные];
```

Линейные








Увеличивают
ширину объекта, но
точно отображают
длину (дороги,
трубопроводы...)

Точечные

Площадные



Условные знаки

	Здания (жилые и нежилые)
	Грунтовая (проселочная) дорога
	Полевая дорога, тропа
	Река с отметкой уреза воды
	Озеро, пруд
	Кустарник
	Луг

	Горизонтали
	Отметки высот
	Овраг
	Обрыв
	Лес лиственный
	Болото
	Пашня (а), огород (б)

Составь план местности, используя
условные знаки:

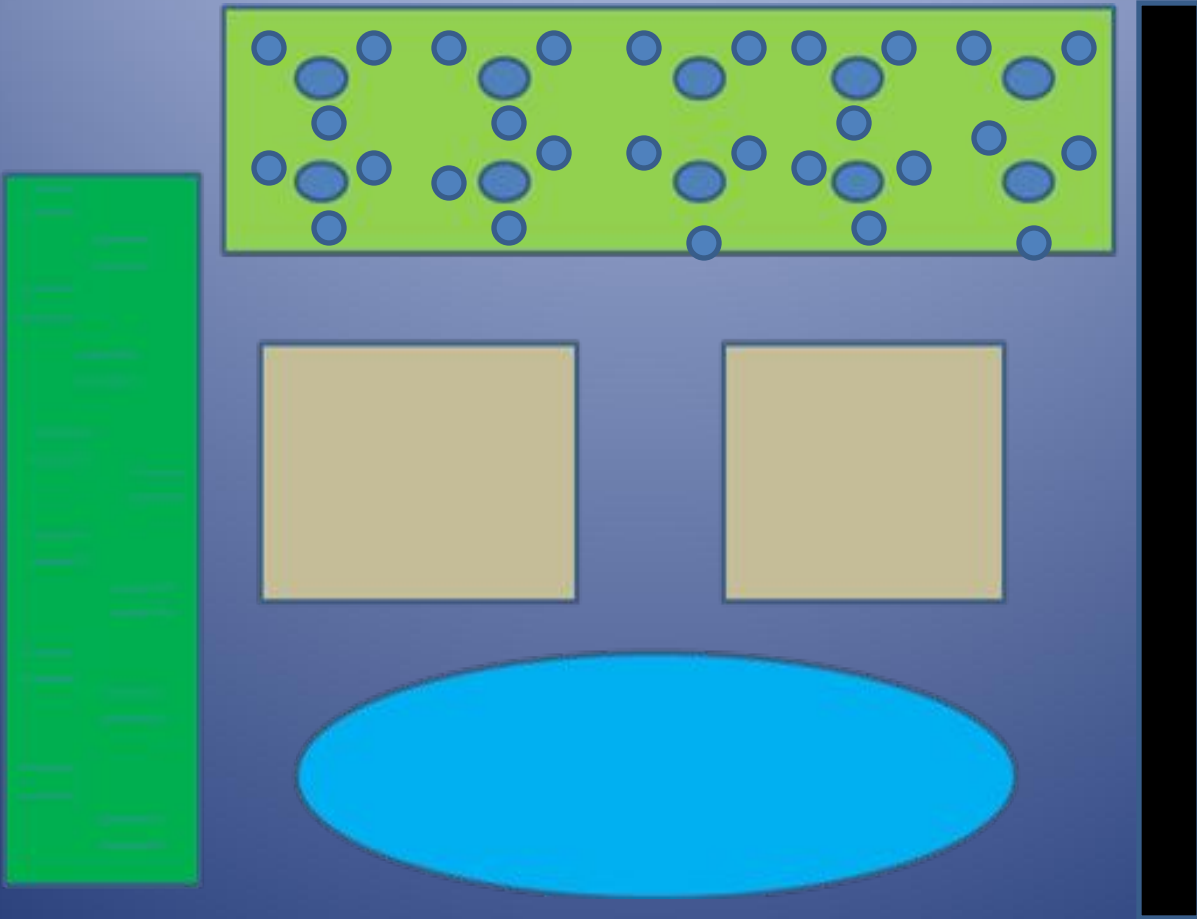
Кустарники

луг

Дом Дом

озеро

Грунтовая дорога



Составь план местности, используя условные знаки:

Иди по грунтовой дороге, через смешанный лес. По дороге дойдёшь до реки с мостом. Перейди реку по мосту, пройди по лугу, обогни фруктовый сад и тут на берегу озера, у дома, тебя встретят.

Домашнее задание:

П.12, задача в тетради письменно.

Составить свою задачу (по примеру слайд 11), дополнить задание азимутом и расстоянием до объектов и масштабом (прошли 100 метров по азимуту 120° через смешанный лес ...) В задании должно быть 6-7 объектов на пути следования.