

Тема: Условные знаки.

**Чтение
топографического
плана местности**



История плана местности

- Одно из древнейших изображений, напоминающее план местности относится к III тыс. до н. э. — на серебряной вазе из Майкопского кургана показаны две реки, стекающие с залесенных гор и впадающие в озеро, а так же пасущиеся вокруг животные. На территории Греции найдены изображения долины реки с богатой растительностью, дикими животными и плывущей флотилией — им 3500 лет.

Как изображаются различные объекты местности изображают на планах и картах?

- Одни объекты имеют значительные размеры (озеро, лес...), другие объекты малы (колодец, мост...). Объекты, размеры которых значительны, отображают в масштабе данной карты с сохранением подобия контуров, для малых объектов такое отображение невозможно.

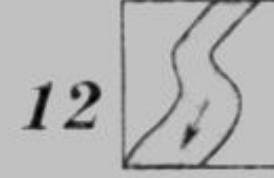

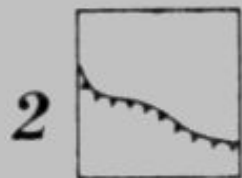



Заполните таблицу

Вид условных топографических знаков	Что они обозначают
Площадные	
Линейные	
Внемасштабные	
Пояснительные	

Проверь себя

Вид условных топографических знаков	Что они обозначают
Площадные	а) населенные пункты: города, поселки, отдельные строения; б) растительный покров и грунты: лес (хвойный, лиственный, смешанный), редкий лес, вырубленный лес, кустарник, луг, фруктовый сад, огород, пашня, болото, пески
Линейные	а) <u>дорожная сеть</u> : железная дорога, шоссе, грунтовая дорога, тропинки, просеки; б) <u>гидрография</u> : реки, береговая линия озер, мосты, плотины; в) прочие: линии связи, линии электропередачи
Внемасштабные	отдельные строения: церкви, заводы, электростанции, карьеры, башни, памятники, кладбища, мельницы, пункты государственной триангуляционной сети.
Пояснительные	направления течения реки, характеристики дна реки, характеристики мостов, отметки высот, типы растительности в лесу, глубина болота и др.

Подпишите названия условных знаков



1. _____
2. _____
3. _____
4. _____
5. _____
6. _____
7. _____
8. _____
9. _____
10. _____
11. _____
12. _____

Замените в тексте слова топографическими знаками:

- Они шли по-прежнему молча, прячась в тени деревьев. Наконец, вышли к просеке. Если бы не Жердьяй, Миша никогда не догадался бы, что это просека, настолько густо заросла она молодым кустарником. Они прошли еще версту. Лес перешел в редколесье. Чувствовались гнилые запахи болота. Перед ними была глубокая яма, на некотором отдалении виднелась другая, потом третья... (по А. Рыбакову. «Бронзовая птица».)



Придумай свои условные топографические знаки

1. Внимательно осмотри свой двор. Как много в нем различных предметов — это деревья, кустарники, детская песочница, сушилка для белья и многое другое.
2. Посмотри, какие предметы двора можно изобразить знакомыми тебе условными топографическими знаками. Подсказкой для тебя будут приведенные в географическом атласе 6-го класса условные знаки.
3. Посмотри, для каких предметов двора условных топографических знаков не существует. Придумай их сам.
4. Нарисуй в тетради и подпиши условные знаки предметов твоего двора.
5. Привлеки к этой работе друзей и родителей, так будет интереснее и веселее.
6. Придумай игры с условными географическими знаками. Например, опиши маршрут твоего движения по двору, используя топографические знаки.