



Уметь приводить примеры формирования культурно-бытовых особенностей народов под влиянием среды их обитания; уметь находить в разных источниках информацию, необходимую для изучения экологических проблем / умение выбирать и использовать источники географической информации (картографические), необходимые для решения учебных, практико-ориентированных задач, а также практических задач в повседневной жизни.

Уровень – базовый. Максимальный балл – 1. Время выполнения – 3 минуты.

Задание 4. Природные ресурсы, их использование и охрана

ЗАДАНИЕ 4, ОГЭ, ГЕОГРАФИЯ

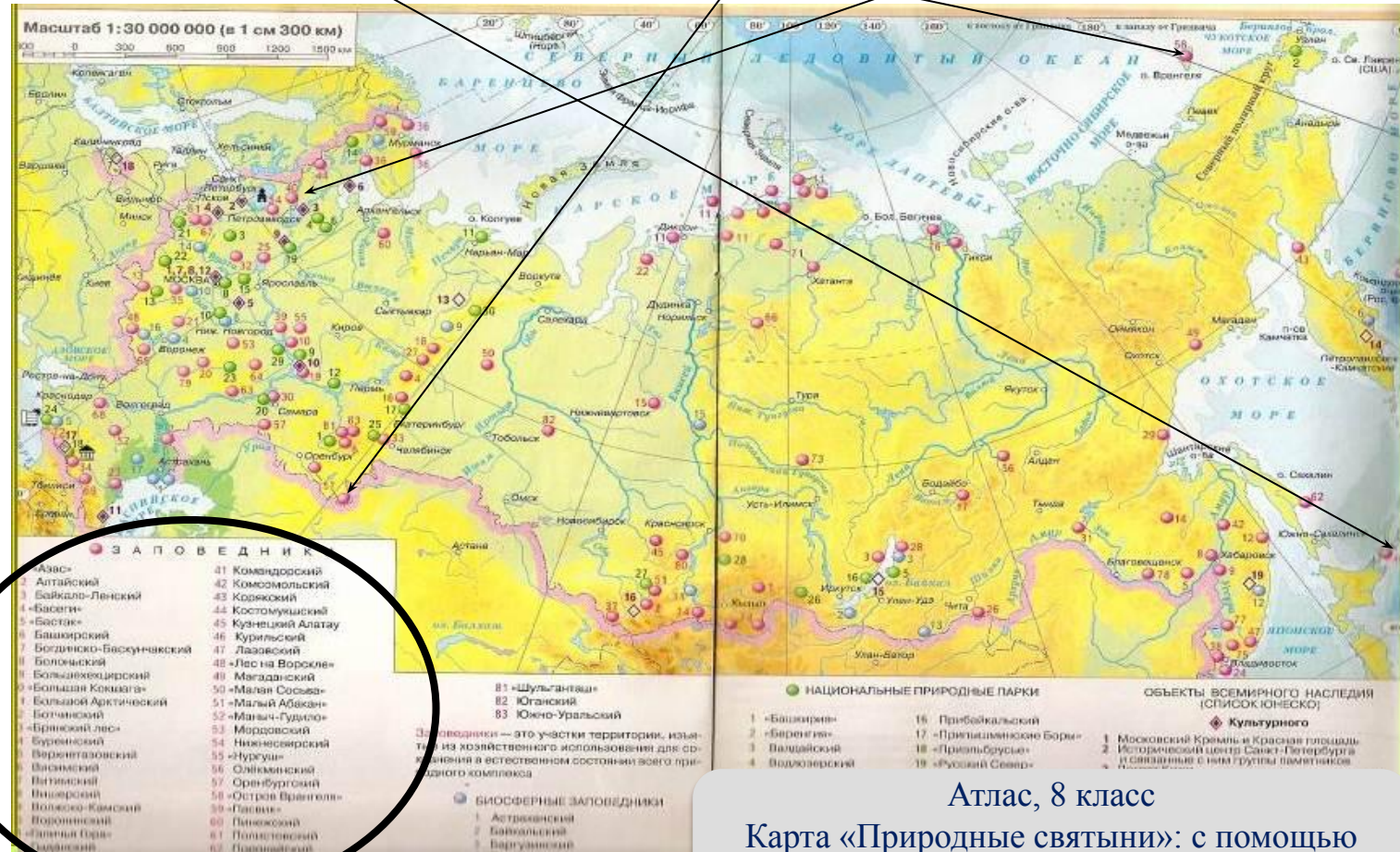
**Сай Любовь Михайловна,
учитель географии МБОУ
СОШ № 6 ст.
Новолеушковской
Павловского района
Краснодарского края**

Задание 4. Особо охраняемые природные территории

Группа туристов из Финляндии хочет своими глазами увидеть необычную для них природу русских степей. Какой из перечисленных заповедников для этого им необходимо посетить?

1) Курильский, 2) «Остров Врангеля», 3) Оренбургский, 4) Костомукшский

По карте растительности (8 класс) определяем, в каких природных зонах находятся заповедники.



Оренбургский заповедник находится на юге Урала. Здесь природная зона степей.

Ответ: 3

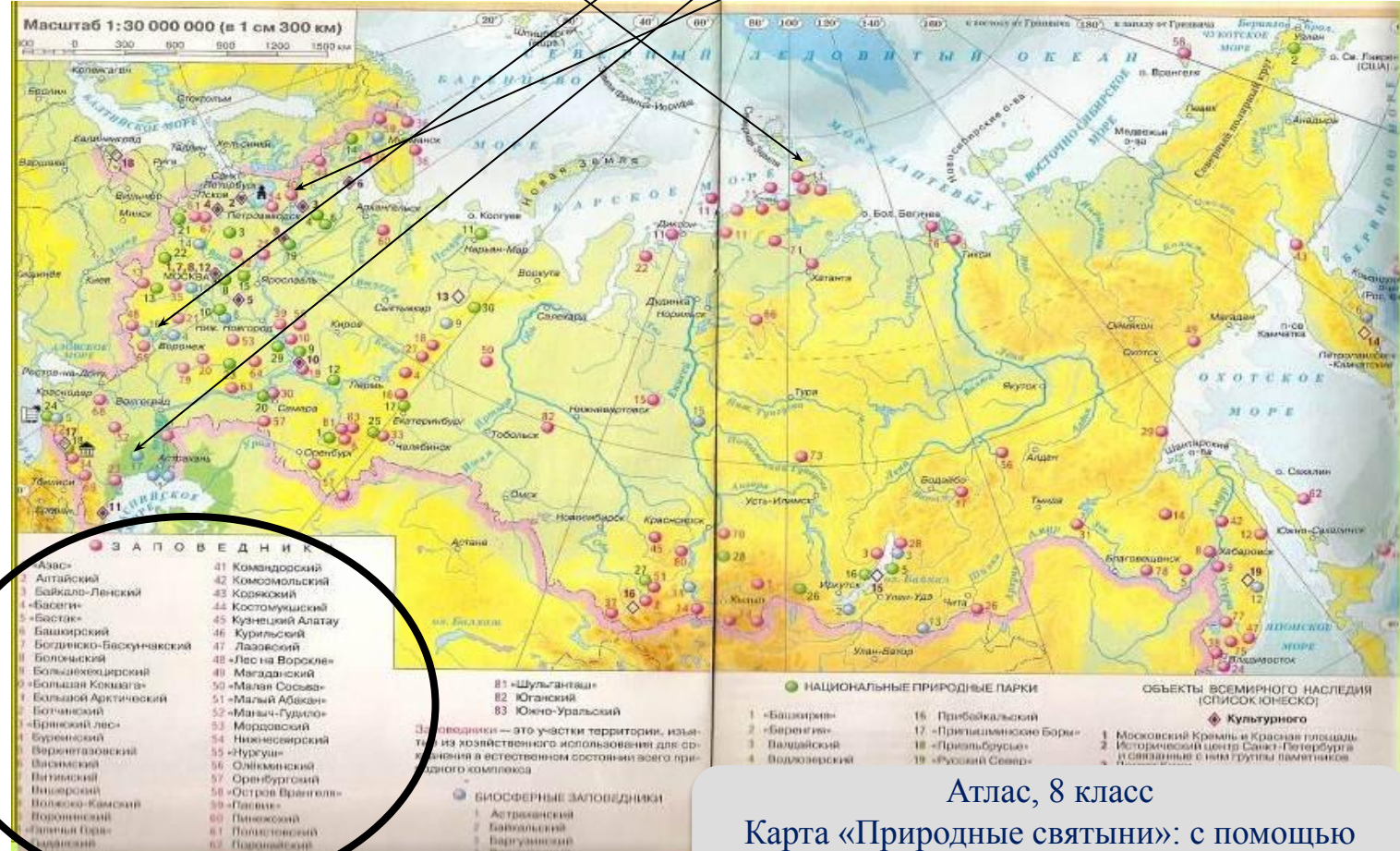
Атлас, 8 класс
Карта «Природные святыни»: с помощью легенды карты находим указанные в задании заповедники.



Задание 4. Особо охраняемые природные территории

По карте «Животный мир» (8 класс), по легенде карты определяем, в каких природных зонах находятся заповедники и какие животные там обитают.

Группа зарубежных туристов своими глазами хочет увидеть места обитания песцов, оленей, леммингов и понаблюдать за животными. Какой из заповедников России им необходимо для этого посетить? 1) «Черные земли», 2) «Большой Арктический», 3) Воронежский, 4) Кивач



Большой Арктический заповедник находится на севере, на полуострове Таймыр, где можно наблюдать животных тундры: песцов, леммингов, оленей. Ответ: 2

Атлас, 8 класс
Карта «Природные святыни»: с помощью легенды карты находим указанные в задании заповедники.

Справочный материал



- Заповедник на **острове Врангеля**. В границах заповедника расположены родильные берлоги **белого медведя**. Для акклиматизации на остров были завезены северный олень и **овцебык**.

- **Командорский** - уникальные лежбища **морских млекопитающих (котиков)** можно наблюдать в заповедниках Дальнего Востока.

Ильменский – минералы – Урал.

Кроноцкий - термальные источники и гейзеры (Камчатка).

Курильский – вулканы.

Таймырский, Большой Арктический, Ненецкий, Гыданский, Кандалакшский — тундра.

Лапландский - горно-тундровые экосистемы дикого северного оленя

Кандалакшский, Костомукшский, Тунгусский, Верхне-Тазовский, Центрально-Сибирский, Магаданский - тайга.

Баргузинский - основан на Байкале, соболь.

Усть - Ленский – дельта р. Лена, арктический климат.

Приокско-Террасный — смешанный и широколиственный лес, расположен в южной части Московской области на левом берегу Оки. Основная часть территории — леса, главным образом сосновые и смешанные с березой, елью, дубом и липой. + **Окский**

Ростовский, Воронежский, Оренбургский, Хоперский – степь, лесостепь.

Астраханский - в дельте р. Волга, лотос, степи, полупустыни.

Алтайский – Телецкое озеро, горы.

Уссурийский, Сихотэ-Алинский – амурский тигр.

- **Тебердинский, Кабардино-Балкарский** — в горах Кавказа.

- **Зейский** - елово-лиственничных лесов с элементами маньчжурской флоры.

- **Катунский** – г. Алтай.

- **Богдинско - Баскунчакский** – полупустыня, соленое озеро.

Задание 4. Занятия населения

Чум – конический шатер, обтянутый покрывалами, сшитыми из оленьих шкур. Чум приспособлен к кочевому образу жизни в суровых климатических условиях. У какого из перечисленных народов чум является традиционным жилищем?

1) марийцы, 2) башкиры, 3) эвены, 4) калмыки



Карта «Народы России»

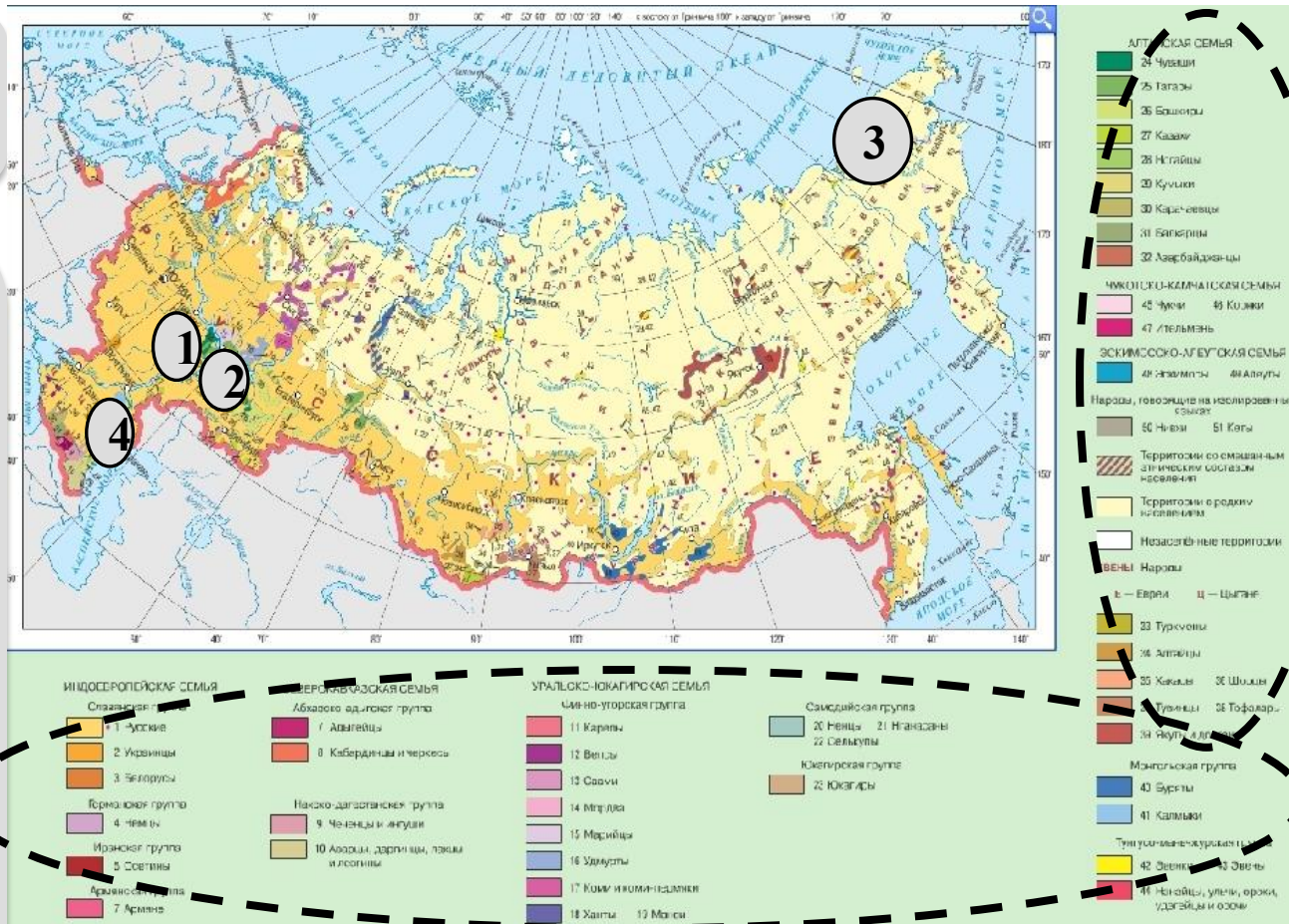
С помощью легенды карты определяем, где живут указанные в задании народы.

Эвены живут на севере страны

(суровые климатические условия).

Чум – традиционное жилище народов Севера и Сибири.

Ответ: 3.



Задание 4. Занятия населения

К традиционным занятиям какого из перечисленных народов России относится пастбищное животноводство (овцеводство, коневодство и верблюдоводство)?



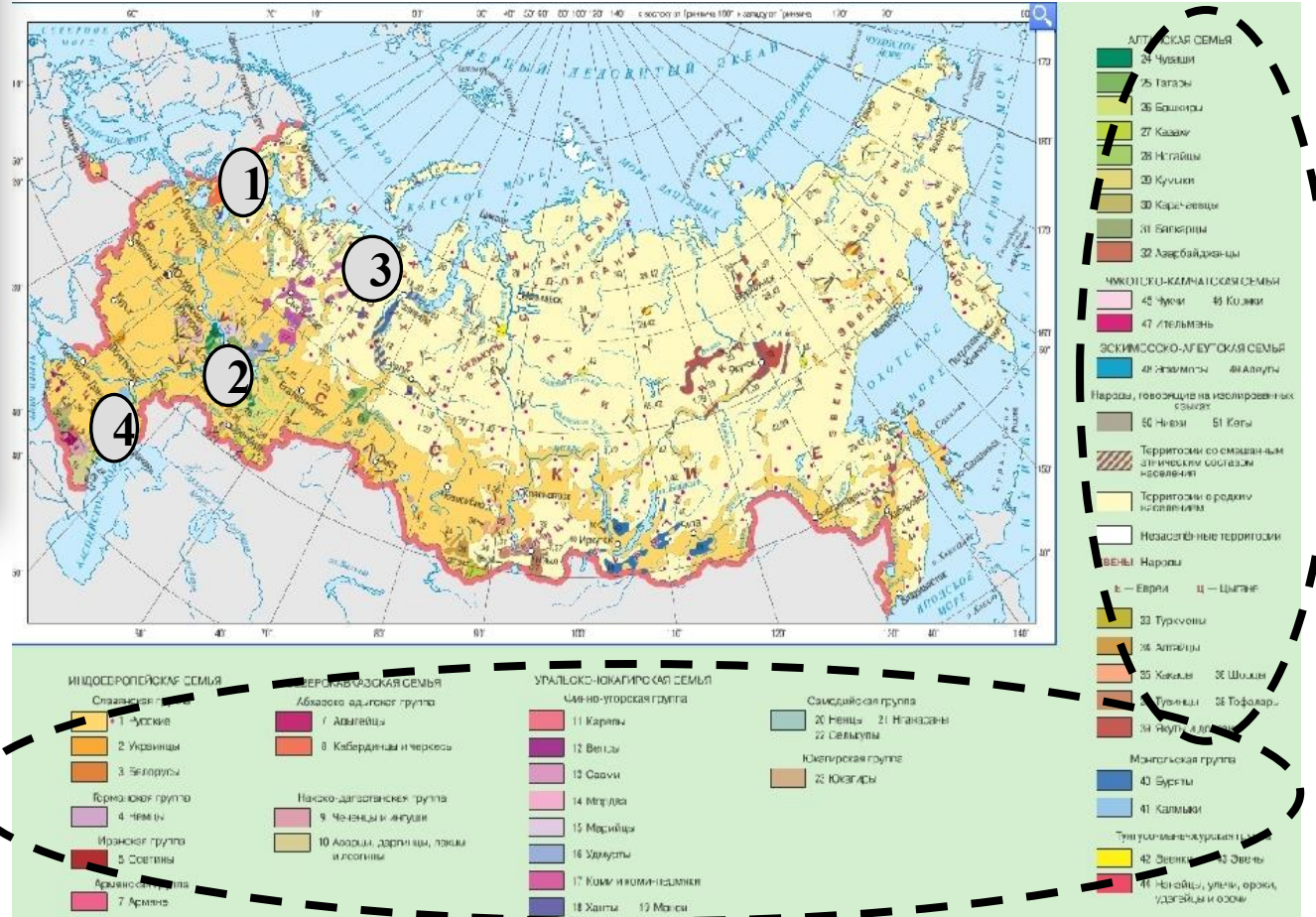
1) карелы, 2) марийцы, 3) коми, 4) калмыки



Карта
«Народы России»

С помощью легенды карты определяем, где живут указанные в задании народы. Калмыки живут в зоне полупустынь (*подсказка: верблюдоводство*). Таким образом, овцеводство, коневодство, верблюдоводство традиционно развивалось в засушливых условиях полупустынных пастбищ. Жители этих районов – калмыки.

Ответ: 4.



Справочный материал

- Многочисленные народы России: **русские, татары.**
- Народы на **Европейском Севере**: ненцы, коми, карелы.
- Оленеводство и рыболовство, резьба по кости - традиционные занятия жителей Севера - **эвены, эвенки, чукчи, ненцы, энцы, коряки, эскимосы, алеуты (чум).**
- Пашенное земледелие, вышивка, резьба по дереву, изготовление металлических украшений – **мордва, чувашы, марийцы.**
- Пастбищное овцеводство, коневодство и верблюдоводство - **калмыки (юрта).**
- Разведение овец и коз - традиционное занятие жителей горных и полупустынных пастбищ – **карачаевцы, народы Дагестана.**



Задание 4. Природные ресурсы

Природные ресурсы по степени исчерпаемости делят на исчерпаемые и неисчерпаемые. Исчерпаемые ресурсы могут быть возобновимыми (ресурсы растительного и животного мира, водные) и невозобновимыми (полезные ископаемые). К неисчерпаемым или альтернативным ресурсам относятся энергия ветра, солнечная радиация, энергия приливов, климатические ресурсы. **Ответ: 3.**



Какие природные ресурсы относятся к неисчерпаемым?
1) почвенные, 2) минеральные, 3) климатические, 4) биологические



Классификация природных ресурсов



Задание 4. Утверждение о климате

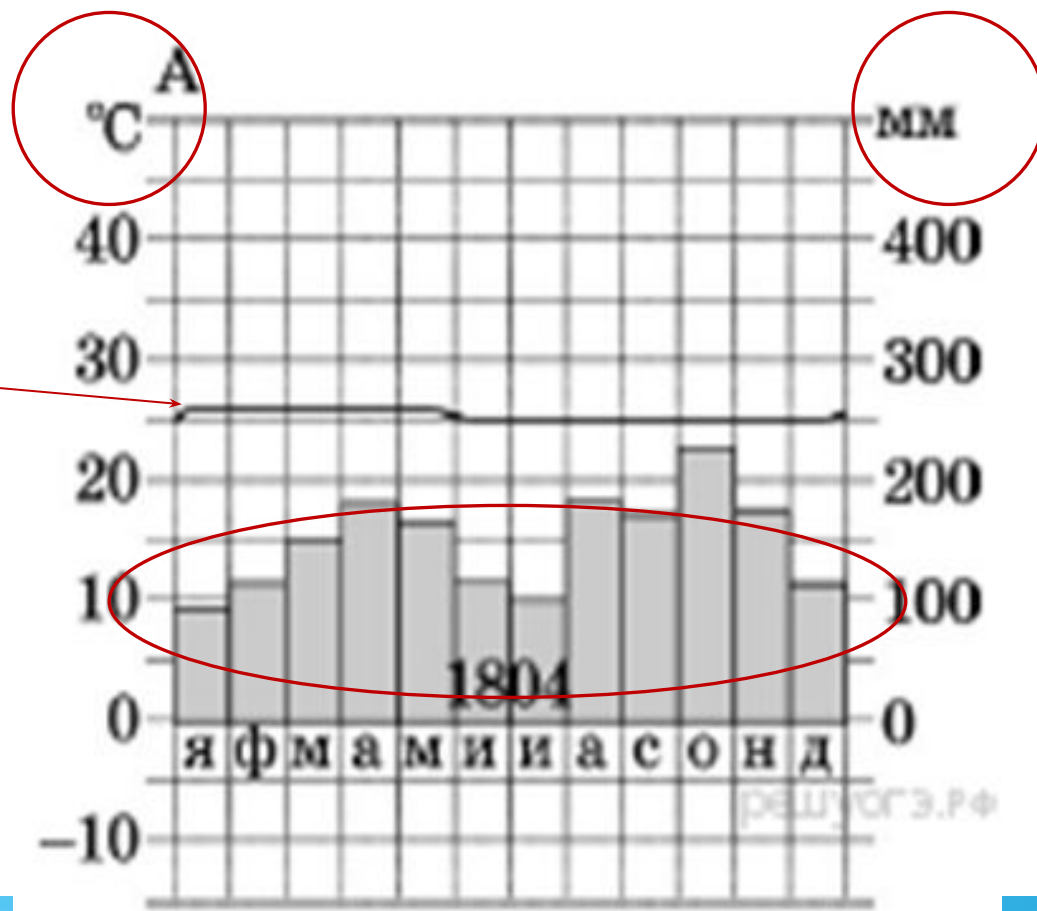
Используя данные климатограммы, определите верное утверждение о климате пункта А.

- 1) Самый теплый месяц в году — октябрь.
- 2) В январе атмосферных осадков выпадает больше, чем в октябре.
- 3) Среднемесячные температуры воздуха имеют только положительные значения.
- 4) Среднегодовое количество атмосферных осадков составляет менее 800 мм.



Для выбора правильного ответа надо вспомнить, как составляют климатограммы. Вертикальных осей со значениями здесь две. На левой - дана температура воздуха в градусах, на правой — месячное количество осадков в мм. Линия графика показывает годовой ход температуры воздуха, столбики — месячное количество осадков. Анализ диаграммы показывает, что верно определение: Среднемесячные температуры воздуха имеют только положительные значения. На графике средние температуры колеблются около 25°C.

Ответ: 3.



ИНФОРМАЦИОННЫЕ ИСТОЧНИКИ



Автор шаблона: Полшкова Виктория
Валерьяновна.

**Барабанов В.В. География. 32 варианта.
Типовые варианты экзаменационных
заданий от разработчиков ОГЭ/ В.В.
Барабанов, А.А.Жеребцов. – М.:
Издательство экзамен, 2021.**

<https://geo-oge.sdamgia.ru/test?theme=6>

<https://nsportal.ru/shkola/geografiya/library/2019/12/01/podgotovka-k-oge-po-geografii>

<http://900igr.net/up/datas/148363/034.jpg>

http://cache.i-stores.ru/original_nf/628068.jpg

[https://ds05https://gosim-no.ru/public/uploads/mediastore/request_materials/%D0%9A%D0%B0%D1%80%D1%82%D0%BE%D0%B3%D1%80%D0%B0%D1%84%D0%B8%D1%8F/%D1%80%D1%84_%D1%84%D0%B5%D0%B4%D0%B5%D1%80%D0%B0%D1%82%D0%B8%D0%B2%D0%BD%D0%BE%D0%B5_%D1%83%D1%81%D1%82%D1%80%D0%BE%D0%B9%D1%81%D1%82%D0%B2%D0%BE-001\(1\).jpg.infourok.ru/uploads/ex/0aa0/0000cdef-f1ffa72e/img12.jpg](https://ds05https://gosim-no.ru/public/uploads/mediastore/request_materials/%D0%9A%D0%B0%D1%80%D1%82%D0%BE%D0%B3%D1%80%D0%B0%D1%84%D0%B8%D1%8F/%D1%80%D1%84_%D1%84%D0%B5%D0%B4%D0%B5%D1%80%D0%B0%D1%82%D0%B8%D0%B2%D0%BD%D0%BE%D0%B5_%D1%83%D1%81%D1%82%D1%80%D0%BE%D0%B9%D1%81%D1%82%D0%B2%D0%BE-001(1).jpg.infourok.ru/uploads/ex/0aa0/0000cdef-f1ffa72e/img12.jpg)

https://img.labirint.ru/rcimg/e86f863c942530110ab9ff40769ea0a3/1920x1080/comments_pic/1820/origin_9_6f9fbed9f8af769f8bb02167a5ed8e4d.jpg?1526756270

<https://na5.club/wp-content/uploads/956826/fullsize.jpg>

<https://media.nazaccent.ru/files/fc/5d/fc5dcb34370b5752980ae469c0597501.jpg>

https://kasugai.ru/images/catalog/products/rezba-po-kosti/okimono-olenya-upryazhka/okimono-olenya-upryazhka_1235_anons.jpg

<https://cdn.fishki.net/upload/post/2020/02/28/3242176/tn/514b15460aec868c2ddf363d35f4eca4.jpg>

<https://gtrk13.ru/wp-content/uploads/2016/04/tavlinskaya-igrushka-1024x768.jpg>

<https://pbs.twimg.com/media/DVP-TItW0AAjY5N.jpg:large>

<http://dagpravda.ru/wp-content/uploads/2018/07/DSC01762.jpg>

<https://bigslide.ru/images/11/10766/960/img7.jpg>