

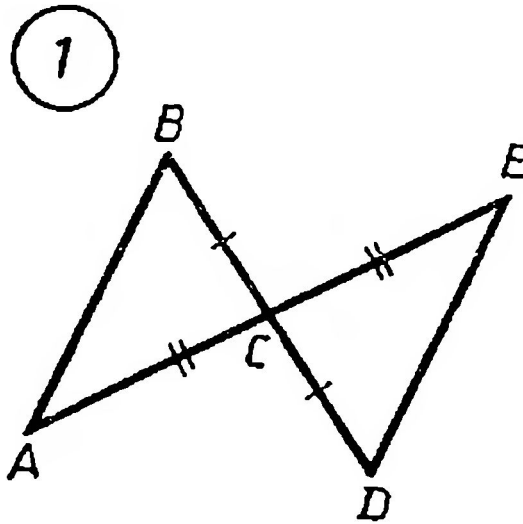
7 класс

Признаки равенства  
треугольников

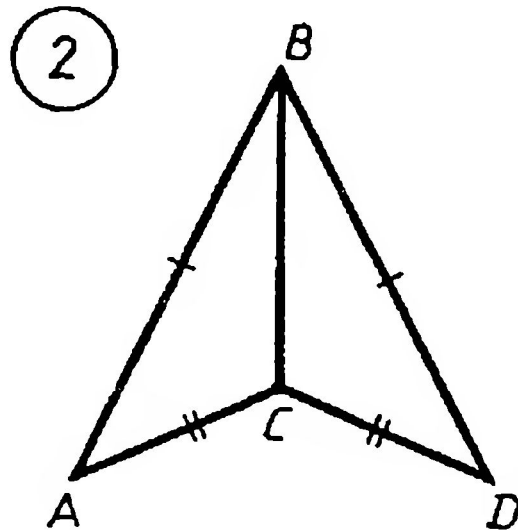
Скороварова Любовь  
Витальевна

учитель математики  
МБОУ ООШ с. Никольское

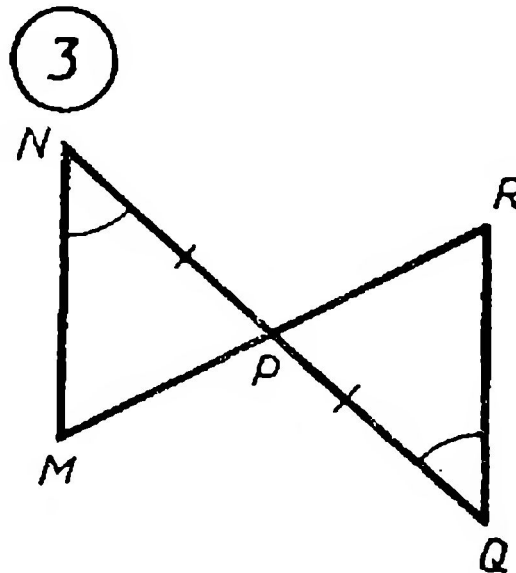
Найдите пары равных  
треугольников и докажите их  
равенство



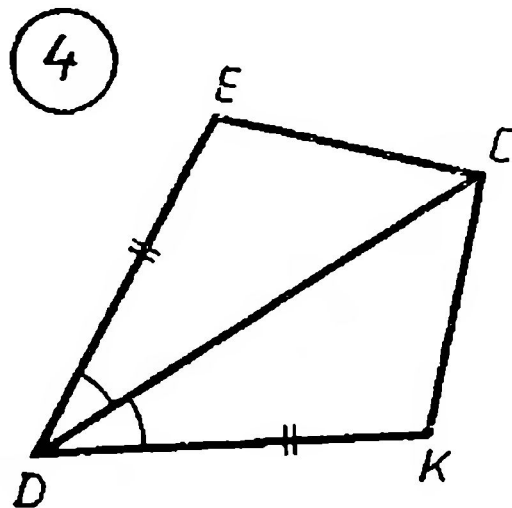
Найдите пары равных  
треугольников и докажите их  
равенство



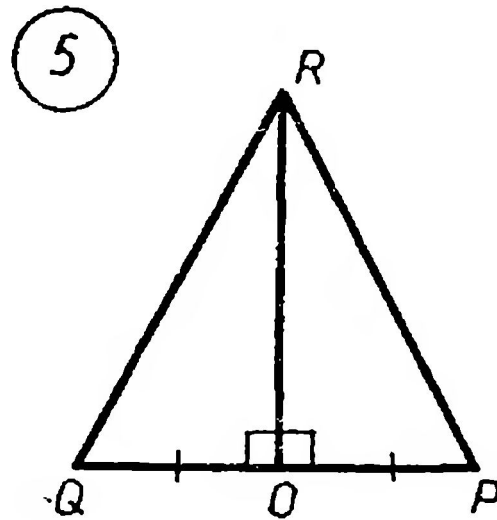
Найдите пары равных  
треугольников и докажите их  
равенство



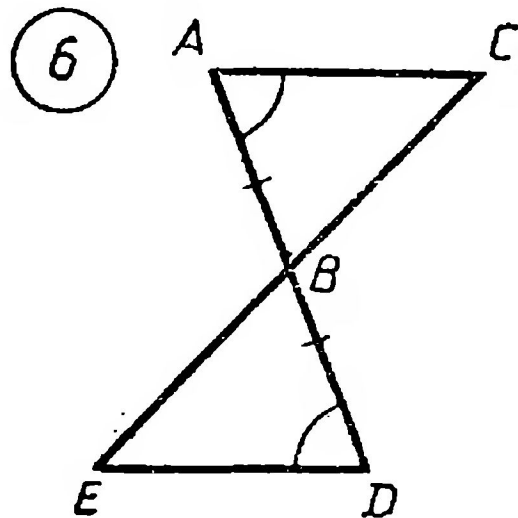
Найдите пары равных  
треугольников и докажите их  
равенство



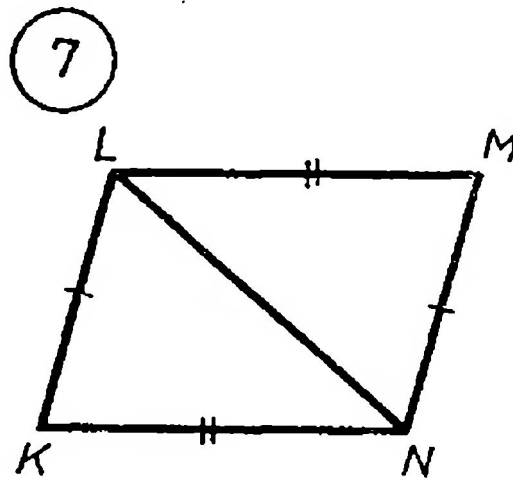
Найдите пары равных  
треугольников и докажите их  
равенство



Найдите пары равных  
треугольников и докажите их  
равенство



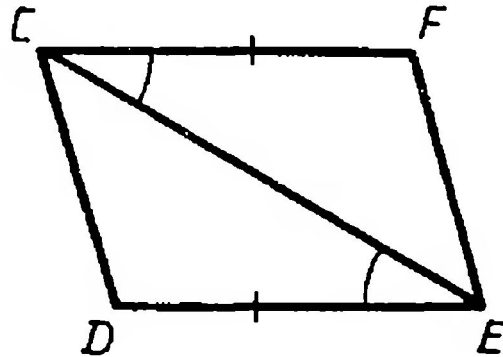
Найдите пары равных  
треугольников и докажите их  
равенство



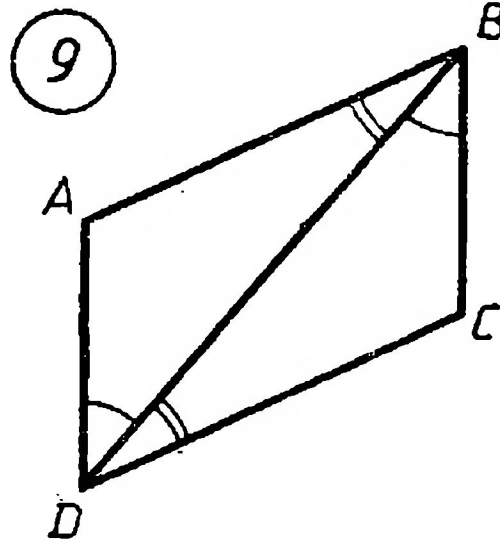


Найдите пары равных  
треугольников и докажите их  
равенство

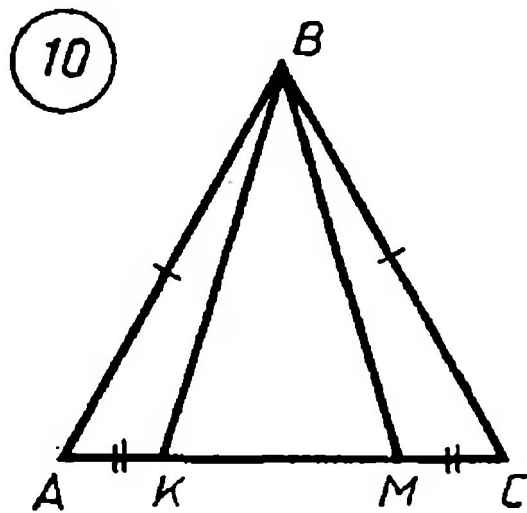
8



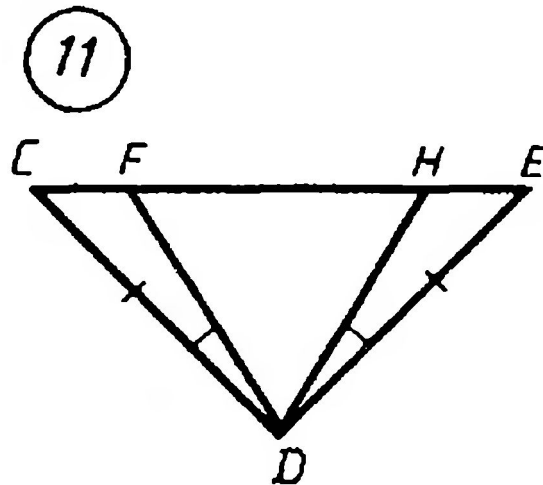
Найдите пары равных  
треугольников и докажите их  
равенство



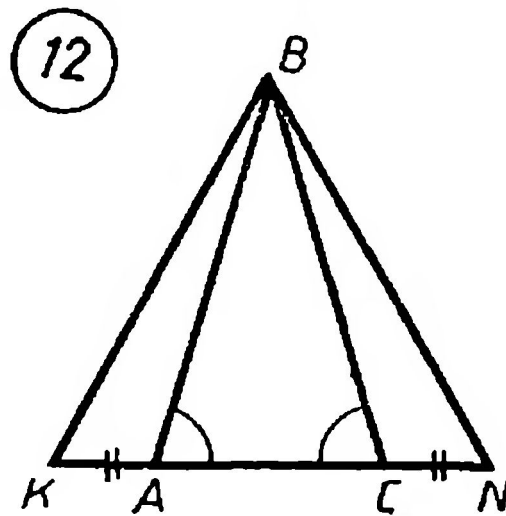
Найдите пары равных  
треугольников и докажите их  
равенство



Найдите пары равных  
треугольников и докажите их  
равенство



Найдите пары равных  
треугольников и докажите их  
равенство



# Используемые ресурсы:

**Саврасова С. М., Ястребинецкий Г. А.**

Упражнения по планиметрии на готовых чертежах: Пособие для учителя.— М.: Просвещение, 1987.— 112 с.: ил.